

Inhalt

	<u>Seiten</u>
1 Ein Überblick über unseren Kontinent	5 - 6
2 Europas Hauptstädte	7 - 8
3 Die Währungen	9
4 Das Klima	10 - 12
5 Die Zeitzonen	13
6 Die Gliederung Europas	14 - 15
7 Nordeuropa und das Baltikum 1. Dänemark; 2. Island; 3. Estland; 4. Lettland; 5. Litauen; 6. Finnland; 7. Norwegen; 8. Schweden	16 - 30
8 Die Britischen Inseln 1. Großbritannien; 2. Irland	31 - 35
9 West- und Südwesteuropa 1. Niederlande; 2. Belgien; 3. Luxemburg; 4. Andorra; 5. Monaco; 6. Frankreich; 7. Spanien; 8. Portugal	36 - 51
10 Südeuropa und der Mittelmeerraum 1. Italien; 2. San Marino; 3. Vatikanstadt; 4. Malta; 5. Griechenland; 6. Zypern; 7. Türkei	52 - 62
11 Mitteleuropa 1. Deutschland; 2. Österreich; 3. Schweiz; 4. Liechtenstein	63 - 71
12 Südosteuropa und Balkan 1. Rumänien; 2. Bulgarien; 3. Albanien; 4. Slowenien; 5. Kroatien; 6. Serbien; 7. Bosnien und Herzegowina; 8. Montenegro; 9. Kosovo; 10. Mazedonien	72 - 86
13 Osteuropa 1. Polen; 2. Tschechien; 3. Slowakei; 4. Moldawien; 5. Ungarn; 6. Ukraine; 7. Weißrussland; 8. Russland	87 - 106
14 Der große Europa-Abschlusstest	107 - 108
15 Die Lösungen	109 - 118

Vorwort

Der schiefe Turm von Pisa steht in Afrika, und die Hauptstadt von Finnland – ja, wie lautet der Name doch gleich?

Diese Lernwerkstatt sollte ein Grundwissen über Europa vermitteln, was je nach Interesse weitere Anregungen zu interessanten Themen unseres Kontinentes bietet. Auch wenn wir in Deutschland leben und uns größtenteils als Deutsche fühlen, wird das Europa-Gefühl doch weiter entwickelt. Ein guter Gedanke, wenn man überlegt, dass im letzten Jahrhundert der Zweite Weltkrieg stattfand und unsere Nachbarn unsere Feinde waren!

Ein wenig Bescheid zu wissen über die geografischen Strukturen, die Sprachen, die Religionen, Handel und Wirtschaft, Währungen und Klima, das ist sicherlich wichtig. Denn beim ganzen Lernen von und über Europa sollten vor allem die Gemeinsamkeiten und das Zusammengehörigkeitsgefühl bei den Schülerinnen und Schülern gestärkt werden.

Und wenn Sie meinen, dieses Heft hätte zu viel Text: Ohne Worte lässt sich Wissen eben nur schwer vermitteln. Lassen sie Ihre Schüler abwechselnd vorlesen oder geben Sie ihnen nur die benötigten Informationen aus den Texten. Auch hier macht es die Abwechslung. Zusätzlich ist hierbei zu erwähnen, dass diese Lernwerkstatt auch nur in Auszügen bearbeitet werden kann. Die Auswahl liegt ganz allein bei Ihnen und dem Leistungsstand Ihrer Schülerinnen und Schüler.

Übrigens: Die Kataloge der Reiseveranstalter (die Hefte müssen nicht neu sein) bieten viele zusätzliche Informationen und lassen sich im Unterricht für diese oder jene Aufgabe nutzen.

Viel Spaß und Erfolg mit den Anregungen dieses Heftes wünschen Ihnen der Kohl-Verlag und die Autoren!

Gabriela Rosenwald, Ulrike Stolz & Lynn-Sven Kohl

Bedeutung der Symbole:



Einzelarbeit

EA



Partnerarbeit

PA



Arbeiten in kleinen Gruppen

GA



Arbeiten mit der ganzen Gruppe

1

Ein Überblick über unseren Kontinent



Europa ist nach Australien der zweitkleinste Kontinent der Erde. Er bildet mit Asien die Landmasse Eurasien. Aufgrund seiner Geschichte und Kultur wird er jedoch als eigenständiger Kontinent betrachtet.

Die Landmasse ist von zahlreichen Inseln und Inselgruppen und Halbinseln stark zerklüftet. Die Landfläche ist durch Hochgebirge, zahlreiche Mittelgebirge, große Flüsse und Seen gegliedert.

Mit Ausnahme des hohen Nordens herrscht in Europa ein mildes Klima, es liegt in der gemäßigten Zone.

Man unterscheidet in Europa drei große Völkergruppen: Germanen, Romanen und Slawen, es werden ca. 70 verschiedene Sprachen gesprochen.

Die Kultur entwickelte sich im Altertum im Mittelmeerraum (Griechenland, Römisches Reich), verlagerte sich aber seit dem Mittelalter nach Norden. Es bildeten sich viele Einzelstaaten, die zahlreiche Kriege gegeneinander führten. Seit dem Zweiten Weltkrieg im letzten Jahrhundert versuchen die Staaten, ein vereintes Europa zu erreichen.

1 Ein Überblick über unseren Kontinent



PA

Aufgabe 1: Beantwortet die folgenden Fragen! Ihr dürft einen Schulatlas zur Hilfe nehmen!

a) Welche bedeutenden Hochgebirge gibt es in Europa?



b) Nennt mindestens sechs große Flüsse in Europa!

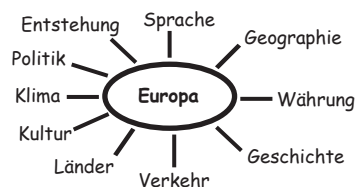
c) In welcher Klimazone liegt der größte Teil Europas?

d) Welche Völkergruppen leben in Europa überwiegend?

e) Schreibt die großen Halbinseln Europas auf!

f) Welche Inseln sind euch im europäischen Gebiet bekannt?

Aufgabe 2: Erstellt gemeinsam ein mind map mit allen wichtigen Punkten, die euch zum Kontinent Europa einfallen!



Nordeuropa und Baltikum	
Dänemark	Kopenhagen
Färöer Inseln	Torshavn
Grönland	Nuuk
Island	Reykjavik
Estland	Tallinn
Lettland	Riga
Litauen	Wilna
Finnland	Helsinki
Norwegen	Oslo
Schweden	Stockholm

Südeuropa und Mittelmeerraum	
Italien	Rom
San Marino	San Marino
Vatikanstadt	Vatikanstadt
Griechenland	Athen
Malta	Valetta
Türkei	Ankara
Zypern	Nikosia

Südosteuropa und Balkan	
Albanien	Tirana
Bosnien-Herzeg.	Sarajevo
Bulgarien	Sofia
Kroatien	Zagreb
Mazedonien	Skopje
Rumänien	Bukarest
Serbien	Belgrad
Montenegro	Podgorica
Slowenien	Ljubljana

West- und Südwesteuropa	
Belgien	Brüssel
Niederlande	Amsterdam
Luxemburg	Luxemburg
Frankreich	Paris
Monaco	Monte Carlo
Spanien	Madrid
Andorra	Andorra
Portugal	Lissabon

Britische Inseln	
Großbritannien	London
Irland	Dublin

Mitteleuropa	
Deutschland	Berlin
Österreich	Wien
Schweiz	Bern
Liechtenstein	Vaduz

Osteuropa	
Polen	Warschau
Tschechien	Prag
Ukraine	Kiew
Weißrussland	Minsk
Slowakei	Bratislava
Ungarn	Budapest
Moldawien	Chisinau
Russland	Moskau



2 Europas Hauptstädte



EA

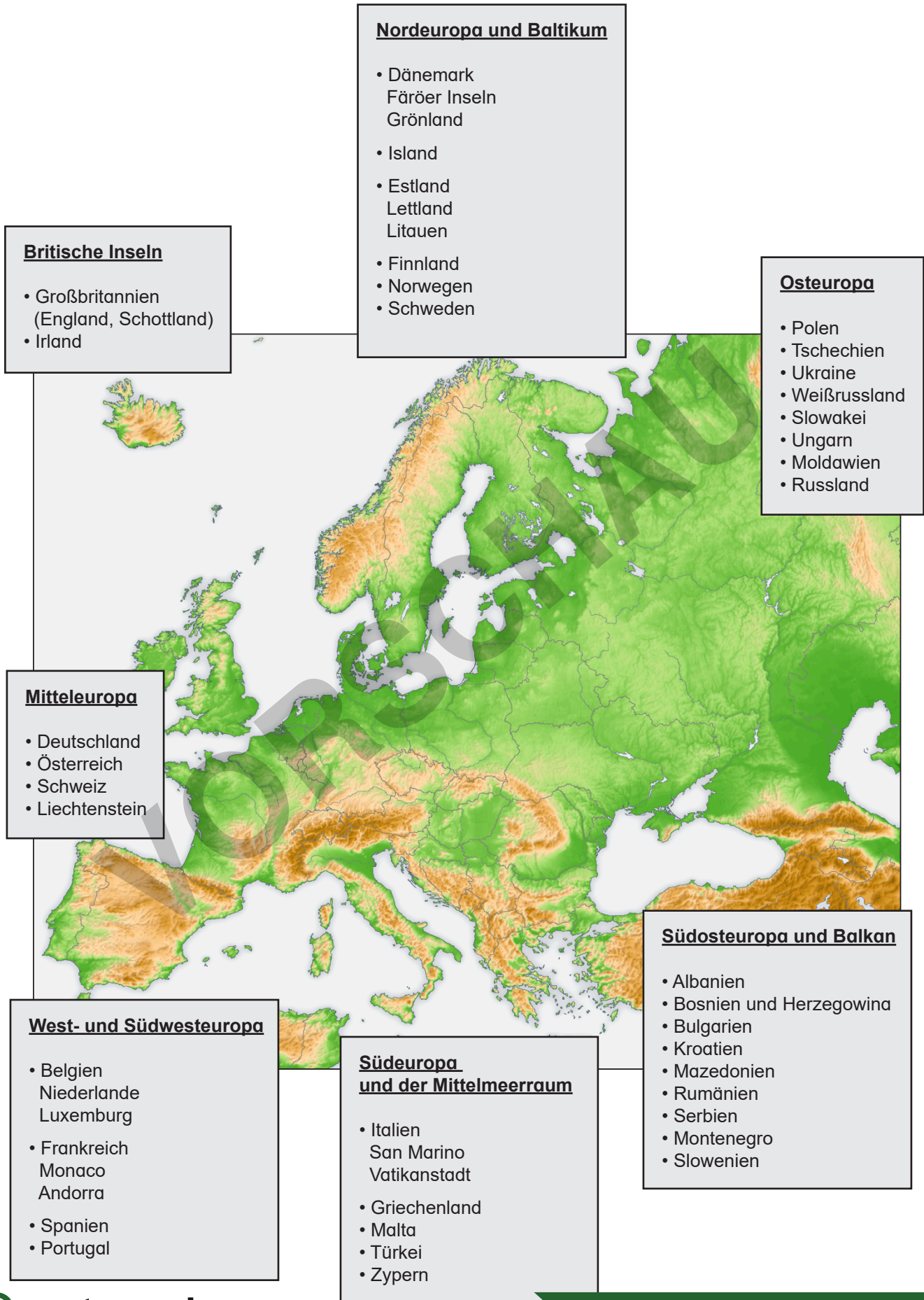
Aufgabe 1: Zeichne mit einem bunten Stift alle europäischen Hauptstädte unten in der Karte ein. Beschrifte sie entsprechend. Nimm deinen Atlas oder eine Europakarte zu Hilfe!



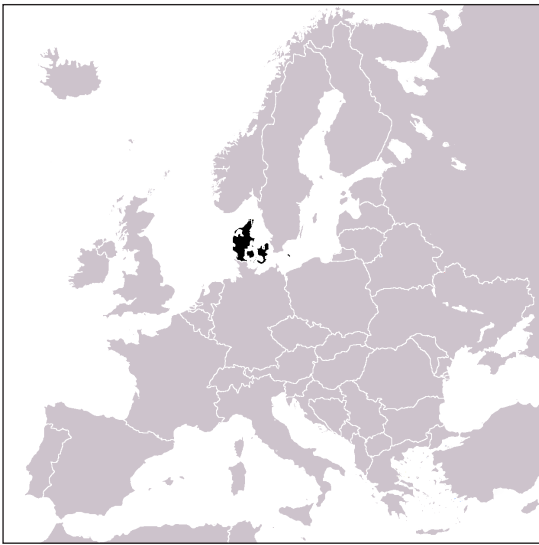
EA

Aufgabe 2: Beschrifte die Meere mit den folgenden Namen! Wenn du nicht weiterkommst, nimm einen Atlas zur Hilfe!

Nordsee, Mittelmeer, Ostsee, Ärmelkanal,
Adriatisches Meer, Schwarzes Meer, Atlantik



1. Dänemark



Hauptstadt	Kopenhagen
Einwohner	5.552.000 <i>(incl. Grönland und Färöer-Inseln)</i>
Fläche	Kernland: 43.100 km ² <i>(incl. Grönland: 2,2 Mio km² und Färöer-Inseln: 1.396 km²)</i>
Sprache	Dänisch
Währung	Dänische Krone
EU-Mitglied	Ja




Dänemark ist ein kleiner Staat im Norden Europas, umgeben von Ostsee und Nordsee. Dänemark ist ein Königreich, das von einem Parlament regiert wird. Es besteht aus mehr als 400 Inseln und Halbinseln. Nicht alle sind bewohnt. Eine der größten Inseln ist Seeland. Dort befindet sich auch die Hauptstadt Kopenhagen. Sie ist bekannt durch ihren Vergnügungspark „Tivoli“ und die Bronzestatue der kleinen Meerjungfrau, die an den Märchendichter Hans Christian Andersen erinnert.

Zu Dänemark gehören die Färöer Inseln und Grönland, eine riesige vereiste Insel hoch oben im Norden. Damit ist Dänemark rein von der Fläche her betrachtet eigentlich das größte Land Europas!

Das Meer ist sehr wichtig für die Dänen. Es gibt über 500 Häfen, von denen Passagier- und Containerschiffe in viele Länder der Erde fahren. Auch für den Tourismus und den Fischfang sind Nord- und Ostsee bedeutend.

Große Teile des Landes werden landwirtschaftlich genutzt. Man baut Gemüse und Getreide an und betreibt intensiv Viehzucht, vorwiegend Schweinezucht. Die Dänen erzeugen mehr Nahrungsmittel, als sie verbrauchen. Haupthandelspartner ist die Europäische Union.

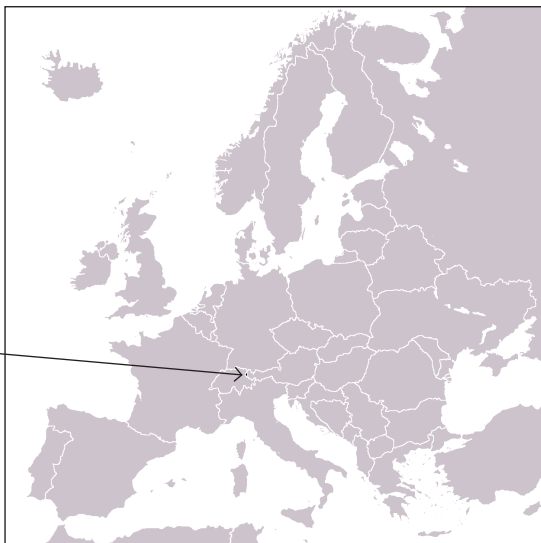


Meerjungfrau in Kopenhagen

Da Dänemark vom Meer umgeben ist, ist es meistens windig. Den stetigen Wind nutzen die Dänen zur Stromerzeugung. Sie haben viele Windkraftanlagen aufgestellt, die du in kleinerem Umfang auch bei uns in Deutschland sehen kannst.

In Billund gibt es das Legoland. Ein dänischer Zimmermann erfand die Legosteine in den 30er Jahren des vorigen Jahrhunderts. In Billund hat man aus ca. 35 Millionen Legosteinen eine Miniaturwelt aufgebaut.

4. Liechtenstein



Hauptstadt	Vaduz
Einwohner	35.168
Fläche	160,48 km ²
Sprache	Deutsch
Währung	Schweizer Franken
EU-Mitglied	Nein



Liechtenstein ist ein souveränes Fürstentum im mitteleuropäischen Alpenraum. Seit 1712 wird Liechtenstein von einer gleichnamigen Fürstenfamilie regiert. Das Land liegt zwischen Österreich und der Schweiz am Ostufer des Rheins. Liechtenstein ist das viertkleinste Land Europas, zählt aber zu den reichsten Staaten der Welt. Durch niedrige Steuern und das Bankgeheimnis ist Liechtenstein eins der wichtigsten internationalen Finanzzentren. Aus dem Land kommen auch hochwertige Industrieprodukte sowie Lebensmittel. Dabei ist Liechtenstein eng mit der benachbarten Schweiz verbunden.



EA

Aufgabe 14: *Beantworte die folgenden Fragen in vollständigen Sätzen! Schreibe in dein Heft/in deinen Ordner!*



- Wo liegt das Fürstentum Liechtenstein?
- Warum ist Liechtenstein eines der wichtigsten internationalen Bankzentren? Erkläre!
- Welche Güter kommen aus Liechtenstein und welches Land ist der wichtigste Wirtschaftspartner?



EA

Aufgabe 15: *Liechtenstein hat mit 90.000 Euro pro Kopf das höchste Bruttoinlandsprodukt der Welt. Was bedeutet das eigentlich? Recherchiere und erkläre!*



.... zur Wiederholung



Aufgabe 16: Nachdem dir nun alle mitteleuropäischen Staaten vorgestellt wurden, kannst du mit diesem kurzen Zwischentest schnell feststellen, wie gut du dir das Gelernte eingepägt hast.

a) Verbinde die einzelnen Satzteile zu sinnvollen und inhaltlich richtigen Sätzen!



- | | |
|---|--|
| Deutschland ist ... <input type="radio"/> | <input type="radio"/> ... ein souveränes Fürstentum. |
| Österreich ist ... <input type="radio"/> | <input type="radio"/> ... zum größten Teil in den Alpen. |
| Die Schweiz ist ... <input type="radio"/> | <input type="radio"/> ... eines der wichtigsten Exportländer der Welt. |
| Liechtenstein ist ... <input type="radio"/> | <input type="radio"/> ... ein Binnenstaat, durch den die Donau fließt. |



Zugspitze

b) Sortiere in die richtigen Spalten, was zum jeweiligen Land passt!

Donau Alpen Genfer See Exportland
 Bern Wien Fürstenfamilie Kaffeehaus
 Vaduz Nordsee Berlin Tourismus

Land	Hauptstadt	Typische Landschaft	Nationale Besonderheit
Deutschland			
Österreich			
Schweiz			
Liechtenstein			



c) Verfasse zu jedem der vier mitteleuropäischen Länder genau drei Sätze, in denen du versuchst, jedes Land möglichst treffend und charakteristisch zu beschreiben! Schreibe auf die Rückseite des Arbeitsblattes oder in dein Heft/in deinen Ordner!

12 Südosteuropa und Balkan

1. Rumänien



Hauptstadt	Bukarest
Einwohner	21.564.200
Fläche	238.391 km ²
Sprache	Rumänisch
Währung	Leu
EU-Mitglied	Ja



Rumänien ist das größte südosteuropäische Land und grenzt im Osten an das Schwarze Meer an. Das Land wird durch zwei große Gebirgsketten, die Süd- und die Ostkarpaten, durchzogen. Im Süden fließt die Donau durch das Land. Das Hochland Siebenbürgen bildet das Zentrum Rumäniens.

In Rumänien herrscht überwiegend kontinentales Klima vor, die Sommer sind warm, die Winter kalt. In Rumänien hat die Landwirtschaft eine große volkswirtschaftliche Bedeutung. Etwa ein Drittel der Beschäftigten baut Weizen, Mais, Rüben, Kartoffeln und Sonnenblumen sowie Wein und Obst

an. Hinzu kommt die Viehzucht. Rumänien ist seit 2007 Mitglied der Europäischen Union, dies wirkt sich – auch durch finanzielle Hilfeleistung der Wirtschaftsgemeinschaft – positiv auf die Entwicklung aus. Es wird vor allem in die Infrastruktur des Landes investiert. Die Regierung plant, bis spätestens 2012 den Euro als Währung einzuführen. Da Rumänien ein rohstoffreiches Land ist, kann langfristig mit einer positiven Entwicklung gerechnet werden. Besonders stark entwickelt haben sich neben der Baubranche auch das Dienstleistungsgewerbe und auch der Tourismus. Besonders die Schwarzmeerküste lockt jedes Jahr über 5 Millionen Urlauber ins Land. Sagenumwoben ist der Landesteil Transsilvanien im Herzen des Landes zwischen den beiden Karpatengebirgen. Transsilvanien soll angeblich die Heimat des berühmten Grafen Dracula gewesen sein. Auf jeden Fall ist das Gebiet rund um Siebenbürgen im Mittelalter Siedlungsgebiet zahlreicher deutschstämmiger Siedler gewesen, die sich dort niederließen und somit die deutsche Kultur mit ins Land brachten.

Aufgabe 1:

Bringt mehr über die deutschen Siedler in Siebenbürgen in Erfahrung. Recherchiert gemeinsam und erstellt eine große Übersicht, die in der Klasse aufgehängt werden kann!



12 Südosteuropa und Balkan



Aufgabe 2: Beantworte die folgenden Fragen in vollständigen Sätzen!
Nimm, wenn nötig, den Schulatlas zur Hilfe!

a) Welche markanten Gebirgszüge gibt es in Rumänien?



b) Wie ist das Klima in Rumänien?

c) Welche landwirtschaftlichen Produkte werden in Rumänien angebaut?
Wie hoch ist der Anteil der in der Landwirtschaft Beschäftigten?

d) Was hat der Beitritt Rumäniens zur EU bewirkt?

e) Welche Industriezweige Rumäniens gelten als Wachstumsmotor?



Aufgabe 3: Rumänien erlebte nach dem Fall des eisernen Vorhanges und dem Zerfall des Ostblocks einen massiven wirtschaftlichen Niedergang, von dem sich das Land nur langsam erholt. Welche Gründe könnten hierfür eine Rolle gespielt haben? Recherchiert in Lexika/im Internet und schreibt heraus!



Das Landesparlament in Bukarest