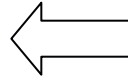
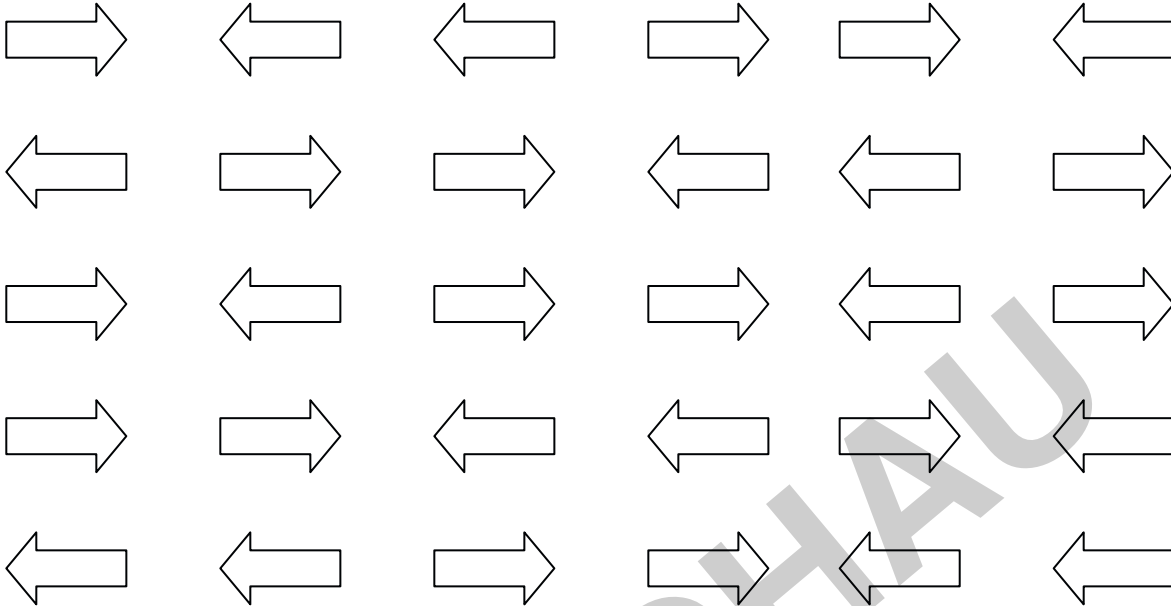
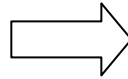


LAGEBEGRIFFE

Male alle Pfeile, die nach links zeigen, lila an.

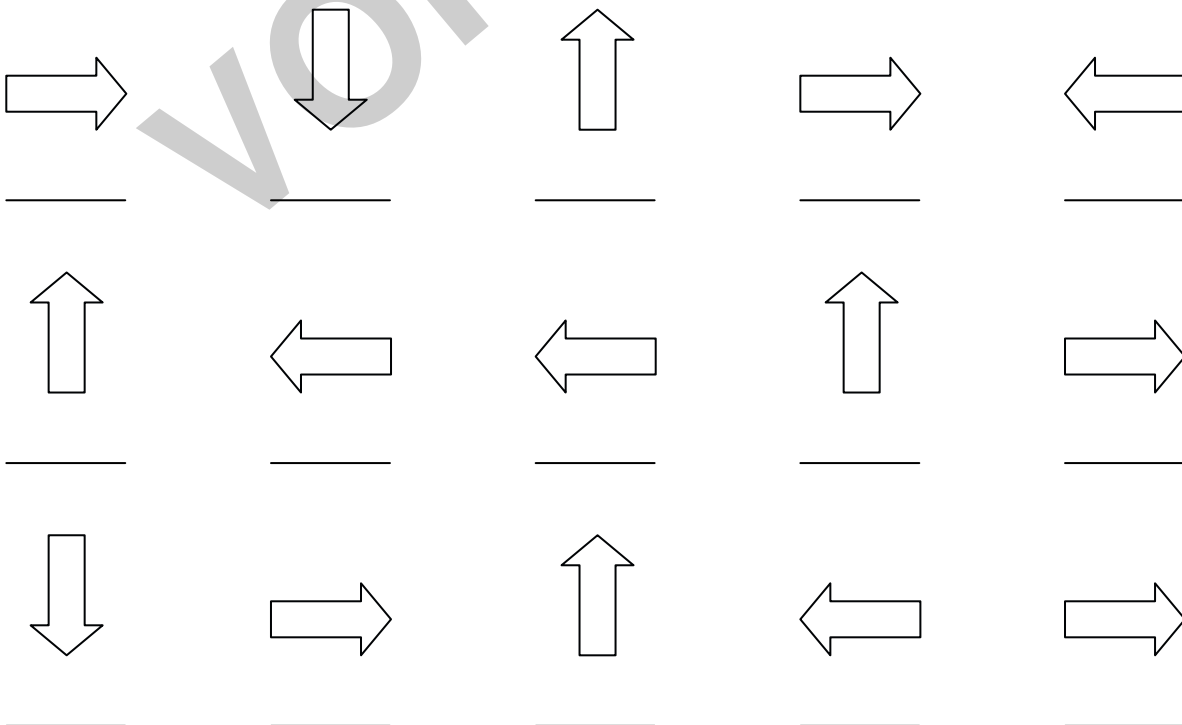


Male alle Pfeile, die nach rechts zeigen, rot an.



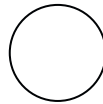
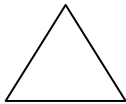
LAGEBEGRIFFE

Trage ein, welcher Pfeil nach links (l), nach rechts (r), nach oben (o) oder nach unten (u) zeigt.



GEOMETRISCHE FORMEN

1. Verbinde passend.



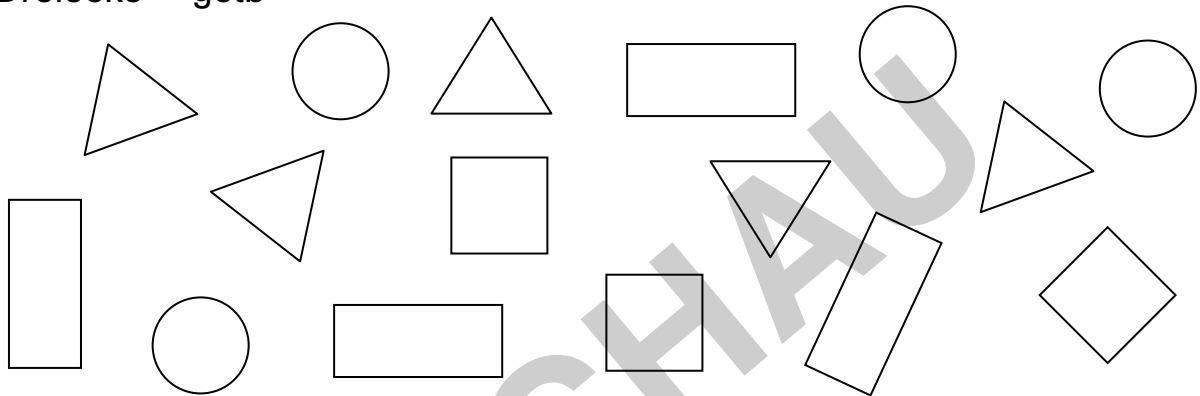
Kreis

Quadrat

Dreieck

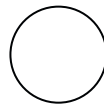
Rechteck

2. Male an: Quadrate = rot, Rechtecke = blau, Kreise = grün,
Dreiecke = gelb



GEOMETRISCHE FORMEN

1. Wie heißen die Formen?



2. Kreuze an: Richtig oder falsch?

	richtig	falsch
a) Jedes Dreieck hat 3 Ecken.	<input type="checkbox"/>	<input type="checkbox"/>
b) Jedes Rechteck ist auch ein Quadrat.	<input type="checkbox"/>	<input type="checkbox"/>
c) Jedes Quadrat ist auch ein Rechteck.	<input type="checkbox"/>	<input type="checkbox"/>
d) Alle Seiten sind beim Quadrat immer gleich lang.	<input type="checkbox"/>	<input type="checkbox"/>
e) Alle Seiten sind beim Dreieck immer gleich lang.	<input type="checkbox"/>	<input type="checkbox"/>