

## Fakten zum Thema Deutschland

Deutschland wird auch Bundesrepublik Deutschland genannt und ist ein Bundesstaat in Mitteleuropa. Deutschland besteht aus 16 Bundesländern und hat ca. 81 Millionen Einwohner. An Deutschland grenzen neun Länder und die Nord- und Ostsee.

Deutschland liegt in der gemäßigten Klimazone. Es gibt 16 Nationalparks und über 100 Naturparks. In Deutschland gibt es vier Metropolen (Städte mit über 1 Million Einwohner) – dazu zählen Berlin, Hamburg, Köln und München. Das größte Ballungsgebiet in Deutschland ist das Ruhrgebiet. Ein Ballungsgebiet ist ein Gebiet, wo viele Menschen auf wenig Fläche wohnen und viele Fabriken zu finden sind.

### Aufgaben



1 Vervollständige die Satzanfänge zu einem sinnvollen Satz.

- a) Deutschland wird auch \_\_\_\_\_ .
- b) Deutschland liegt in \_\_\_\_\_ .
- c) Deutschland besteht \_\_\_\_\_ .
- d) An Deutschland \_\_\_\_\_ .  
\_\_\_\_\_ .
- e) In Deutschland gibt es \_\_\_\_\_ .
- f) Zu den Metropolen in Deutschland zählen \_\_\_\_\_ .  
\_\_\_\_\_ .
- g) Das größte Ballungsgebiet ist das \_\_\_\_\_ .
- h) Eine Metropole ist eine Stadt mit \_\_\_\_\_ .
- i) Ein Ballungsgebiet ist ein Gebiet, wo \_\_\_\_\_ .  
\_\_\_\_\_ .
- j) Was weißt du schon über Deutschland? Schreibe es in Stichworten auf.  
\_\_\_\_\_  
\_\_\_\_\_  
\_\_\_\_\_

## Orientierung auf der Deutschlandkarte (1)

### Aufgabe

- 1 Trage die folgenden Dinge in die Deutschlandkarte ein. Nimm dir einen Atlas zur Hilfe. Benutze jeweils die angegebenen Farben – so wie es auf einer Landkarte üblich ist.



#### Städte (rot):

Flensburg, Oldenburg, Leipzig, Trier, Heidelberg, Ingolstadt, Freiburg

#### Flüsse (blau):

Elbe, Rhein, Weser, Donau, Iller

#### Seen (hellblau):

Müritz, Steinhuder Meer, Bodensee, Chiemsee

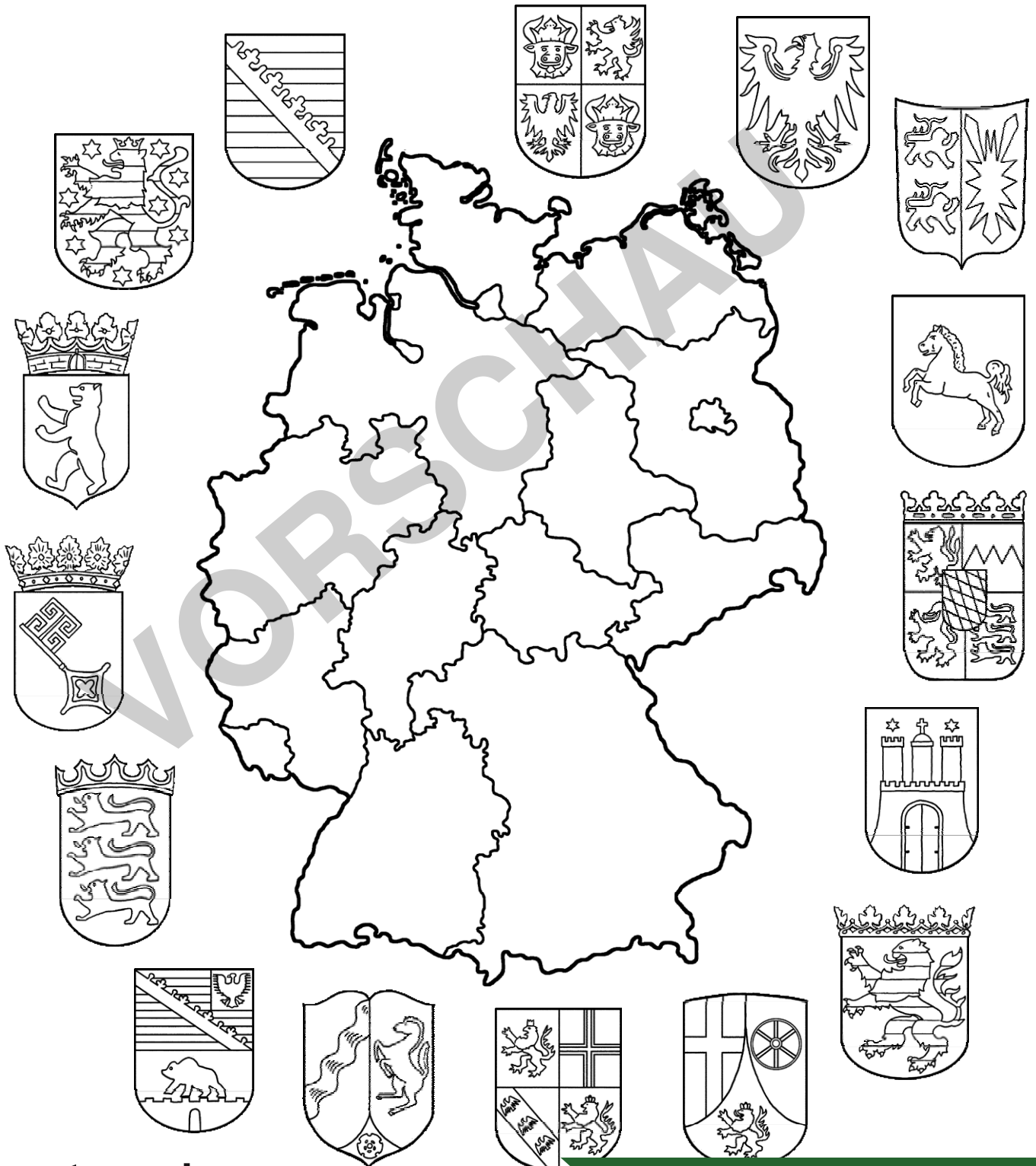


## Die 16 Bundesländer

Deutschland hat 16 Bundesländer, drei dieser Länder sind zugleich Städte, man nennt sie daher Stadtstaaten.

Verbinde das jeweilige Wappen mit dem entsprechenden Bundesland.

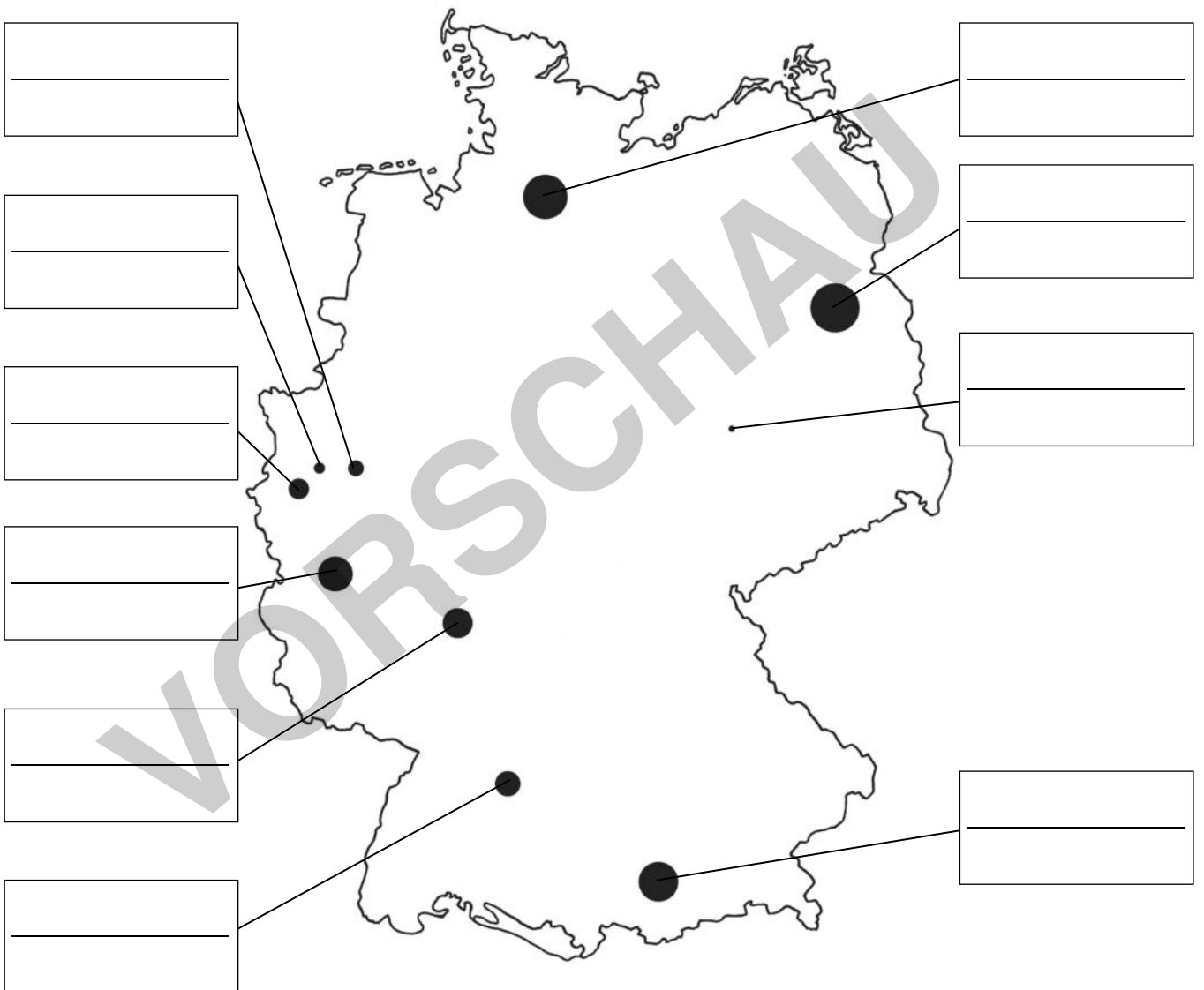
Wie sieht das Wappen aus? Male es entsprechend bunt an.



## Die größten Städte Deutschlands

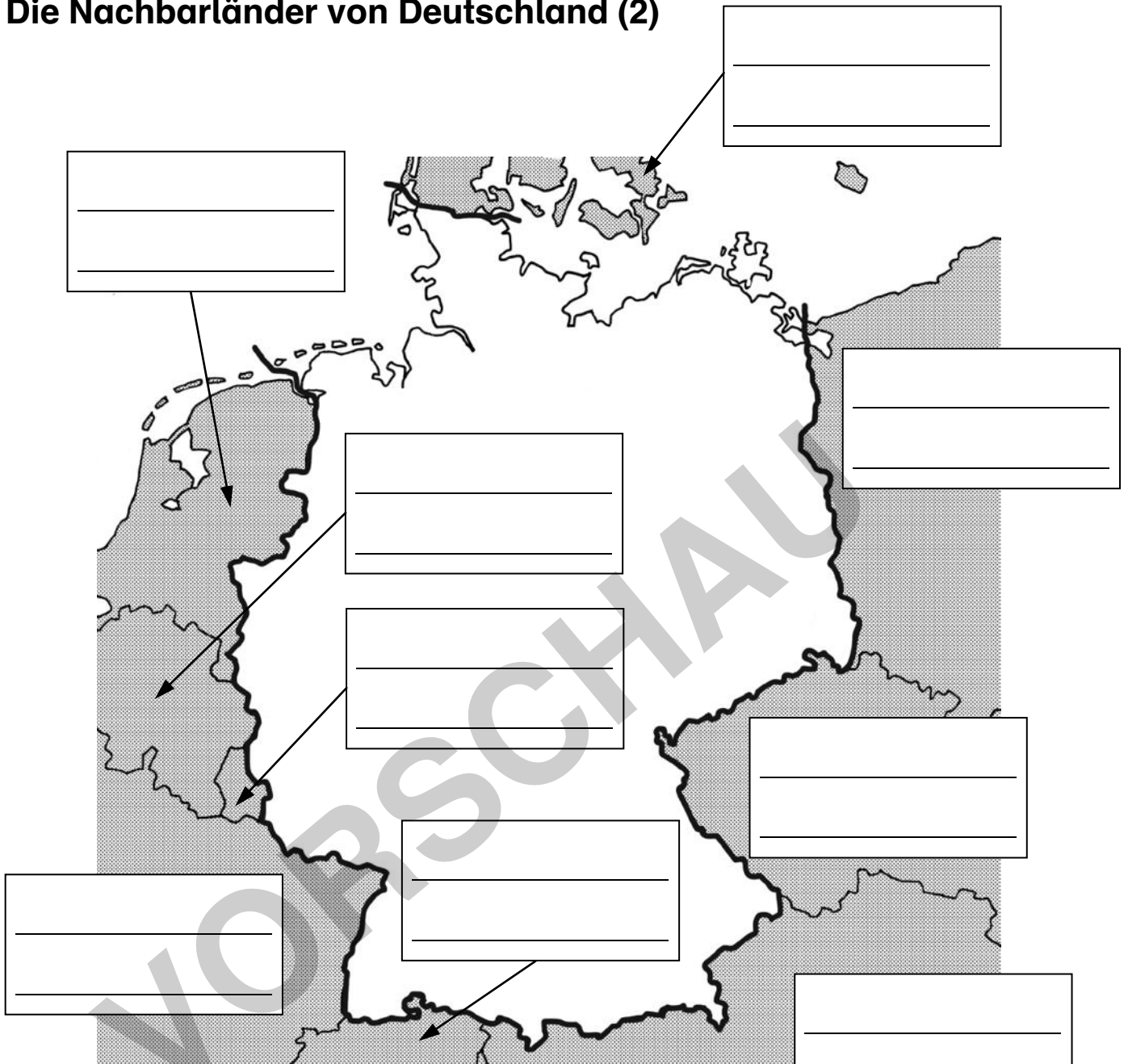
In Deutschland leben ca. 81 Millionen Menschen. Die meisten davon in den großen Städten.

Auf der Karte findest du die zehn größten Städte Deutschlands. Trage die entsprechenden Städtenamen und die Einwohnerzahlen ein.



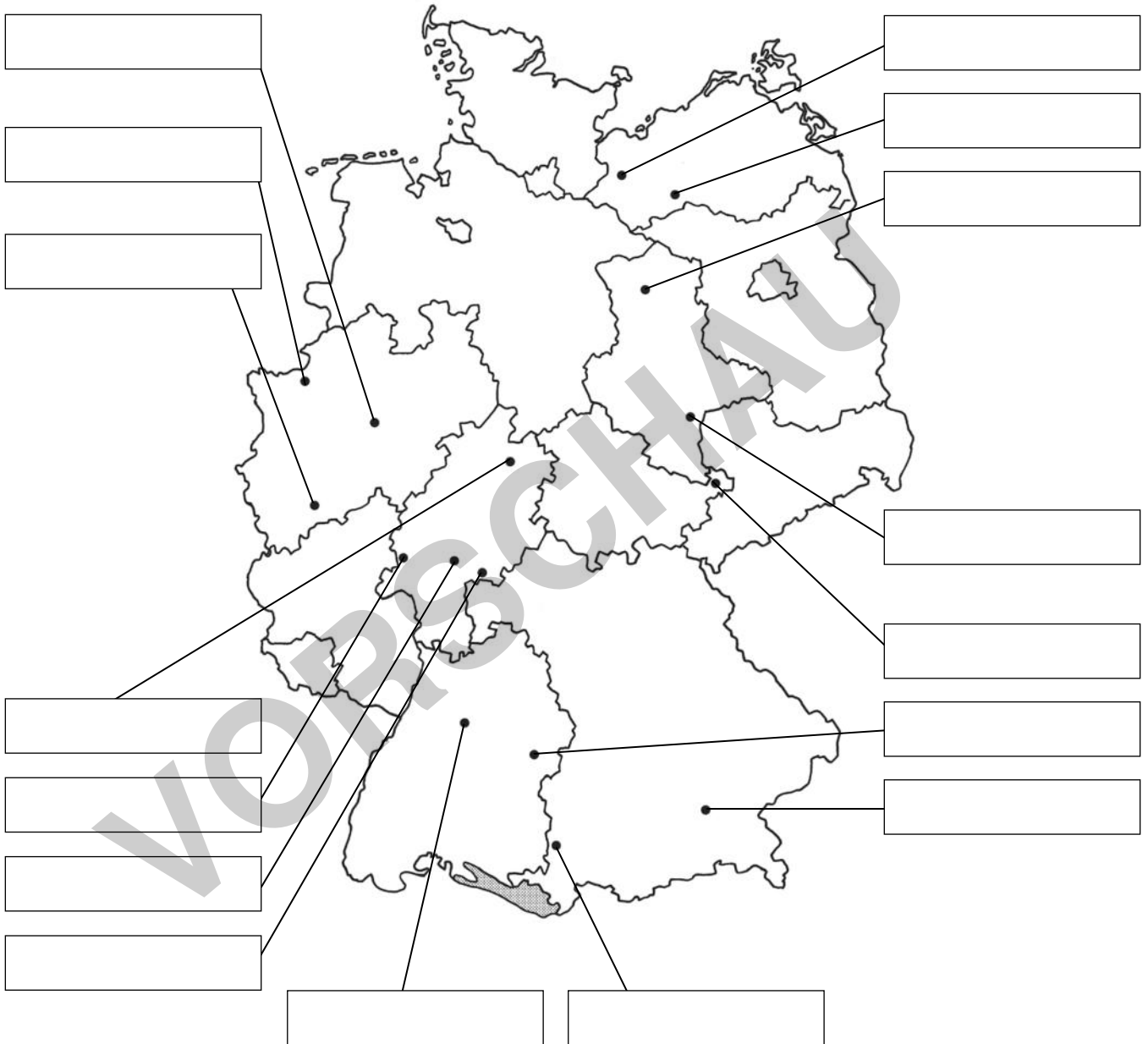
- |           |           |           |         |
|-----------|-----------|-----------|---------|
| 747 000   | 1 830 000 | 632 000   | 586 000 |
| 3 613 000 | 1 456 000 | 582 000   |         |
| 583 000   | 617 000   | 1 080 000 |         |

### Die Nachbarländer von Deutschland (2)




## Besondere Ortsnamen

Wer hier wohnt, hat bestimmt was zu lachen. Suche im Internet nach den Ortschaften und trage sie an der entsprechenden Stelle in die Deutschlandkarte ein.



- |        |               |         |        |
|--------|---------------|---------|--------|
| Lachen | Faulebutter   | Benzin  | Kuchen |
| Drogen | Linsengericht | Lieblös | Pech   |
| Pissen | Brechen       | Pups    | Ekel   |
| Jux    | Poritz        | Aug     | Dümmer |