

I.J.46

Regionale Strukturanalysen

Der China-Taiwan-Konflikt

Dr. Henning Schöpke



© RAABE 2023

© Luis Diaz Devesa/Moment

Der Inselstaat Taiwan mit rund 23,6 Millionen Einwohnern liegt im Pazifischen Ozean etwa 160 Kilometer von der Südostküste des chinesischen Festlandes entfernt. Die Hauptstadt Taipeh hat knapp 2,7 Millionen Einwohner. Für China gehört die „abtrünnige Provinz“ zum Staatsgebiet. Worum geht es im Konflikt um Taiwan? Warum ist der kleine Inselstaat für China so wichtig? Und welche Rolle spielt Taiwan für globale Wertschöpfungsketten und die Weltwirtschaft?

KOMPETENZPROFIL

Klassenstufe:	Kl. 9/10
Dauer:	2 Unterrichtsstunden
Kompetenzen:	1. globale wirtschaftsräumliche Verflechtungen erläutern, 2. sach- und problemorientierte geografische Fragestellungen, Hypothesen und Lösungsstrategien erörtern und entwickeln, 3. zu geopolitischen Konflikten Stellung nehmen
Thematische Bereiche:	Politische Spannungen, Ideologie, Bruttoinlandsprodukt, militärische und wirtschaftliche Stärke, technologischer Entwicklungsstand, globaler Handel, Wirtschaftssektoren

Auf einen Blick







1. Stunde

Thema:	Politische Spannungen zwischen China und Taiwan
M 1	Unabhängigkeit von China – Umfrageergebnisse in Taiwan
M 2	Chinas Staatspräsident Xi Jinping – ein väterlicher Freund?
M 3	Weltweite Sorge vor einem Angriff Chinas auf Taiwan
M 4	Spannungen zwischen der Volksrepublik China und Taiwan
Benötigt:	<input type="checkbox"/> Internet/Whiteboard

2. Stunde

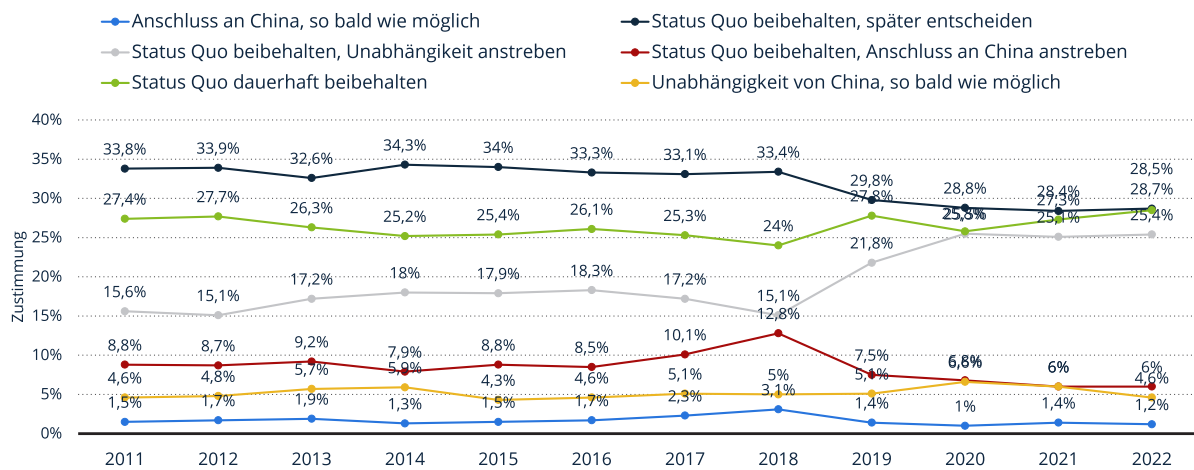
Thema:	Taiwan: militärische Stärke, Außenhandel, Weltwirtschaft
M 5	China und Taiwan: militärische Stärke im Vergleich
M 6	Taiwans Exporte und Importe nach Ländern
M 7	Taiwan: Anteile der Wirtschaftssektoren am Bruttoinlandsprodukt
Benötigt:	<input type="checkbox"/> Internet/Whiteboard

Erklärung zu den Symbolen

	Dieses Symbol markiert differenziertes Material. Wenn nicht anders ausgewiesen, befinden sich die Materialien auf mittlerem Niveau.	
	leichtes Niveau	 mittleres Niveau
		 schwieriges Niveau
	Zusatzaufgabe	 Alternative

Unabhängigkeit von China – Umfrageergebnisse in Taiwan

M 1



Umfrage in Taiwan zur Unabhängigkeit von China von 2011 bis 2022


Grafik: Statista, Quelle: Election Study Center (National Chengchi University)

Aufgaben

1. Fasse die Einstellung der Bevölkerung Taiwans zur Eingliederung nach China mit eigenen Worten zusammen.
2. Nimm zu den Aussagen in der Umfrage Stellung.

Chinas Staatspräsident Xi Jinping – ein väterlicher Freund?

M 2



© Gerhard Mester

Aufgabe

Beschreibe die Bildelemente und interpretiere mit deinem Tischnachbarn die Karikatur. Tragt euer Ergebnis vor.



Spannungen zwischen der Volksrepublik China und Taiwan

M 4

Welche Folgen hätte eine Destabilisierung?

Mit Blick auf die Spannungen zwischen der Volksrepublik China und Taiwan äußerte Bundesaußenministerin Annalena Baerbock anlässlich ihres Besuches im April 2023 in China ihre Sorge. Eine Destabilisierung hätte große Folgen, warnte sie.

Laut SZ vom 14.04.2023 sagte Außenministerin Annalena Baerbock, Deutschland stehe zu seiner Ein-China-Politik, Konflikte dürften aber nur friedlich gelöst werden. Eine einseitige und erst recht gewaltsame Veränderung des Status quo „wäre für uns als Europäer nicht akzeptabel“. Die Reaktion der chinesischen Seite wird Annalena Baerbock antizipiert haben: Taiwan sei ein nicht abzuspaltender



Abbildung: samxmeg/E+

Teil Chinas und die Regierung werde die „volle Souveränität und territoriale Integrität“ des Landes verteidigen – Präsident Xi Jinping hatte klargestellt, dass er Gewalt nicht ausschließt, um Pekings Anspruch durchzusetzen.

Im Umsatz-Ranking des **deutschen Außenhandels** rangiert Taiwan auf Rang 25. Auffällig dabei: Deutschland importiert deutlich mehr aus Taiwan, als es in das Fernost-Land exportiert. Der Wert aller Ausfuhren summierte sich 2021 auf 9,3 Milliarden Euro. Die Einfuhren hatten einen Gesamtwert von 12,2 Milliarden Euro. Taiwan exportiert vor allem Maschinen und elektronische Bauteile nach Deutschland, während Deutschland vor allem mechanische Ausrüstung und hochwertige elektronische Produkte nach Taiwan exportiert. Ein Großteil aller Laptops weltweit und viele Computer-Chips stammen von taiwanesischen Unternehmen. Weitere wichtige Wirtschaftssektoren sind Chemikalien, Textilien, Maschinen sowie die Erdölaufbereitung.

Aufgaben

1. Chinas Außenminister reagierte auf Annalena Baerbocks Sorge, China könnte Taiwan angreifen und verwahrte sich gegen ausländische Einmischung in Taiwan. Informiere dich im Internet über den Ursprung des China-Taiwan-Konfliktes.
2. Begründe die Sorge der Bundesregierung, China könne den Druck auf Taiwan erhöhen und die Insel mit Festland-China vereinen – auch mit militärischen Mitteln. Nenne Folgen für die deutsche Wirtschaft.

M 5


China und Taiwan: militärische Stärke im Vergleich



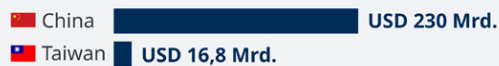
China und Taiwan: militärische Stärke im Vergleich



Bevölkerung



Verteidigungsetat



Aktive Soldaten



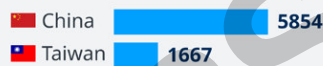
Reservisten



Panzer



Artillerie



Kampfflugzeuge



Flottenstärke



Quelle: Global Firepower 2022



Fotos von oben nach unten: Anton Petrus/Moment, Anton Petrus/Moment, Makoto/Watanabe/MIXA

© RAABE 2023

Grafik: DW, Quelle: Global Firepower 2022.

Aufgaben

1. Vergleiche die militärische Stärke Chinas und Taiwans und bewerte die Stärke der militärischen Reaktion Taiwans im Falle einer chinesischen Aggression.
2. Fasse deine Einschätzung in einem Kernsatz zusammen.

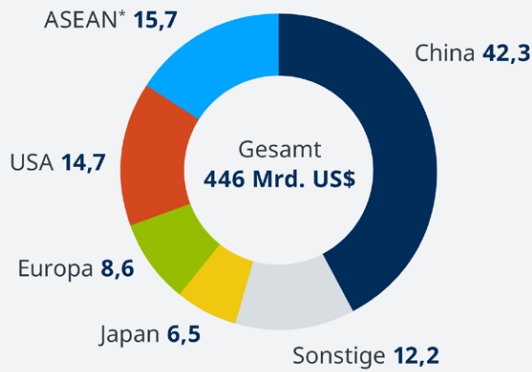
Taiwans Exporte und Importe nach Ländern

M 6

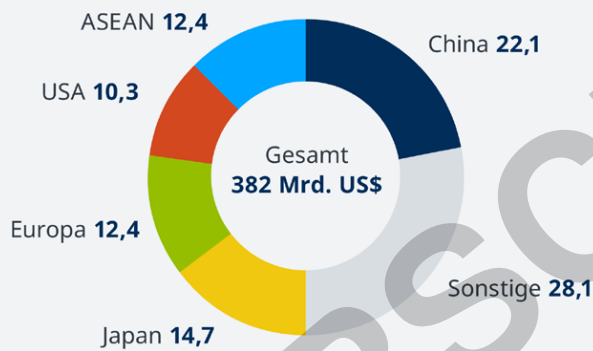


Taiwans Außenhandel

Exporte: Anteil nach Ländern 2021 in Prozent



Importe: Anteil nach Ländern 2021 in Prozent



Quelle: Handelsblatt (Statistikbehörde Taiwan)
*Verband Südostasiatischer Nationen

Grafik: DW, Quelle: Statistikbehörde Taiwan



Foto links: © 2011 Sharleen Chao/Moment, Foto rechts: Jung-Pang Wu/Moment

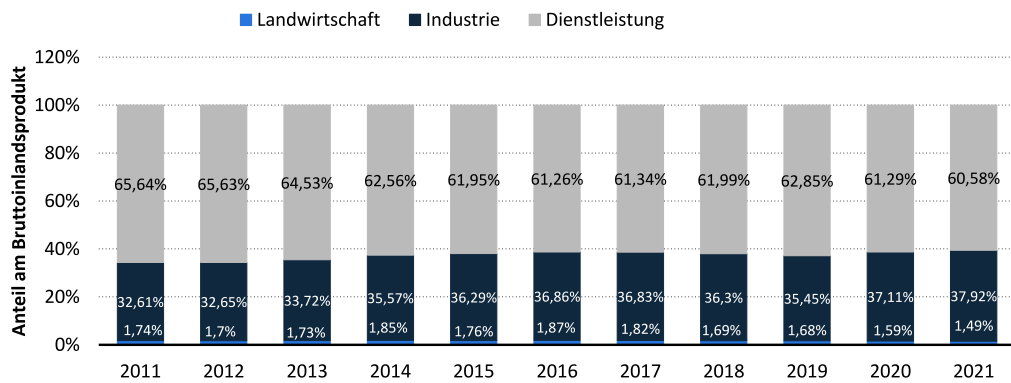
Aufgabe

Bewerte Taiwans Außenhandel aus der Perspektive einer Eingliederung Taiwans in China.



M 7

Taiwan: Anteile der Wirtschaftssektoren am Bruttoinlandsprodukt



Grafik: Statista, Quelle: Taiwan National Statistics



Fotos: oben links: PonyWang/E+, oben rechts: Morsa Images/DigitalVision, unten links: BING-JHEN HONG/iStock/Getty Images Plus, unten rechts: Sunrise@dawn Photography/Moment

© RAABE 2023

Aufgabe

Formuliere einen Zusammenhang der Exporte Taiwans und der Bedeutung der Wirtschaftssektoren.