





Minusrechnungen ZE – E ohne Zehnerübergang

 Suche 20 Rechnungen. Es sind immer drei Zahlen mit dem Ergebnis. Sie liegen waagrecht oder senkrecht nebeneinander.

Kreise sie ein.

19	4	15	3	6	47	7	78	5	73	90	53
24	20	34	36	5	31	97	64	3	61	2	2
65	72	4	73	53	6	67	24	68	10	69	51
54	1	58	16	38	95	2	93	45	78	40	0
16	71	2	85	74	63	30	56	28	61	62	93
55	3	56	4	34	5	68	73	54	3	51	64
27	5	94	81	57	79	6	1	39	68	6	70
99	7	92	44	40	22	62	63	79	29	41	40
91	46	82	3	63	85	1	52	7	89	6	83
85	3	57	5	52	58	79	59	8	1	52	82
15	79	28	37	54	1	45	5	62	85	83	40
65	2	2	19	65	22	7	54	72	4	72	59
81	77	83	92	37	6	40	27	5	83	49	61
2	30	72	47	4	43	62	92	89	8	81	1
15	7	29	5	24	20	19	6	33	28	19	60



Schreibe die Rechnungen mit den richtigen Rechenzeichen ab.

Du findest 12 waagrechte und 8 senkrechte Rechnungen.

Du findest Rechnungen mit folgenden Ergebnissen: 15, 24, 31, 43, 51, 51, 52, 54, 56, 60, 61, 62, 71, 73, 77, 81, 81, 83, 92, 93



Minusrechnungen ZE – E mit Zehnerübergang


 Suche 20 Rechnungen. Es sind immer drei Zahlen mit dem Ergebnis.

Vorsicht: Achte auf den Zehnerübergang!

Sie liegen waagrecht oder senkrecht nebeneinander.

Kreise sie ein.

15	37	8	29	6	37	7	73	5	68	90	1
24	19	34	62	1	23	97	8	12	34	2	98
22	83	4	5	53	12	67	71	7	64	69	60
6	4	56	57	38	6	57	13	45	78	40	0
16	29	2	94	74	6	30	56	28	92	3	89
55	83	6	77	34	5	29	73	93	7	26	64
27	5	94	26	57	79	90	1	39	36	6	70
51	5	92	7	40	12	8	4	79	9	41	40
91	46	82	19	63	85	1	52	7	27	51	90
85	3	30	47	64	58	79	26	53	0	5	82
15	86	9	77	54	72	7	65	62	81	46	40
65	17	8	99	65	20	7	94	72	4	72	59
81	67	83	92	43	6	37	27	5	83	49	60
2	8	72	37	47	16	62	92	67	85	28	1
15	59	93	5	88	20	19	6	33	28	19	59




Schreibe die Rechnungen mit den richtigen Rechenzeichen ab.

Du findest 11 waagrechte und 9 senkrechte Rechnungen.

Du findest Rechnungen mit folgenden Ergebnissen: 4, 6, 16, 19, 27, 29, 29, 37, 46, 57, 59, 59, 64, 65, 67, 68, 77, 77, 88, 89




Minusrechnungen ZE – ZE ohne Stellenwertüberschreitung

 Suche 20 Rechnungen. Es sind immer drei Zahlen mit dem Ergebnis. Sie liegen waagrecht oder senkrecht nebeneinander.

Kreise sie ein.

35	15	20	3	6	37	7	73	2	78	90	1
24	19	34	54	22	32	97	36	25	11	22	98
75	83	4	73	53	6	67	24	68	1	68	60
34	4	94	71	23	29	57	23	45	66	45	21
41	29	2	94	74	63	58	56	28	61	62	93
98	43	55	52	34	5	24	73	93	7	26	64
27	5	94	31	57	79	34	1	38	27	11	70
51	5	92	21	40	22	78	63	77	29	41	40
91	76	25	51	63	85	93	52	44	84	47	90
85	3	30	47	64	58	51	29	33	0	15	82
15	74	29	18	11	91	42	28	100	85	32	40
65	87	72	15	65	22	7	94	72	4	72	59
81	4	83	56	44	12	40	27	5	83	49	79
2	30	72	37	47	28	62	43	21	22	28	19
15	7	93	6	98	20	19	6	33	28	19	60



Schreibe die Rechnungen mit den richtigen Rechenzeichen ab.

Du findest 12 waagrechte und 8 senkrechte Rechnungen.

Du findest Rechnungen mit folgenden Ergebnissen: 11, 11, 11, 12, 15, 20, 21, 21, 22, 23, 32, 32, 33, 34, 41, 42, 51, 55, 60, 68



Minusrechnungen ZE – ZE mit Stellenwertüberschreitung

 Suche 20 Rechnungen. Es sind immer drei Zahlen mit dem Ergebnis.

Vorsicht: Achte auf den Zehnerübergang!

Sie liegen waagrecht oder senkrecht nebeneinander.

Kreise sie ein.



15	13	20	3	6	37	7	73	8	78	90	1
24	19	34	0	1	23	97	53	15	38	2	98
65	83	36	73	64	25	39	24	68	1	72	60
54	4	17	16	38	29	57	23	45	78	46	0
16	29	19	94	51	63	95	57	38	61	26	93
55	62	58	83	27	5	39	73	93	37	26	64
27	16	94	62	24	69	90	53	39	24	6	70
51	46	92	34	28	6	78	45	79	81	66	15
91	46	82	3	63	85	19	8	7	84	26	58
85	54	26	28	64	58	59	29	53	0	52	82
15	74	28	37	54	91	91	28	62	85	83	40
65	17	2	75	65	22	55	94	66	39	27	59
81	4	83	66	37	69	36	27	5	83	49	60
2	30	72	9	47	28	62	92	47	28	19	100
15	7	93	35	58	20	19	6	33	28	19	49



Schreibe die Rechnungen mit den richtigen Rechenzeichen ab.

Du findest 10 waagrechte und 10 senkrechte Rechnungen.

Du findest Rechnungen mit folgenden Ergebnissen: 6, 8, 9, 15, 19, 19, 24, 24, 26, 27, 28, 36, 38, 38, 39, 46, 58, 58, 59, 69