

Mein Rätselblock

Mathe 4. Klasse



gemeinsam
netzwerk
lernen

hauschverlag

Entwickelt,
gestaltet

zur Vollversion

Dieser Block gehört:

(Dein Name)

Inhaltsverzeichnis

Zahlenraum bis 1000

Einmaleins	1
Gemischte Aufgaben	5, 6, 7, 40, 57, 58, 70

Zahlenraum bis 10 000

Zahlen merken	3-4
Zahlenstrahl	8
Gemischte Aufgaben	9, 10, 11

Zahlenraum bis 100 000

Zahlen ordnen	14
Addition	16, 22, 26
Subtraktion	22, 25, 63-64
Zahlenreihen	18
Einmaleins	19
Gemischte Aufgaben	20, 29, 31

Zahlenraum bis 1 000 000

Zahlenstrahl	32
Quersumme	29, 33
Zahlen darstellen	35, 36, 43
Addition	37, 38, 41, 44, 47, 50, 81
Subtraktion	37, 47
Gemischte Aufgaben	29, 37, 45, 47
Runden	51
Schriftliche Division	66, 67, 78
Schriftliche Multiplikation	30, 46, 77

Logisches Denken & Kombinieren

Scherzfragen	2, 39
Zahlenrätsel	7, 16, 26, 31, 57, 58, 73-74, 75
Planquadrate	13
Formenrätsel	15
Zaubertrick	23-24, 27-28
Sudoku	25
Kakuro	73-74
Streichholzrätsel	49, 80
Logikrätsel	7, 52, 55, 71-72, 86

Rechnen mit Größen


























Rechnen mit Geld	5, 21, 22, 40, 70
Rechnen mit Zeit	12, 17, 62, 76
Rechnen mit Gewichten	21
Rechnen mit Längenmaßen	62, 65
Rechnen mit Hohlmaßen	61, 84

Formen und Wahrscheinlichkeiten

Balkendiagramm	85
Körperformen	42, 69, 79
Würfelgebäude	53, 54
Kombinatorik	55, 59
Würfel	60, 83
Wahrscheinlichkeiten	68

Lösungen 87-95

Jede Frucht steht für eine Zahl. Rechne plus in jeder Zeile → und in jeder Spalte ↓. Kommst du auf die Ergebnisse am Rand?

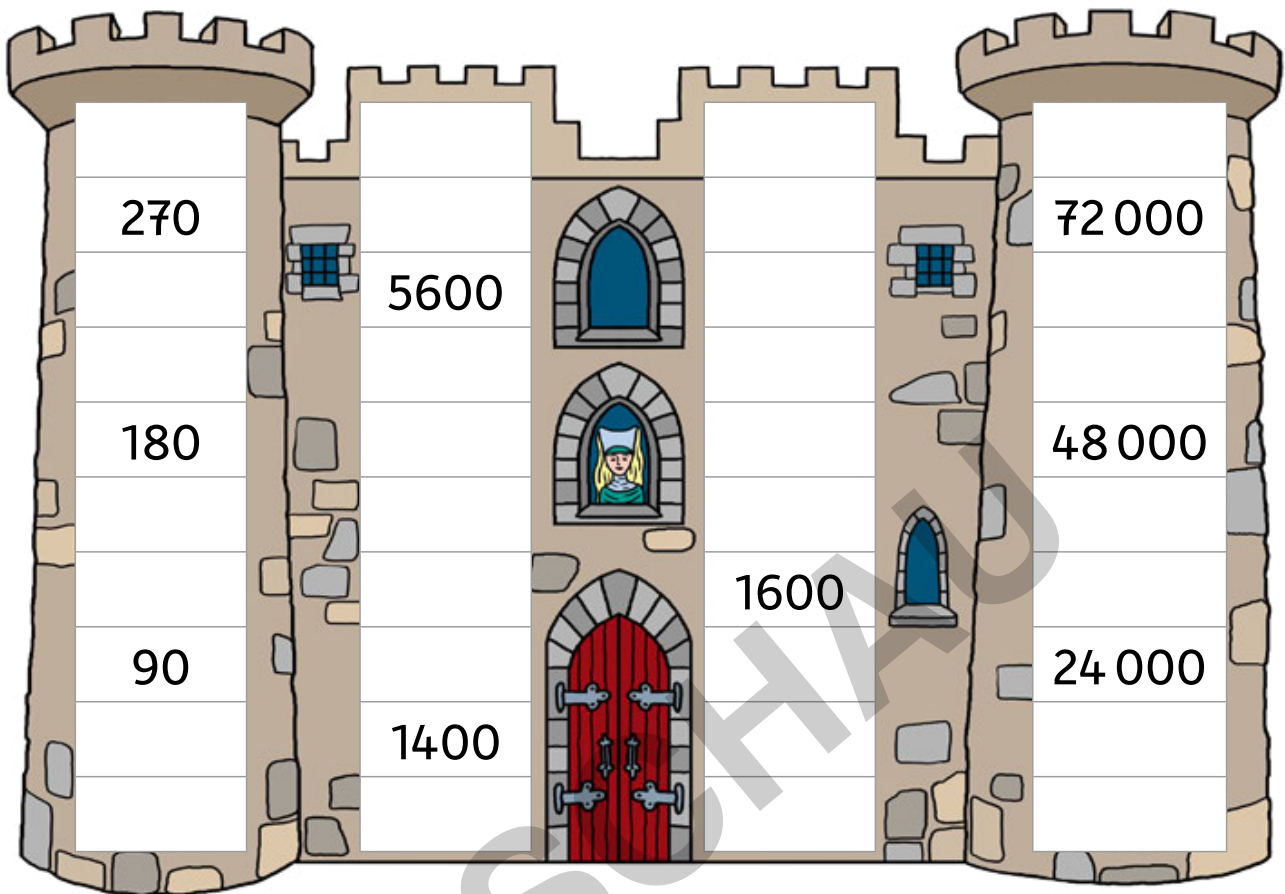
	+		+		+		+		= 8000
+		+		+		+		+	
	+		+		+		+		= 4500
+		+		+		+		+	
	+		+		+		+		= 12800
+		+		+		+		+	
	+		+		+		+		= 2900
+		+		+		+		+	
	+		+		+		+		= 12200
=		=		=		=		=	
5200		7450		9350		11300		7100	

Tipp: Finde die Zahlen in dieser Reihenfolge:

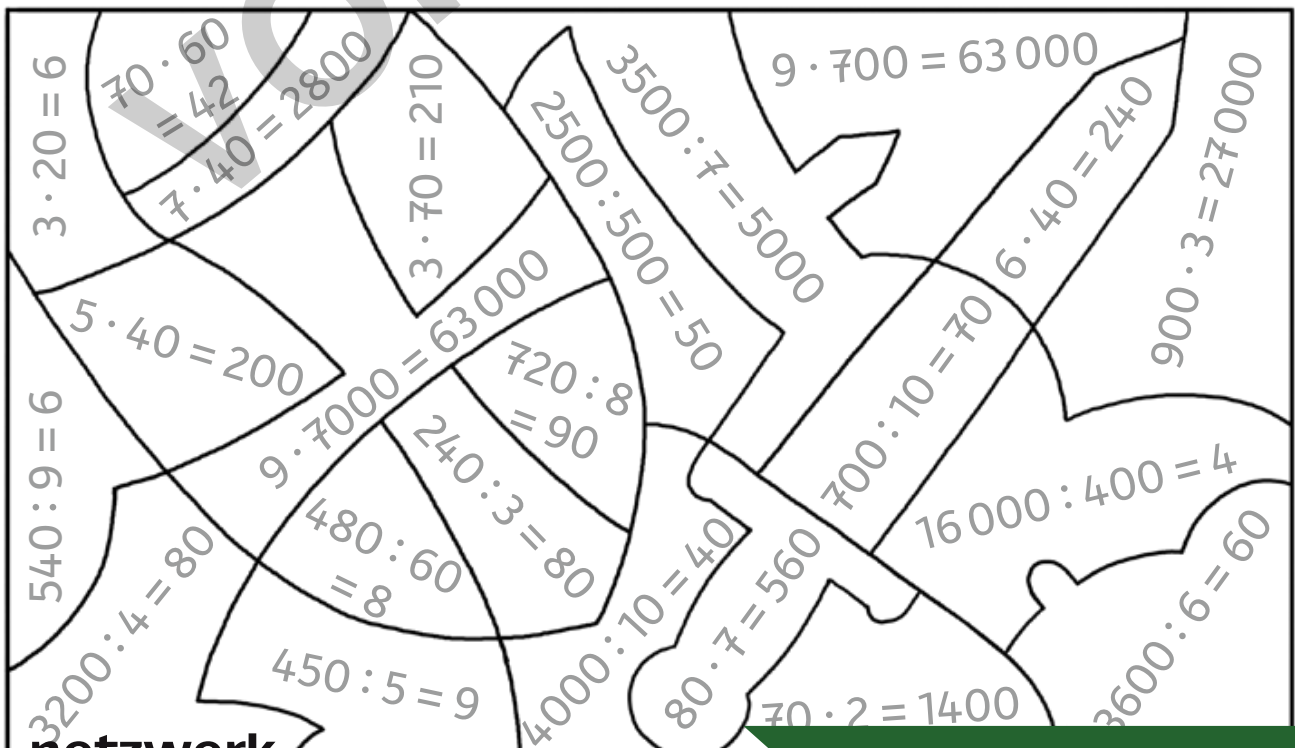


--	--	--	--	--	--

Ergänze die Einmaleins-Reihen.



Male **richtige** Rechnungen **grün** und **falsche rot** an.



Die Koffer sind nass geworden. Das Reiseziel ist nicht mehr zu lesen. Zu welchem Flug gehören sie? Löse die Zahlenrätsel und ergänze die Länder. Rechne auf einem Block.

Flug-Nr.	Ziel
LX18872	Island
EW25317	Portugal
KL54675	Mexiko
BA75247	Indien

Suitcase 1 (top): Meine Zahl erhältst du, wenn du die Summe von 1106 und 1081 mit 25 multiplizierst.

Suitcase 2 (middle): Meine Zahl erhältst du, wenn du zu 36 900 2985 addierst und dann 14 568 subtrahierst.

Suitcase 3 (bottom): Meine Zahl erhältst du, wenn du aus den Ziffern 5, 2, 3 und 9 die kleinste vierstellige Zahl bildest und sie mit 8 multiplizierst.

Man's puzzle: Meine Zahl ist um eins größer als das Doppelte von 37 623.