

Urlaubsregionen

Aufgaben

Schauen Sie im Atlas nach: Wo befinden sich die folgenden Urlaubsregionen? Übertragen Sie in die Karte und schraffieren Sie an der entsprechenden Stelle. Beschriften Sie die Karte.



Nordfriesland (blau)

Ostseeküste (rot)

Ostfriesland (grün)

Spreewald (blau)

Harz (grün)

Münsterland (blau)

Eifel (grau)

Spessart (rot)

Erzgebirge (grün)

Bayerischer Wald (grau)

Mecklenburger Seenplatte (orange)

Odenwald (grau)

Sächsische Schweiz (orange)

Schwäbische Alb (lila)

Alpenvorland (grün)

Sauerland (orange)

Pfälzer Wald (grün)

Schwarzwald (grün)

Allgäu (rot)




Tourismus in Stadt und Natur (1)

Aufgaben



- 1 Ordne den Bildern die richtige Überschrift zu.

Brandenburger Tor – Hamburger Hafenfest – Harz – Semperoper –
Frankfurter Messe – Schwarzwald – Hofbräuhaus – Zugspitze



Tourismus in den Bergen

Viele Menschen machen Urlaub in den Bergen. Sowohl im Sommer als auch im Winter kommen die Touristen in die Berge. Im Sommer hauptsächlich zum Mountainbikefahren, Wandern und Klettern. Im Winter hauptsächlich zum Wintersport (Skifahren, Langlauf, Rodeln). Die Haupteinnahmequelle in den Bergen ist der Tourismus. Für den Tourismus wird viel getan, damit die Menschen in den Bergen einen tollen Urlaub erleben können. Leider muss darunter die Umwelt sehr leiden, es werden z. B. viele Bäume für die Skipisten gefällt, durch die vielen Autos wird die Umwelt zusätzlich belastet und es wird sehr viel Energie benötigt, um z. B. Straßen und Hotels zu bauen.

Aufgaben



- 1 Überprüfe die Aussagen und finde das Lösungswort.

	Aussage	richtig	falsch
1.	Touristen kommen nur im Winter in die Berge.	S	U
2.	Skifahren, Langlauf und Rodeln gehören zum Wintersport.	R	O
3.	Der Tourismus ist die Haupteinnahmequelle in den Bergen.	L	M
4.	Für den Tourismus wird kaum etwas unternommen.	M	A
5.	Durch den Tourismus in den Bergen wird die Umwelt stark belastet.	U	E
6.	Für die Skipisten müssen häufig auch Bäume gefällt werden	B	R

Lösungswort: _____

- 2 Hast du schon Urlaub in den Bergen gemacht? Schreibe einen kleinen Bericht von deinem Urlaub.

Bedeutende Ausflugsziele: Das Brandenburger Tor (1)



Aufgaben

1 Fülle den Lückentext aus.



Euromünzen – geteilte – Wiedervereinigung – Pferden – Paris –
Quadriga – Berlin – Göttin – König – Wahrzeichen – Preußen

Das Brandenburger Tor steht in der Stadt _____. Es ist ein
bekanntes _____ für diese Stadt. Auf
deutschen _____ ist es auch zu sehen.

Der damalige _____ von Preußen mochte das alte
Griechenland. Darum hat das Tor Säulen. Später hat man auf das Tor
eine Statue gestellt, die _____.

Sie zeigt die _____ des Friedens in einem Wagen, der von vier
_____ gezogen wird. Als der französische Herrscher
Napoleon _____ einmal in einer Schlacht besiegt
hat, entführte er die Quadriga für einige Jahre nach _____.

Heute ist das Brandenburger Tor ein Symbol für die
_____, früher war es ein Zeichen für das
_____ Deutschland.

Bedeutende Ausflugsziele: Die Porta Nigra

Porta Nigra heißt übersetzt „schwarzes Tor“. Dieses Tor ist ein römisches Stadttor und wurde 170 n. Chr. erbaut. Das Stadttor steht heute am Porta-Nigra-Platz in der Stadt Trier und ist auch Wahrzeichen der Stadt. Dieses Stadttor ist das besterhaltene römische Stadttor in Deutschland und ist seit 1986 UNESCO-Weltkulturerbe. Die Porta Nigra wurde aus großen Steinquadern erbaut. Die schwersten Quader wiegen 6 Tonnen. Die Quader wurden ohne Mörtel übereinandergesetzt. Jeweils zwei Quader wurden von Eisenklammern verbunden. Das Bauwerk ist 30 m hoch und 36 m breit. Erstaunlich ist, dass die Porta Nigra so gut erhalten ist, obwohl sie ja schon sehr alt ist. Zwischenzeitlich lies sich der heilige Simeon dort einmauern und das Stadttor wurde auch zu einer Kirche umfunktioniert.



Aufgabe

Ergänze die Satzanfänge.

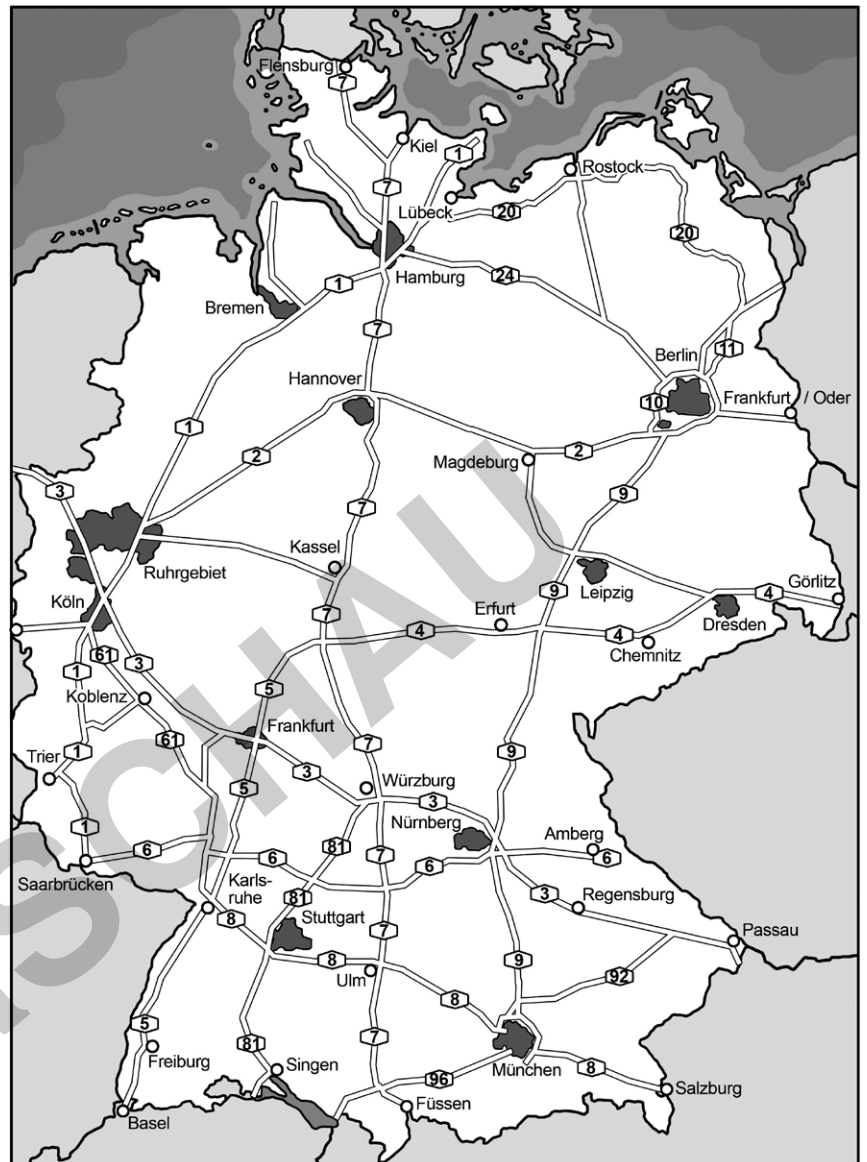


- Porta Nigra heißt _____.
- Die Porta Nigra ist ein _____.
- Die Porta Nigra ist das Wahrzeichen _____.
- Die Porta Nigra ist das besterhaltene _____.
- Seit 1986 ist _____.
- Die Porta Nigra wurde aus _____.
- Die Porta Nigra wurde zwischenzeitlich _____.

Mit dem Auto quer durch Deutschland (1)

In Deutschland gibt es sehr viele Autobahnen. Auf den Autobahnen kann man quer durch das ganze Land fahren.

Jede Autobahn hat eine Nummer. Die Nummern sind nach einer Regel vergeben.



Aufgabe

Schau dir die Autobahnkarte an. Versuche, die Regeln der Autobahnnummern zu „knacken“ und vervollständige die Regelsätze.



Autobahnen von Nord nach Süd haben eine _____ Nummer, Autobahnen von West nach Ost haben eine _____ Nummer.

Sehr lange Autobahnen, die viele 100 km lang sind, haben eine _____stellige Nummer, ganz kurze Autobahnen haben eine _____stellige Nummer.

Zweistellige Autobahnen sind oft 100 bis 300 km lang.

Brücken verbinden

Es gibt in Deutschland viele Brücken, die Flüsse überqueren, aber zum Teil auch Inseln mit dem Festland verbinden. Hier findest du die Namen der längsten Brücken in Deutschland.

Trage die Brücken an den entsprechenden Orten in die Deutschlandkarte ein.



Rügenbrücke Stralsund	Verbindung der Insel Rügen mit dem Festland	4 105 m
Köhlbrandbrücke Hamburg	Überquerung der Elbe	3 618 m
Hochbrücke Brunsbüttel	Überquerung des Nord-Ostsee-Kanals	2 831 m
Hochbrücke Rendsburg	Überquerung des Nord-Ostsee-Kanals	2 486 m
Ruhrtalbrücke Mülheim a. d. R.	Überquerung der Ruhr	1 800 m
Rheinkniebrücke Düsseldorf	Überquerung des Rheins	1 519 m
Neckartalbrücke Heilbronn	Überquerung des Neckars	1 350 m
Sachsenbrücke Pirna	Überquerung der Elbe	1 070 m
Fehmarn-Sund-Brücke Großenbrode	Verbindung der Insel Fehmarn mit dem Festland	960 m





Test 7

1 Nenne fünf Urlaubsregionen, die es in Deutschland gibt.

- a) _____
- b) _____
- c) _____
- d) _____
- e) _____

2 Fülle den Lückentext aus.

Die Menschen in Deutschland _____ sehr gerne. Sie unternehmen 70 Millionen Reisen jedes Jahr. Dazu kommen noch mal genauso viele _____ und Tagesausflüge. Viele Menschen aus dem Ausland kommen auch nach Deutschland, um hier _____ zu machen. Es wird also viel Wasser verbraucht, es werden _____ für Urlauber gebaut, es werden lange _____ mit dem Auto gefahren oder weite _____ ins Ausland unternommen. Die _____ wird also durch mehr _____ von Autos und Flugzeugen belastet. Es muss viel mehr _____ aufgewendet werden und Freizeitaktivitäten können der _____ und der Landschaft schaden.

Kurzreisen – Strecken – Umwelt – Natur – Energie – Flüge – Abgase – Urlaub – verreisen – Attraktionen