


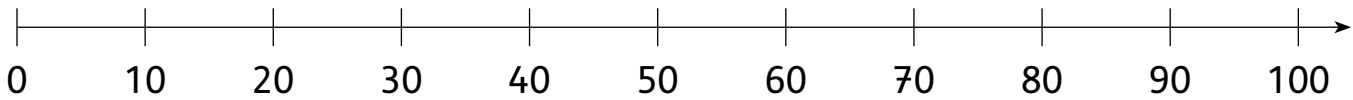
<b>Vorwort</b> .....	4
<b>Plus- und Minusaufgaben im ZR bis 100 mit Zehnerzahlen</b> .....	5
Plusaufgaben im ZR bis 100 mit Zehnerzahlen .....	5
Minusaufgaben im ZR bis 100 mit Zehnerzahlen .....	10
<b>Plus- und Minusaufgaben im ZR bis 100 mit einer gemischten Zehnerzahl</b> .....	15
Plusaufgaben im ZR bis 100 mit einer gemischten Zehnerzahl .....	15
Minusaufgaben im ZR bis 100 mit einer gemischten Zehnerzahl .....	20
<b>Plus- und Minusaufgaben im ZR von 0 bis 100 mit zwei gemischten Zehnerzahlen ohne ZÜ und ZU</b> .....	25
Plusaufgaben im ZR bis 100 mit zwei gemischten Zehnerzahlen .....	25
Minusaufgaben im ZR bis 100 mit zwei gemischten Zehnerzahlen .....	30
<b>Plus- und Minusaufgaben im ZR von 0 bis 100 mit zwei gemischten Zehnerzahlen mit ZÜ und ZU</b> .....	35
Plusaufgaben im ZR bis 100 mit ZÜ und ZU .....	35
Minusaufgaben im ZR bis 100 mit ZÜ und ZU .....	40
<b>Eigene Punkt-zu-Punkt-Bilder herstellen</b> .....	45
<b>Urkunde</b> .....	46

ZR = Zahlenraum; ZÜ = Zehnerüberschreitung; ZU = Zehnerunterschreitung



Rechne die Aufgaben. Verbinde die Punkte der Ergebnisse in aufsteigender Reihenfolge.

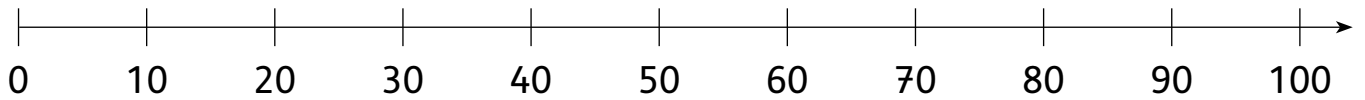
Es entsteht ein Punkt-zu-Punkt-Bild, das du an- und weitermalen darfst. Wenn du für die Rechnung Mengenbilder als Hilfe benötigst, kannst du sie auf die Rückseite malen.





Rechne die Aufgaben. Verbinde die Punkte der Ergebnisse in aufsteigender Reihenfolge.

Es entsteht ein Punkt-zu-Punkt-Bild, das du an- und weitermalen darfst. Wenn du für die Rechnung Mengenbilder als Hilfe benötigst, kannst du sie auf die Rückseite malen.

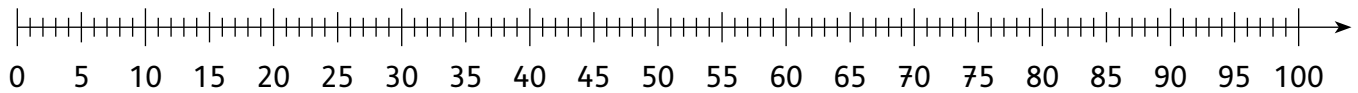


$20 + 80 = \underline{\quad}$   
 $60 + 30 = \underline{\quad}$   
 $30 + 50 = \underline{\quad}$   
 $0 + 0 = \underline{\quad}$   
 $40 + 30 = \underline{\quad}$   
 $30 + 30 = \underline{\quad}$   
 $40 + 10 = \underline{\quad}$   
 $10 + 30 = \underline{\quad}$   
 $20 + 10 = \underline{\quad}$   
 $0 + 10 = \underline{\quad}$   
 $20 + 0 = \underline{\quad}$



Rechne die Aufgaben. Verbinde die Punkte der Ergebnisse in aufsteigender Reihenfolge.

Es entstehen zwei Punkt-zu-Punkt-Bilder, die du an- und weitermalen darfst. Wenn du für die Rechnung Mengenbilder als Hilfe benötigst, kannst du sie auf die Rückseite malen.

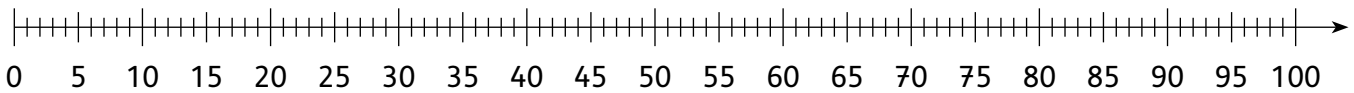


$20 + 11 = \underline{\quad}$       $10 + 24 = \underline{\quad}$       $16 + 20 = \underline{\quad}$       $20 + 18 = \underline{\quad}$   
 $16 + 10 = \underline{\quad}$       $10 + 19 = \underline{\quad}$       $20 + 21 = \underline{\quad}$   
 $80 + 16 = \underline{\quad}$       $42 + 30 = \underline{\quad}$       $21 + 50 = \underline{\quad}$       $35 + 30 = \underline{\quad}$       $20 + 39 = \underline{\quad}$   
 $15 + 80 = \underline{\quad}$   
 $46 + 40 = \underline{\quad}$       $60 + 23 = \underline{\quad}$   
 $10 + 14 = \underline{\quad}$       $17 + 10 = \underline{\quad}$   
 $13 + 20 = \underline{\quad}$   
 $29 + 20 = \underline{\quad}$   
 $30 + 24 = \underline{\quad}$   
 $22 + 40 = \underline{\quad}$   
 $28 + 60 = \underline{\quad}$       $50 + 21 = \underline{\quad}$   
 $44 + 50 = \underline{\quad}$   
 $30 + 66 = \underline{\quad}$




Rechne die Aufgaben. Verbinde die Punkte der Ergebnisse in aufsteigender Reihenfolge.

Es entsteht ein Punkt-zu-Punkt-Bild, das du an- und weitermalen darfst. Wenn du für die Rechnung Mengenbilder als Hilfe benötigst, kannst du sie auf die Rückseite malen.

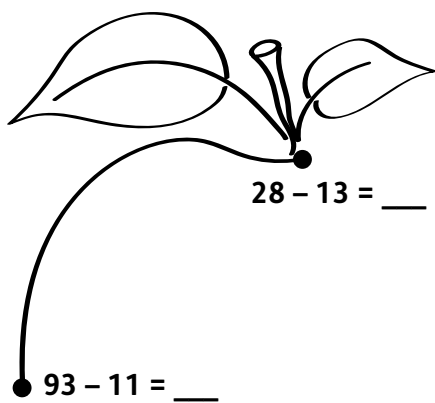
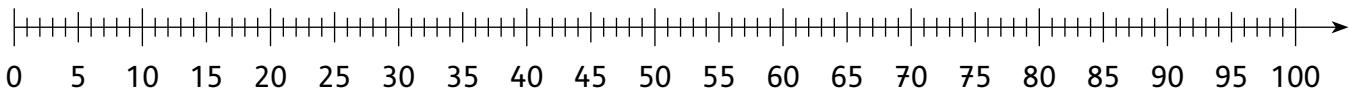


$89 - 20 = \underline{\quad}$   
 $81 - 20 = \underline{\quad}$   
 $77 - 30 = \underline{\quad}$   
 $85 - 40 = \underline{\quad}$   
 $66 - 10 = \underline{\quad}$   
 $46 - 10 = \underline{\quad}$   
 $37 - 10 = \underline{\quad}$   
 $25 - 10 = \underline{\quad}$   
 $52 - 20 = \underline{\quad}$   
 $54 - 40 = \underline{\quad}$   
 $93 - 80 = \underline{\quad}$



Rechne die Aufgaben. Verbinde die Punkte der Ergebnisse in aufsteigender Reihenfolge.

Es entstehen zwei Punkt-zu-Punkt-Bilder, die du an- und weitermalen darfst. Wenn du für die Rechnung Mengenbilder als Hilfe benötigst, kannst du sie auf die Rückseite malen.



$39 - 12 = \underline{\quad}$

$57 - 25 = \underline{\quad}$

$48 - 12 = \underline{\quad}$

$89 - 44 = \underline{\quad}$

$98 - 27 = \underline{\quad}$

$85 - 23 = \underline{\quad}$

$78 - 31 = \underline{\quad}$

$89 - 26 = \underline{\quad}$

$66 - 13 = \underline{\quad}$

$99 - 11 = \underline{\quad}$

$86 - 14 = \underline{\quad}$

$79 - 16 = \underline{\quad}$

$94 - 32 = \underline{\quad}$

$68 - 14 = \underline{\quad}$

$99 - 54 = \underline{\quad}$

$75 - 32 = \underline{\quad}$

$44 - 42 = \underline{\quad}$

$68 - 61 = \underline{\quad}$

$34 - 23 = \underline{\quad}$

$69 - 54 = \underline{\quad}$

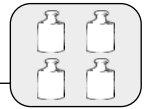
$29 - 12 = \underline{\quad}$

$96 - 73 = \underline{\quad}$

$84 - 52 = \underline{\quad}$

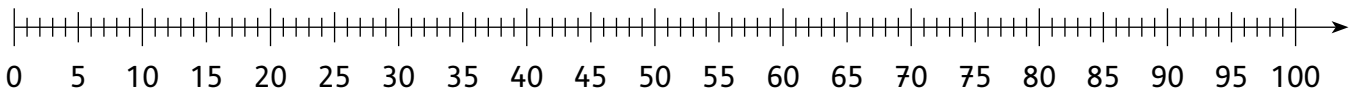
$95 - 61 = \underline{\quad}$

$88 - 46 = \underline{\quad}$



Rechne die Aufgaben. Verbinde die Punkte der Ergebnisse in aufsteigender Reihenfolge.

Es entstehen zwei Punkt-zu-Punkt-Bilder, die du an- und weitermalen darfst. Wenn du für die Rechnung Mengenbilder als Hilfe benötigst, kannst du sie auf die Rückseite malen.



$22 + 19 = \underline{\quad}$        $18 + 25 = \underline{\quad}$   
 $26 + 14 = \underline{\quad}$        $19 + 19 = \underline{\quad}$        $25 + 19 = \underline{\quad}$   
 $18 + 18 = \underline{\quad}$        $28 + 27 = \underline{\quad}$   
 $56 + 37 = \underline{\quad}$        $38 + 44 = \underline{\quad}$        $35 + 29 = \underline{\quad}$   
 $44 + 26 = \underline{\quad}$

$16 + 16 = \underline{\quad}$        $17 + 19 = \underline{\quad}$   
 $44 + 39 = \underline{\quad}$        $38 + 32 = \underline{\quad}$   
 $27 + 27 = \underline{\quad}$        $29 + 29 = \underline{\quad}$        $35 + 29 = \underline{\quad}$        $28 + 37 = \underline{\quad}$        $19 + 18 = \underline{\quad}$   
 $28 + 15 = \underline{\quad}$        $15 + 26 = \underline{\quad}$