

I.D.3.6

Industrie

Rezession in Deutschland – Prognosen und Indikatoren unter der Lupe

Dr. Henning Schöpke



© Peter Zelei Images/Moment

Als Folge des Krieges in der Ukraine und der Energiekrise rechnen Expertinnen, Ökonomen sowie Wirtschaftsinstitute mit einer sinkenden Wirtschaftsleistung in Deutschland und anhaltend hohen Preisen. Ist die deutsche Wirtschaft mitten in einer Rezession? Welche Aussagekraft haben Wirtschaftsindikatoren und Prognosen? Und welche Folgen hätte eine länger anhaltende Rezession für unseren Alltag und unser Leben?

KOMPETENZPROFIL

Klassenstufe:	10
Dauer:	2 Unterrichtsstunden
Kompetenzen:	Begriffe der Wirtschaft und Wirtschaftsgeografie verstehen und einordnen können, Einflüsse auf raumprägende Faktoren erkennen, raumverändernde Prozesse und Zusammenhänge erläutern
Thematische Bereiche:	Wirtschaft, Rezession, Inflation, Konsum, Energiekosten, Geschäftsklimaindex, Indikatoren, Prognosen, Raumprägung, Raumwirksamkeit, Wirtschaftsstrukturen

Mediathek

- ▶ <https://www.youtube.com/watch?v=FmunnW0tNDo>
Droht uns eine Rezession in Deutschland? – Wirtschaft einfach erklärt: #businessclass
- ▶ <https://www.youtube.com/watch?v=eb-bPWloyrg>
Hier wird der Begriff Rezession gut verständlich erklärt.
- ▶ <https://www.youtube.com/watch?v=swuRWQgXm8g>
Das Erklärvideo behandelt Begriffe wie zum Beispiel Rezession, Aufschwung, Konjunktur, Konjunkturzyklen, Konjunkturpolitik.
- ▶ <https://www.boeckler.de/de/boeckler-impuls-deutschland-rutscht-in-die-rezession-43676.htm>
Auf der Webseite der Hans-Böckler-Stiftung wird der Artikel „Energiepreisschocks treiben Deutschland in die Rezession, Prognose der wirtschaftlichen Entwicklung 2022/2023“ als PDF bereitgestellt.

[Letzter Abruf der Internetadressen: 30.01.2023]

Auf einen Blick



1. Stunde

Thema:	Wirtschaftslage: Deutschland in der Rezession?
M 1	Die Weltwirtschaft im Spiegel der Karikatur
M 2	Konjunktur in Deutschland: Prognose und Wirklichkeit
M 3	Die Stimmung in der deutschen Wirtschaft
Benötigt:	<input type="checkbox"/> Internet

2. Stunde

Thema:	Merkmale einer Rezession
M 4	Entwicklung der Preise für Energie in Deutschland
M 5	Baugewerbe: Geschäftsklima und Baufinanzierung
M 6	Merkmale einer Rezession
Benötigt:	<input type="checkbox"/> Internet

Erklärung zu den Symbolen

	Dieses Symbol markiert differenziertes Material. Wenn nicht anders ausgewiesen, befinden sich die Materialien auf mittlerem Niveau.
	leichtes Niveau
	mittleres Niveau
	schwieriges Niveau

M 1

Die Weltwirtschaft im Spiegel der Karikatur



© Gerhard Mester



© Gerhard Mester

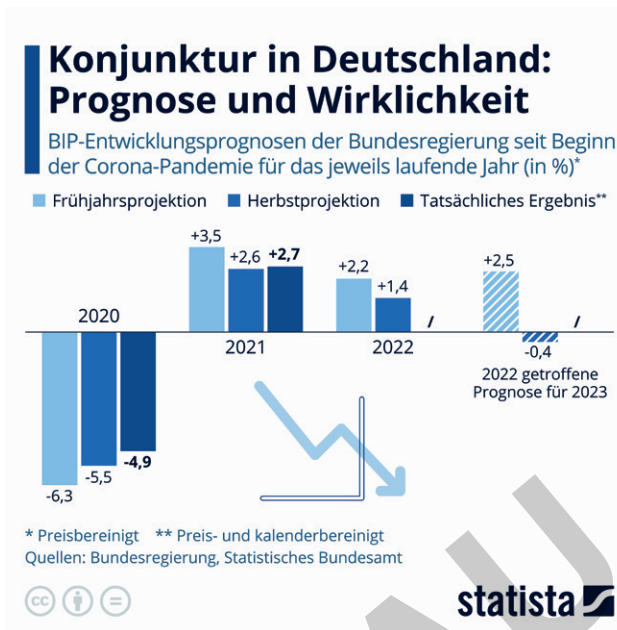
Aufgaben

1. Erkläre, was auf der Karikatur oben dargestellt wird. Was bringt die Karikatur zum Ausdruck?
2. Beschreibe, was die untere Karikatur darstellt. Zeige mithilfe der Karikatur den Zusammenhang von Inflation und Rezession auf.

Konjunktur in Deutschland: Prognose und Wirklichkeit

M 2

Übereinstimmenden Medienberichten zufolge geht die Regierung von einer leichten Rezession im Jahr 2023 aus. Für 2022 wurde das Wirtschaftswachstum auf 1,4 Prozent nach unten korrigiert. Damit orientiert sich die Regierung an der Projektion deutscher Wirtschaftsforschungsinstitute.



Aufgabe

Beurteile die Zuverlässigkeit von Prognosen. Begründe.

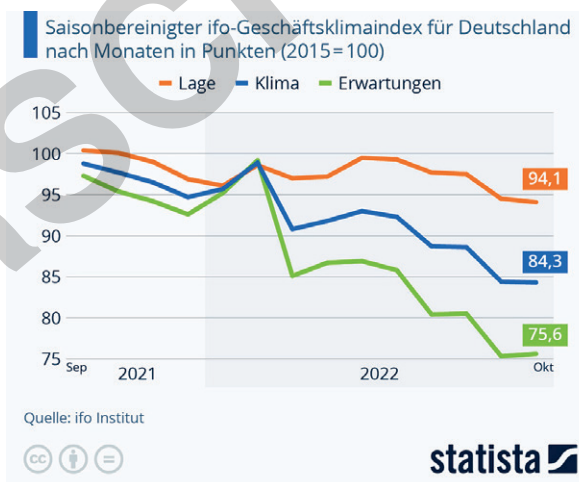
Die Stimmung in der deutschen Wirtschaft

M 3

Eine Rezession in Deutschland scheint sich anzubahnen. Der Ukrainekrieg und die Energiekrise sorgen für Pessimismus bei den befragten Unternehmen. Das Geschäftsklima stürzte im September 2022 um fast das Dreifache einer gewöhnlichen Monatsveränderung ab. „Deutschland ist auf einen Rezessionskurs eingeschwenkt“, sagte KfW-Chefvolkswirtin Fritzi Köhler-Geib (KfW = Kreditanstalt für Wiederaufbau).

„Die Grabstimmung vor allem in den konsumnahen Branchen und die überall

deprimierenden Erwartungen unterstreichen, vor welchen Herausforderungen Deutschland angesichts explodierender Energie- und Lebenshaltungskosten sowie der unsicheren Versorgungslage gerade bei Erdgas steht. Die Absatzperspektiven schwinden. Der jüngste Abwehrschirm der Ampelkoalition von 200 Milliarden Euro könnte Kostendruck von Unternehmen wie Haushalten nehmen. Gerade die Strom- und Gaspreisbremsen dürften den Konsum spürbar stützen.“



Aufgaben

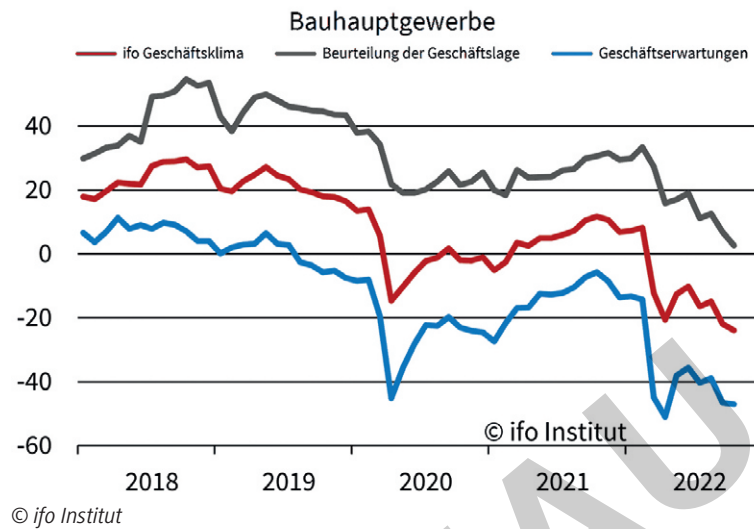
1. Erkläre die in der Infografik zum ifo-Geschäftsklimaindex verwendeten Begriffe „Lage“, „Klima“ und „Erwartungen“.
2. Begründe die jeweilige Stimmung.



Baugewerbe: Geschäftsklima und Baufinanzierung

M 5

400.000 neue Wohnungen pro Jahr möchte die Bundesregierung schaffen. Doch die Zahl der **Baugenehmigungen** für neue Wohnungen in Deutschland sank laut Statistischem Bundesamt im August 2022 um 9,4 Prozent im Vergleich zum Vorjahresmonat. Das ist der kräftigste seit November 2021. Von Januar bis August wurde der Bau von insgesamt 244.605 Wohnungen genehmigt, was einem Rückgang von 3,0 Prozent entspricht. Der Einbruch der Genehmigungen ist vor allem auf schnelle Zinsanhebungen in wenigen Monaten zurückzuführen, die wegen sinkender Planungssicherheit eine sich verstärkende Stornierungswelle erzeugen oder

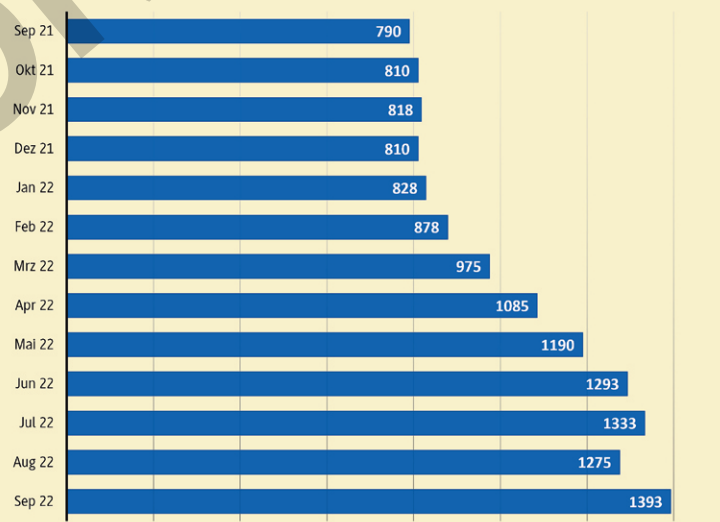


zumindest zur Zurückstellung von Projekten führen. Hinzu kommen die in den letzten Jahren gestiegenen Materialkosten, Lieferschwierigkeiten von Baumaterial, die jetzt steigenden Energiekosten und die von den Bauunternehmern geforderten Preise, eine Folge der bisher starken Nachfrage, die wegen fehlender Materialien zu höheren Preisforderungen geführt hat. Diesbezüglich dürfte sich allerdings eine Wende anbahnen, weil die Stornierung von Bauaufträgen bei den Baufirmen freie Baukapazitäten schafft und das Verhältnis von Nachfrage und Angebot sich zugunsten der Nachfrage ändert.

Für **Bauzinsen** wurden im Oktober 2022 bereits 4,08 % fällig, Tendenz steigend, nachdem die Europäische Zentralbank weitere Zinsanhebungen signalisiert hatte. Anfang 2022 betrug der Zins nur etwa 1 % auf der Basis der vorstehend genannten Daten.

Monatsraten der Baufinanzierung steigen

Grundlage der Berechnung: 300.000 Euro, 2 Prozent Tilgung, 80 Prozent Beleihung, 10 Jahre Sollzinsbindung; in Euro



Quelle: Dr. Klein Privatkunden AG

Aufgaben

1. Formuliere ein Kurzreferat mit dem Thema „Weshalb die Baugenehmigungen sinken.“
2. Erkläre die in der Grafik verwendeten Begriffe „Grundlage der Berechnung“, „Tilgung“, „Beleihung“ und „Sollzinsbindung“.