

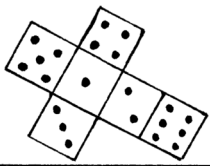


# Inhalt

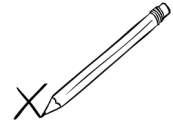


<b>Erläuterungen</b> .....	4
<b>Laufzettel</b> .....	7
<b>Auftragskarten</b> .....	8
<b>Stationen</b>	
Station 1 – Netze bauen .....	16
Station 2 – Netze überprüfen durch Falten .....	17
Station 3 – Welche Würfelnetze sind gleich? .....	20
Station 4 – Würfelnetze finden .....	21
Station 5 – Würfelnetze sortieren .....	22
Station 6 – Die erste Regel für Würfelnetze .....	26
Station 7 – Die zweite Regel für Würfelnetze .....	28
Station 8 – Die dritte Regel für Würfelnetze .....	30
Station 9 – Die vierte Regel für Würfelnetze .....	32
Station 10 – Würfelnetze beschreiben .....	34
Station 11 – Würfelnetze fertig zeichnen .....	36
Station 12 – Die richtigen Augenzahlen eintragen .....	37
Station 13 – Welches Würfelnetz passt? .....	38
Station 14 – Welche Kanten stoßen aneinander? .....	39
Station 15 – Kanten nachzeichnen .....	41
Station 16 – Wo befindet sich die Ecke? .....	42
<b>Lösungen</b>	
Lösung Station 1 – Netze bauen .....	44
Lösung Station 2 – Netze überprüfen durch Falten .....	45
Lösung Station 3 – Welche Würfelnetze sind gleich? .....	46
Lösungsvorschlag Station 4 – Würfelnetze finden .....	47
Lösungsvorschlag Station 5 – Würfelnetze sortieren .....	48
Lösung Station 6 – Die erste Regel für Würfelnetze .....	49
Lösung Station 7 – Die zweite Regel für Würfelnetze .....	50
Lösung Station 8 – Die dritte Regel für Würfelnetze .....	51
Lösung Station 9 – Die vierte Regel für Würfelnetze .....	52
Lösung Station 11 – Würfelnetze fertig zeichnen .....	53
Lösung Station 12 – Die richtigen Augenzahlen eintragen .....	54
Lösung Station 13 – Welches Würfelnetz passt? .....	55
Lösung Station 15 – Kanten nachzeichnen .....	56





## Station 1 – Netze bauen



Ich vermute:

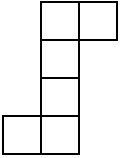
Es ist ein Würfelnetz.

Es ist kein Würfelnetz.

Ich weiß:

Es ist ein Würfelnetz.

Es ist kein Würfelnetz.



Ich vermute:

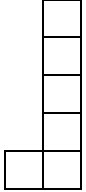
Es ist ein Würfelnetz.

Es ist kein Würfelnetz.

Ich weiß:

Es ist ein Würfelnetz.

Es ist kein Würfelnetz.



Ich vermute:

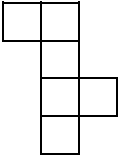
Es ist ein Würfelnetz.

Es ist kein Würfelnetz.

Ich weiß:

Es ist ein Würfelnetz.

Es ist kein Würfelnetz.



Ich vermute:

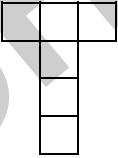
Es ist ein Würfelnetz.

Es ist kein Würfelnetz.

Ich weiß:

Es ist ein Würfelnetz.

Es ist kein Würfelnetz.



Ich vermute:

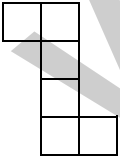
Es ist ein Würfelnetz.

Es ist kein Würfelnetz.

Ich weiß:

Es ist ein Würfelnetz.

Es ist kein Würfelnetz.



Ich vermute:

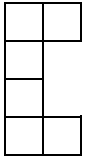
Es ist ein Würfelnetz.

Es ist kein Würfelnetz.

Ich weiß:

Es ist ein Würfelnetz.

Es ist kein Würfelnetz.



Ich vermute:

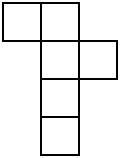
Es ist ein Würfelnetz.

Es ist kein Würfelnetz.

Ich weiß:

Es ist ein Würfelnetz.

Es ist kein Würfelnetz.



Ich vermute:

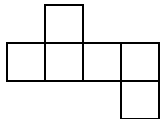
Es ist ein Würfelnetz.

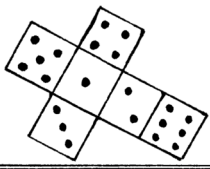
Es ist kein Würfelnetz.

Ich weiß:

Es ist ein Würfelnetz.

Es ist kein Würfelnetz.





## Station 12 – Die richtigen Augenzahlen eintragen

