



## Gemischte Rechnungen mit 3er-, 4er- und 6er-Reihen




Suche 20 Rechnungen. Es können Mal- und Geteiltaufgaben sein.

Es sind immer drei Zahlen mit dem Ergebnis. Sie liegen waagrecht oder senkrecht nebeneinander.

Kreise sie ein.

10	3	30	3	6	37	8	70	5	78	90	1
24	6	4	0	4	21	4	100	12	34	2	98
65	83	4	73	4	6	32	24	15	3	5	60
54	8	56	16	1	29	20	23	45	78	40	0
6	29	5	4	20	63	30	56	28	16	4	4
9	3	58	83	34	8	39	7	6	42	26	64
27	5	3	62	6	3	81	1	39	68	6	70
51	5	6	44	10	22	78	63	24	29	9	40
91	46	18	3	12	3	4	52	4	84	3	90
85	3	30	77	64	58	79	29	6	0	27	82
25	74	12	4	3	91	45	28	62	85	83	40
65	17	2	19	65	22	36	6	6	4	9	59
81	24	2	3	6	6	40	27	5	83	4	10
2	3	72	37	47	88	62	30	6	5	36	6
15	8	93	5	18	20	19	6	33	28	19	60



Schreibe die Rechnungen mit den richtigen Rechenzeichen ab.

- Du findest 11 waagrechte und 9 senkrechte Rechnungen.
- Du findest 9 Malrechnungen und 11 Geteiltrechnungen.
- Du findest Rechnungen mit folgenden Ergebnissen: 1, 3, 4, 4, 4, 5, 5, 6, 6, 6, 8, 9, 18, 20, 27, 30, 32, 36, 42, 60.



## Gemischte Rechnungen mit 5er-, 8er- und 9er-Reihen



Suche 30 Rechnungen. Es können Mal- und Geteiltaufgaben sein.

Es sind immer drei Zahlen mit dem Ergebnis. Sie können auch schräg (diagonal) nebeneinanderliegen.



Kreise sie ein.

29	4	32	4	91	37	37	81	63	84	1	49	20	61	83
15	8	100	60	92	45	5	9	64	6	19	40	85	35	16
4	83	8	5	40	39	62	82	8	91	7	29	8	63	54
71	72	9	28	71	56	83	28	8	93	6	2	62	5	82
15	9	47	24	2	60	1	81	29	82	26	5	6	83	73
50	8	9	8	91	37	75	8	63	74	18	10	35	5	7
15	81	49	3	72	55	5	49	8	9	3	91	29	36	93
32	81	54	9	6	100	5	29	35	89	100	90	30	11	81
15	81	63	100	69	47	25	62	73	6	37	62	5	100	9
15	9	29	18	6	48	12	15	46	8	50	71	6	2	9
7	4	58	32	10	1	9	9	53	48	80	61	4	69	38
15	58	2	33	5	83	16	67	88	5	9	45	27	9	18
89	5	5	1	50	81	10	9	90	3	81	5	40	8	72
15	91	84	56	62	48	73	81	47	48	80	2	82	72	85
28	30	70	61	8	49	30	52	4	9	36	28	15	71	54
15	94	16	5	10	7	4	82	61	60	27	3	5	92	10
17	93	8	82	4	5	20	71	91	9	98	62	3	51	61
15	2	2	30	72	49	56	99	3	100	9	63	10	8	80
44	39	1	49	92	18	9	2	5	47	36	10	5	19	67




Schreibe die Rechnungen mit den richtigen Rechenzeichen ab.

- 😊 Du findest 12 waagrechte, 12 senkrechte und 6 diagonale Rechnungen.
- 😊😊 Du findest 16 Malrechnungen und 14 Geteiltrechnungen.
- 😊😊😊 Du findest Rechnungen mit folgenden Ergebnissen: 1, 2, 2, 3, 3, 5, 6, 6, 7, 7, 8, 8, 8, 9, 9, 9, 10, 20, 25, 27, 32, 36, 40, 45, 48, 50, 63, 72, 80, 90.




## Gemischte Rechnungen mit allen Reihen

 Suche 20 Rechnungen. Es können Mal- und Geteiltaufgaben aller Reihen sein. Es sind immer drei Zahlen mit dem Ergebnis. Sie liegen waagrecht oder senkrecht nebeneinander.

Kreise sie ein.

81	4	83	54	6	9	32	27	36	19	4	40
2	30	72	37	47	28	9	5	7	35	28	10
15	7	3	21	98	20	4	6	33	28	19	4
7	100	5	78	90	11	5	5	25	20	56	37
97	8	40	5	8	98	24	72	34	0	8	23
67	24	6	1	69	60	65	9	4	59	7	35
57	23	6	78	40	100	54	8	56	16	38	29
3	10	36	18	6	3	16	29	2	94	74	30
27	73	93	7	42	64	55	3	48	8	6	5
3	1	39	5	6	63	7	9	94	62	57	10
9	63	79	9	9	40	51	5	92	44	40	2
1	52	7	45	6	7	91	12	2	6	65	20
10	10	100	0	52	7	85	28	30	47	4	58
45	28	2	85	83	49	15	4	28	37	4	91
7	94	5	4	72	59	65	7	2	19	16	22



Schreibe die Rechnungen mit den richtigen Rechenzeichen ab.

- Du findest 10 waagrechte und 10 senkrechte Rechnungen.
- Du findest 9 Malrechnungen und 11 Geteiltrechnungen.
- Du findest Rechnungen mit folgenden Ergebnissen: 3, 4, 6, 6, 7, 7, 8, 8, 9, 9, 9, 16, 20, 21, 25, 35, 36, 45, 49, 100.