




Geteiltrechnungen mit 3er-, 5er- und 9er-Reihen


 Suche 20 Rechnungen. Es sind immer drei Zahlen mit dem Ergebnis. Sie liegen waagrecht oder senkrecht nebeneinander.



Kreise sie ein.

15	5	22	3	6	37	7	27	5	78	90	1
3	19	34	45	5	9	97	3	12	34	35	98
5	83	4	73	53	6	67	9	68	1	5	60
54	20	5	4	38	81	57	23	45	78	7	0
16	29	2	94	74	9	9	72	9	8	62	93
55	15	58	83	34	9	3	73	93	7	25	64
27	5	6	3	2	79	3	1	39	68	5	70
51	3	92	44	40	22	63	9	7	29	5	40
91	46	82	3	63	85	1	52	7	81	6	90
85	54	30	5	6	18	79	29	53	0	52	82
40	9	20	37	54	9	45	24	3	8	83	40
5	6	2	19	65	2	36	94	72	4	72	59
8	4	21	3	7	6	9	27	5	83	49	59
2	30	72	37	47	28	4	92	12	3	4	11
15	7	93	77	98	20	19	6	33	28	19	65




Schreibe die Rechnungen mit den richtigen Rechenzeichen ab.

 Du findest 9 waagrechte und 11 senkrechte Rechnungen.


  Du findest Rechnungen mit folgenden Ergebnissen: 2, 2, 3, 3, 4, 4, 4, 5, 5, 6, 6, 7, 7, 7, 8, 8, 8, 9, 9, 9.



Geteiltrechnungen mit 2er-, 7er- und 8er-Reihen

 Suche 20 Rechnungen. Es sind immer drei Zahlen mit dem Ergebnis. Sie liegen waagrecht oder senkrecht nebeneinander.

Kreise sie ein.



51	5	20	3	6	63	7	73	16	8	2	1
24	19	34	0	1	7	97	8	14	2	7	98
65	35	4	73	53	9	67	24	28	7	4	60
54	7	56	72	8	9	57	16	45	78	21	0
16	5	2	94	74	63	30	2	27	70	7	93
55	3	64	83	32	8	4	8	93	7	3	64
27	5	8	62	57	79	90	1	39	10	6	70
51	5	8	44	6	2	3	63	79	29	41	40
91	42	82	3	63	85	1	52	56	84	6	90
85	7	30	56	64	58	79	29	7	0	12	82
15	6	28	8	54	91	45	28	8	85	2	40
65	17	9	7	65	48	7	94	72	4	6	59
81	4	83	92	37	8	40	27	5	83	59	49
2	8	2	4	47	6	62	92	40	8	5	7
15	7	93	5	92	20	19	6	33	28	19	7




Schreibe die Rechnungen mit den richtigen Rechenzeichen ab.

- Du findest 8 waagrechte und 12 senkrechte Rechnungen.
- Du findest Rechnungen mit folgenden Ergebnissen: 2, 3, 3, 4, 4, 4, 5, 5, 6, 6, 6, 7, 7, 7, 8, 8, 8, 9, 9, 10.



Geteiltrechnungen mit allen Reihen

 Suche 20 Rechnungen. Es sind immer drei Zahlen mit dem Ergebnis. Sie liegen waagrecht oder senkrecht nebeneinander.

Kreise sie ein.

15	5	3	20	65	37	7	100	5	78	90	1
24	72	34	0	8	23	97	8	40	5	8	98
65	9	4	35	7	5	67	24	36	1	69	60
54	8	56	16	38	29	57	23	6	78	40	0
16	29	2	94	74	30	3	10	6	4	62	93
55	3	48	8	6	5	27	73	93	7	42	64
27	5	94	62	57	79	3	1	39	45	6	70
51	5	92	44	40	22	9	63	79	9	9	40
91	18	2	9	16	85	1	52	7	5	6	63
85	28	30	47	4	58	100	10	10	0	52	7
15	4	28	37	4	91	45	28	5	85	83	9
65	7	2	19	65	22	7	94	2	4	72	59
81	4	83	54	6	9	32	27	36	9	4	60
2	30	72	37	47	28	8	92	77	85	28	10
15	21	3	7	98	20	4	6	33	28	19	6



Schreibe die Rechnungen mit den richtigen Rechenzeichen ab.

- Du findest 10 waagrechte und 10 senkrechte Rechnungen.
- Du findest Rechnungen mit folgenden Ergebnissen: 2, 3, 4, 4, 4, 5, 5, 6, 6, 6, 7, 7, 8, 8, 9, 9, 9, 9, 10, 10.