



**Verdoppeln im Zahlenraum bis 100**


 Suche 10 Zahlpaare. Die zweite Zahl ist doppelt so groß wie die erste. Sie liegen waagrecht oder senkrecht nebeneinander.  Kreise sie ein.



18	15	30	61	75	80	10	20	19	25	90	73
34	70	38	97	18	14	2	99	45	4	73	26
27	90	26	11	69	82	96	10	60	54	24	19
41	35	40	16	39	2	74	63	39	61	48	56
13	70	63	0	86	77	12	27	70	80	94	38
26	31	48	62	58	30	24	80	1	24	42	95
84	63	2	4	65	10	0	18	83	75	72	68
39	62	10	17	67	23	7	100	25	50	91	50
37	20	41	45	27	6	43	64	36	12	74	100
55	37	40	93	36	30	60	16	38	16	99	57


 Du findest 5 waagrechte und 5 senkrechte Zahlenpaare.

**Verdoppeln im Zahlenraum bis 100**

 Suche 15 Zahlpaare. Die zweite Zahl ist doppelt so groß wie die erste. Sie können auch schräg (diagonal) nebeneinanderliegen.  Kreise sie ein.




11	15	16	61	24	1	16	18	49	7	71	38	22	21	92
62	69	30	15	70	0	32	35	25	95	10	17	49	42	70
14	5	39	10	23	84	10	53	43	86	41	25	17	61	19
15	67	53	16	6	65	82	20	67	81	64	31	37	50	48
87	54	65	52	60	29	16	23	19	24	48	66	87	10	52
8	82	46	35	70	75	12	4	27	5	39	20	3	32	50
45	90	8	54	3	27	14	0	44	55	18	3	18	84	100
3	67	71	90	7	15	2	100	88	67	42	33	66	5	29
64	10	22	63	89	5	16	27	0	82	96	99	1	54	90
95	48	4	30	81	64	93	100	33	16	18	20	92	61	13
69	50	12	60	70	56	10	75	8	70	34	0	84	12	24
11	85	4	10	28	71	91	100	1	49	84	33	74	72	42

 Du findest 6 waagrechte, 5 senkrechte und 4 diagonale



## Malrechnungen mit 3er-, 6er- und 10er-Reihen

 Suche 30 Rechnungen. Es sind immer drei Zahlen mit dem Ergebnis.  
Sie können auch schräg (diagonal) nebeneinanderliegen.

Kreise sie ein.



29	1	83	4	91	30	37	81	63	48	100	49	20	100	2
15	58	3	4	9	2	4	6	24	6	19	27	10	12	3
27	83	61	3	20	39	62	82	73	91	2	10	20	63	6
71	38	3	10	30	56	83	28	9	93	6	90	6	35	82
15	3	47	56	2	60	4	49	6	82	26	19	10	10	73
50	10	49	60	91	37	10	81	54	5	10	50	60	3	50
15	81	6	60	72	55	40	49	91	48	72	91	29	30	93
32	10	2	6	12	1	0	29	9	89	100	0	10	11	51
15	81	63	16	69	6	3	18	3	19	37	62	90	4	0
6	6	36	18	6	48	12	60	27	5	50	71	38	3	20
15	2	90	3	7	10	70	81	53	7	6	42	4	12	38
15	58	2	33	3	83	16	67	88	45	72	30	27	2	18
89	3	19	8	78	81	8	10	80	30	81	5	7	29	72
15	91	84	3	90	62	73	81	47	48	80	2	3	65	85
28	30	70	24	62	49	30	52	18	57	8	28	21	71	54
15	94	32	5	10	48	82	6	5	60	27	3	87	92	10
5	3	15	82	0	100	3	71	9	70	98	6	80	51	61
15	2	37	30	8	6	48	99	9	10	100	77	6	59	16
44	39	1	49	92	81	29	42	50	47	90	10	5	36	67



Schreibe die Rechnungen mit den richtigen Rechenzeichen ab.

😊 Du findest 12 waagrechte, 9 senkrechte und 9 diagonale Rechnungen.

😊😊 Du findest Rechnungen mit folgenden Ergebnissen: 3, 6, 6, 9, 12, 12, 15, 18, 18, 20, 21, 24, 24, 27, 30, 30, 30, 36, 36, 40, 42, 48, 50, 54, 60, 60, 70, 80, 90, 100

