

Inhalt

Geldbeträge bestimmen – Kommaschreibweise	4
Geldbeträge schreiben und vergleichen	12
Geldbeträge vergleichen und umwandeln	16
Geldbeträge in Tabellen berechnen	20
Sparen – Restgeld ermitteln.	24
Einkaufen – Rückgeld berechnen	27
Schriftlich addieren mit Kommazahlen	33
Schrittweise addieren mit Geldbeträgen	36
Schriftlich subtrahieren mit Kommazahlen	44
Lösungen	47

Differenzierungsstufen



einfachere Aufgaben



schwierigere Aufgaben

Geldbeträge bestimmen – Kommaschreibweise



Sprich: „fünf Euro fünfundzwanzig Cent“
„fünf Euro fünfundzwanzig“

ohne Komma: 5 € 25 ct

mit Komma: 5,25 €



Wie viel Geld ist es? Schreibe die Geldbeträge ohne und mit Komma auf.



ohne Komma: € ct

mit Komma: €




ohne Komma: € ct

mit Komma: €



ohne Komma: € ct

mit Komma: €



ohne Komma: € ct



mit Komma: €



Geldbeträge schreiben und vergleichen



1 Wie viel Geld ist es? Schreibe die Geldbeträge auf.



ohne Komma:

mit Komma:

ohne Komma:

mit Komma:

2 **Vergleiche** die Geldbeträge der Aufgabe 1. **Kreise** den größeren Geldbetrag ein.

3 Schreibe die Geldbeträge in die Tabelle.

	Euro			Cent	
	100 €	10 €	1 €	10 ct	1 ct
407 € 9 ct					
681 € 75 ct					
367 € 90 ct					
199 € 25 ct					
509 € 6 ct					
873 € 15 ct					
203 € 2 ct					
620 € 50 ct					

4 **Kreise** gleiche Geldbeträge mit der gleichen Farbe ein.

0,80 €	45 ct	412 € 90 ct	0,45 €
412 € 9 ct	743,09 €	305 € 7 ct	80 ct
370 ct	305,07 €	3,70 €	267 € 31 ct
412,90 €	267,31 €	412,09 €	743 € 9 ct



Einkaufen – Rückgeld berechnen



Ergänze die Tabellen.

a)



Preis des Einkaufs	gegeben	Ergänze am Rechenstrich.	Rückgeld ohne Komma	Rückgeld mit Komma
26,75 €	27,00 €	<div style="text-align: center;"> <div style="border: 1px solid black; padding: 2px; display: inline-block;">25 ct</div> <div style="display: flex; justify-content: space-between; width: 100%;"> 26,75 € 27,00 € </div> </div>	0 € 25 ct	0,25 €
26,75 €	50,00 €	<div style="text-align: center;"> <div style="display: flex; justify-content: space-around; width: 100%;"> ct € </div> <div style="display: flex; justify-content: space-between; width: 100%;"> </div> </div>	€ ct	
26,75 €	100,00 €	<div style="text-align: center;"> <div style="display: flex; justify-content: space-around; width: 100%;"> ct € </div> <div style="display: flex; justify-content: space-between; width: 100%;"> </div> </div>	€ ct	


b)


















Preis des Einkaufs	gegeben	Ergänze am Rechenstrich.	Rückgeld ohne Komma	Rückgeld mit Komma
158,52 €	159,00 €	<div style="text-align: center;"> <div style="border: 1px solid black; padding: 2px; display: inline-block;">ct</div> <div style="display: flex; justify-content: space-between; width: 100%;"> </div> </div>	€ ct	
158,52 €	160,00 €	<div style="text-align: center;"> <div style="display: flex; justify-content: space-around; width: 100%;"> ct € </div> <div style="display: flex; justify-content: space-between; width: 100%;"> </div> </div>	€ ct	
158,52 €	200,00 €	<div style="text-align: center;"> <div style="display: flex; justify-content: space-around; width: 100%;"> ct € </div> <div style="display: flex; justify-content: space-between; width: 100%;"> </div> </div>	€ ct	



Einkaufen – Rückgeld berechnen



Ergänze die Tabelle.

Preis des Einkaufs	Du gibst:	Rückgeld ohne Komma	Rückgeld mit Komma
 38,50 €	39,00 €	<input type="text"/> ct <input type="text"/> €	<input type="text"/>
 38,50 €	40,00 €	<input type="text"/> ct <input type="text"/> €	<input type="text"/>
 38,50 €	100,00 €	<input type="text"/> ct <input type="text"/> €	<input type="text"/>
 38,50 €	200,00 €	<input type="text"/> ct <input type="text"/> €	<input type="text"/>
 133,90 €	134,00 €	<input type="text"/> ct <input type="text"/> €	<input type="text"/>
 133,90 €	150,00 €	<input type="text"/> ct <input type="text"/> €	<input type="text"/>
 133,90 €	200,00 €	<input type="text"/> ct <input type="text"/> €	<input type="text"/>
 133,90 €	300,00 €	<input type="text"/> ct <input type="text"/> €	<input type="text"/>
 165,45 €	166,00 €	<input type="text"/> ct <input type="text"/> €	<input type="text"/>
 165,45 €	170,00 €	<input type="text"/> ct <input type="text"/> €	<input type="text"/>
 165,45 €	200,00 €	<input type="text"/> ct <input type="text"/> €	<input type="text"/>
 165,45 €	300,00 €	<input type="text"/> ct <input type="text"/> €	<input type="text"/>
 337,81 €	338,00 €	<input type="text"/> ct <input type="text"/> €	<input type="text"/>
 337,81 €	400,00 €	<input type="text"/> ct <input type="text"/> €	<input type="text"/>
 337,81 €	500,00 €	<input type="text"/> ct <input type="text"/> €	<input type="text"/>

