

# Zähle genau

1. Wie viele sind es? 




\_\_\_\_\_ Sterne

\_\_\_\_\_ Kugeln

\_\_\_\_\_ Engel

2. Wie viele sind es? 





\_\_\_\_\_ Talerhaufen

\_\_\_\_\_ Keksteller









\_\_\_\_\_ Zuckerstangen

3. Verbinde die Schneebälle mit dem richtigen Kind. 









# Der Weihnachtseinkauf

1. a. Bernd sucht ein Wichtelgeschenk für seine Klassenkameradin Selma. Was kann er kaufen? Kreise ein. 

b. Was würdest du für 8 Euro als Wichtelgeschenk davon aussuchen? 

2. Jonas kauft Weihnachtsgeschenke. Wie viele Euro bekommt er zurück? 



Jonas kauft:	Er bezahlt:	Er bekommt zurück:
		$10 \text{ €} - 5 \text{ €} = \underline{\hspace{2cm}}$
		$20 \text{ €} - \underline{\hspace{2cm}} = \underline{\hspace{2cm}}$
		$\underline{\hspace{2cm}} - \underline{\hspace{2cm}} = \underline{\hspace{2cm}}$

# Hilfe für den Weihnachtsmann

Der Weihnachtsmann findet den Weg zum Weihnachtsbaum nicht.  
Mit Vierschritten kann er zum Weihnachtsbaum gelangen.

Rechne die Aufgaben aus. Hilf dem Weihnachtsmann, den Weg zu finden, indem du Aufgabenfelder mit den Ergebnissen der 4er-Reihe (4 bis 40) gelb anmalst.



	$66 + 8 - 70 =$ _____	$72 : 9 =$ _____	$9 \cdot 3 - 20 =$ _____
$13 + 8 - 16 =$ _____	$4 \cdot 8 - 27 =$ _____	$2 \cdot 3 \cdot 2 =$ _____	$6 \cdot 7 - 29 =$ _____
$7 \cdot 5 - 2 =$ _____	$5 + 42 - 27 =$ _____	$98 - 12 - 70 =$ _____	$3 \cdot 5 + 6 =$ _____
$2 \cdot 8 + 3 =$ _____	$7 \cdot 3 + 3 =$ _____	$2 \cdot 8 + 6 =$ _____	$40 + 4 - 14 =$ _____
$74 - 50 + 8 =$ _____	$45 : 5 + 19 =$ _____	$54 : 6 + 20 =$ _____	$5 \cdot 8 =$ _____
$6 \cdot 6 =$ _____	$6 \cdot 5 + 3 =$ _____	$41 - 3 \cdot 3 =$ _____	$81 : 9 + 33 =$ _____
$74 - 52 + 18 =$ _____		$70 - 5 \cdot 4 =$ _____	$10 + 3 \cdot 9 =$ _____

# Weihnachtliche Sachrechenaufgaben zur Multiplikation

Rechne auf einem extra Blatt Papier oder in deinem Heft.



## 1. Weihnachtseinkauf

Milan und Mama gehen für Heiligabend einkaufen. Sie kaufen drei Packungen Würstchen für 8 Euro pro Stück. Außerdem kaufen sie zwei Säcke Kartoffeln für 5 Euro und drei Gläser Mayonnaise für 4 Euro.

Wie viel kostet der Einkauf insgesamt?



## 2. So viele Socken!

Oma Sabine strickt für jeden ihrer sieben Enkel drei Paar warme Socken in ihren Lieblingsfarben.

Wie viele Sockenpaare strickt Oma Sabine?



Wie viele einzelne Socken strickt Oma Sabine insgesamt?



## 3. Weihnachtsbaum

Julia schmückt den Weihnachtsbaum. Sie hat drei Packungen mit roten Kugeln und zwei Packungen mit goldenen Kugeln. In jeder Packung sind 8 Kugeln enthalten. Außerdem hängt sie noch 15 Strohsterne auf.

Wie viel Weihnachtsbaumschmuck hängt am Baum, wenn Julia fertig ist?



## 4. Glückliche Katze

Sabrina kauft Futter und Geschenke für ihre Katze Kira. Auch sie soll an Weihnachten etwas Schönes unter dem Weihnachtsbaum finden. Kira liebt Knusperkugeln, sodass Sabrina sieben Packungen davon kaufen möchte. Jede Packung kostet 3 Euro. Außerdem möchte sie noch zwei verschiedene Spielbälle kaufen, die jeweils 7 Euro kosten. Sabrina hat 30 Euro.



Reicht ihr Geld für die Geschenke?

