




Tafelbild:

	<p>Der Zahlenstrahl bis 20</p>	<p><u>Zahlenstrahl-Tipps:</u></p> <p>Beispiele für Tipps:</p> <ol style="list-style-type: none"><li>1. Die großen Striche sind die 10er.</li><li>2. Es sind immer 5er-Schritte.</li><li>3. Jeder Strich steht für eine Zahl.</li><li>4. ...</li></ol>
--	--------------------------------	---

Abbildung: Zahlenstrahl für die Zahlenrallye




**Anmerkung für die Lehrerin:** Auf dem Zahlenstrahl, der im oder vor dem Klassenzimmer aufgehängt wird, müssen diese Buchstaben stehen. Es empfiehlt sich, die Buchstaben, die auch auf dem leichteren Arbeitsblatt zu finden sind (A bis F), so auf dem Zahlenstrahl zu verteilen, dass die Zehnerzahlen und die Zahlen 5 und 15 vorkommen. Der Zahlenstrahl kann eigenständig auf großes Papier aufgezeichnet werden oder KV 3 kann am Kopierer vergrößert und aneinander gehängt werden.


**Variation:** Für Schüler, die lernzieldifferent unterrichtet werden, können auch nur Zahlen im Zahlenraum bis 10 gewählt werden oder es kann ein zusätzliches Arbeitsblatt mit noch weniger Buchstaben erstellt werden. Die Methode ähnelt der Übungsform „Laufdiktat“.




12



17




19



15



20



14



**Der Zahlenstrahl bis 20**

Trage die fehlenden Zahlen ein. Kontrolliere genau und zähle nach.

**Der Zahlenstrahl bis 20**

Trage die fehlenden Zahlen ein. Kontrolliere genau und zähle nach.



- Markiere die Zehnerzahlen farbig.
- Welche Zahlen kannst du halbieren? Findest du die Plusaufgabe? Schreibe auf deinen Block.

## Zahlenrallye

Für welche Zahl auf dem Zahlenstrahl stehen die folgenden Buchstaben?

Suche dir einen Buchstaben aus, gehe zum Zahlenstrahl, suche die passende Zahl und schreibe sie an deinem Platz auf. Benutze deinen ausgefüllten Zahlenstrahl.



Buchstabe	Zahl
A	
B	
C	
D	
E	
F	
G	
H	
K	
L	
M	
N	