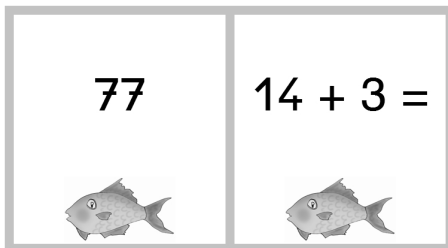


Inhalt

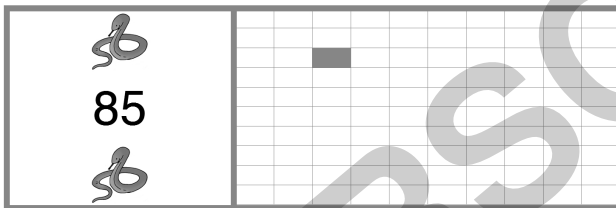
Erläuterungen 4

Domino-Set

Dominos Teil 1 – Addition und Subtraktion mit und ohne Zehnerüberschreitung 6




Dominos Teil 2 – Zahl im Hunderterfeld finden 22




Dominos Teil 3 – Rechnen mit Symbolen 31
























Dominos Teil 4 – Rechnen mit Symbolen und Zahlen 40
























Domino 1 (Fische) Addition ohne Zehnerüberschreitung

Start 	$31 + 6 =$ 	37 	$75 + 2 =$ 
77 	$14 + 3 =$ 	17 	$86 + 1 =$ 
87 	$55 + 4 =$ 	59 	$42 + 7 =$ 
49 	$68 + 0 =$ 	68 	$23 + 6 =$ 
29 	$94 + 3 =$ 	97 	Ende 



Domino 14 (Frösche) Subtraktion mit Zehnerüberschreitung

Start 	$13 - 7 =$ 	6 	$22 - 5 =$ 
17 	$63 - 4 =$ 	59 	$84 - 7 =$ 
77 	$66 - 9 =$ 	57 	$26 - 7 =$ 
19 	$16 - 9 =$ 	7 	$74 - 5 =$ 
69 	$85 - 9 =$ 	76 	Ende 