


Vorwort	4
----------------------	---




Das Bronze-Training

Kennenlernen von Münzen und Scheinen	5
Welche Münzen gibt es wirklich?	8
Welche Scheine gibt es wirklich?	9
Euro oder Cent?	10
Geld nach Wert sortieren	11
Geldbeträge bestimmen	13
Geldbeträge vergleichen	17
Einkaufen (ohne Kommaschreibweise)	18
Vorgegebene Geldbeträge malen	19
Generalprobe für die Bronze-Prüfung	20
Bronze-Prüfung	22



Das Silber-Training

Geldbeträge ergänzen	24
Geld wechseln	26
Mit Geldbeträgen rechnen (ohne Kommaschreibweise)	29
Textaufgaben (ohne Kommaschreibweise)	36
Einführung der Kommaschreibweise	37
Geldbeträge bestimmen (mit Kommaschreibweise)	40
Geldbeträge vergleichen (mit Kommaschreibweise)	41
Geldbeträge malen (mit Kommaschreibweise)	43
Generalprobe für die Silber-Prüfung	44
Silber-Prüfung	46



Das Gold-Training

Umrechnung von Euro und Cent	48
Geldbeträge wechseln (mit Kommaschreibweise)	52
Geldbeträge nach Wert sortieren	54
Geldbeträge vergleichen	55
Runden von Geldbeträgen	56
Bezahlen (mit Kommaschreibweise)	58
Rechnen mit Überschlag	64
Geldbeträge ergänzen (mit Kommaschreibweise)	66
Textaufgaben (mit Kommaschreibweise)	69
Generalprobe für die Gold-Prüfung	70
Gold-Prüfung	72

Auswertungsbogen für Bronze, Silber, Gold	74
--	----



Geldbeträge vergleichen

1 Größer (>), kleiner (<) oder gleich (=) ? Setze ein.



_____ , _____ €



_____ , _____ €

_____ , _____ €




_____ , _____ €

_____ , _____ €



_____ , _____ €

2 Größer (>), kleiner (<) oder gleich (=) ? Setze ein.



3,00 € 230 ct
 170 ct 1,75 €
 0,80 € 800 ct
 400 ct 4 €
 560 ct 5 € 6 ct
 2,30 € 230 ct



320 ct 3,20 €
 0,45 € 45 ct
 60,00 € 600 ct
 7 € 23 ct 732 ct
 840 ct 8 € 40 ct
 42,70 € 4280 ct



Generalprobe für die Gold-Prüfung (2)

4 Runde auf volle Euro. 


4,27 €	≈	_____ €
0,89 €	≈	_____ €



91,08 €	≈	_____ €
75,50 €	≈	_____ €

5 Wie kannst du bezahlen? Benutze so wenig Scheine und Münzen wie möglich. 

37,89 €	
273,25 €	

6 Lisa hat 70 Euro. Sie möchte sich eine neue Hose für 32,89 €, ein T-Shirt für 11,99 € und ein paar Schuhe für 26,25 € kaufen. Reicht ihr Geld? 

Überschlag:

_____ € + _____ € + _____ € = _____ €

Exakte Rechnung:

						€
+						€
+						€
						€

Antwort:

Du bist bereit für die Gold-Prüfung.

Du bist noch nicht bereit für die Gold-Prüfung.



Name: _____ Datum: _____

1 Rechne richtig um. 

Cent	Euro und Cent	Kommazahl
324 ct	3 € 24 ct	3,24 €
587ct		
	8 € 67 ct	
		48,08 €
9685 ct		

2 Ordne die Geldbeträge der Größe nach. Beginne mit dem kleinsten Betrag. 

3 Größer $>$, kleiner $<$ oder gleich $=$? Setze ein. 

8,50 €	<input type="radio"/>	850 ct
0,94 €	<input type="radio"/>	940 ct
12 ct	<input type="radio"/>	1,20 €
6538 ct	<input type="radio"/>	6,86 €

546 ct	<input type="radio"/>	54,60 €
2,95 €	<input type="radio"/>	295 ct
1000 ct	<input type="radio"/>	10 €
17,24 €	<input type="radio"/>	1760 ct



Gold-Prüfung (2)

4 Runde auf volle Euro. 


8,33 €	≈	_____ €
61,53 €	≈	_____ €



0,76 €	≈	_____ €
89,19 €	≈	_____ €

5 Wie kannst du bezahlen? Benutze so wenig Scheine und Münzen wie möglich. 

46,78 €	
192,37 €	

6 Murat hat 90 Euro. Er möchte sich einen neuen Fußball für 26,99 Euro, ein Trikot für 18,25 Euro und ein paar Fußballschuhe für 55,22 Euro kaufen. Reicht sein Geld? 

Überschlag:

_____ € + _____ € + _____ € = _____ €

Exakte Rechnung:

						€
+						€
+						€
						€

Antwort:

Das war super! Bestanden. Das war gut. Bestanden. Leider noch nicht bestanden.