

Die Zeitabschnitte der Ur- und Frühgeschichte

Aufgabe 1

Trage die entsprechenden Zeitabschnitte der Ur- und Frühgeschichte ein. Notiere Stichpunkte, was sich in der Zeit entwickelt hatte.

Timeline segments (from top to bottom):


- ab 800 n. Chr. _____
- ab 800 v. Chr. _____
- ab 2200 v. Chr. _____
- ab 5000 v. Chr. _____
- ab 10000 v. Chr. _____
- ab 40000 v. Chr. _____
- ab 2,5 Mio v. Chr. _____

Die Mammutjagd

In der Steinzeit stellte die Jagd auf Großwild eine wichtige Nahrungsquelle für die Menschen dar. Die Jagd auf Mammuts war besonders ergiebig, da viele Teile eines Mammuts verwertet werden konnten. Man stellte daraus unterschiedliche lebensnotwendige Gegenstände her.

Aufgabe 1

Welche Teile wurden von den Steinzeitmenschen verwertet?



Aufgabe 2

Was wurde aus den zu verwertenden Teilen eines Mammuts (s. Aufg. 1) hergestellt?

Aufgabe 3

Was ist mit der Redewendung „Ich habe heute ein Mammut erlegt“ gemeint?

Jäger in der Altsteinzeit

Aufgabe 1

Welche Tiere wurden in der Altsteinzeit gejagt? Acht Tiernamen sind in dem folgenden Rätsel versteckt (senkrecht und waagerecht). Finde sie und kreise die Begriffe ein. Schreibe sie zusätzlich auf, um sie anschließend besser vergleichen zu können.

Q	G	E	A	C	B	P	Y	N	E	S	B	D	X	K
W	O	L	F	T	M	W	Q	U	M	W	O	T	M	E
S	E	C	S	Z	E	A	Z	A	F	Q	I	A	Z	L
N	O	H	O	E	H	L	E	N	B	A	E	R	G	P
K	B	V	J	F	N	D	M	U	W	U	X	N	O	D
R	X	L	O	E	W	E	T	F	A	P	A	C	M	R
E	C	D	G	W	A	L	Q	V	B	N	D	U	J	W
R	D	R	I	E	S	E	N	H	I	R	S	C	H	N
H	T	P	N	Q	X	F	I	Z	Q	F	Y	E	T	K
U	W	O	F	T	V	A	U	E	R	O	C	H	S	E
Y	S	B	I	K	R	N	J	X	C	D	G	Z	I	M
V	M	A	M	M	U	T	C	W	J	A	X	E	H	O

Aufgabe 2

Mit welchen Waffen jagten die Menschen in der Altsteinzeit?

Aufgabe 3

Welcher Begriff passt nicht in die jeweilige Reihe? Streiche ihn durch.

Waffen: Speer – Steinklinge – Sichel – Pfeilspitze – Wurfhölzer

Werkzeug: Messer – Schaber – Faustkeil – Dolch

Künstler der Steinzeit

Aufgabe 1

Beantworte die folgenden Fragen.

a) Wann wurden die Bilder in der Höhle von Altamira entdeckt?

b) Wer entdeckte die Bilder?


c) Was bedeutet das Wort „Altamira“?

d) Aus welchem Material haben die Höhlenmaler ihre Farben hergestellt?

e) Erkundige dich, warum die Höhle nicht mehr besichtigt werden darf.

Aufgabe 2

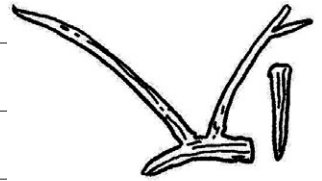
Schneide die Puzzleteile aus und setze sie richtig zusammen.



Der Getreideanbau

Aufgabe 1

Welche Geräte wurden für den Getreideanbau eingesetzt und für was?





Aufgabe 2

Welche vier Getreidesorten wurden hauptsächlich in der Steinzeit angebaut?

Aufgabe 3

Warum ist es praktisch unmöglich, Brot lediglich aus Gerstenmehl zu backen?

Von der Altsteinzeit zur Jungsteinzeit

Aufgabe 1

Ordne die folgenden 20 Begriffe der entsprechenden Zeit zu:

Jäger, Warmzeit, sesshaft, Mammut, Birken, Bauern, Getreide, Geweih, Eiszeit, Nomaden, Fachwerkhäuser, Zelte, Viehzucht, Töpferei, Wildpferde, Sammler, Rentier, Weizen, Höhlen, Flachs.

Altsteinzeit	Jungsteinzeit

Aufgabe 2

Löse das folgende Rätsel:

The crossword puzzle grid consists of 10 numbered starting points for clues:

- 1**: Horizontal, 10 cells
- 2**: Horizontal, 6 cells
- 3**: Horizontal, 8 cells
- 4**: Vertical, 4 cells
- 5**: Vertical, 5 cells
- 6**: Horizontal, 7 cells
- 7**: Vertical, 3 cells
- 8**: Vertical, 2 cells
- 9**: Horizontal, 6 cells
- 10**: Vertical, 4 cells

- 1 In welcher Zeit war der Mensch Sammler?
- 2 Der Mensch wurde in der Jungsteinzeit ...
- 3 Was war das erste Werkzeug der Menschen?
- 4 Aus welchem Material wurden Pfeilspitzen hergestellt?
- 5 Wie nannte man den Menschen vor 200.000 bis 30.000 Jahren?
- 6 Was wurde aus den Sehnen eines Mammuts hergestellt?
- 7 Wer wurde am 19.09.1991 entdeckt?
- 8 Nenne das wichtigste Material für den Hausbau.
- 9 Aus welchem Material war die Kleidung der Menschen in der Altsteinzeit?
- 10 Welche Erfindung der Jungsteinzeit beschleunigte die Herstellung von Waffen und Werkzeugen?