

# Inhalt

	<u>Seite</u>
Die Himmelsrichtungen	5 - 7
Bundesrepublik Deutschland	8 - 11
Bayern	12 - 14
Baden-Württemberg	15 - 17
Bremen	18 - 20
Hamburg	21 - 23
Hessen	24 - 26
Brandenburg	27 - 29
Berlin	30 - 32
Nordrhein-Westfalen	33 - 35
Niedersachsen	36 - 38
Mecklenburg-Vorpommern	39 - 41
Rheinland-Pfalz	42 - 44
Sachsen	45 - 47
Saarland	48 - 50
Sachsen-Anhalt	51 - 53
Thüringen	54 - 56
Schleswig-Holstein	57 - 59



# Vorwort

Liebe Kolleginnen und Kollegen,

das Feld „Inklusion“ rückt immer mehr in den Bereich der Regelschulen und gerade im Bereich der Geografie ist das Material rar. Das hat mich ermutigt, mein über Jahre gesammeltes Material neu zu sortieren und zu veröffentlichen.

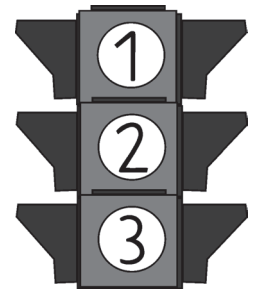
DAS Kind mit einer Lernbehinderung gibt es nicht; der Grad der Lernbehinderung ist so unterschiedlich wie die Kinder selbst.

Nur, welche Anforderungen müssen die Kinder an einer Regelschule leisten? Wie hoch darf ich meinen Anspruch „schrauben“? Wie weit muss ich in meinen Erwartungen runter gehen? Diese Fragen stellt man sich meist, wenn man ein Kind mit einer Lernbehinderung nun in einem Klassenverband der Regelschule sitzen hat.

Die Antwort ist eigentlich recht einfach: Die zu bietenden Leistungen des Kindes sind der Anspruch der Lehrer•in. Viel zentraler ist, dass die Kinder dabei sind, dass das Thema das Gleiche ist.

Dazu ein kurzes Beispiel: Die Klasse liest im Geografiebuch etwas zu den verschiedenen Bundesländern. Die SuS bearbeiten die Aufgaben und übertragen ggf. Abbildungen in ihr Heft. Schon beim Lesen beginnt oft die Hürde für ein Kind mit einer Lernbehinderung. Andere können „vorlesen“ und erfassen den inhaltlichen Sinn nicht, andere könnten den Inhalt erfassen, wenn der Text etwas einfacher und kürzer wäre. Aber was das Wesentliche ist: Alle Kinder beschäftigen sich mit dem gleichen Thema, nur jeder auf eine andere Art und Weise.

Da Sie die Kinder mit einer Lernbehinderung am besten beurteilen können, haben wir jedes Thema in drei Niveaustufen aufbereitet. Die Ampel signalisiert die Niveaustufen von 1 (ganz grundlegendes Niveau) bis 3 (inhaltlich selbst erfassendes Niveau).



Und nun wünschen wir Ihnen viel Erfolg beim Einsatz unserer Kopiervorlagen- und Ideensammlung.

Der Kohl-Verlag und

**Anni Kolvenbach**



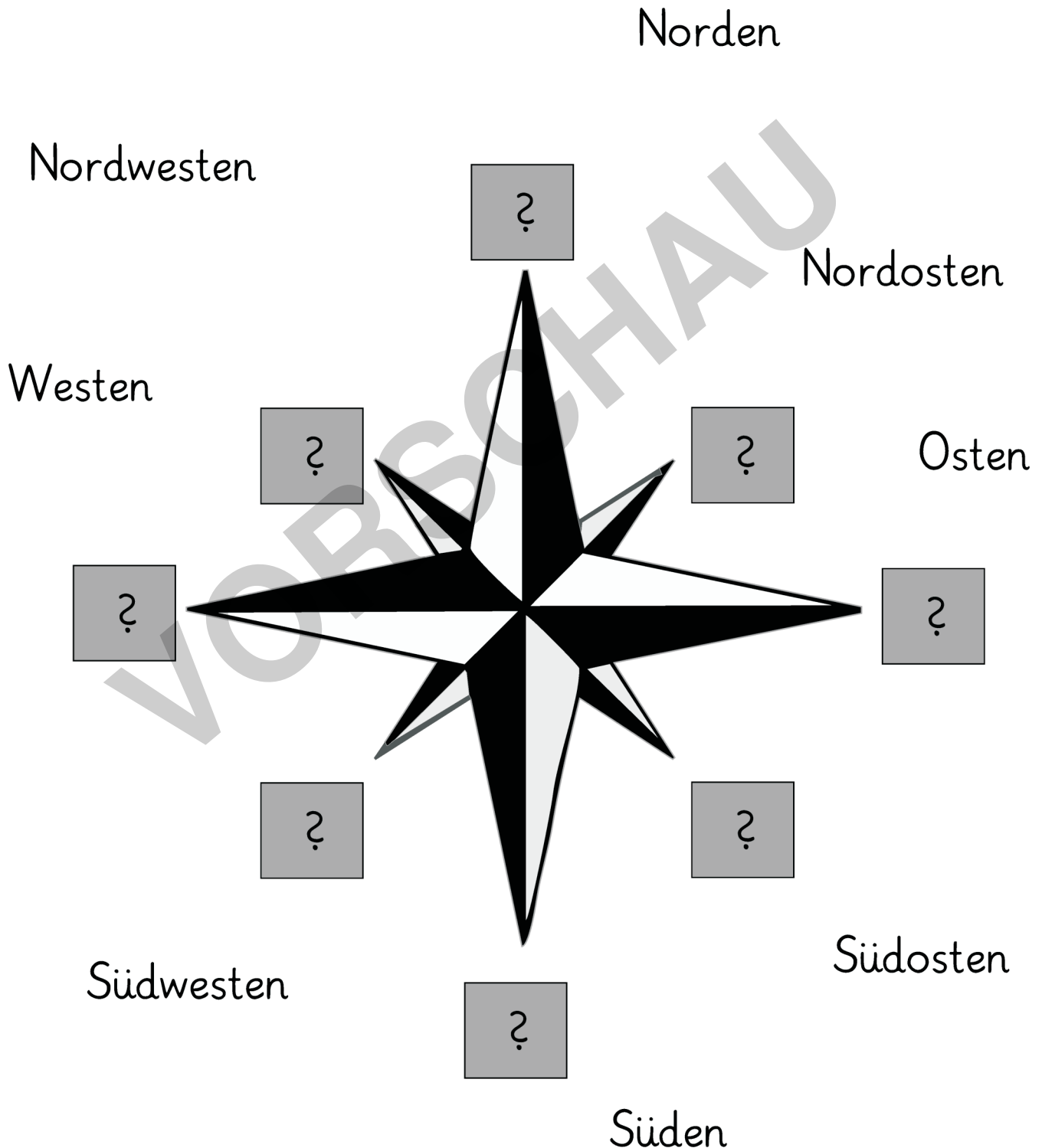
Name: \_\_\_\_\_

Klasse: \_\_\_\_\_



## Die Himmelsrichtungen

Aufgabe: Verbinde.



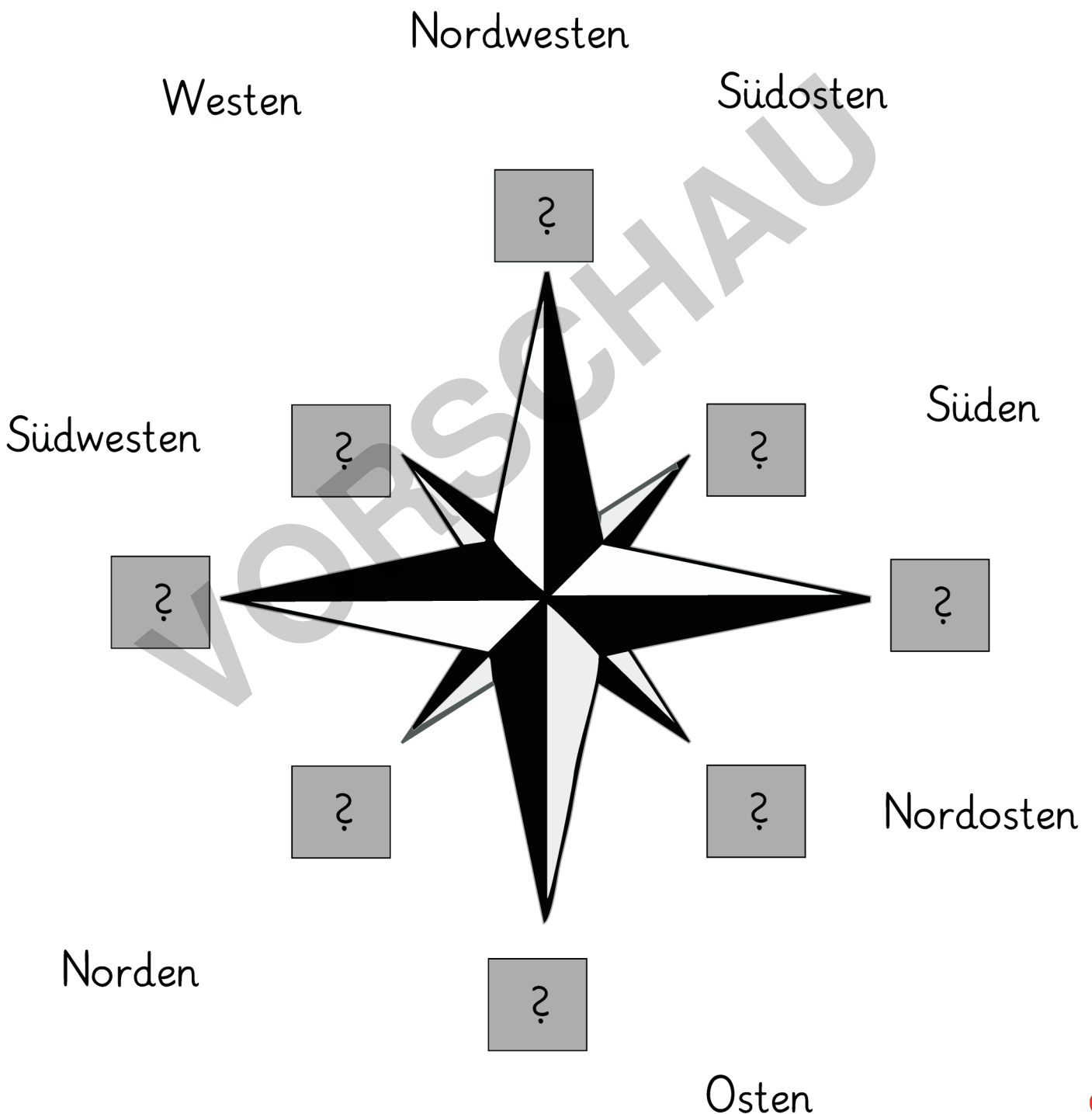
Name: \_\_\_\_\_

Klasse: \_\_\_\_\_



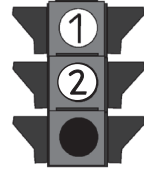
## Die Himmelsrichtungen

Aufgabe: Verbinde.



Name: \_\_\_\_\_

Klasse: \_\_\_\_\_



# Bundesrepublik Deutschland

Aufgabe: Ordne zu und klebe ein.



Arbeitsblatt  
vergrößern auf



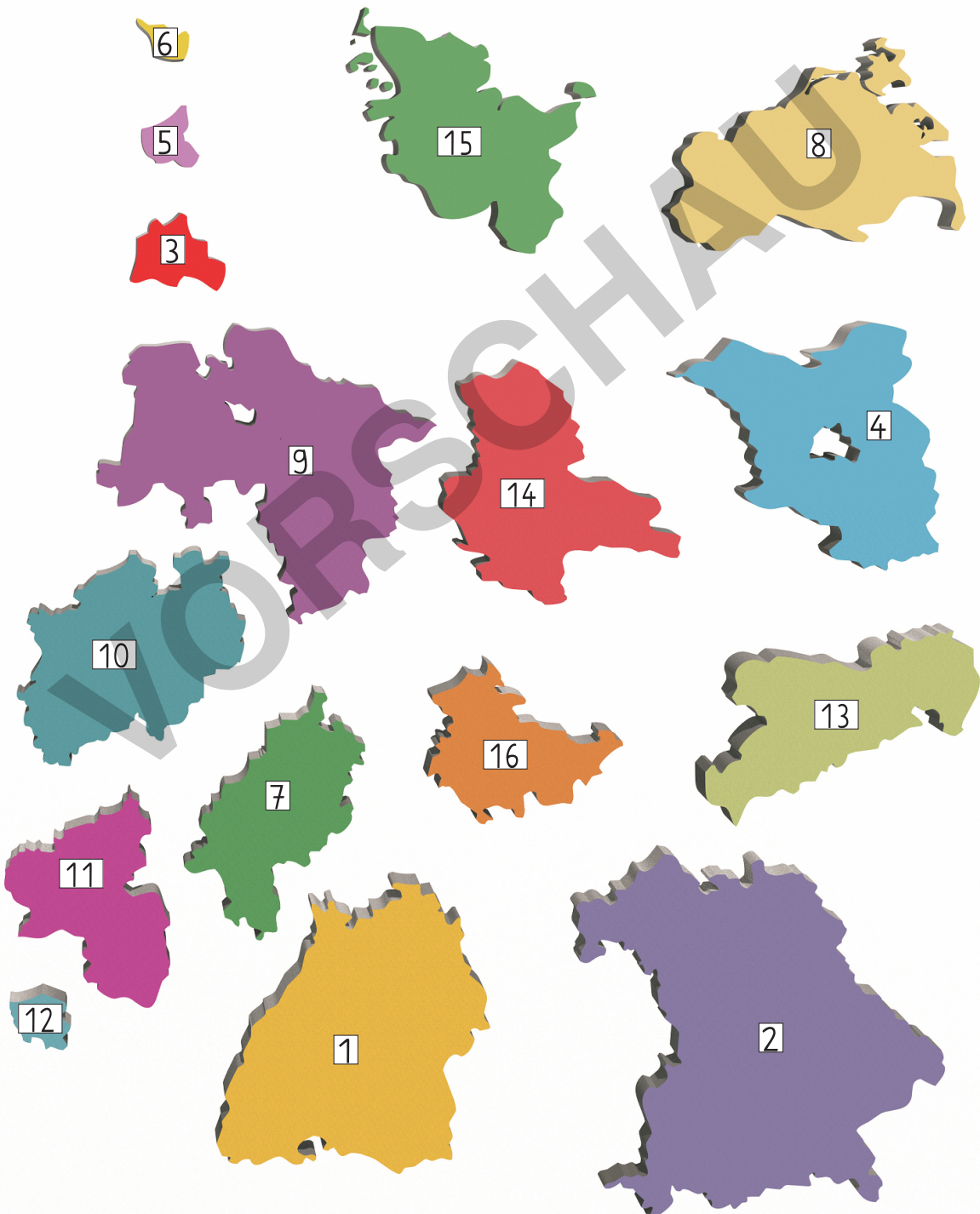
Name: \_\_\_\_\_

Klasse: \_\_\_\_\_



# Bundesrepublik Deutschland

Aufgabe: Um welches Bundesland handelt es sich?



Name: \_\_\_\_\_

Klasse: \_\_\_\_\_



## Brandenburg

Aufgabe: Lies den Text und fülle den Lückentext aus.

Das Bundesland Brandenburg liegt im Nordosten Deutschlands. In Brandenburg leben ungefähr 2,5 Millionen Menschen. Neben Brandenburg liegt das Land Polen. Die Landeshauptstadt ist Potsdam. Das Stadtschloss ist berühmt. Es sieht sehr mächtig und edel aus.

Mitten im Bundesland Brandenburg liegt ein eigenes Bundesland: der Stadtstaat Berlin.



Das Bundesland Brandenburg liegt im \_\_\_\_\_ Deutschlands. In Brandenburg leben ungefähr \_\_\_\_\_ Menschen. Neben Brandenburg liegt das Land \_\_\_\_\_. Die Landeshauptstadt ist \_\_\_\_\_. Das \_\_\_\_\_ ist berühmt. Im Bundesland Brandenburg liegt der Stadtstaat \_\_\_\_\_.

Stadtschloss - Nordosten - Berlin - 2,5 Millionen - Polen - Potsdam

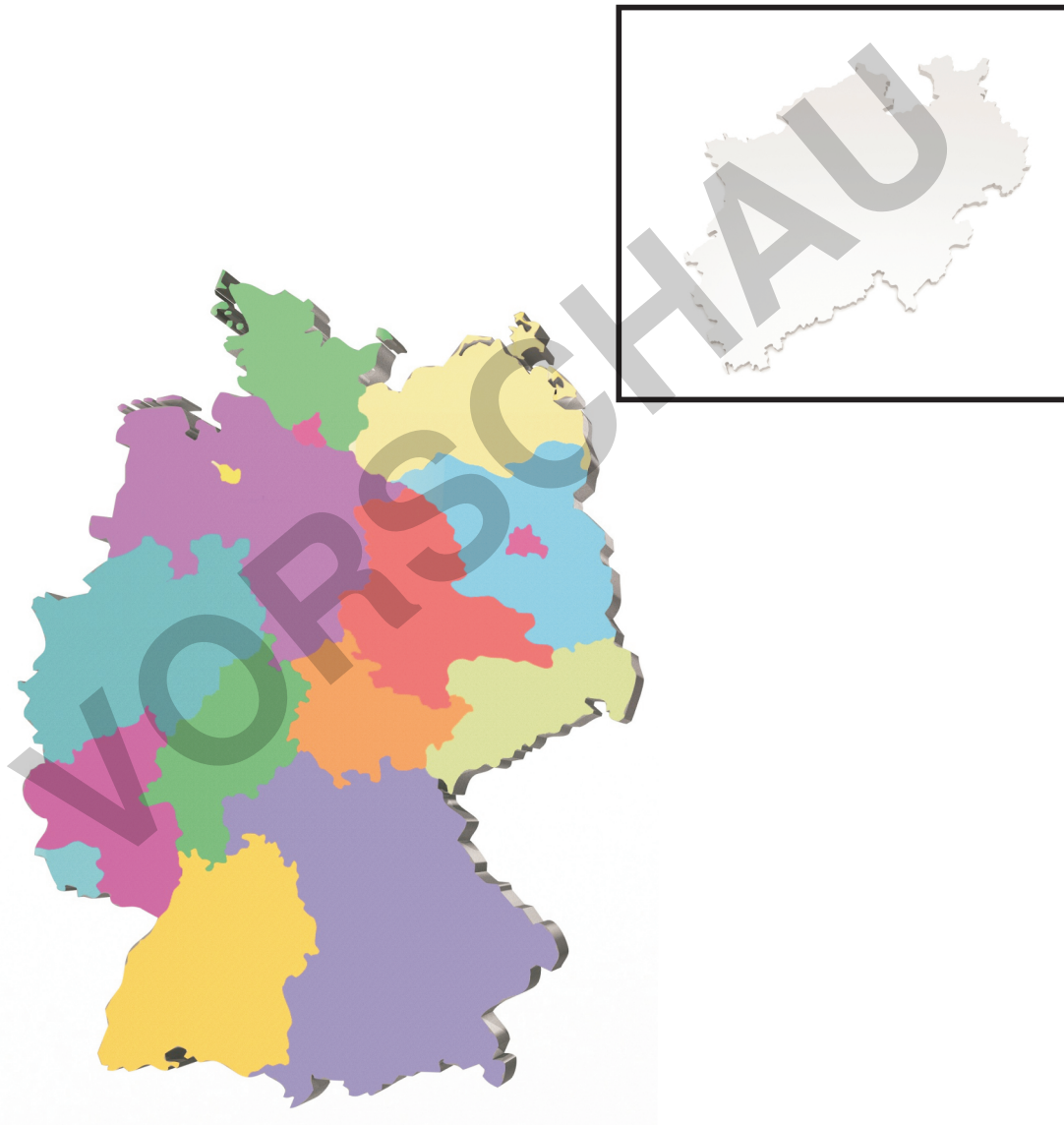
Name: \_\_\_\_\_

Klasse: \_\_\_\_\_



# Nordrhein-Westfalen

Aufgabe: Wo liegt Nordrhein-Westfalen? Verbinde.





Name: \_\_\_\_\_

Klasse: \_\_\_\_\_



# Nordrhein-Westfalen

Aufgabe: Wo liegt Nordrhein-Westfalen? Verbinde.



Aufgabe: Schneide aus und ordne zu.

Bundesland	<input type="text"/>	
Es leben hier	<input type="text"/>	Menschen
Hauptstadt	<input type="text"/>	

Nordrhein-Westfalen

18Mio.

Düsseldorf

Name: \_\_\_\_\_

Klasse: \_\_\_\_\_



## Nordrhein-Westfalen

Aufgabe: Lies den Text. Fülle den Lückentext aus.

Das Bundesland Nordrhein-Westfalen liegt im Westen Deutschlands. In

Nordrhein-Westfalen leben ungefähr 18

Millionen Menschen. Es ist das Bundesland, wo

die meisten Menschen leben. Das Bundesland

grenzt an die Länder Belgien und Niederlande.

Ganz bekannt ist der Kölner Dom mit seinen zwei

Türmen. Die Landeshauptstadt ist aber Düsseldorf. Berühmt ist der Rheinturm. Auch

die vielen Brücken sind berühmt. Sie führen über den Rhein. Das ist der Fluss, der an

Düsseldorf vorbeifließt.



Das Bundesland Nordrhein-Westfalen liegt im \_\_\_\_\_ Deutschlands. In

Nordrhein-Westfalen leben ungefähr \_\_\_\_\_ Menschen. Das

Bundesland grenzt an die Länder \_\_\_\_\_ und \_\_\_\_\_.

Die Landeshauptstadt ist \_\_\_\_\_.

Berühmt ist der \_\_\_\_\_.

18 Millionen - Düsseldorf - Niederlande - Rheinturm - Westen - Belgien