

**Der Nil: Quelle des Lebens 1****Aufgabe 1**

Wie lang ist der Nil? \_\_\_\_\_

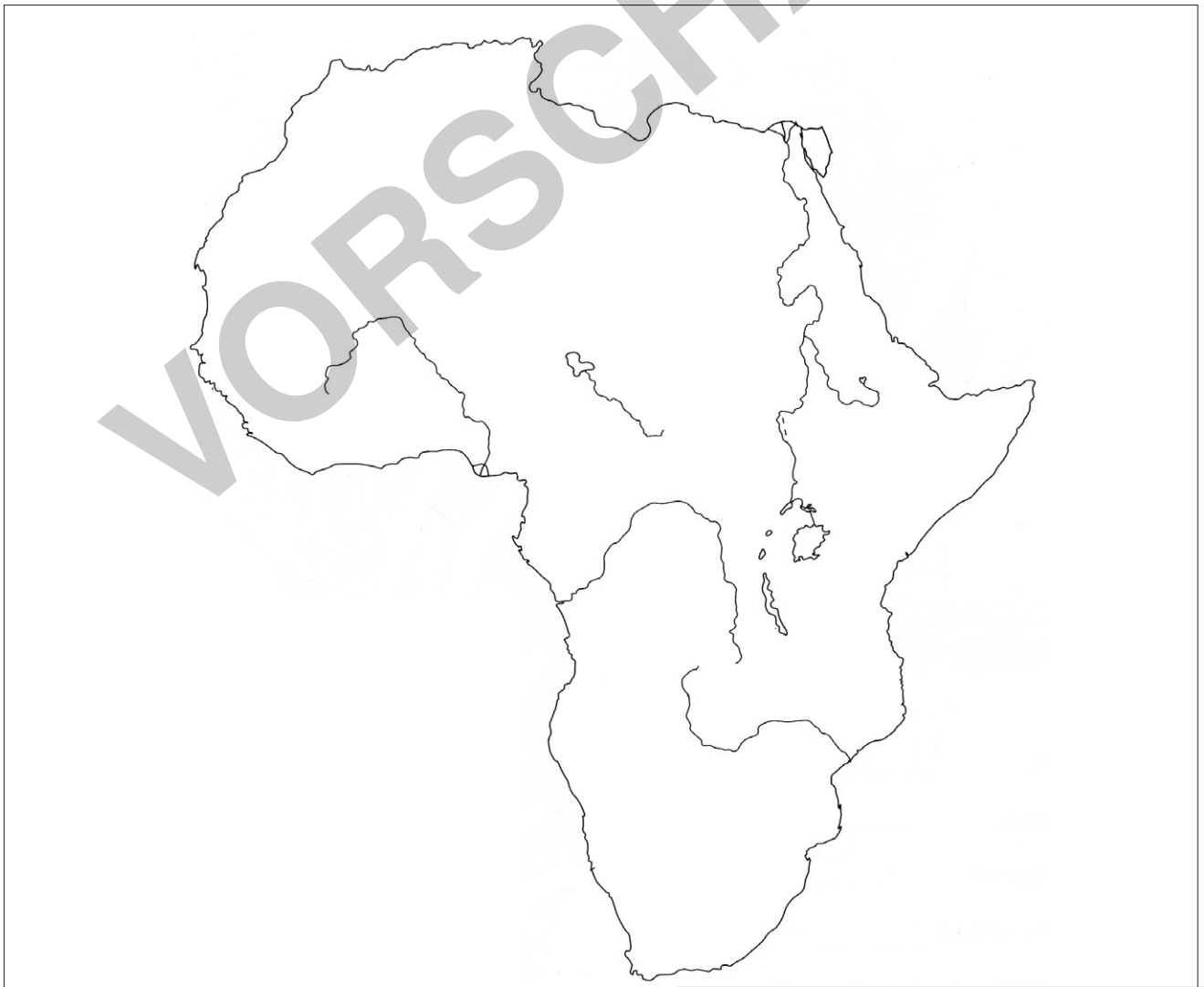
**Aufgabe 2**

Durch welche Länder fließt der Nil? Schau im Atlas nach.

1. \_\_\_\_\_
2. \_\_\_\_\_
3. \_\_\_\_\_
4. \_\_\_\_\_
5. \_\_\_\_\_
6. \_\_\_\_\_

**Aufgabe 3**

Zeichne mit einem Buntstift den Nil in der Karte nach.



## Die Herrschaft des Pharao

### Aufgabe 1

Der Pharao regierte Ägypten. Ihm gehörte das ganze Land. Seinen Befehlen mussten die Menschen gehorchen. Prüfe die folgenden Aussagen und kreuze die richtigen an. Es gibt jeweils nur eine richtige Antwort.

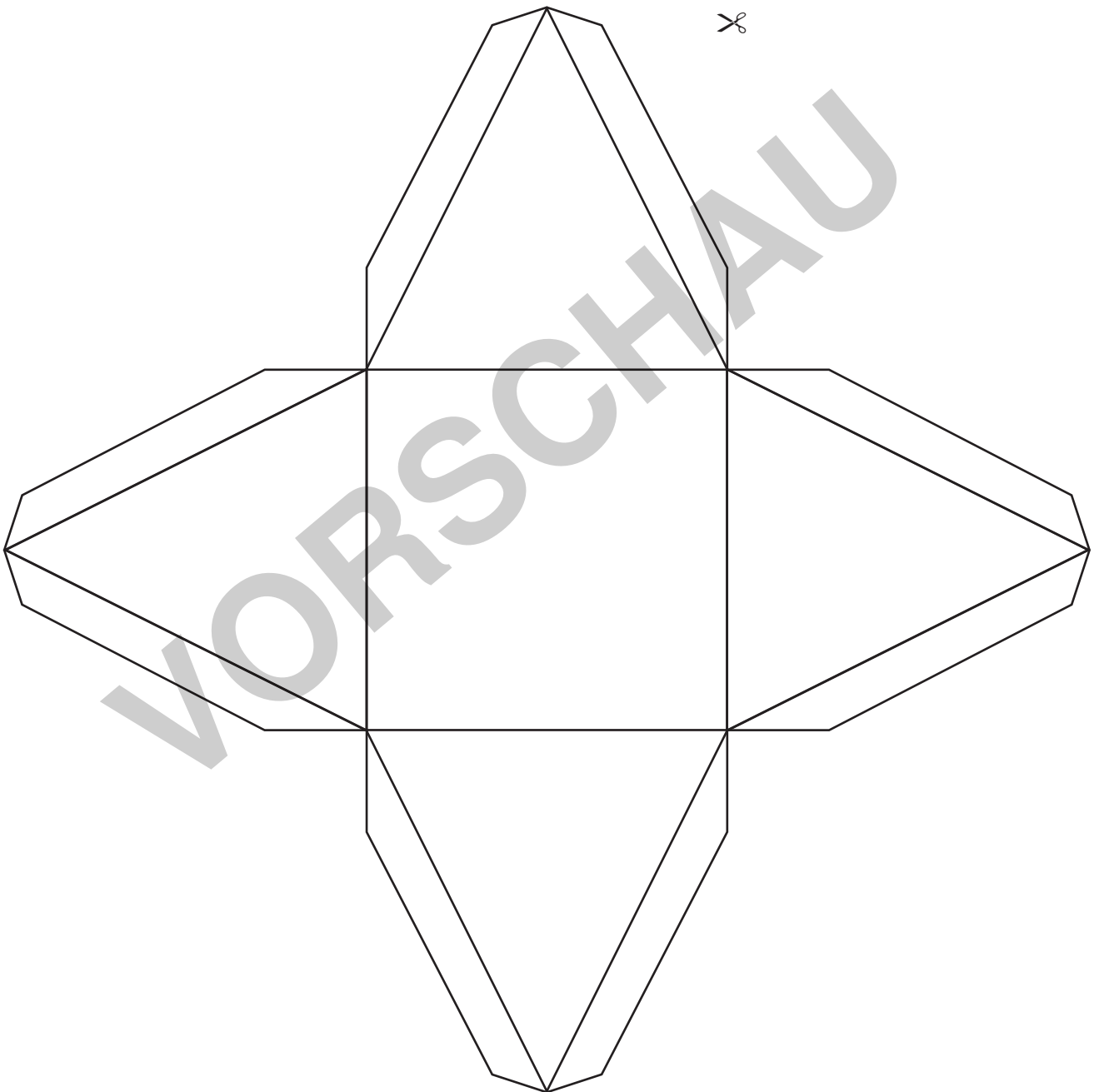
<b>1. Die Anzahl der Pharaonen betrug</b>	<b>2. Der Begriff Pharao heißt wörtlich</b>
<input type="checkbox"/> ungefähr 20.	<input type="checkbox"/> großes Haus.
<input type="checkbox"/> ungefähr 100.	<input type="checkbox"/> Herrscher.
<input type="checkbox"/> ungefähr 300.	<input type="checkbox"/> Feldherr.
<b>3. Der heute bekannteste Pharao ist</b>	<b>4. Der Pharao wurde verehrt als</b>
<input type="checkbox"/> Ramses II.	<input type="checkbox"/> Sohn der Götter.
<input type="checkbox"/> Tutanchamun.	<input type="checkbox"/> Botschafter des Friedens.
<input type="checkbox"/> Nofretete.	<input type="checkbox"/> Medizinmann.
<b>5. Der Pharao war</b>	<b>6. Die erste Pharaonin hieß</b>
<input type="checkbox"/> der Einzige, der schreiben konnte.	<input type="checkbox"/> Hatschepsut.
<input type="checkbox"/> der oberste Befehlshaber.	<input type="checkbox"/> Kleopatra.
<input type="checkbox"/> arm und besitzlos.	<input type="checkbox"/> Teje.
<b>7. Kein Zeichen des Pharaos war</b>	<b>8. Diese Krone gab es nicht:</b>
<input type="checkbox"/> der Krummstab.	<input type="checkbox"/> Kriegskrone.
<input type="checkbox"/> der Spitzbart.	<input type="checkbox"/> Friedenskrone.
<input type="checkbox"/> die Sichel.	<input type="checkbox"/> Doppelkrone für Ober- u. Unterägypten.

## Der Bau der Pyramiden

### Aufgabe 1

Schneide diese Vorlage aus und bastle deine eigene Pyramide.

#### Bastelbogen Pyramide



## Der Aufbau des ägyptischen Staates

Im alten Ägypten wurden die wichtigen Entscheidungen vom Pharao getroffen. Ihm gehörte alles. Deswegen wurde er auch als Stellvertreter des Sonnengottes Re auf der Erde verehrt. Er konnte die Bevölkerung zum Arbeitsdienst für den Staat verpflichten.

### Aufgabe 1

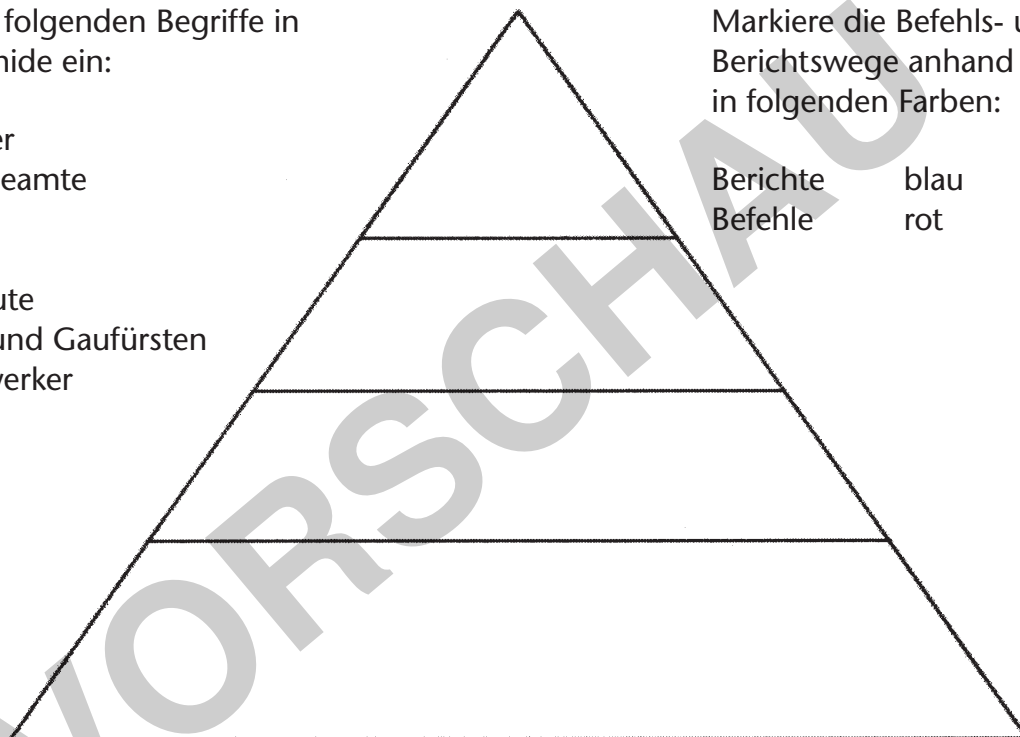
Nenne die einzelnen Stufen der ägyptischen Gesellschaft. Zeige anhand von Pfeilen auf, welche Befehls- und Berichtswege eingehalten werden mussten.

Setze die folgenden Begriffe in die Pyramide ein:

- Arbeiter
- Unterbeamte
- Bauern
- Pharao
- Kaufleute
- Wesir und Gaufürsten
- Handwerker

Markiere die Befehls- und Berichtswege anhand von Pfeilen in folgenden Farben:

Befehle      blau  
Berichte      rot



### Aufgabe 2

Ägypten war der erste Staat in der Geschichte der Menschheit. Es herrschte eine strenge Hierarchie. Erkläre den Begriff Hierarchie.

\_\_\_\_\_

### Aufgabe 3

Auch du kennst in deinem Umfeld hierarchische Systeme. Nenne ein Beispiel.

\_\_\_\_\_

## Das Totengericht

### Aufgabe 1

Ergänze den Lückentext.


*Unschuld – Anubis – Totenreich – der Totenfresserin – Halle der Wahrheit –  
die Götter – die Waage*

Der Tote wurde von dem Gott \_\_\_\_\_ in die  
\_\_\_\_\_ geführt. Dort musste der Verstorbene zunächst  
\_\_\_\_\_ ehrfurchtsvoll begrüßen und anschließend eine Vertei-  
digungsrede halten und seine \_\_\_\_\_ beteuern. Der Gott Osiris  
war der oberste Richter. Der Gott Thot war Schriftführer und der Gott Anubis bediente  
\_\_\_\_\_. Auf die eine Seite wurde das Herz des Toten gelegt, auf  
die andere Seite eine Figur der Göttin der Wahrheit und des Rechtes. Blieb die Waage im  
Gleichgewicht, durfte der Tote ins \_\_\_\_\_ einziehen. Senkte sich  
die Waage zu Ungunsten des Verstorbenen, wurde er von einem krokodilköpfigen Unge-  
heuer, \_\_\_\_\_, verschlungen.

### Aufgabe 2

Wer ist wer? Notiere an der passenden Stelle die Nummern:

1 Anubis, 2 Thot, 3 Osiris, 4 der Tote, 5 Totenfresserin, 6 Horus



## Ein Toter wird zur Mumie

### Aufgabe 1

Bringe den Vorgang der Mumifizierung in Ägypten in die richtige Reihenfolge, indem du die einzelnen Schritte nummerierst.

	Entfernung der Eingeweide
	Dritte Waschung der Leiche
	Ausstopfung der Körperhöhlen
	Entfernung des Gehirns durch die Nasenlöcher
	Zweite Waschung der Leiche
	Letzte Vorbereitungen vor dem Bandagieren
	Erste Waschung der Leiche
	Besondere Behandlung bestimmter Körperteile (z. B. Nägel)
	Salbung der Leiche und der Organe nach der Entwässerung
	Eingießen von Salböl in den Schädel
	Bandagierung der Mumie (15 Tage)
	Entwässerung der Leiche und der Eingeweide durch Natron (35 bis 40 Tage)
	Verschluss des Einschnitts

### Aufgabe 2

Finde heraus, ob auch heute noch Menschen mumifiziert werden.

---



---