

# Wir entdecken EUROPA



Arbeitsblätter

Rätsel

Lernzielkontrolle



netzwerk  
lernen

zur Vollversion

# Wir entdecken EUROPA – Arbeitsmaterialien im Überblick

**Wir entdecken unseren Kontinent**

**Wie groß ist Europa?**

Flächenmäßig der  
 kleinste  
 zweitkleinste  
Kontinent. Nach  
Zahl der Einwohner  
auf Rang \_\_\_\_

**Wo liegt Europa?**

Auf der Weltkarte erkennen wir: >  
Europa ist kein eigenständiger  
Kontinent wie Afrika oder Australien,  
sondern der westliche Ausläufer  
von \_\_\_\_  
Man spricht daher auch von Eurasien.

**Wo fängt Europa an - wo hört es auf?**

Die Satellitenkarte zeigt uns: >  
Europa wird von drei Seiten vom Meer  
umsenft im Norden, Westen u. Süden



**EUROPA –**

- 1 Meer im NW
- 2 Meer im Norden
- 3 Meerenge zw. Mittelmeer & Schw
- 4 Meerenge zwischen Europa und
- 5 Inselgruppe im westlichen Mitte
- 6 Insel im NW (größte Vulkaninsel)
- 7 Insel der Britischen Inseln
- 8 Italienische Insel (westl. von Ital
- 9 Insel an der Südspitze Italiens
- 10 Insel im SO Europas
- 11 Französische Insel



## 2 Arbeitsblätter

für die Erarbeitung  
der Lerninhalte

## Lernzielkontrolle

zur schriftl.  
Überprüfung

## 2 Rätsel

zum spielerischen  
Wiederholen



## 1 Foto

Mont Blanc



## Reliefkarte

zum Üben und  
mündl. Abfragen



## 2 Umrisskarten

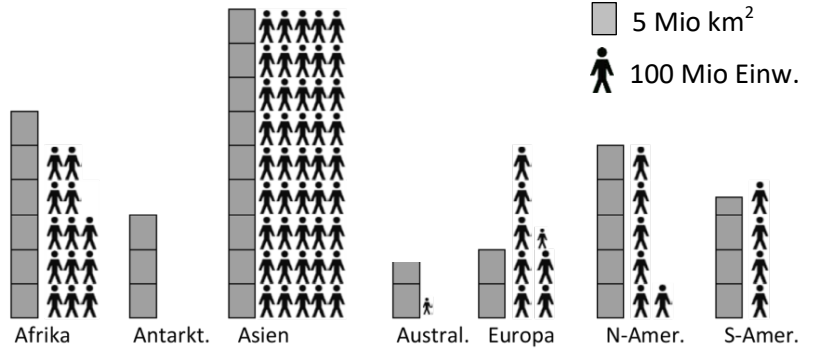
zur Gestaltung  
eigener Materialien

# Wir entdecken unseren Kontinent – EUROPA (1)

Wie groß ist Europa? >



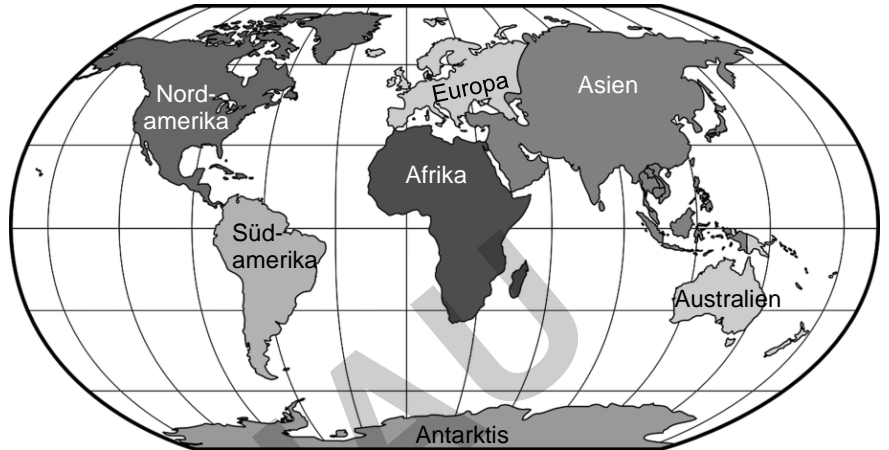
Flächenmäßig der  
 kleinste  
 zweitkleinste  
 Kontinent. Nach  
 Zahl der Einwohner  
 auf Platz \_\_\_\_.



Wo liegt Europa?

Auf der Weltkarte erkennen wir: >  
 Europa ist kein eigenständiger  
 Kontinent wie Afrika oder Australien,  
 sondern der westliche Ausläufer  
 von \_\_\_\_\_.

Man spricht daher auch von Eurasien.



Wo fängt Europa an - wo hört es auf?

Die Satellitenkarte zeigt uns: Europa  
 wird von drei Seiten vom Meer umspült  
 Doch, wo ist die Grenze im Osten?  
 Zwei Gebirge gelten als Grenze:

Ur \_\_\_\_\_

Ka \_\_\_\_\_

Was trennt Europa von Afrika u. Asien?

- Die Straße von \_\_\_\_\_
- Der \_\_\_\_\_

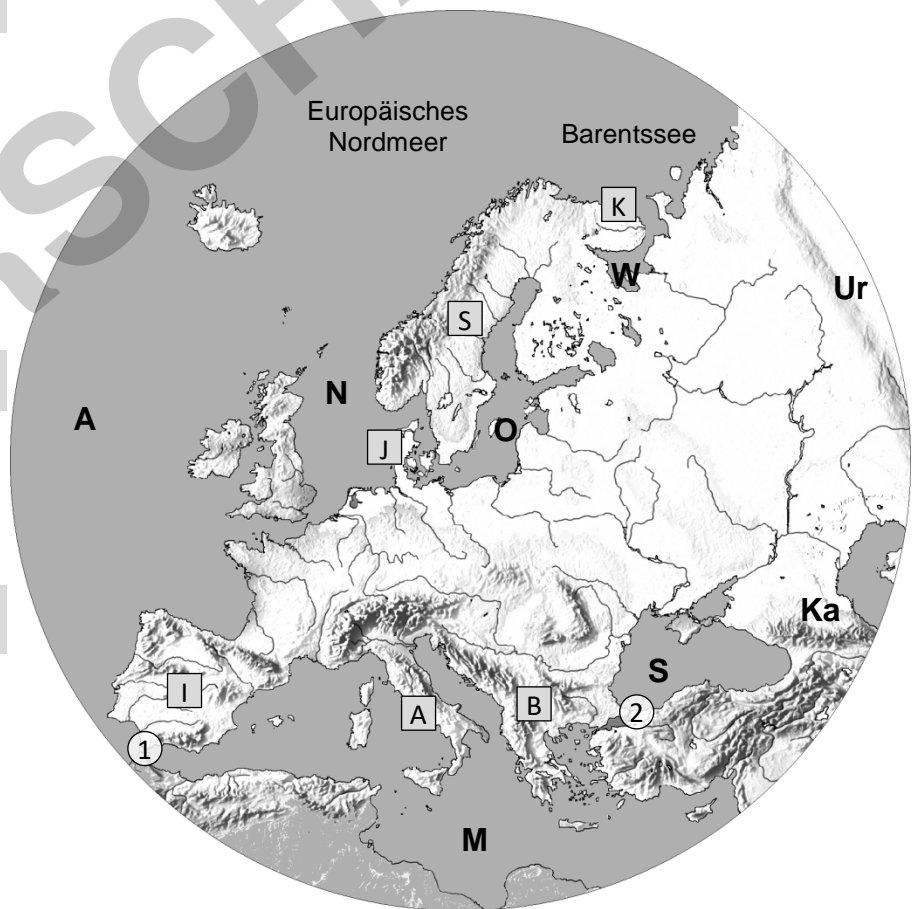
An welche Meere grenzt Europa?

Im N: W \_\_\_\_\_ Meer;

O \_\_\_\_\_; N \_\_\_\_\_

Im W: A \_\_\_\_\_ Ozean

Im S: M \_\_\_\_\_ meer; S \_\_\_\_\_ M.



Wie heißen die großen Halbinseln?

Mountain High Maps® Copyright © 1993 Digital Wisdom®, Inc.

Im Norden > S  
 T l d K  
 A

netzwerk  
 lernen

zur Vollversion





Wo liegen diese Gebirge?

- A - Alpen
  - AP - Apenninen
  - B - Balkangebirge
  - D - Dinarisches Geb.
  - K - Karpaten
  - S - Skandinavisches Gebirge
- ▲ Der Mont Blanc in den Alpen gilt als höchster Berg Europas (4 810 m)



Mountain High Maps® Copyright © 1993 Digital Wisdom®, Inc.

Wie heißt die Insel / Inselgruppe ...



- |  |                                    |   |
|--|------------------------------------|---|
| 1 ... im äußersten Nordwesten Europas?       | <input type="checkbox"/> Island    | <input type="checkbox"/> Grönland         |
| 2 ... westl. von Großbritannien?             | <input type="checkbox"/> Shetland  | <input type="checkbox"/> Irland           |
| 3 ... vor der Nordwestküste Europas?         | <input type="checkbox"/> Nordinsel | <input type="checkbox"/> Großbritannien   |
| 4 ... im westl. Mittelmeer vor Spanien?      | <input type="checkbox"/> Balearen  | <input type="checkbox"/> Spanische Inseln |
| 5 ... vor Italien; sie gehört zu Frankreich? | <input type="checkbox"/> Korsika   | <input type="checkbox"/> Korfu            |
| 6 ... im westlichen Mittelmeer vor Italien?  | <input type="checkbox"/> Sardinien | <input type="checkbox"/> Salina           |
| 7 ... vor der Südspitze Italiens?            | <input type="checkbox"/> Capri     | <input type="checkbox"/> Sizilien         |
| 8 ... etwa 80 km südlich von Sizilien?       | <input type="checkbox"/> Elba      | <input type="checkbox"/> Malta            |
| 9 ... ca. 100 km südlich von Griechenland?   | <input type="checkbox"/> Kreta     | <input type="checkbox"/> Korfu            |
| 10 ... im östlichen Mittelmeer?              | <input type="checkbox"/> Zypern    | <input type="checkbox"/> Zakyntos         |

Wie heißt der Fluss?



- a Er ist mit 3 685 km der längste Fluss in Europa.
- b Über 2 850 km fließt der zweitlängste Fluss durch Europa.
- c Der Fluss in Nordspanien mündet ins Mittelmeer.
- d Es ist der längste Fluss Frankreichs.
- e Er gilt als eine der bedeutendsten Wasserstraßen Europas.


..... **Lernzielkontrolle** aus der Erdkunde am ..... Klasse.....

SchülerIn ..... erreichte ..... Punkte = NOTE .....

1. Benenne folgende Meere und Meeresstraßen

1 = .....

2 = .....

3 = .....

4 = .....

5 = .....

2. Trage in die Karte wie folgt ein:

a = die Halbinsel **KOLA**

b = die Insel **ISLAND**

c = die Inselgruppe der **Balearen**

d = die **Karpaten** (Gebirge)

e = **Schwarzes Meer**

f = **Ebro** (Fluss)

g = **Volga**

3. Wie heißt ...?

3.1 der höchste Berg Europas? - .....

3.2 das Gebirge zwischen Schwarzem Meer und Kaspischem Meer? - .....

3.3 das Grenzgebirge zwischen Frankreich und Spanien? - .....



Die Lernzielkontrolle liegt in zwei Dateiformaten vor:

1. als PDF-Datei
2. als veränderbare Word-Datei

**Hinweis!**

Um Missbrauch durch `fündige` Schüler zu vermeiden, wurden wesentliche Inhalte verdeckt.

# EUROPA – Rätsel 1

(Variante 1: keine Lösungshilfen)



Bild von GraphioMama-team auf Pixabay

- 1 Meer im NW
- 2 Meer im Norden
- 3 Meerenge zw. Mittelmeer & Schwarzem M.
- 4 Meerenge zwischen Europa und Afrika


- 5 Inselgruppe im westlichen Mittelmeer
- 6 Insel im NW (größte Vulkaninsel der Welt)
- 7 Insel der Britischen Inseln
- 8 Italienische Insel (westl. von Italien)
- 9 Insel an der Südspitze Italiens
- 10 Insel im SO Europas
- 11 Französische Insel
- 12 Griechische Insel


- 13 Halbinsel im Südwesten
- 14 Halbinsel im Norden
- 15 Halbinsel im Norden
- 16 Halbinsel im Schwarzen Meer


- 17 Hochgebirge
- 18 Gebirge in Italien
- 19 Gebirge am Schwarzen Meer
- 20 Gebirge in Osteuropa
- 21 Höchster Berg in Europa
- 22 Gebirge zw. Frankreich und Spanien
- 23 Grenzgebirge zwischen Europa und Asien


- 24 Zweitlängster Fluss in Europa
- 25 Fluss in Spanien
- 28 Fluss in Frankreich
- 27 Grenzfluss zw. Deutshl. und Frankreich
- 26 Längster Fluss in Europa


# EUROPA – Rätsel 1

(**Variante 2**: Anfangsbuchst. als **Lösungshilfen**)



Bild von GraphioMama-team auf Pixabay

- |   |   |   |  |  |  |  |  |  |
|---|---|---|--|--|--|--|--|--|
| 1 | <b>Meer im NW</b>                                 | N |  |  |  |  |  |  |
| 2 | <b>Meer im Norden</b>                             | O |  |  |  |  |  |  |
| 3 | <b>Meerenge zw. Mittelmeer &amp; Schwarzem M.</b> | B |  |  |  |  |  |  |
| 4 | <b>Meerenge zwischen Europa und Afrika</b>        | G |  |  |  |  |  |  |

- |    |  |   |  |  |  |  |  |  |
|----|--|---|--|--|--|--|--|--|
| 5  | <b>Inselgruppe im westlichen Mittelmeer</b>      | B |  |  |  |  |  |  |
| 6  | <b>Insel im NW (größte Vulkaninsel der Welt)</b> | I |  |  |  |  |  |  |
| 7  | <b>Insel der Britischen Inseln</b>               | I |  |  |  |  |  |  |
| 8  | <b>Italienische Insel (westl. von Italien)</b>   | S |  |  |  |  |  |  |
| 9  | <b>Insel an der Südspitze Italiens</b>           | S |  |  |  |  |  |  |
| 10 | <b>Insel im SO Europas</b>                       | Z |  |  |  |  |  |  |
| 11 | <b>Französische Insel</b>                        | K |  |  |  |  |  |  |
| 12 | <b>Griechische Insel</b>                         | K |  |  |  |  |  |  |

- |    |                                    |   |  |  |  |  |  |  |
|----|------------------------------------|---|--|--|--|--|--|--|
| 13 | <b>Halbinsel im Südwesten</b>      | I |  |  |  |  |  |  |
| 14 | <b>Halbinsel im Norden</b>         | J |  |  |  |  |  |  |
| 15 | <b>Halbinsel im Norden</b>         | K |  |  |  |  |  |  |
| 16 | <b>Halbinsel im Schwarzen Meer</b> | K |  |  |  |  |  |  |

- |    |   |   |  |  |  |  |  |  |
|----|---|---|--|--|--|--|--|--|
| 17 | <b>Hochgebirge</b>                            | A |  |  |  |  |  |  |
| 18 | <b>Gebirge in Italien</b>                     | A |  |  |  |  |  |  |
| 19 | <b>Gebirge am Schwarzen Meer</b>              | K |  |  |  |  |  |  |
| 20 | <b>Gebirge in Osteuropa</b>                   | K |  |  |  |  |  |  |
| 21 | <b>Höchster Berg in Europa</b>                | M |  |  |  |  |  |  |
| 22 | <b>Gebirge zw. Frankreich und Spanien</b>     | P |  |  |  |  |  |  |
| 23 | <b>Grenzgebirge zwischen Europa und Asien</b> | U |  |  |  |  |  |  |

- |    |  |   |  |  |  |  |  |  |
|----|--|---|--|--|--|--|--|--|
| 24 | <b>Zweitlängster F</b>                         |   |  |  |  |  |  |  |
| 25 | <b>Fluss in Spanie</b>                         |   |  |  |  |  |  |  |
| 26 | <b>Fluss in Frankr</b>                         |   |  |  |  |  |  |  |
| 27 | <b>Grenzfluss zw. Deutschl. und Frankreich</b> | R |  |  |  |  |  |  |

Hinweis:

**Variante 2** des Rätsels ist **kostenlos**.

- |    |                                 |  |  |  |  |  |  |  |
|----|---------------------------------|--|--|--|--|--|--|--|
| 28 | <b>Längster Fluss in Europa</b> |  |  |  |  |  |  |  |
|----|---------------------------------|--|--|--|--|--|--|--|

# EUROPA – Rätsel 1

(Variante 3: Anfangssilben als Lösungshilfen)



Bild von GraphioMama-team auf Pixabay

- 1 Meer im NW
- 2 Meer im Norden
- 3 Meerenge zw. Mittelmeer & Schwarzem M.
- 4 Meerenge zwischen Europa und Afrika

N	O	R	D			
O	S	T				
B	O	S				
G	I					

- 5 Inselgruppe im westlichen Mittelmeer
- 6 Insel im NW (größte Vulkaninsel der Welt)
- 7 Insel der Britischen Inseln
- 8 Italienische Insel (westl. von Italien)
- 9 Insel an der Südspitze Italiens
- 10 Insel im SO Europas
- 11 Französische Insel
- 12 Griechische Insel

B	A					
I	S					
I	R					
S	A	R				
S	I					
Z	Y					
K	O	R				
K	R	E				

- 13 Halbinsel im Südwesten
- 14 Halbinsel im Norden
- 15 Halbinsel im Norden
- 16 Halbinsel im Schwarzen Meer

I	B	E				
J	U	E	T			
K	O					
K	R					

- 17 Hochgebirge
- 18 Gebirge in Italien
- 19 Gebirge am Schwarzen Meer
- 20 Gebirge in Osteuropa
- 21 Höchster Berg in Europa
- 22 Gebirge zw. Frankreich und Spanien
- 23 Grenzgebirge zwischen Europa und Asien

A	L					
A	P	E				
K	A	U				
K	A	R				
M	O	N	T			
P	Y					
U	R	A	L			

- 24 Zweitlängster Fluss in Europa
- 25 Fluss in Spanien
- 26 Fluss in Frankreich
- 27 Grenzfluss zw. Deutschl. und Frankreich

Hinweis:

Variante 3 des Rätsels ist kostenlos.

- 28 Längster Fluss in Europa





# Europa – Rätsel 2

meine  
Notizen  
(ohne Vokale)

Ergänze die Buchstaben mit Vokalen (s. Beispiele)

1	Meer im NW	N O R D S E E	NRDS
2	Meer im Norden	O S T S E E	? STS
3	Meerenge zw. Mittelmeer & Schwarzem M.		BSPRS
4	Meerenge zwischen Europa und Afrika		GBRLTR
5	Inselgruppe im westlichen Mittelmeer		BLRN
6	Insel im NW (größte Vulkaninsel der Welt)		? SLND
7	Insel der Britischen Inseln		? RLND
8	Italienische Insel (westl. von Italien)		SRDNN
9	Insel an der Südspitze Italiens		SZLN
10	Insel im SO Europas		ZYPRN
11	Französische Insel		KRSKA
12	Griechische Insel		KRTA
13	Halbinsel im Südwesten		? BRSCH
14	Halbinsel im Norden		JTLND
15	Halbinsel im Norden		KL
16	Halbinsel im Schwarzen Meer		KRM
17	Hochgebirge		? LPN
18	Gebirge in Italien		? PNNNN
19	Gebirge am Schwarzen Meer		KKSS
20	Gebirge in Osteuropa		KRPTN
21	Höchster Berg in Europa		MNT BLNC
22	Gebirge zw. Frankreich und Spanien		PYRNN
23	Grenzgebirge zwischen Europa und Asien		? RL
24	Zweitlängster Fluss in Europa		DN
25	Fluss in Spanien		? BR
26	Fluss in Frankreich		LR
	Größter Fluss in Deutschland und Frankreich		
	Längster Fluss in Europa		

# Der Mont Blanc - der höchste Berg Europas?



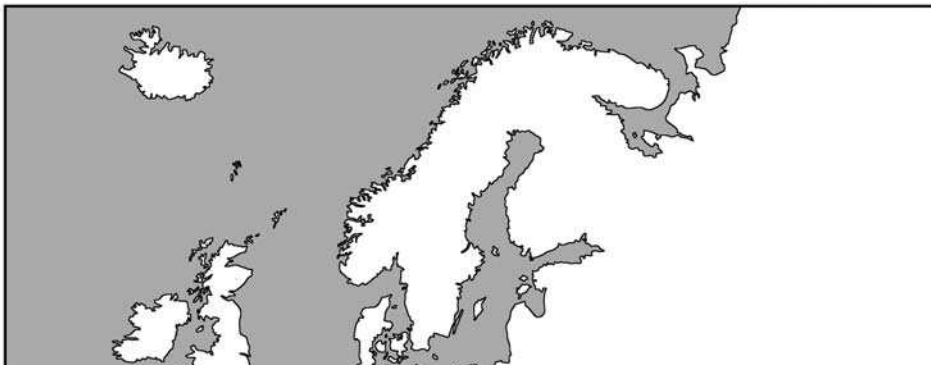
Bild von Simon Steinberger auf Pixabay

- Name:** Die Bezeichnung kommt aus der Sprache der Ureinwohner und bedeutet „weißer Wächter“, oder auch „steinerner Wächter“.
- Lage:** Er liegt in den Alpen an der Grenze zwischen Frankreich und Italien.
- Höhe:** Der Mont Blanc ist mit 4 810 m der höchste Berg der Alpen. Ob er auch der höchste Berg in Europa ist, darüber gibt es verschiedene Meinungen. Der Elbrus im Kaukasus ist mit 5 642 Metern weitaus höher, aber nicht jeder findet, dass dieses Gebirge in Europa liegt.
- Erstbesteigung** 1897 gelang die Erstbesteigung.
- Der Berg** Der Mont Blanc ist sowohl für Hobby- als auch Profibergsteiger interessant und machbar. Jedoch dürfen die Anforderungen, die die Besteigung nicht unterschätzt werden.

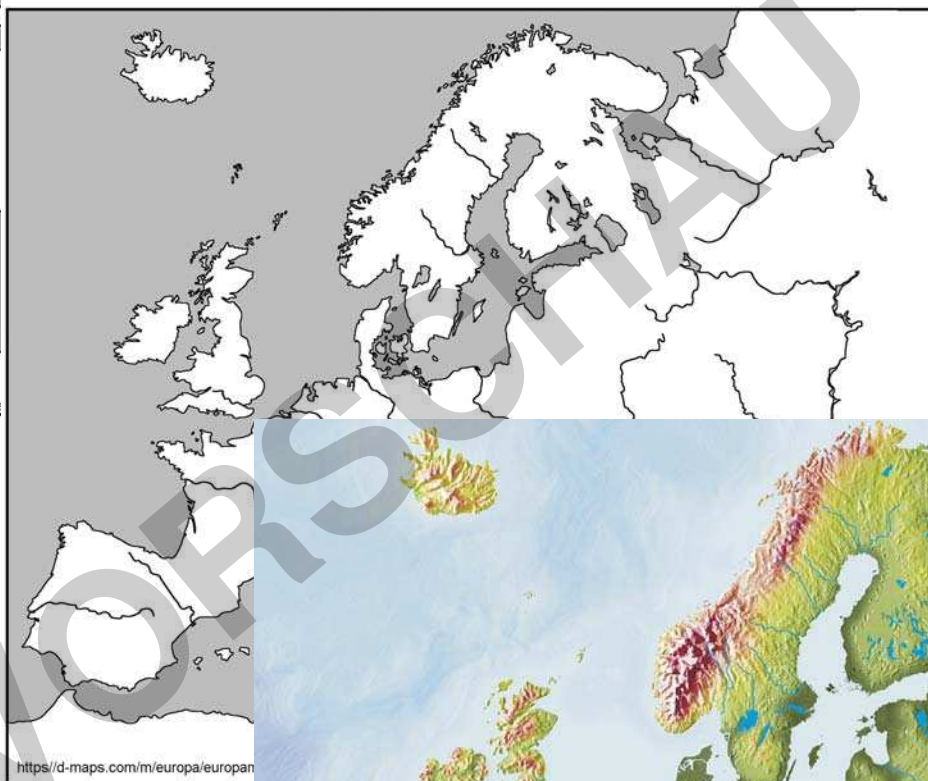
# Arbeitsmaterial

Drei hochauflösende Karten zur Gestaltung eigener Arbeitsblätter oder Tests

Karte Europa - blanco



Karte Europa - phys.-geogr.



physische Karte  
Europa

