


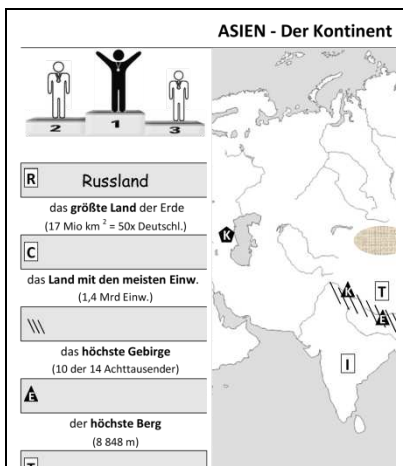
Topografie

Asien



Arbeitsblätter
Lernzielkontrolle
Rätsel

ASIEN – Die Arbeitsmaterialien im Überblick



2 Arbeitsblätter

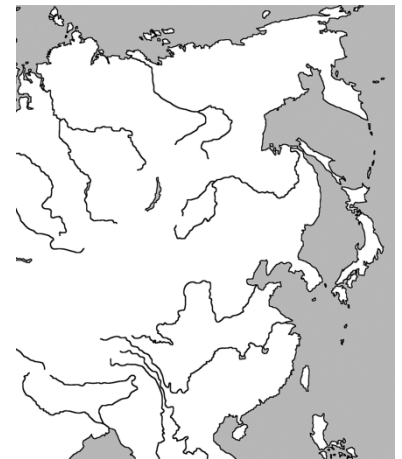
für die Erarbeitung
der Lerninhalte

Lernzielkontrolle

zur schriftl.
Überprüfung

Asien-Rätsel

zum spielerischen
Wiederholen



1 Foto

Der Mount Everest

2 Reliefkarten

zum Üben und
mündl. Abfragen

3 Umrisskarten

zur Gestaltung
eigener Materialien

Wissenswertes über ASIEN

Arbeitsblatt 1

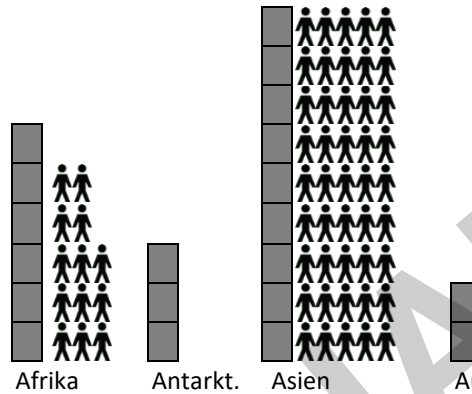
► **Name** Aufg.1: Lies den Text und unterstreiche den Begriff, der As

Das Wort „Asien“ ist vom assyrischen Wort „Assu“ hergeleitet. Assu b
“ bzw. „Osten“. Asien deutet also auf die Region in Richtung Sonnena
dem lateinischen Wort Orient oder dem deutschen „Morgenland“.

► **Größe & Einwohner** Aufgabe 2: Werte die **Diagramme** aus

■ = 5 Mio qkm 👤 = 100 Mio Einw

Asien ist mit etwa ___ Mio qkm
der _____ Kontinent
Mit ca ___ Mrd Einw. ist er
bevölkerungsmäßig der
_____ Erdteil. Hier leben
etwa 2/3 der Weltbevölkerung.



► **Lage** > Aufgabe 2: Zeichne den Äquator (rot), de

Asien liegt fast ausschließlich
auf der _____ Halbkugel.

► **Meere**

> Aufgabe 3: Trage ihre
Namen ein und beschrifte
die Karte.

- I _____
II _____
III _____

Vor der Küste Asiens finden wir

► **Halbinseln**

Im äußersten NO des Kontinents
liegt die russische Halbinsel

① **Kamtschatka**.

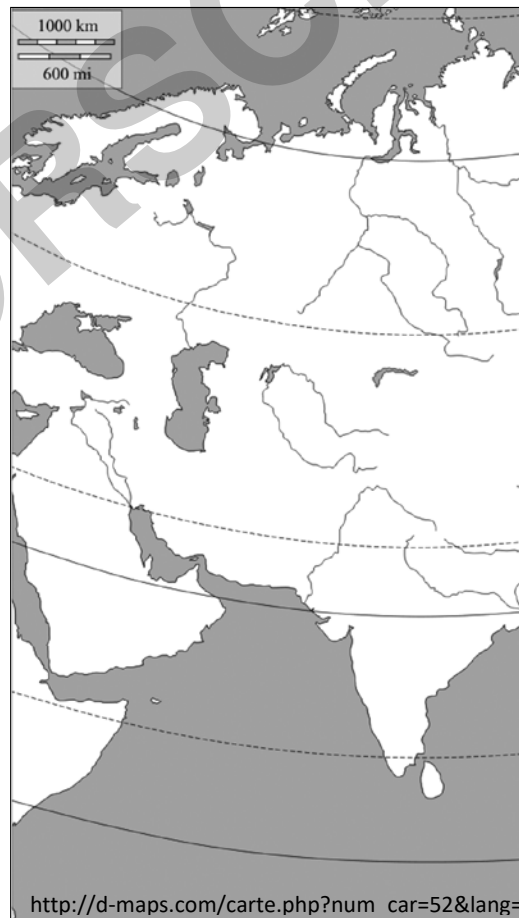
② Die Halbinsel **Korea** ist seit
1948 in zwei Staaten aufgeteilt.

③ Die **Malajische Halbinsel** ist
eine lange, schmale Fortsetzung
des Festlands von Südostasien.

► **Inseln und Inselgruppen**



Bildquelle: © bloodua,
istockphoto.com



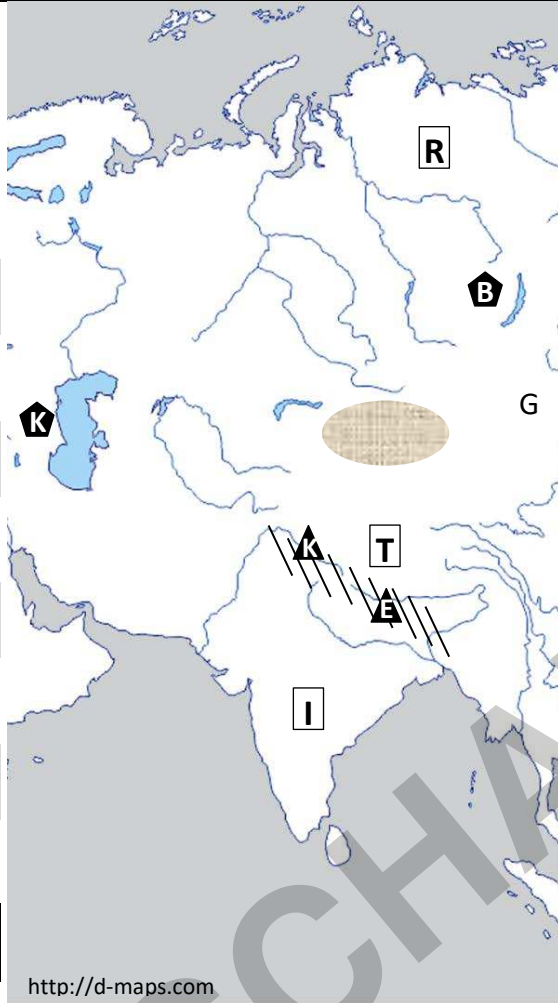
< Die Schüler/innen
werten einen Text
und ein Diagramm
aus und erarbeiten
sich damit...

- die Herkunft des
Namens Asien und
- die Größe Asiens.

< Mit Hilfe des
Arbeitsblattes und
des Atlas lernen sie
die Meere, Halb-
inseln und Inseln
vor Asiens Küste.

ASIEN - Der Kontinent der Rekorde

Arbeitsblatt 2



R **Russland**

das **größte Land** der Erde
(17 Mio km² = 50x Deutschl.)

C

Land mit den meisten Einw.
(1,4 Mrd Einw.)

///

das **höchste Gebirge**
(10 der 14 Achttausender)

A

der **höchste Berg**
(8 848 m)

T

die **höchstgelegene Region**
(durchschnittlich 4 500 m)

J

bevölkerungsreichste Insel
(141 Mio Einw.)

K

der **größte See**
(etwa so groß wie Deutschl.)

B

der **tiefste See**
(1 642 m)

M

die **tiefste Stelle im Meer**
(11 000 m)



A

zweithöchste Berg der Erde
(8 611 m)

N

zweitgrößte Insel der Erde
(786 000 km² > D = 356 000 km²)

I

Land mit den **zweitmeisten Einw.**
(1,2 Mrd Einw.)



Bildquelle: © bloodua,
istockphoto.com

Die Schüler lernen

- geogr. Rekorde,
- lokalisieren sie in Asien und erarbeiten sich so topografische Kenntnisse über den Kontinent

Das Siegespodest bringt grafisch zum Ausdruck, in welcher 'Disziplin' ein Vertreter Asiens an 1., 2. oder 3. Stelle in der Welt steht.

Aufgabe: Suche mit Hilfe der Symbole die Begriffe und trage sie ins Arbeitsblatt ein

..... **Lernzielkontrolle** aus der Erdkunde am Klasse.....

SchülerIn erreichte Punkte = NOTE

1. Ergänze den folgenden Lückentext:

Asien, dessen Name aus dem Assyrischen stammt und bedeutet, ist mit ca. 44 Mill. km² flächenmäßig der Erdteil und ein wahrer Rekordhalter. Seine West-Ost-Ausdehnung beträgt gigantische km, hier lebt etwa der Erdbevölkerung, das flächenmäßig größte Land,, liegt ebenso in diesem Kontinent wie das bevölkerungsreichste Land, Asien ist ferner der Erdteil mit dem höchsten Gebirge, dem größten See, und dem tiefsten See,

2. Benenne die folgenden Karteneinträge:

1 =
Halbinsel


2 =
Halbinsel mit zwei Staaten

3 =
Inselgruppe

4 =
drittgrößte Insel

5 =
drittlängster Strom der Erde

6 =
See



3. Trage in die Karte ein:

T = Taiwan

A = Gobi (wüste)

Die Lernzielkontrolle liegt in zwei Dateiformaten vor:

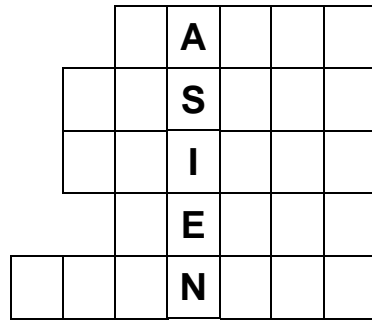
1. als PDF-Datei
2. als veränderbare Word-Datei

Hinweis!

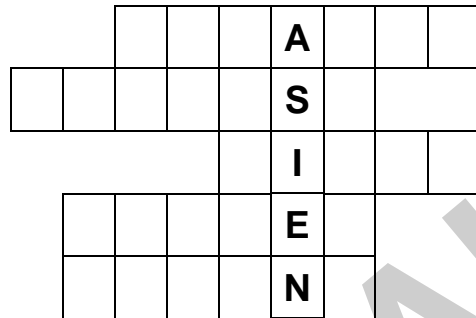
Um Missbrauch durch `fündige` Schüler zu vermeiden, wurden wesentliche Inhalte verdeckt.

ASIEN-Rätsel

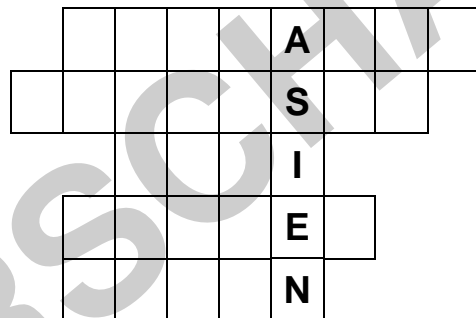
- 1) russische Halbinsel
- 2) größtes Land der Erde
- 3) bevölkerungsreichstes Land
- 4) Japanischer Frauenberuf
- 5) meeerfernstes Gebiet der Erde



- 6) das höchste Gebirge der Erde
- 7) höchster Berg
- 8) höchstes Hochland der Erde
- 9) drittgrößte Insel
- 10) japanisches Gewand



- 11) tiefster See der Erde
- 12) Halbinsel
- 13) drittgrößte Wüste
- 14) Land mit 1 Mrd Einw.
- 15) Inselstaat



Bildquelle: © bloodua, istockphoto.com

Das Rätsel ist inhaltlich auf die Arbeitsblätter 1 und 2 abgestimmt.

Es gibt drei Lösungshilfen:

1. Hinweise auf die gesuchten Begriffe,
2. die Anzahl der Buchstaben,
3. das Lösungswort 'Asien'

Hinweis:

Aus Platzgründen können in der Vorschau



15 Artikel angezeigt werden.
lernen

zur Vollversion

ASIEN-Rätzel (mit Lösungshilfen)

- 1) russische Halbinsel
- 2) größtes Land der Erde
- 3) bevölkerungsreichstes Land
- 4) Japanischer Frauenberuf
- 5) meerfernstes Gebiet der Erde

		K	A	M	T	
					L	A
		H	I			
			E	I	S	
		U	N	G	A	R

- 6) das höchste Gebirge der Erde
- 7) höchster Berg
- 8) höchstes Hochland der Erde
- 9) drittgrößte Insel
- 10) japanisches Gewand

			M	A	L		
			R	E	S	T	
					B	E	T
			N	E	O		
		M	O	N	O		

- 11) tiefster See der Erde
- 12) Halbinsel
- 13) drittgrößte Wüste
- 14) Land mit 1 Mrd Einw.
- 15) Inselstaat

	B			K		L	S	E
	A	A				I	A	
			O	B	I			
		D	I	E				
	J	A						



Bildquelle: © bloodua, istockphoto.com

Variante 2 des Asien-Rätsels

Die Schüler bekommen Lösungshilfen:

- Buchstaben
- Wörter

Diese Variante des Rätsels wird im Preis nicht eingerechnet, ist also **kostenlos**.

Hinweis:

Aus Platzgründen können in der Vorschau

Der Mount Everest – der höchste Berg



Von I, Luca Galuzzi, CC BY-SA 2.5, <https://commons.wikimedia.org>

Name: Der Mount Everest ist seit 1856 nach dem britischen Landvermesser George Everest benannt.

Lage: Er liegt im Himalaya an der Grenze zwischen China und Nepal.

Höhe: 8.848 Meter - Er ist dreimal so hoch wie der Eiffelturm.

Erstbesteigung: Sie gelang Sir Edmund Hillary (Neuseeländer) und dem nepalesischen Sherpa Tenzing Norgay.

Besteigungen heute: Ende 2018 war die Anzahl der Besteigungen heute auf über 3000 gestiegen.

Temp. Im Januar, dem kältesten Monat, beträgt die Temperatur auf dem Gipfel zwischen -36°C und -41°C. Im Juli, dem wärmsten Monat, beträgt sie zwischen -1°C und -6°C.

Foto zu Arbeitsblatt 2

In Arbeitsblatt 2 'Asien, der Kontinent der Rekorde' ist der höchste Berg der Welt zu nennen.

Die Schüler lokalisieren und benennen ihn.

> An dieser Stelle lässt sich das Foto einsetzen.

ASIEN – Reliefkarte 1



Bildquelle: © bloodua,
istockphoto.com

Zum Üben und Wieder-
holen der Lerninhalte

Anregungen zur
Verwendung :

- Sie zeigen auf topogr. Inhalte und stellen Fragen.
- Ein Schüler übernimmt die Rolle des Lehrers und testet das Wissen seiner Mitschüler.
- Ein Schüler `opfert` sich und beantwortet Fragen der Mitschüler.

Präsentieren lassen sich die Reliefkarten mit interaktiven **Whiteboards**, Laptop & **Beamer** sowie **Dokumenten-**kameras. Auch OHPs kommen zum Einsatz.

Kann man Farbfolien selber drucken?



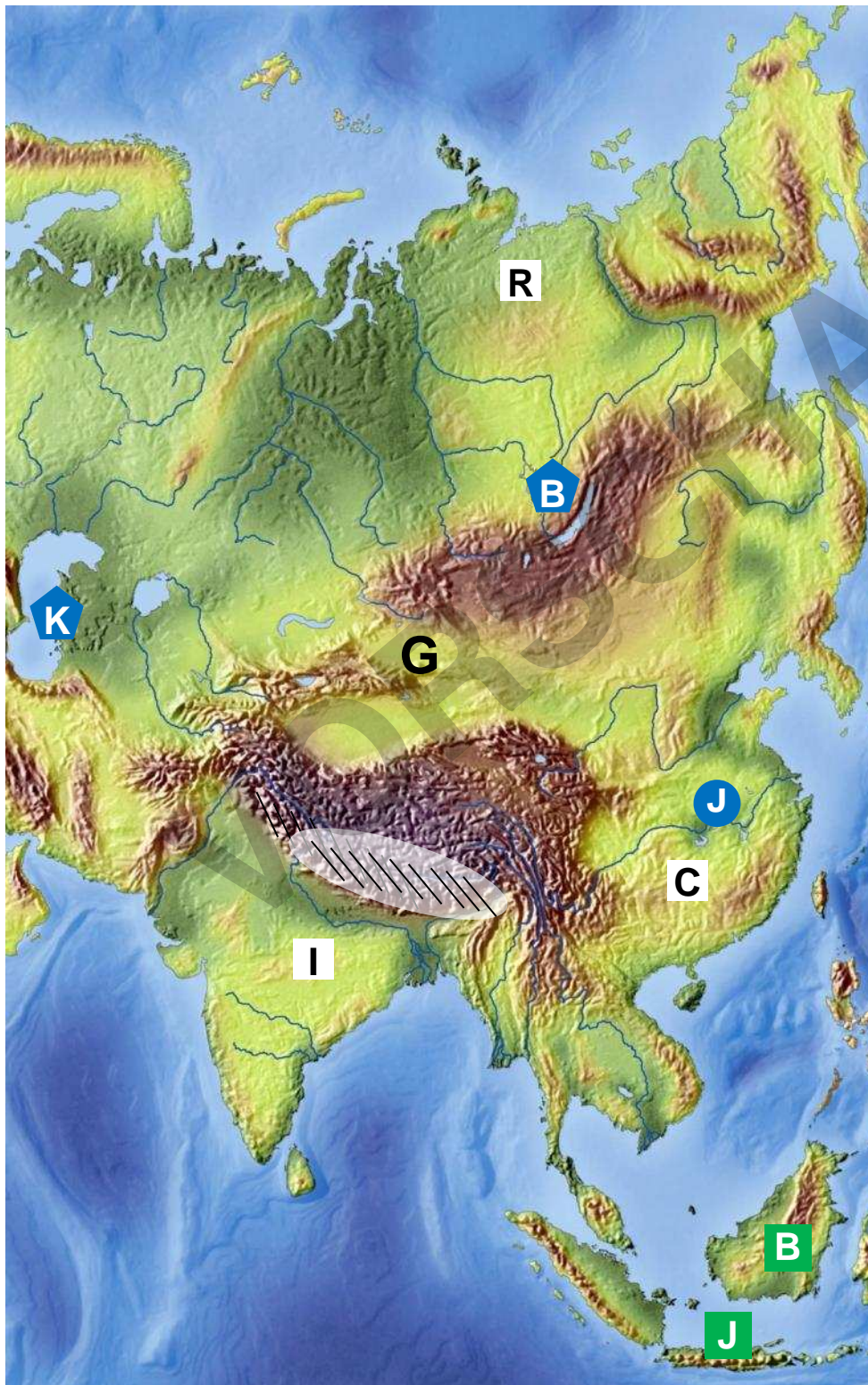
Ja. Kein Problem.
Zu beachten ist nur, dass die
Folien für Tintenstrahldrucker
geeignet sind.

ASIEN – Reliefkarte 2

Zeichenerklärung:

Land:  Insel:  G

Fluss:  See:  W



Verwendung

Die Reliefkarte 2 ist inhaltlich identisch mit Arbeitsblatt 2.

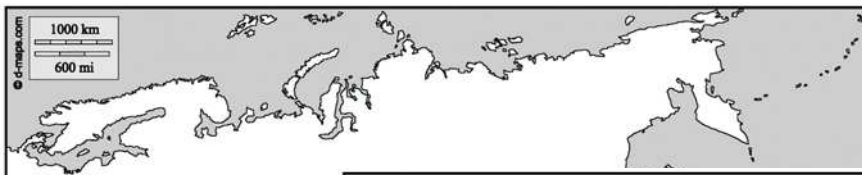
Sie kann eingesetzt werden, um die Erarbeitung der topogr. Inhalte visuell zu unterstützen.

Ferner ist sie hilfreich bei der Wiederholung des Unterrichtsstoffes und der mündlichen Lernzielkontrolle.

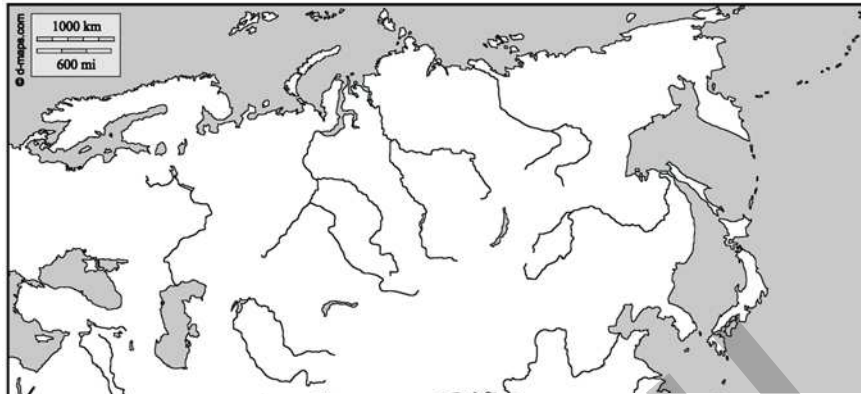


Kartenmaterial zur Gestaltung eigener Arbeitsblätter

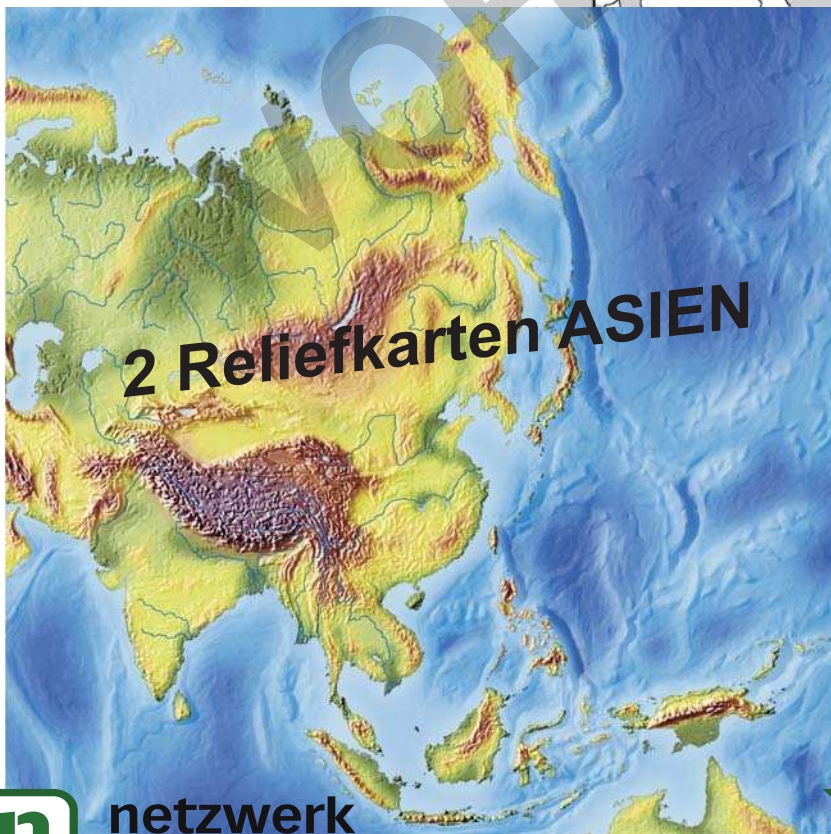
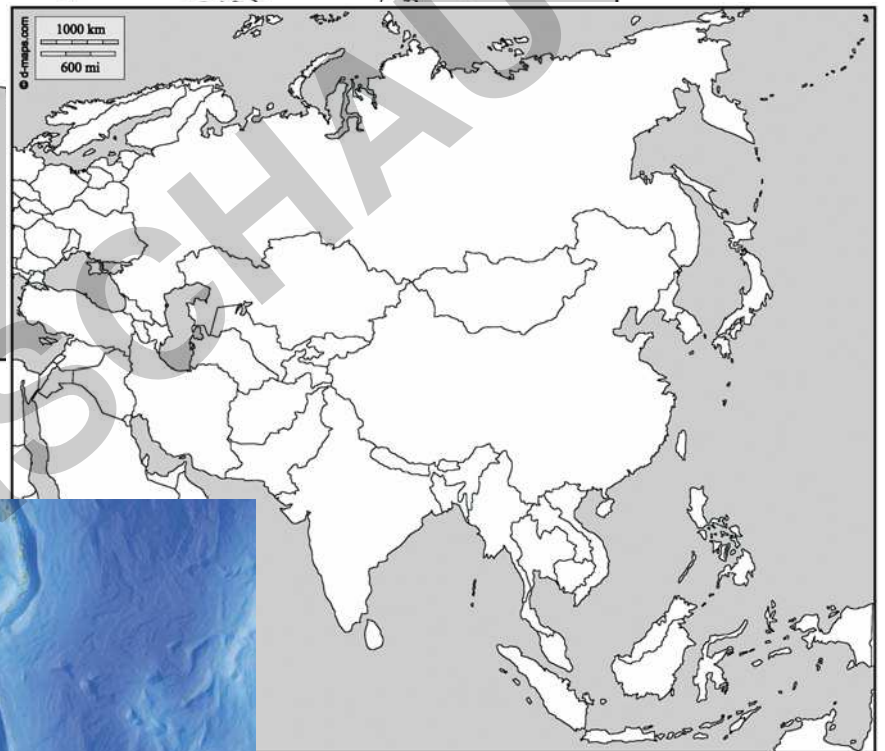
Asienkarte - blanco



Asienkarte - phys.



Asienkarte - polit.



Asien

auf einen Blick



netzwerk
lernen

zur Vollversion

ASIEN auf einen Blick

Äquator

Zeichne den Äquator als rote Linie ein

Meere

Beschrifte die Meere

- Ind. Ozean
- Pazifischer Ozean
- Nordpolarmeer

Randmeere

Beschrifte die Meere

- Beringmeer
- Japanisches Meer
- Südchinesisches Meer

INSELN

Trage sie grün in die Karte ein

- 1 - Sumatra
- 2 - Borneo
- 3 - Java
- 4 - Philippinen
- 5 - Japan

Gebirge

Male sie braun an und beschrifte sie

- A - Altai
- H - Himalaya
- K - Kuntun Shan
- T - Tian Shan

Wüsten

//// Beschrifte sie

- G - Gobi
- T - Takla Makan
- Th - Tharr



für Ihre Bestellung!

Als kleine Belohnung für Ihr Interesse an meinen Materialien erhalten Sie dieses

< **Arbeitsblatt kostenlos.**

Der höchste Berg der Welt:

--	--	--	--	--	--



netzwerk lernen

zur Vollversion