

Mein Bundesland

Mecklenburg-Vorpommern



copyright 2010 mr-Kartographie - Ingenieurbüro und Verlag



netzwerk
lernen

zur Vollversion

Bildquelle: © blooda, istockphoto.com

Mein Bundesland MECKLENBURG-VORPOMMERN	
Übersicht der Inhalte und Arbeitsmaterialien	13 Seiten
	incl. Lö
Inhalt Arbeitsblatt 1:	2
Abk. des Ländernamens	
Landeshauptstadt	
Lage des Bundeslandes	
angrenzende Nachbarländer	
Größe und Einwohner	
Inhalt Arbeitsblatt 2:	2
Inseln	
Flüsse	
Seen	
Städte	
Landschaften	
Lernzielkontrolle	2
Karten	
Lernkarte (blanco)	1
Lernkarte zu Arbeitsblatt 2	1
physische Karte	1
Wappen	
Landeswappen (sw)	1
Landeswappen (f)	1
RÄTSEL	



Abk.

M V



Landeshauptstadt

SN M 2455

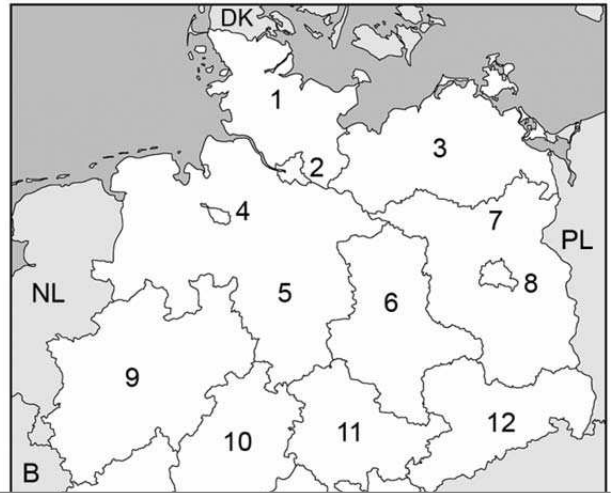
Lage >

Nachbarn in Deutschland

_____ ()

_____ ()

_____ ()



Nachbar in

Arbeitsblatt 1

Die Schüler/-innen lernen

- die Abk. des Ländernamens
- Farbe und Symbol des Landeswappens
- die Landeshauptstadt
- wo das Bundesland liegt (Eintrag in Karte)
- die angrenzenden Bundesländer
- die europäischen Nachbarn



Mit Hilfe von Diagrammen können die Schüler/-innen

- die **Größe** und **Einwohnerzahl** ihres Bundeslandes feststellen
- ihr Bundesland mit anderen Ländern vergleichen (kurze Zusammenfassung)

Bildquelle: © bloodua, istockphoto.com

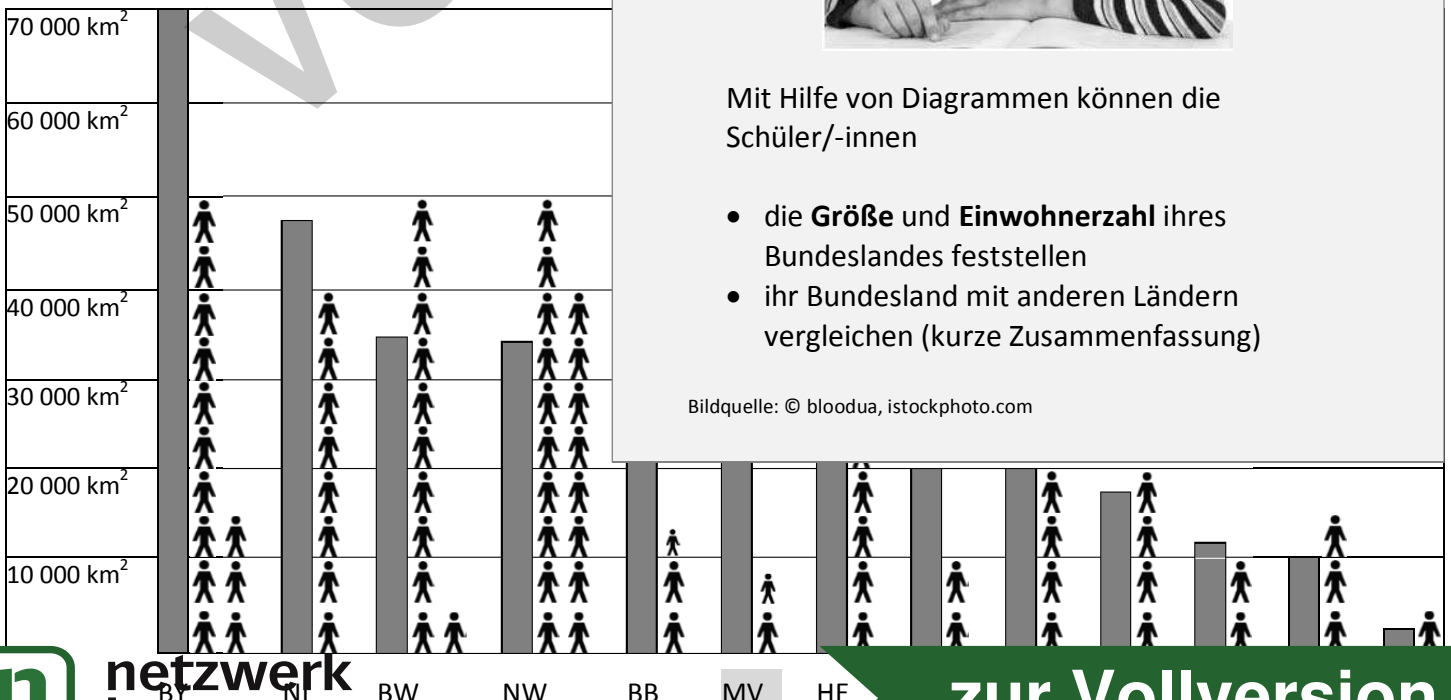
Fläche & Einwohner:

► Werte die Diagramm

Mecklenburg-Vorpommern ist mit ca _____

Es hat aber nur etwa _____ Millionen Einwo

den _____ Platz ein.



INSELN

Trage die Namen ein.

I Die Insel _____

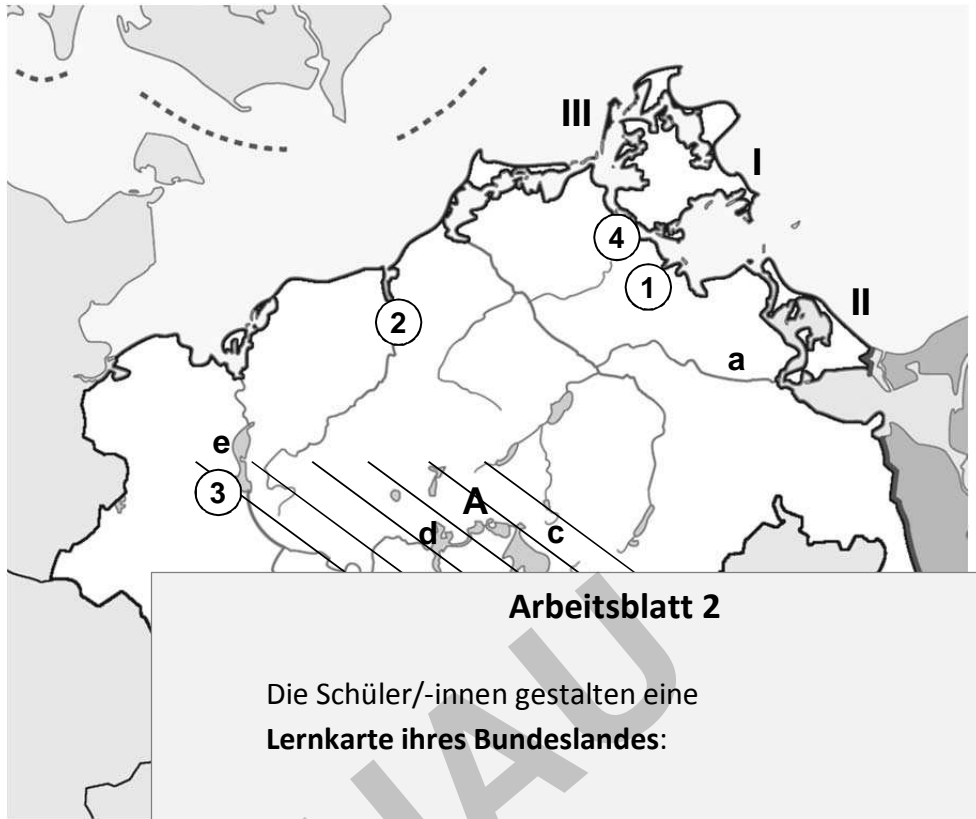
ist Deutschlands größte Insel.
(Länge ca 50km; Breite ca 40 km)

II Die Insel _____

ist die zweitgrößte deutsche Insel,
die zu einem kleinen Teil zu Polen gehört.
Mit durchschnittlich 1906
Sonnenstunden im Jahr ist sie
die sonnenreichste Gegend
Deutschlands

III Die Insel _____

liegt unmittelbar westlich vor
Rügen.



Arbeitsblatt 2

Die Schüler/-innen gestalten eine
Lernkarte ihres Bundeslandes:

- Sie erarbeiten sich mit dem Atlas topografisches Grundwissen:
**Inseln, Flüsse & Seen,
Städte, Landschaften.**
- Sie zeichnen und tragen die Ergebnisse in die Karte oder ins Arbeitsblatt ein.



Bildquelle: © bloodua, istockphoto.com

FLÜSSE

Wie heißen die Flüsse? (a-b)

a Die _____

ist ein Küstenfluss in
Mecklenburg-Vorpommern.

b Die _____

ist der längste Fluss in
Mecklenburg-Vorpommern.

SEEN

c Der _____
ist der zweitgrößte See Deutschl.

d Der _____

Wo

Trage

①

②

③

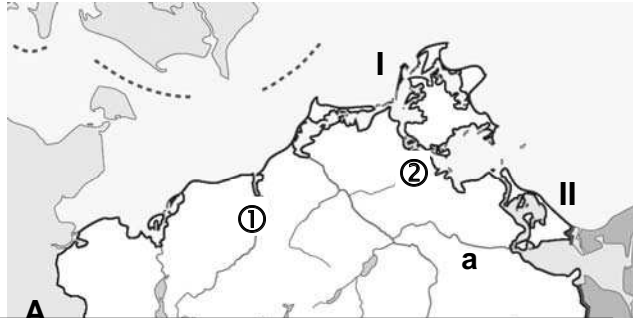
④

liegt am Strelasund, einer
Meerenge der Ostsee. Sie wird
wegen ihrer Lage als „Tor zur Insel
Rügen“ bezeichnet, mit der sie
über zwei Brücken verbe

1. Wie heißen diese Inseln?

I = _____

II = _____



2. Wie heißen diese Flüsse?

a = _____

b = _____

3. Wie heißen

① _____

② _____

4. Wie heißen

a) Nachbar

b) Nachbar

c) Nachbar

d) Nachbar

5. a) Wie heißen

b) Trage s

Ergänze d

6. Mecklenb

7. Zu Meckle

Sie heißt

Die Lernzielkontrolle ist inhaltlich auf den Stoff dieser Unterrichtseinheit abgestimmt.

Sie liegt in zwei Dateiformaten vor:

- als PDF-Datei,
- als Word-Datei.

Änderungen erwünscht?

Nutzen Sie das Programm Word, so können Sie mit wenigen Mausklicks einzelne Aufgaben löschen, neue hinzufügen oder evtl. anders formulieren.

Dies ist problemlos möglich, da die Lernzielkontrolle als Tabelle angelegt ist und somit Änderungen das Layout nicht beeinträchtigen.

Mit der Funktion `Textfeld einfügen` lässt sich ebenso einfach die Karte beschriften.

Hinweis:

Die abgebildete Lernzielkontrolle zeigt beispielhaft den Aufbau, die Gestaltung und den Umfang (s. Punktezahl) des Leistungstest.

Wie gut kennt ihr euer Bundesland Mecklenburg-Vorpommern?

1. Welche Form hat Mecklenburg-Vorpommern? Kreuze die richtige Antwort an.



a



b

2. Wo liegt das Bundesland? Kreuze die richtige Antwort an.

Es liegt im Norden in der Mitte

3. Welches Wappen hat das Bundesland Mecklenburg-Vorpommern?



a



b

4. Wie wird der Ländername abgekürzt?

M E C K L E N B U

5. Wie heißt die Landeshauptstadt?

6. Welche Stadt liegt nicht in Mecklenburg-Vorpommern?

Lübeck Greifswald

7. Welche zwei Inseln liegen vor unserer Küste?


Fehmarn Rügen

8. Mecklenburg-Vorpommern grenzt nicht an welche Länder?

Polen Sachsen-Anhalt

9. Welche Aussagen sind richtig?

- a) Mecklenburg-Vorp. grenzt an 4 Bundesländer
- b) Usedom ist die zweitgrößte deutsche Insel
- c) Der Müritzer See ist der drittgrößte See Deutschlands
- d) Mecklenburg-Vorp. hat knapp 2 Mio Einwohner



1/ __



1/ __

1/ __

Mit diesem Rätsel können die Schülerinnen und Schüler spielerisch ihr Wissen über ihr Bundesland wiederholen und testen.

1/ __

In 9 Aufgaben sollen sie

1/ __

1. ihr Bundesland an seiner Form erkennen,
2. die Lage beschreiben,
3. das richtige Wappen zuordnen,
4. den Landesnamen abkürzen,
5. die Hauptstadt nennen,
6. Städte dem Bundesland zuordnen,
7. Gebirge dem Bundesland zuordnen,
8. angrenzende Länder wissen,
9. Aussagen auf ihre Richtigkeit prüfen.

1/ __

2/ __

Das Rätsel kann in Einzel- oder Partnerarbeit durchgeführt werden.

2/ __

Die Überprüfung der Lösungen (+ Bewertung) nehmen die Schüler/-innen in der Regel selbst mit Hilfe des Atlas vor.

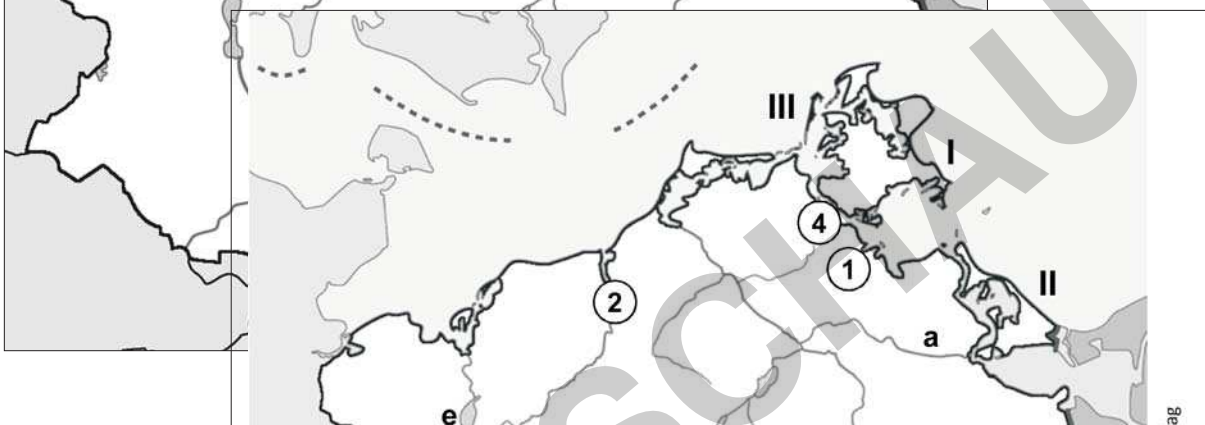
Bildquelle: © bloodua - istockphoto.com

Kartenmaterial

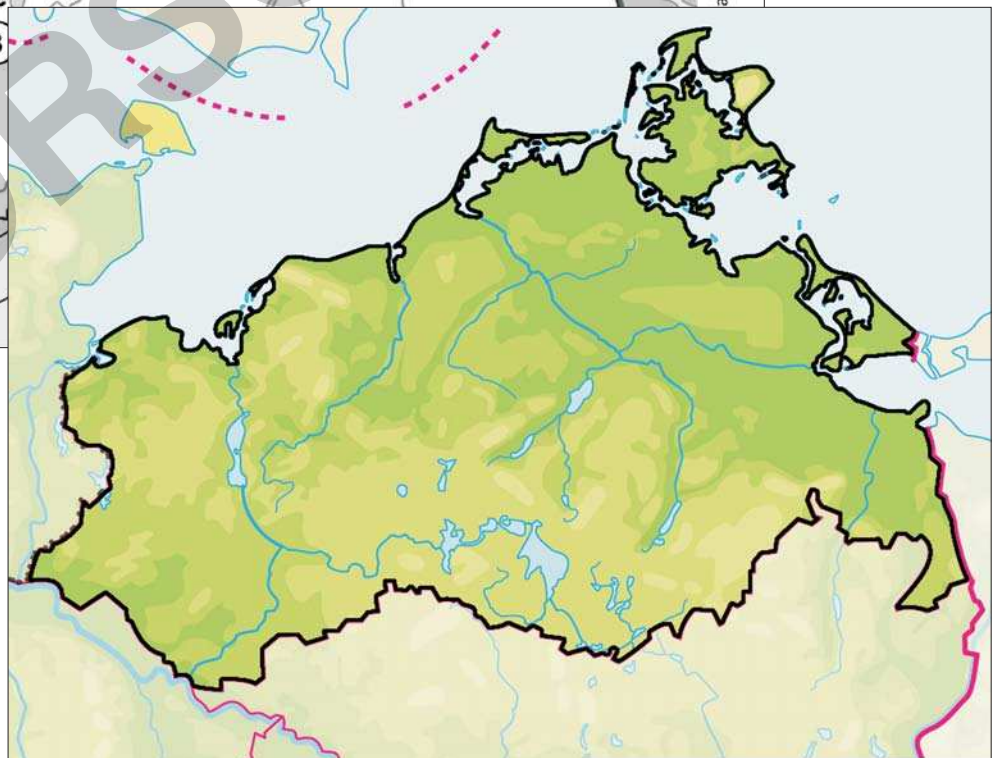
Lernkarte - blanco



Lernkarte zu Arbeitsblatt 2



physische Karte



Das Landeswappen

Hochauflösende Grafiken zu Gestaltung eigener Arbeitsmaterialien

