







Name: _____


Datum: _____

Runden von Zahlen

<p>Rennrad mit 14 Gängen</p>  <p>369 €</p>  <p>Es kostet rund 370 €.</p>	<p>Mountain-Bike mit 18 Gängen</p>  <p>314 €</p>  <p>Es kostet rund 310 €.</p>	<p>Herren-Mountain-Bike mit 18 Gängen</p>  <p>387 €</p>  <p>Es kostet rund 390 €.</p>
--	--	---

Warum nennen die Kunden gerundete Preise und nicht die genauen Preise?

Wir runden die Einer zum nächsten Zehner

<p>Abrunden</p> <p>Die Einer 1, 2, 3, 4 musst du zum Zehnergänger abrunden.</p>		<p>Aufrunden</p> <p>Die Einer 5, 6, 7, 8, 9 musst du zum Zehnergänger aufrunden.</p>
--	---	---

① Runde die Zahlen zum nächsten Zehner auf oder letzten Zehner ab!

$373 \approx 370$

$418 \approx \underline{\quad}$

$852 \approx \underline{\quad}$

$963 \approx \underline{\quad}$

$634 \approx \underline{\quad}$

$789 \approx \underline{\quad}$

$397 \approx \underline{\quad}$

$864 \approx \underline{\quad}$

$242 \approx \underline{\quad}$

$125 \approx \underline{\quad}$

$793 \approx \underline{\quad}$

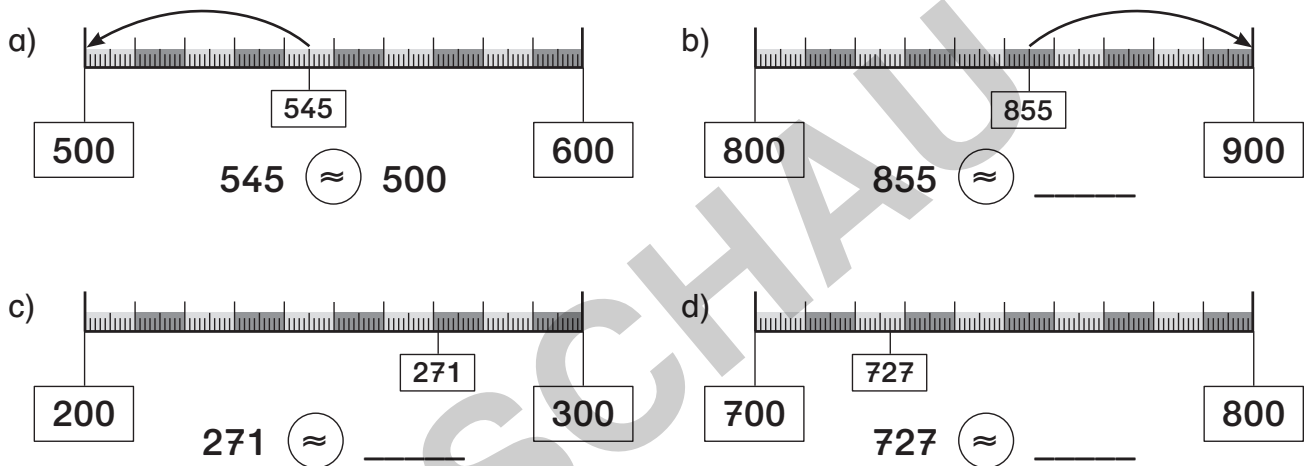
$209 \approx \underline{\quad}$

Runden auf Hunderter

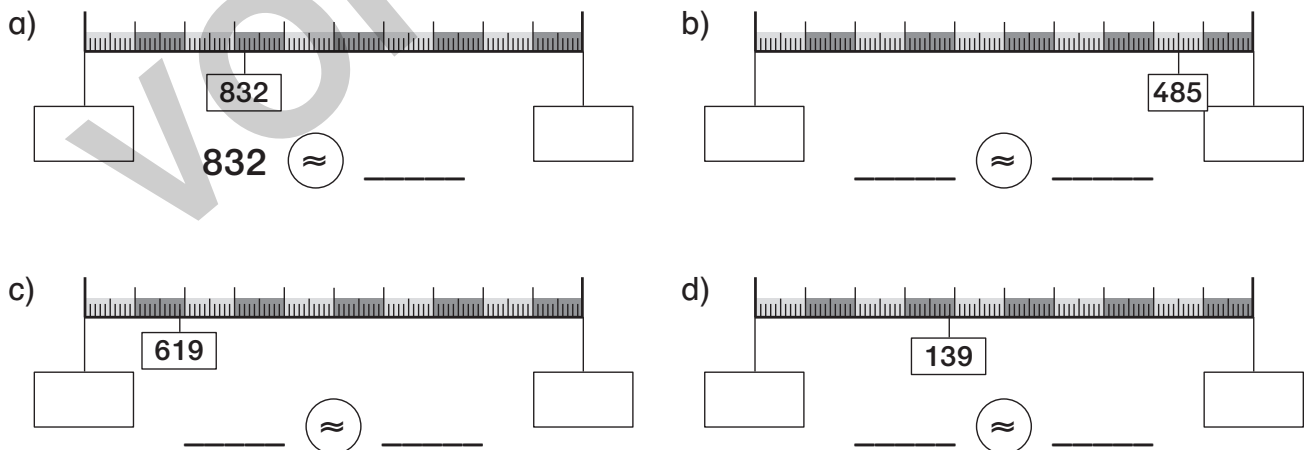
Wir runden die Zehner zum nächsten Hunderter

<p style="text-align: center; background-color: #e0e0e0; margin: 0;">Abrunden</p> <p>Die Zehner 10, 20, 30 und 40 musst du zum Hundertervorgänger abrunden.</p>		<p style="text-align: center; background-color: #e0e0e0; margin: 0;">Aufrunden</p> <p>Die Zehner 50, 60, 70, 80 und 90 musst du zum Hunderternachfolger aufrunden.</p>
---	---	--

① Runde die Zahlen zum nächsten Hunderter auf oder zum letzten Hunderter ab! Zeichne die Pfeile ein!



② Bestimme die Nachbarhunderter! Runde die Zahlen zum nächsten Hunderter auf oder zum letzten Hunderter ab! Zeichne die Pfeile ein!



③ Finde eigene Zahlen bis 1000! Bestimme die Nachbarhunderter! Runde die Zahlen zum nächsten Hunderter auf oder letzten Hunderter ab! Zeichne die Pfeile ein!

