



## Wir ergänzen zum nächsten Zehner

Wie viele Kisten gehören noch in den Lastwagen? Fällt dir etwas auf?



$$6 + \square = 10$$

$$36 + \square = 40$$



$$236 + \square = 240$$

① Ergänze zum nächsten Zehner!

$$7 + \square = 10$$

$$3 + \square = 10$$

$$8 + \square = 10$$

$$47 + \square = 50$$

$$73 + \square = 80$$

$$58 + \square = 60$$

$$647 + \square = 650$$

$$273 + \square = 280$$

$$458 + \square = 460$$

$$265 + \square = 270$$

$$872 + \square = 880$$

$$531 + \square = 540$$

$$826 + \square = 830$$

$$334 + \square = 340$$

$$689 + \square = 690$$

$$153 + \square = 160$$

$$448 + \square = 450$$

$$717 + \square = 720$$

② Wie heißt der nächste Zehner? Ergänze und rechne!

$$416 + \longrightarrow \square$$

$$572 + \longrightarrow \square$$

$$263 + \longrightarrow \square$$

$$724 + \longrightarrow \square$$

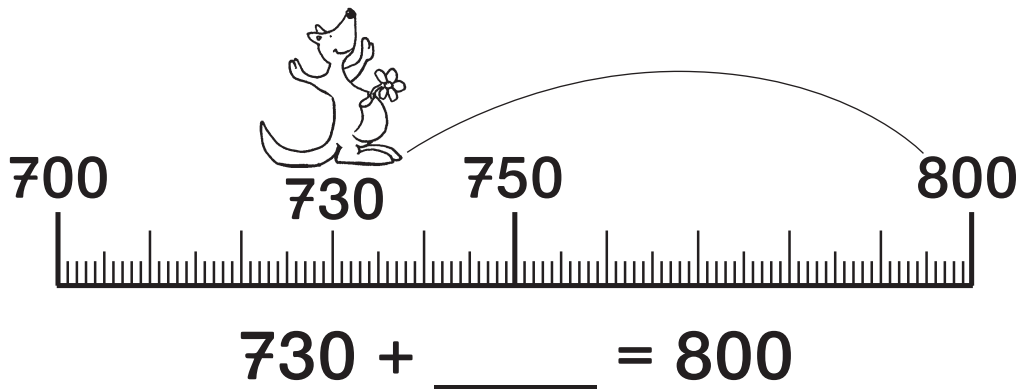
$$361 + \longrightarrow \square$$

$$257 + \longrightarrow \square$$

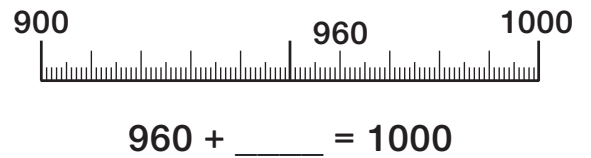
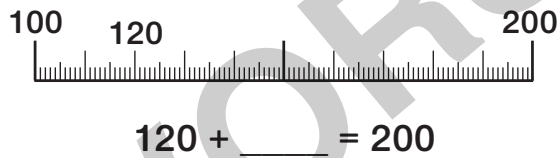
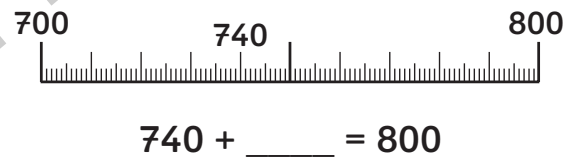
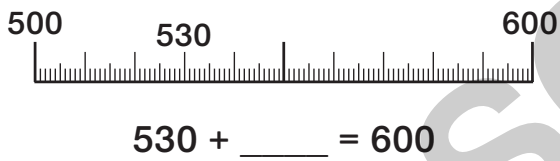
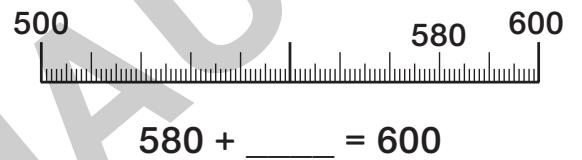
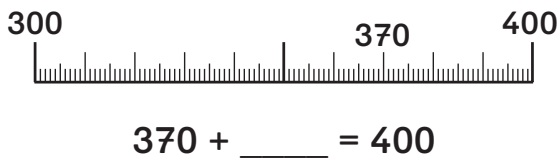
$$645 + \longrightarrow \square$$

$$483 + \longrightarrow \square$$

## Wir ergänzen zum nächsten Hunderter



① Ergänze zum nächsten Hunderter!



② Wie heißt der nächste Hunderter? Ergänze und rechne!

$230 + \longrightarrow \boxed{\phantom{000}}$

$570 + \longrightarrow \boxed{\phantom{000}}$

$480 + \longrightarrow \boxed{\phantom{000}}$

$990 + \longrightarrow \boxed{\phantom{000}}$

$710 + \longrightarrow \boxed{\phantom{000}}$

$450 + \longrightarrow \boxed{\phantom{000}}$

$640 + \longrightarrow \boxed{\phantom{000}}$

$820 + \longrightarrow \boxed{\phantom{000}}$

$430 + \longrightarrow \boxed{\phantom{000}}$

$680 + \longrightarrow \boxed{\phantom{000}}$

$720 + \longrightarrow \boxed{\phantom{000}}$

$570 + \longrightarrow \boxed{\phantom{000}}$


$340 + \longrightarrow \boxed{\phantom{000}}$

$150 + \longrightarrow \boxed{\phantom{000}}$

$570 + \longrightarrow \boxed{\phantom{000}}$

$410 + \longrightarrow \boxed{\phantom{000}}$

## Zurück zum Nachbarzehner



$$48 - \square = 40$$

$$248 - \square = 240$$

① Wie viele Kisten musst du bis zum Nachbarzehner herausnehmen?

$$65 - \square = 60$$

$$26 - \square = 20$$

$$53 - \square = 50$$

$$365 - \square = 360$$

$$526 - \square = 520$$

$$853 - \square = 850$$

$$436 - \square = 430$$

$$274 - \square = 270$$

$$132 - \square = 130$$

$$963 - \square = 960$$

$$631 - \square = 630$$

$$465 - \square = 460$$

$$172 - \square = 170$$

$$748 - \square = 740$$

$$658 - \square = 650$$

$$334 - \square = 330$$

$$989 - \square = 980$$

$$762 - \square = 760$$

$$882 - \square = 880$$

$$775 - \square = 770$$

$$999 - \square = 990$$

$$547 - \square = 540$$

$$657 - \square = 650$$

$$817 - \square = 810$$

② Wie heißt der Zehnergänger? Vermindere und rechne!

$$476 \xrightarrow{-} \square$$

$$272 \xrightarrow{-} \square$$

$$763 \xrightarrow{-} \square$$

$$824 \xrightarrow{-} \square$$

$$661 \xrightarrow{-} \square$$

$$157 \xrightarrow{-} \square$$

$$945 \xrightarrow{-} \square$$

$$383 \xrightarrow{-} \square$$