

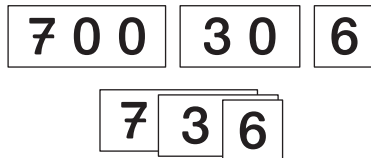
Name: _____

Datum: _____

Kopfrechen-Hausaufgaben

Nimm deine Zahlenkarten bis 1000! Lasse dir täglich 5 Zahlen sagen und lege sie mit den Zahlenkarten hin! Aus wie vielen Hundertern, Zehnern und Einern besteht die Zahl? Nenne sie!

z. B. 736



Sprich:
Die Zahl 736 besteht aus 7 Hundertern, 3 Zehnern und 6 Einern!

Unterschrift: _____

Montag:	1	2	3	4	5
Dienstag:	1	2	3	4	5
Mittwoch:	1	2	3	4	5
Donnerstag:	1	2	3	4	5
Freitag:	1	2	3	4	5

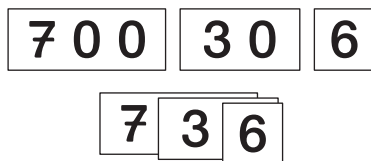
Name: _____

Datum: _____

Kopfrechen-Hausaufgaben

Nimm deine Zahlenkarten bis 1000! Lasse dir täglich 5 Zahlen sagen und lege sie mit den Zahlenkarten hin! Aus wie vielen Hundertern, Zehnern und Einern besteht die Zahl? Nenne sie!

z. B. 736



Sprich:
Die Zahl 736 besteht aus 7 Hundertern, 3 Zehnern und 6 Einern!

Unterschrift: _____

Montag:	1	2	3	4	5
Dienstag:	1	2	3	4	5
Mittwoch:	1	2	3	4	5
Donnerstag:	1	2	3	4	5
Freitag:	1	2	3	4	5

Das Tausenderbuch

Name: _____

Datum: _____

Kopfrechen-Hausaufgaben

Nimm dein Tausenderbuch! Du brauchst eine Spielfigur! Jemand nennt dir 8 Zahlen bis 1000! Setze deine Spielfigur auf das entsprechende Zahlenfeld! Nenne die Nachbarzahlen!



1	2	3	4	5	6	7	8	9	10
	12		14	15	16		18		20
21			24	25		27	28		30
	32			35	36				40
	42			45			48	49	50
			54		56				60
		63	64						70
	72								80
81									90
									100

101	102	103	104	105	106	107	108	109	110
						117			120
121						127			130
						137			140
141	142	143	144	145	146	147	148	149	150
						157			160
						167		169	170
						177			180
						187			190
					196	197			200

Lösungen:

Anzahl der richtigen Lösungen und Unterschrift:

Montag:	<table border="1"><tr><td>1</td><td>2</td><td>3</td><td>4</td><td>5</td><td>6</td><td>7</td><td>8</td></tr></table>	1	2	3	4	5	6	7	8	_____	<input type="text"/>
1	2	3	4	5	6	7	8				
Dienstag:	<table border="1"><tr><td>1</td><td>2</td><td>3</td><td>4</td><td>5</td><td>6</td><td>7</td><td>8</td></tr></table>	1	2	3	4	5	6	7	8	_____	<input type="text"/>
1	2	3	4	5	6	7	8				
Mittwoch:	<table border="1"><tr><td>1</td><td>2</td><td>3</td><td>4</td><td>5</td><td>6</td><td>7</td><td>8</td></tr></table>	1	2	3	4	5	6	7	8	_____	<input type="text"/>
1	2	3	4	5	6	7	8				
Donnerstag:	<table border="1"><tr><td>1</td><td>2</td><td>3</td><td>4</td><td>5</td><td>6</td><td>7</td><td>8</td></tr></table>	1	2	3	4	5	6	7	8	_____	<input type="text"/>
1	2	3	4	5	6	7	8				
Freitag:	<table border="1"><tr><td>1</td><td>2</td><td>3</td><td>4</td><td>5</td><td>6</td><td>7</td><td>8</td></tr></table>	1	2	3	4	5	6	7	8	_____	<input type="text"/>
1	2	3	4	5	6	7	8				

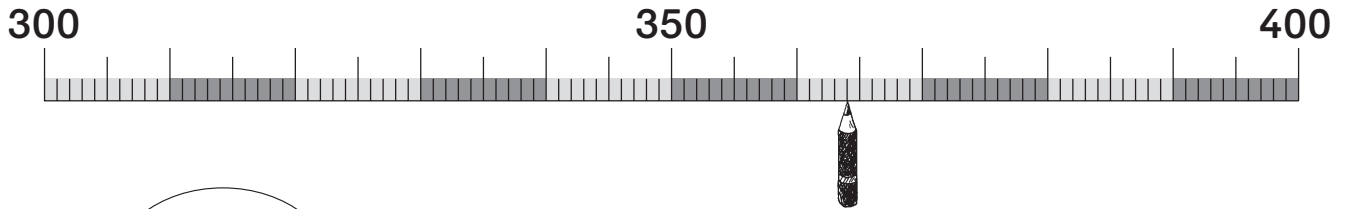
Zahlenstrahl bis 1000

Name: _____

Datum: _____

Kopfrechen-Hausaufgaben

Nimm deinen Tausenderzahlenstrahl! Du brauchst einen Bleistift! Jemand nennt dir 8 Zahlen bis 1000! Zeige mit deinem Stift auf die entsprechende Stelle am Zahlenstrahl! Nenne die Nachbarzahlen, Nachbarzehnerzahlen und Nachbarhunderterzahlen!



Lösungen:

Anzahl der richtigen Lösungen und Unterschrift: _____

Montag:

1	2	3	4	5	6	7	8
---	---	---	---	---	---	---	---

Dienstag:

1	2	3	4	5	6	7	8
---	---	---	---	---	---	---	---

Mittwoch:

1	2	3	4	5	6	7	8
---	---	---	---	---	---	---	---

Donnerstag:

1	2	3	4	5	6	7	8
---	---	---	---	---	---	---	---

Freitag:

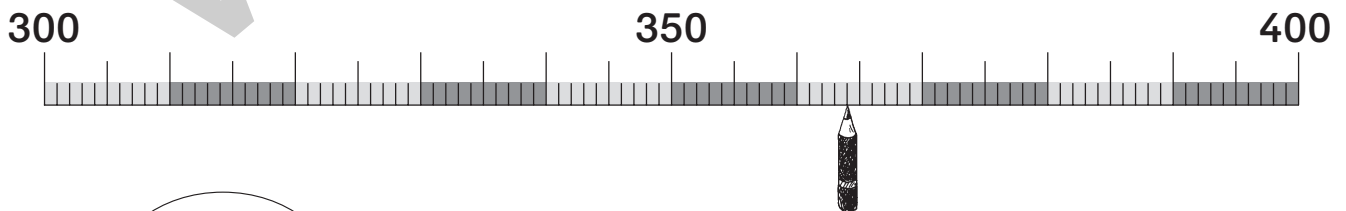
1	2	3	4	5	6	7	8
---	---	---	---	---	---	---	---

Name: _____

Datum: _____

Kopfrechen-Hausaufgaben

Nimm deinen Tausenderzahlenstrahl! Du brauchst einen Bleistift! Jemand nennt dir 8 Zahlen bis 1000! Zeige mit deinem Stift auf die entsprechende Stelle am Zahlenstrahl! Nenne die Nachbarzahlen, Nachbarzehnerzahlen und Nachbarhunderterzahlen!



Lösungen:

Anzahl der richtigen Lösungen und Unterschrift: _____

Montag:

1	2	3	4	5	6	7	8
---	---	---	---	---	---	---	---

Dienstag:

1	2	3	4	5	6	7	8
---	---	---	---	---	---	---	---

Mittwoch:

1	2	3	4	5	6	7	8
---	---	---	---	---	---	---	---

Donnerstag:

1	2	3	4	5	6	7	8
---	---	---	---	---	---	---	---

Freitag:

1	2	3	4	5	6	7	8
---	---	---	---	---	---	---	---

Mit Zehnern und Hundertern addieren und subtrahieren

Name: _____

Datum: _____

Kopfrechen-Hausaufgaben

Lasse dir täglich 8 Plus- oder Minusaufgaben mit Einern, Zehnern oder Hunderten ohne Zehnerübergang sagen! Löse die Aufgaben im Kopf! Wenn nötig, benutze deine Stellenwerttafel!

100	10
100	10
	10
	10
	10
	10
	10
	10



Sprich:
 $230 + 50 = 280$
 oder
 $280 - 50 = 230$

Lösungen:

Anzahl der richtigen Lösungen und Unterschrift: _____

Montag:	1	2	3	4	5	6	7	8	_____	<input type="checkbox"/>
Dienstag:	1	2	3	4	5	6	7	8	_____	<input type="checkbox"/>
Mittwoch:	1	2	3	4	5	6	7	8	_____	<input type="checkbox"/>
Donnerstag:	1	2	3	4	5	6	7	8	_____	<input type="checkbox"/>
Freitag:	1	2	3	4	5	6	7	8	_____	<input type="checkbox"/>

Name: _____

Datum: _____

Kopfrechen-Hausaufgaben

Lasse dir täglich 8 Plus- oder Minusaufgaben mit Einern, Zehnern oder Hunderten ohne Zehnerübergang sagen! Löse die Aufgaben im Kopf! Wenn nötig, benutze deine Stellenwerttafel!

100	10
100	10
	10
	10
	10
	10
	10
	10



Sprich:
 $230 + 50 = 280$
 oder
 $280 - 50 = 230$

Lösungen:

Anzahl der richtigen Lösungen und Unterschrift: _____

Montag:	1	2	3	4	5	6	7	8	_____	<input type="checkbox"/>
Dienstag:	1	2	3	4	5	6	7	8	_____	<input type="checkbox"/>
Mittwoch:	1	2	3	4	5	6	7	8	_____	<input type="checkbox"/>
Donnerstag:	1	2	3	4	5	6	7	8	_____	<input type="checkbox"/>
Freitag:	1	2	3	4	5	6	7	8	_____	<input type="checkbox"/>

Addition und Subtraktion mit zweistelligen Zahlen mit Übergang

Name: _____

Datum: _____

Kopfrechen-Hausaufgaben

Jemand schreibt dir täglich 8 Plus- oder Minusaufgaben mit Übergang und zweistelligen Zahlen bis 1000 auf! Löse die Aufgaben mit deiner Stellenwerttafel!

100	10	1
100	10	1
	10	1
	10	
	10	
	10	
	10	
	10	

z. B. $283 + 78 =$
oder $341 - 56 =$



Denke daran:
Du musst beim Übergang
den Hunderter oder Zehner
tauschen!

Lösungen:

Anzahl der richtigen Lösungen
und Unterschrift: _____

Montag:

1	2	3	4	5	6	7	8
---	---	---	---	---	---	---	---

Dienstag:

1	2	3	4	5	6	7	8
---	---	---	---	---	---	---	---

Mittwoch:

1	2	3	4	5	6	7	8
---	---	---	---	---	---	---	---

Donnerstag:

1	2	3	4	5	6	7	8
---	---	---	---	---	---	---	---

Freitag:

1	2	3	4	5	6	7	8
---	---	---	---	---	---	---	---

Name: _____

Datum: _____

Kopfrechen-Hausaufgaben

Jemand schreibt dir täglich 8 Plus- oder Minusaufgaben mit Übergang und zweistelligen Zahlen bis 1000 auf! Löse die Aufgaben mit deiner Stellenwerttafel!

100	10	1
100	10	1
	10	1
	10	
	10	
	10	
	10	
	10	

z. B. $283 + 78 =$
oder $341 - 56 =$



Denke daran:
Du musst beim Übergang
den Hunderter oder Zehner
tauschen!

Lösungen:

Anzahl der richtigen Lösungen
und Unterschrift: _____

Montag:

1	2	3	4	5	6	7	8
---	---	---	---	---	---	---	---

Dienstag:

1	2	3	4	5	6	7	8
---	---	---	---	---	---	---	---

Mittwoch:

1	2	3	4	5	6	7	8
---	---	---	---	---	---	---	---

Donnerstag:

1	2	3	4	5	6	7	8
---	---	---	---	---	---	---	---

Freitag:

1	2	3	4	5	6	7	8
---	---	---	---	---	---	---	---