

- Station 3 **Labyrinth**
Buntstifte bereitlegen.
- Station 5 **Kippbilder**
Würfel bereitlegen.
- Station 6 **Würfel kippen**
2 Würfel und Sichtschutz bereitlegen.
- Station 7 **Links und rechts**
Bei der Lösung werden die Seiten so angegeben, wie man sie beim Betrachten des Bildes sieht.

Geometrische Formen

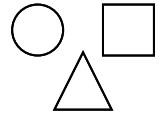
Die Seiten 50 bis 61 bitte in entsprechender Anzahl vervielfältigen und für die Schüler bereitlegen. Als Möglichkeit zur Selbstkontrolle können Lösungsseiten erstellt werden.

- Station 1 **Geometrische Formen suchen**
Buntstifte bereitlegen.
- Station 3 **Geometrische Formen sortieren**
Schere und Kleber bereitlegen.
- Station 4 **Formenstadt**
Buntstifte bereitlegen.
- Station 5 **Meine eigene Formenstadt**
Arbeitsblatt auf DIN A3 vergrößern.
Schere, Kleber, Buntstifte und DIN-A4-Papier bereitlegen.
- Station 7 **Figuren legen**
3 verschiedenfarbige DIN-A4-Blätter und eine Schere bereitlegen.
- Station 8 **Figuren nachlegen**
Aus Papier erstellte Formen (Quadrat, Rechteck, Dreieck) bereitlegen.
- Station 9 **Falten**
Quadratisches Papier bereitlegen.
- Station 10 **Legepuzzle**
Quadratisches Papier, Schere und Lineal bereitlegen.

Körperformen

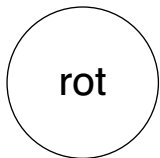
Die Seiten 62 bis 69 bitte in entsprechender Anzahl vervielfältigen und für die Schüler bereitlegen. Als Möglichkeit zur Selbstkontrolle können Lösungsseiten erstellt werden.

- Station 1 **Körperformen suchen**
Buntstifte bereitlegen.
- Station 3 **Körperformen im Kinderzimmer**
Buntstifte bereitlegen.
- Station 4 **Körperformen sortieren**
Schere und Buntstifte bereitlegen.
- Station 5 **Körperformen in der Umwelt**
Buntstifte bereitlegen.
- Station 6 **Körperabdrücke**
Verschiedene Körper, Wasserfarben, Wasserbehälter, Pinsel und Buntstifte bereitlegen.
- Station 7 **Würfelnetze**
Schere, Buntstifte und Klebestift bereitlegen.
- Station 8 **7 Punkte?**
Schere, Buntstifte und Kleber bereitlegen.



Aufgaben

1. Umrande die Formen in den richtigen Farben.
2. Zähle die Anzahl der einzelnen Formen.
3. Schreibe sie auf.



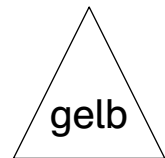
___ Kreise




___ Quadrate



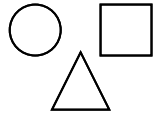
___ Rechtecke



___ Dreiecke




4. Lies und male:
 - Male den größten Kreis schwarz aus.
 - Male die Form rechts neben diesem Kreis orange aus.
 - Male die beiden gleichgroßen Quadrate lila aus.
 - Male das kleinste Dreieck braun aus.
 - Male die Form links neben diesem Dreieck bunt aus.



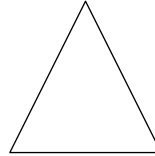
Aufgaben

1. Lies die Texte und fülle die Lücken aus.



Das Quadrat hat _____ Ecken.
 Es besitzt _____ Seiten.
 Alle Seiten sind _____.

Das fällt mir auf:




Das Dreieck hat _____ Ecken.
 Es besitzt _____ Seiten.

Das fällt mir auf:



Das Rechteck hat _____ Ecken.
 Es besitzt _____ Seiten.
 Immer zwei gegenüberliegende Seiten sind _____.

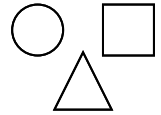
Das fällt mir auf:



Der Kreis hat _____ Ecken.
 Er besitzt _____ Seiten.





Das fällt mir auf:


★ ★ ★ Vergleiche das Quadrat mit dem Rechteck.
 ★ ★ ★ Gib es Unterschiede? Gemeinsamkeiten?
 Was fällt dir auf?
 Notiere.

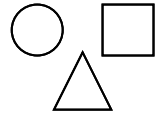


Aufgaben

1. Schneide die Bilder aus.
2. Sortiere sie der Form nach.
3. Klebe sie in die richtige Spalte.





			










Aufgaben

1. Sieh dir das Bild an. Zähle die einzelnen Formen.
2. Trage ihre Anzahl in der Tabelle ein.

-   Wähle eine Farbe für jede Form.
  Male sie an.



3. Zeichne 2 Häuser. Verwende dafür die oberen Formen.
4. Notiere die Anzahl der Formen.
5. Vergleiche beide Häuser und schreibe auf.



__ , __ , __ , __ 

__ , __ , __ , __ 