














<p><b>Niagara-Fälle</b></p>  <p>1 USA/ Kanada</p>	<p><b>Tower Bridge</b></p>  <p>London, England 16</p>	<p><b>Eiffelturm</b></p>  <p>15 Paris, Frankreich</p>	<p><b>Kl. Meerjungfrau</b></p>  <p>14 Kopen- hagen, Däne- mark</p>	<p><b>Kolosseum</b></p>  <p>13 Rom, Italien</p>	<p><b>Basilius Kathedrale</b></p>  <p>12 Moskau, Russland</p>
<p><b>Freiheitsstatue</b></p>  <p>New York, USA 2</p>					<p><b>11</b> Agra, Indien</p> 
<p><b>Grand Canyon</b></p>  <p>USA 3</p>					<p><b>10</b> China</p> 
<p><b>Osterinsel</b></p>  <p>4 Steingiganten</p>					<p><b>5</b> Rio de Janeiro, Brasilien</p> 

## Sehenswürdigkeiten und Naturwunder



Finde die Namen der Sehenswürdigkeiten heraus!  
(Zahlen durch Buchstaben ersetzen). In welcher Stadt  
bzw. welchem Land sind sie?



5,9,6,6,5,12,20,21,18,13



1,25,5,18,19 18,15,3,11



16,25,18,1,13,9,4,5,14



20,15,23,5,18 2,18,9,4,7,5



1,11,18,15,16,15,12,9,19



15,16,5,18

A=1, B=2, C=3, D=4, E=5, F=6, G=7, H=8, I=9, J=10,  
K=11, L=12, M=13, N=14, O=15, P=16, Q=17, R=18,  
S=19, T=20, U=21, V=22, W=23, X=24, Y=25, Z=26

<b>Memory</b>			
<p>Eiffelturm Paris Frankreich</p>	<p>Pyramiden Ägypten</p>	<p>Grand Canyon USA</p>	<p>Akropolis Athen Griechen- land</p>
<p>Oper Sidney Australien</p>	<p>Ayers Rock Australien</p>	<p>Basilius- Kathedrale Moskau Russland</p>	<p>Freiheits- statue New York USA</p>
<p>Niagara- Fälle USA/ Kanada</p>	<p>Stein- giganten Osterinsel</p>	<p>Corcovado Rio de Janeiro Brasilien</p>	<p>Chinesische Mauer China</p>
<p>Tadsch Mahal Agra Indien</p>	<p>Kolosseum Rom Italien</p>	<p>Kleine Meerjungfrau Kopenhagen Dänemark</p>	<p>Tower Bridge London England</p>

## Sehenswürdigkeiten und Naturwunder der Erde



Bei diesem Rätselspiel geht es darum, einige Sehenswürdigkeiten und Naturwunder der Erde kennen zu lernen. Für jede einzelne Abbildung gilt es, Name und Ort herauszufinden. Zwei Rätsel auf den Kopiervorlagen helfen dabei. Das Zahlenrätsel (Kopiervorlagen 2-4) verrät die Namen, in dem Memoryspiel werden zusätzlich die Orte genannt. Die Übersicht (Folien) kann als Lernkontrolle eingesetzt werden.

### Niagara-Fälle

Sie sind durch die Ziegeninsel in den 790 m breiten, 49 m hohen kanadischen Hufeisenfall und den 350 m breiten, 51 m hohen amerikanischen Fall getrennt. Die Fälle sind Teil des Niagara River. Dieser Abfluss des Eriesees zum Ontariosee bildet auf der Länge von 55 km die Grenze zwischen den USA und Kanada. Er hat neben den Niagara-Fällen zahlreiche Stromschnellen.

### Freiheitsstatue

Die Statue wurde als Symbol der Freiheit am Hafeneingang von New York errichtet. Sie war ein Geschenk Frankreichs und wurde 1886 aufgestellt. Die 46 m hohe Figur steht auf einem 47 m hohen Sockel.



### Grand Canyon

Der Grand Canyon liegt im US-Bundesstaat Arizona. Er ist ein etwa 350 km langes, zwischen 6 und 30 km breites schluchtartiges Tal durch das der Colorado River fließt.

### Steingiganten der Osterinseln

Die chilenische Osterinsel liegt im südöstlichen Pazifik und ist etwa 180 km<sup>2</sup> groß. Die Insel wurde am Ostersonntag 1722 von J. Roggveen entdeckt. Die Urbevölkerung der Insel hat die rätselhaften Steinbilder (Mohai) und die Plattformen errichtet. Erst seit 1888 ist die Insel chilenisch.

### Corcovado

Steil ragt der von einer Christusstatue gekrönte Berg aus dem Stadtgebiet Rio de Janeiros auf. "Der Gebuckelte" ist 704 m hoch. Mit einer Zahnradbahn kann man zum Gipfel bequem hinauffahren, um die Aussicht über die Stadt zu genießen.

### Akropolis

Eine Festung auf dem Burgberg einer griechischen Stadt bezeichnet man als Akropolis. Besonders berühmt ist die Akropolis in Athen. Dort steht der Tempel der Athena, der griechischen Göttin der Stadt. Die griechische Mythologie beschreibt Athena als Lieblingstochter des Zeus. Sie galt als Göttin des Krieges und des Friedens, der Weisheit, der Künste und des Handwerkes. Erbaut wurde der Tempel 448-432 v. Chr.

### Pyramiden

Pyramiden sind Grabanlagen der ägyptischen Pharaonen des Alten und des Mittleren Reiches (bis 1780 v. Chr.). Sie weisen in der Regel eine quadratische Grundfläche auf. Die Pharaonen ließen die Pyramiden schon zu ihren Lebzeiten errichten.