

## Addition und Subtraktion bis 1 000 (1a)

Name: \_\_\_\_\_

**Aufgabe:** Schneide die Lösungskärtchen aus. Löse die Rechenaufgaben und lege dann das entsprechende Kärtchen auf die Aufgabe.


$797 + 125$	$618 + 34$	$956 - 58$	$692 - 66$
$125 + 266$	$587 - 188$	$569 + 320$	$147 + 258$
$503 - 204$	$664 + 332$	$648 - 258$	$138 + 654$
$269 + 140$	$608 - 409$	$504 - 303$	$716 + 209$
$222 + 699$	$114 + 441$	$668 - 332$	$567 - 432$

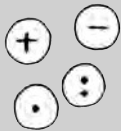


# Addition und Subtraktion bis 1000 (1b)

Name: \_\_\_\_\_

## Lösungskärtchen





# Addition und Subtraktion bis 1000 (2)

Name: \_\_\_\_\_

**Aufgabe:** Welche Zahlen musst du einsetzen, damit die Aufgabe stimmt?  
Male die entsprechenden Zahlen farbig an.



a)  $234 - 1\text{☺} = 2\text{☺}8$   
 $\text{☺}99 + 126 = 625$   
 $79\text{☺} - 3\text{☺}0 = \text{☺}53$   
 $28\text{☺} + \text{☺}61 = 642$   
 $99\text{☺} - \text{☺}88 = 1\text{☺}1$

0	6	1	3
4	5	3	2
3	5	4	4
1	2	4	3
7	9	8	1

b)  $832 - 1\text{☺}3 = 72\text{☺}$   
 $29\text{☺} + 433 = \text{☺}24$   
 $5\text{☺}2 - 2\text{☺}9 = 223$   
 $17\text{☺} + \text{☺}52 = 422$   
 $1\text{☺}\text{☺}0 - \text{☺}77 = 22\text{☺}$

0	6	1	9
1	2	3	7
2	3	4	9
0	4	5	2
0	0	7	3

c)  $7\text{☺}1 + 26\text{☺} = \text{☺}0\text{☺}0$   
 $\text{☺}28 + 556 = 7\text{☺}4$   
 $69\text{☺} - 3\text{☺}0 = 390$   
 $15\text{☺} - \text{☺}13 = 46$   
 $39\text{☺} + \text{☺}52 = 846$

3	9	1	0
4	2	8	7
3	0	0	4
5	9	1	3
3	4	4	1

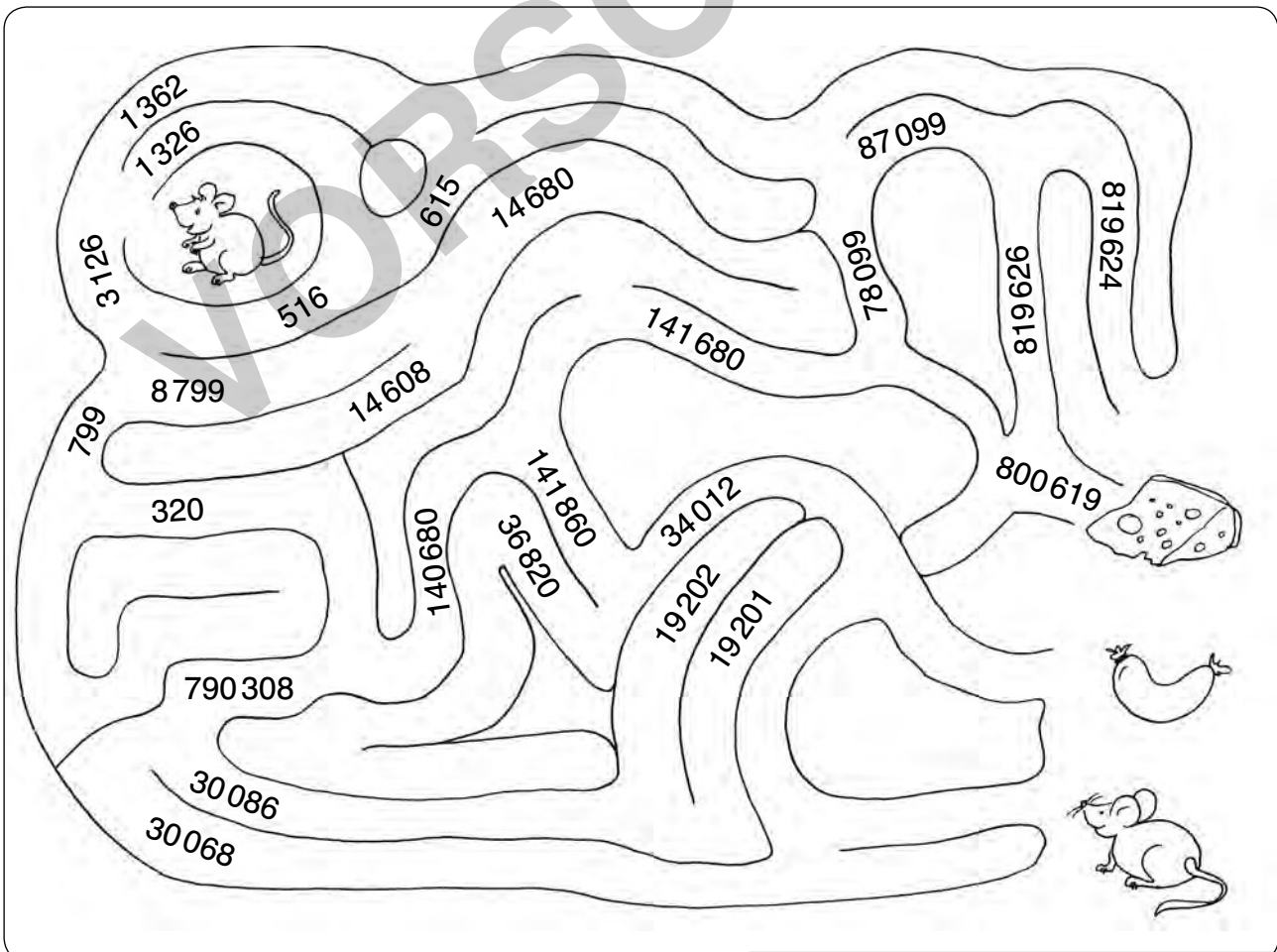


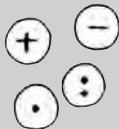
# Die Zahlen bis 1 000 000 (1)

Name: \_\_\_\_\_

**Aufgabe:** Schreibe die Zahlwörter als Zahl.  
Verbinde dann die Zahlen im Irrgarten und finde so den Weg hinaus.

- a) eintausenddreihundertsechszwanzig: \_\_\_\_\_
- b) fünfhundertsechzehn: \_\_\_\_\_
- c) achtausendsiebenhundertneunundneunzig: \_\_\_\_\_
- d) vierzehntausendsechshundertachtzig: \_\_\_\_\_
- e) einhunderteinundvierzigtausendsechshundertachtzig: \_\_\_\_\_
- f) achtundsiebzigttausendneunundneunzig: \_\_\_\_\_
- g) siebenundachtzigtausendneunundneunzig: \_\_\_\_\_
- h) achthundertneunzehntausendsechshundertsechszwanzig: \_\_\_\_\_
- i) achthunderttausendsechshundertneunzehn: \_\_\_\_\_





## Die Zahlen bis 1 000 000 (2)

Name: \_\_\_\_\_

**Aufgabe:** Setze die Zahlenreihen fort.  
Kontrolliere, indem du die entsprechenden Zahlenfelder ausmalst.

- a) 1 000, 2 000, 3 000, \_\_\_\_\_
- b) 1 000 000, 950 000, 900 000, \_\_\_\_\_
- c) 2 770, 2 870, 2 970, \_\_\_\_\_
- d) 16 421, 18 421, \_\_\_\_\_
- e) 145 000, 139 000, 133 000, \_\_\_\_\_
- f) 4 560, 5 670, 6 780, \_\_\_\_\_
- g) 198 000, 196 999, 195 998, \_\_\_\_\_
- h) 350, 700, 1 050, \_\_\_\_\_
- i) 999 000, 899 000, \_\_\_\_\_

