

Lernpaket 1

Aufgaben zum Kleinen 1x1

Level 3 von 3: Anspruchsvolle Aufgaben **★★★**

Zielgruppen

Grundschule: ab Klasse 2

Förderschule: ab Klasse 3

Förderschwerpunkt

Mathematisches Denktraining

Aufgabe

Die Kinder sollen jeweils zwölf Kopfrechenaufgaben lösen. Die Selbstkontrolle wird jeweils durch ein Kontrollmuster ermöglicht.

Nutzen

Die Kinder stärken ihre Kopfrechenfähigkeit sowie ihr mathematisches Denk- und Kombinationsvermögen.

Besonderer Hinweis

Diese Rechenreihe wird kontinuierlich fortentwickelt. Für Rückfragen, Anregungen und Hinweise ist der Autor sehr dankbar:

michaeljunga@t-online.de

Materialumfang

1 Informationsblatt,

24 Übungsvorlagen,

24 Lösungsvorlagen.

Über so eine Rückmeldung freut sich jedes Kind!



Aufgaben zum Kleinen 1×1 der 2 - A

Schreibe deine Lösungen jeweils in die runden Felder und verbinde dann im Kontroll-Block die Aufgaben-Buchstaben mit den Lösungszahlen.

A

1 mehr
als das
2fache von 2

B

1 weniger
als das
7fache von 2

C

1 mehr
als das
9fache von 2

D

1 weniger
als das
4fache von 2

E

1 mehr
als das
10fache von 2

F

1 weniger
als das
2fache von 2

G

1 mehr
als das
8fache von 2


Kontroll-Block

H

1 weniger
als das
6fache von 2

I

1 mehr
als das
0fache von 2

A	■	■	(19)
B	■	■	(13)
C	■	■	(5)
D	■	■	(21)
E	■	■	(7)
F	■	■	(11)
G	■	■	(1)
H	■	■	(3)
I	■	■	(17)
J	■	■	
K	■	■	(9)
L	■	■	(15)

J


1 weniger
als das
8fache von 2



K

1 mehr
als das
4fache von 2

L



Aufgaben zum Kleinen 1×1 der 2 - B

Schreibe deine Lösungen jeweils in die runden Felder und verbinde dann im Kontroll-Block die Aufgaben-Buchstaben mit den Lösungszahlen.

A

1 mehr
als das
3fache von 2

B

1 weniger
als das
9fache von 2

C

1 mehr
als das
0fache von 2

D

1 weniger
als das
2fache von 2

E

1 mehr
als das
4fache von 2

F

1 weniger
als das
7fache von 2

G

1 mehr
als das
10fache von 2


Kontroll-Block

H

1 weniger
als das
8fache von 2

I

1 mehr
als das
5fache von 2

A	■	■	<input type="text" value="1"/>
B	■	■	<input type="text" value="17"/>
C	■	■	<input type="text" value="7"/>
D	■	■	<input type="text" value="13"/>
E	■	■	<input type="text" value="21"/>
F	■	■	<input type="text" value="3"/>
G	■	■	<input type="text" value="9"/>
H	■	■	<input type="text" value="11"/>
I	■	■	<input type="text" value="15"/>
J	■	■	
K	■	■	<input type="text" value="19"/>
L	■	■	<input type="text" value="5"/>

J

1 weniger
als das
3fache von 2



K

1 mehr
als das
9fache von 2

L



Aufgaben zum Kleinen 1x1 der 6 - A

Schreibe deine Lösungen jeweils in die runden Felder und male dann die Lösungsfelder im Kontroll-Block farbig aus!

A

2 mehr
als das
3fache von 6

B

1 weniger
als das
6fache von 6

C

2 mehr
als das
0fache von 6

D

1 weniger
als das
10fache von 6

E

2 mehr
als das
4fache von 6

F

1 weniger
als das
7fache von 6

G

2 mehr
als das
1fache von 6

Kontroll-Block

	59	32	
47	34	43	2
9	56	20	52
13	41	17	57
35	27	49	8
	11	26	

H

1 weniger
als das
8fache von 6

I

2 mehr
als das
5fache von 6

J

1 weniger
als das
2fache von 6

K

2 mehr
als das
9fache von 6

L


1 weniger
als das
3fache von 6





Lösung


Aufgabenmix 3 zum Kleinen 1x1 - A


Schreibe deine Lösung in den Kreis und zeichne dann das Muster unten in das Feld mit der Lösungszahl!


A  30
 2 mehr als das
 4fache von 7


B  31
 1 weniger als das
 8fache von 4


C  23
 1 weniger als das
 3fache von 8


D  44
 2 mehr als das
 6fache von 7


E  58
 2 mehr als das
 7fache von 8


F  35
 1 weniger als das
 4fache von 9


G  47
 1 weniger als das
 8fache von 6

H  22
 2 mehr als das
 5fache von 4

I  32
 2 mehr als das
 6fache von 5

J  26
 1 weniger als das
 3fache von 9

K  39
 1 weniger als das
 5fache von 8


L  37
 2 mehr als das
 7fache von 5

Kontrollmuster


			58	47		
44	32				39	31
37	30				35	22
			26	23		

Aufgabenmix 4 zum Kleinen 1x1 - A


Schreibe deine Lösung in den Kreis und zeichne dann das Muster unten in das Feld mit der Lösungszahl!

A  29


2 mehr als das
9fache von 3

B  34


1 weniger als das
5fache von 7

C  27


1 weniger als das
7fache von 4

D  42


2 mehr als das
8fache von 5

E  83


2 mehr als das
9fache von 9

F  41


1 weniger als das
7fache von 6

G  20


1 weniger als das
3fache von 7

H  26


2 mehr als das
8fache von 3

I  38

2 mehr als das
9fache von 4

J  19

1 weniger als das
4fache von 5





K  48

1 weniger als das
7fache von 7

L  50

2 mehr als das
6fache von 8

Kontrollmuster

		20	48		
38	83			26	34
42	41			27	50
		19	29		