

Arbeitsheft

zur Zahlraumerweiterung ZR 100

Als Ergänzung zu den bewährten Stationen zur Zahlraumerweiterung ZR 100 gibt es jetzt ein Arbeitsheft in DIN-A4 mit 14 Seiten. Das Heft ist aber auch unabhängig von den Stationen, sowie unabhängig vom verwendeten Lehrbuch zu benutzen.

Themen sind:

- bündeln
- die Mengendarstellung mit Zehnerbalken und Einerquadraten
- Stellenwerttafel
- Zahlwort
- Vergleichen und sortieren
- Hunderterfeld
- Ausschnitte aus dem Hunderterfeld
- Wege im Hunderterfeld
- Vorgänger und Nachfolger
- Nachbarzehner
- Ergänzen zum nächsten Zehner
- Ergänzen zur 100
- Zahlenstrahl

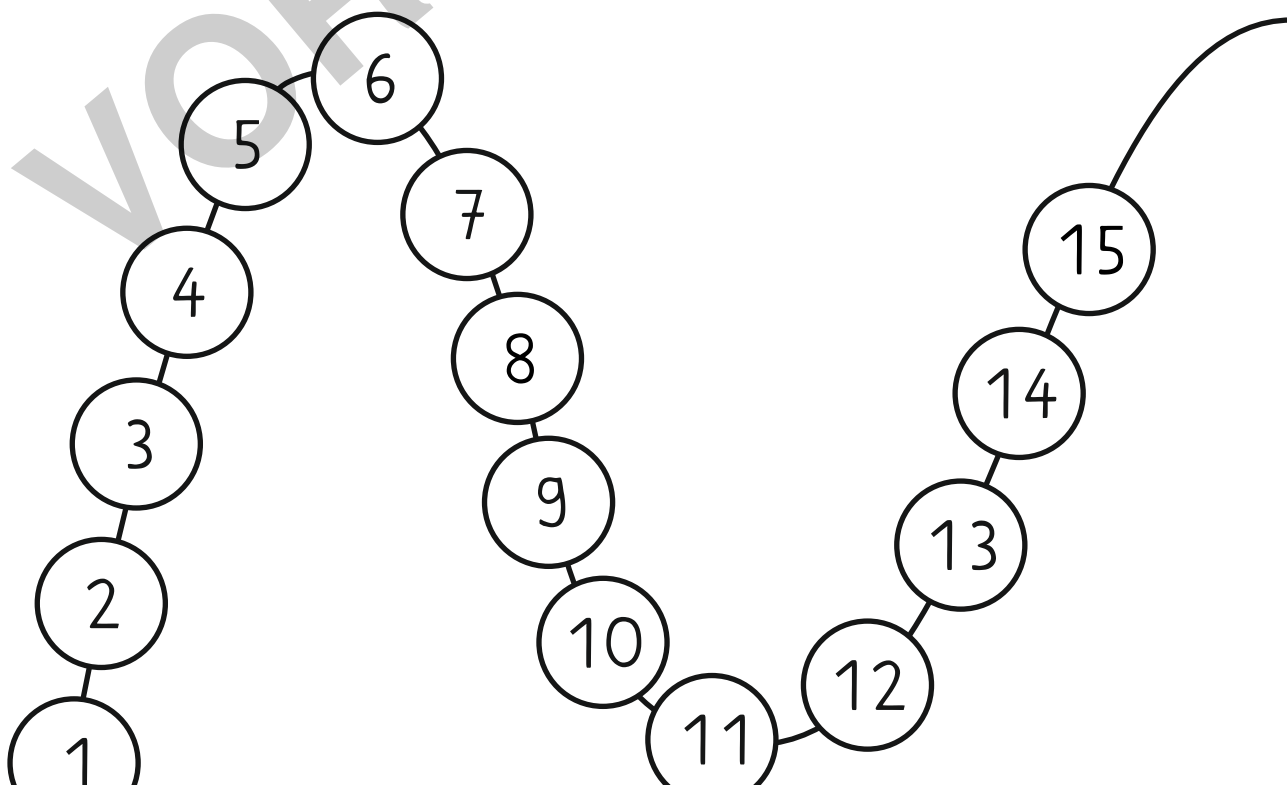
Das Arbeitsheft liegt einmal für den einseitigen Ausdruck vor, falls man nur bestimmte Seiten für einen Schüler auswählen möchte, aber auch für den doppelseitigen Ausdruck, wenn das Heft komplett genutzt werden soll.

Für die Nutzung ohne die Stationen gibt es das Arbeitsheft (einseitig und doppelseitig) mit einem anderen, neutralen Deckblatt.

Zahlen bis 100

Heft
von

Die Stationen habe ich geschafft:




© Matobe-Verlag - Bettina Rordorf




netzwerk
lernen

zur Vollversion


Bündele und schreibe die Zahl auf.



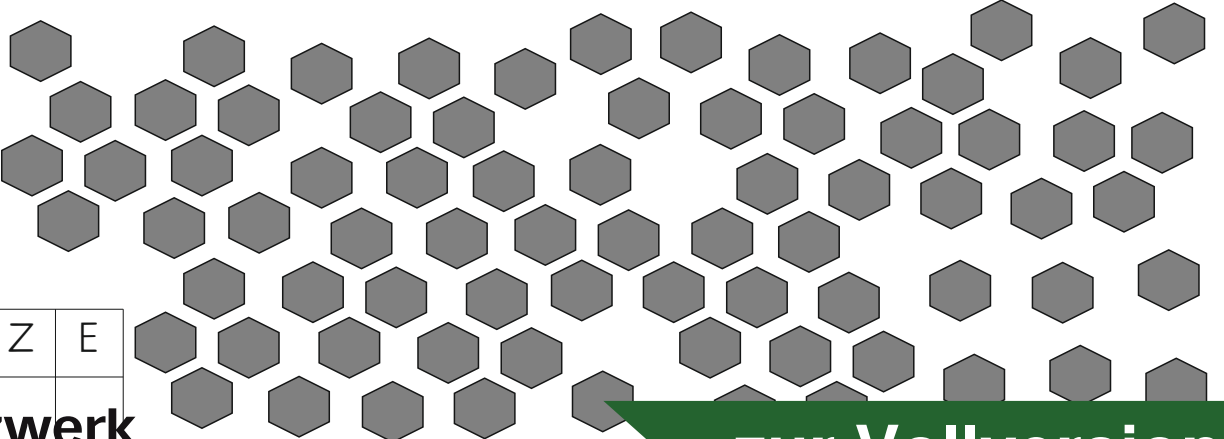
Z	E



Z	E



Z	E



Z	E

© Matobe-Verlag - Bettina Rordorf










netzwerk
lernen




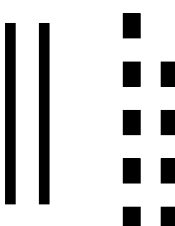



zur Vollversion

Verbinde mit der richtigen Zahl. Benutze unterschiedliche Farben.

© Matobe-Verlag - Bettina Rordorf

43
49
81
36
83
77
80
25
15
54
11
58
76
29

Setze $>$, $=$ oder $<$ ein.

46	47
76	81
91	11
57	34
90	80
34	43
65	56
25	35
87	87

23	45
51	15
87	78
34	43
31	37
52	52
62	26
65	56
37	87

© Matobe-Verlag - Bettina Rordorf







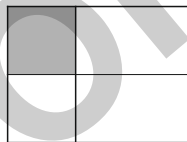

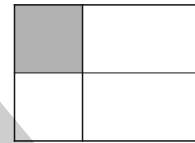

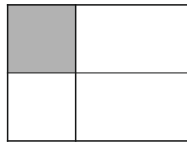
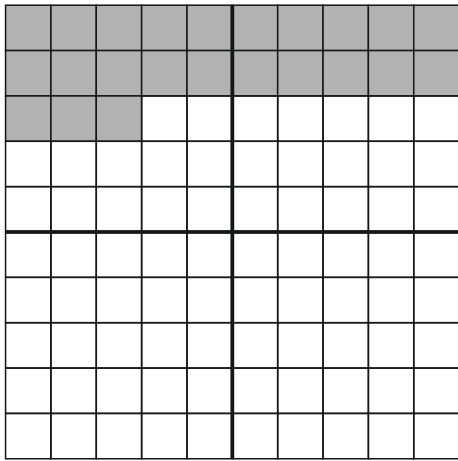
Setze eine passende Zahl ein.

27	$>$	—
60	$>$	—
15	$<$	—
89	$<$	—
40	$=$	—
21	$<$	—
56	$>$	—
19	$>$	—
90	$<$	—

—	$<$	56
—	$<$	78
—	$>$	15
—	$>$	71
—	$>$	34
—	$<$	11
—	$=$	38
—	$<$	42
—	$>$	95



Schreibe die Zahl auf und ergänze bis 100.



© Matobe-Verlag - Bettina Rordorf

Schreibe Vorgänger und Nachfolger auf.

	26	
	47	
	50	
	9	
	79	
	80	
	61	
	33	
	70	

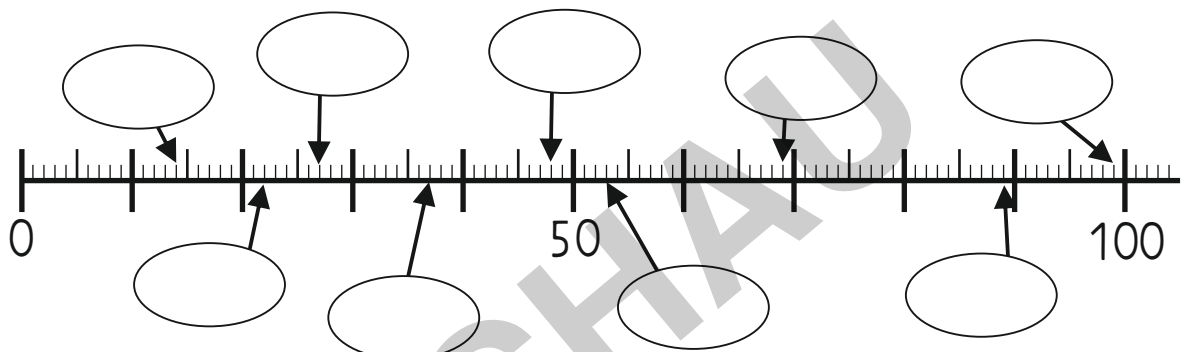
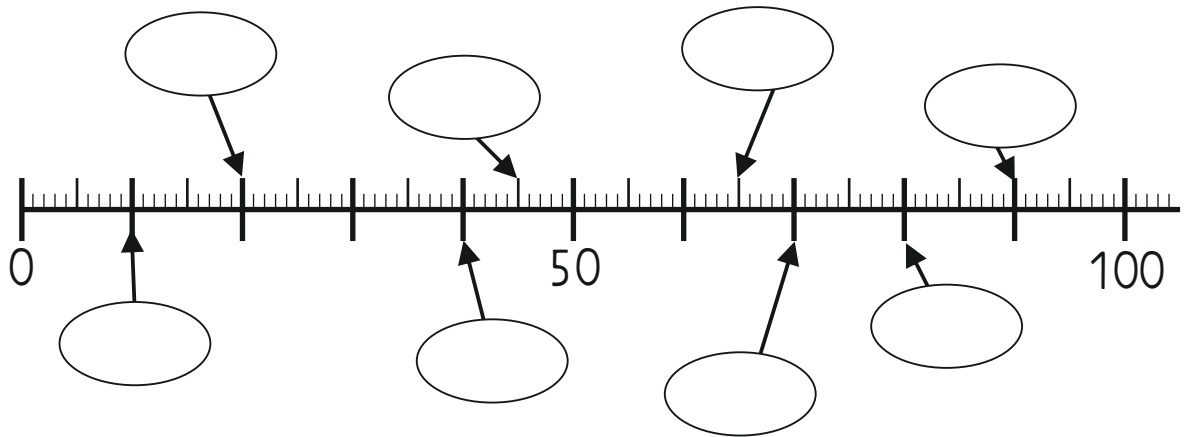
	4	
	29	
	31	
	82	
	48	
	19	
	40	
	99	
	59	

Schreibe die Nachbarzehner auf.

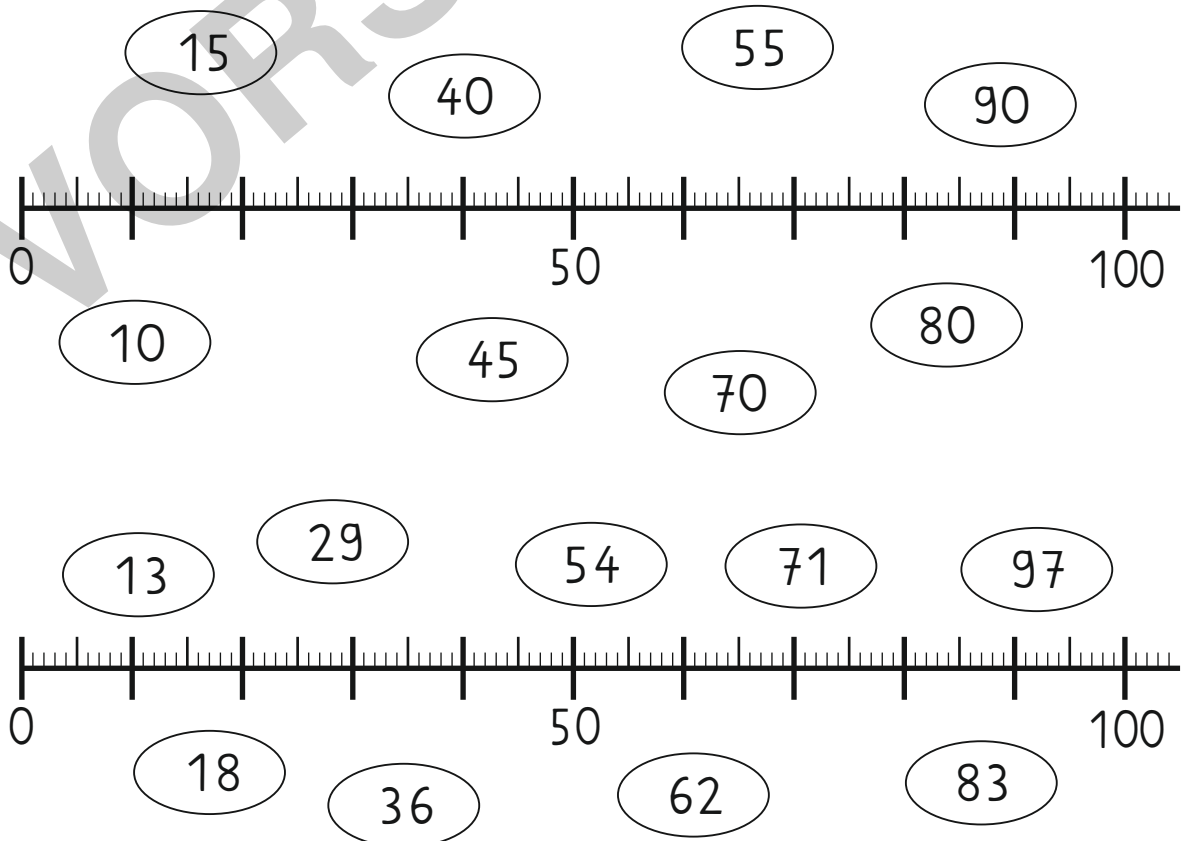
	29	
	74	
	45	
	38	
	61	
	93	
	17	
	59	
	83	

	62	
	88	
	15	
	39	
	75	
	23	
	94	
	48	
	52	

Welche Zahlen sind hier ?



Verbinde die Zahlen mit dem Zahlenstrahl.



© Matobe-Verlag - Bettina Rordorf

