



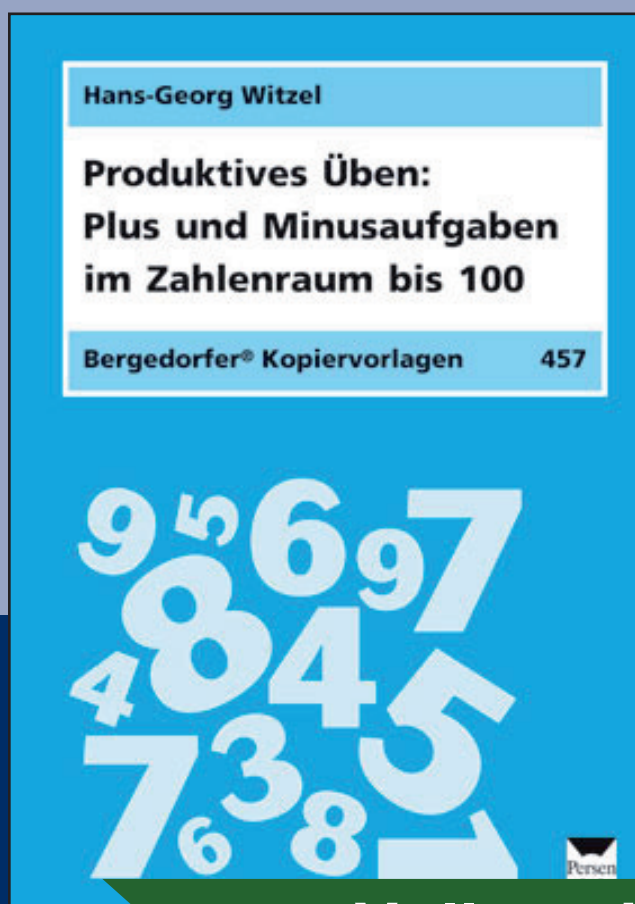
DOWNLOAD

Hans-Georg Witzel

Rechenmauern, Rechenrätsel & Co.



Plus und Minus im Zahlenraum bis 20

VORSCHAU




Downloadauszug
aus dem Originaltitel:


1. Finde eigene Aufgaben mit $+$ und $-$.




2. Schreibe Aufgaben mit $+$ in die Aufgabensonne.




1. Trage die fehlenden Zahlen ein.



$4 +$
 $6 +$
 $9 + 8$
 $12 +$
 $2 +$
 $19 -$



$3 +$
 $20 -$
 $15 -$
 $12 -$
 $14 -$
 $18 -$



$3 +$
 $20 -$
 $18 -$
 $8 +$
 $7 +$
 $6 +$

2. Ergänze die Rechenrätsel.




9	+		=	16
-	?	-	?	-
	+		=	
=	?	=	?	=
9	+		=	12

	+	8	=	16
-	?	-	?	-
5	+		=	
=	?	=	?	=
	+		=	7


	+	8	=	
+	?	-	?	+
	-		=	6
=	?	=	?	=
13	+		=	20

1. Verbinde die Aufgabe mit dem Ergebnis.



$9 + 5 =$	7
$8 + 8 =$	12
$15 - 8 =$	16
$4 + 8 =$	6
$13 - 7 =$	14
$7 + 8 =$	13
$19 - 6 =$	15

1. Berechne die Rechenmauern.




5	3	4

4	4	4


3	5	3

	17	
	9	
	4	




	16	
	7	
		2

	19	
	12	
	2	




		7
5	2	

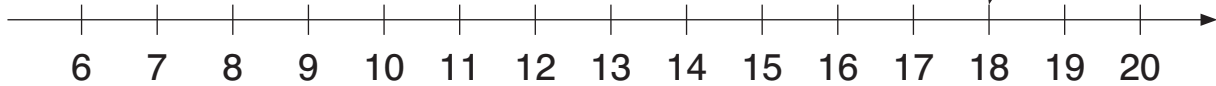


	18	
		7
	5	

1. Verbinde die Aufgaben mit dem Ergebnis.



$14 - 8 =$ $7 + 5 =$ $5 + 8 =$ $9 + 9 =$




$6 + 7 =$ $13 - 6 =$ $18 - 5 =$ $8 + 7 =$

2. Male die Sterne mit dem Ergebnis 6 gelb.
Male die Sterne mit dem Ergebnis 7 rot.

$15 - 9$ $16 - 10$ $12 - 6$ $15 - 8$
 $12 - 5$ $13 - 7$ $19 - 12$ $18 - 12$
 $14 - 7$

3. Rechne die Aufgaben. Schreibe die Buchstaben unter das richtige Ergebnis.



L
A
S
K
E

$12 + 6 =$	$8 + 7 =$	$14 - 8 =$	$6 + 7 =$	$16 - 9 =$
------------	-----------	------------	-----------	------------

13	18	15	6	6	7