



DOWNLOAD


P. Schön/A. Pogoda Saam

11 Rechen- geschichten zum Zahlenraum bis 20



Downloadauszug
aus dem Originaltitel:

Minus-Geschichten



		-		=		
--	--	---	--	---	--	--




		-		=		
--	--	---	--	---	--	--



Sprich:
Zuerst waren es ...
dann ...
und zuletzt ...

Minus-Geschichten



		-		=	
--	--	---	--	---	--



--	--	--	--	--	--



Minus-Geschichten



--	--	--	--	--	--



--	--	--	--	--	--



Minus-Geschichten



--	--	--	--	--	--	--



--	--	--	--	--	--	--



Im Zooladen



Oma hat Nina einen Hamster gekauft.
 Nun muss Nina einkaufen.
 Sie hat 20 €. Reicht ihr Geld?
 Nina kauft:



--	--	--	--

	€
--	---



--	--	--	--

	€
--	---



	€
--	---


Es kostet:

									€
--	--	--	--	--	--	--	--	--	---

Auf dem Flohmarkt



Tina kauft:



Rechnung:

Tina bezahlt: €

Tom kauft:



Rechnung:

Tom bezahlt: €

Uwe kauft:



Er zahlt nur die Hälfte!

Rechnung:

Uwe bezahlt: €

Peter kauft:





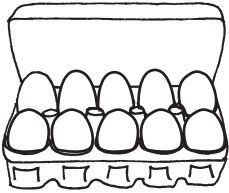
Er zahlt nur die Hälfte!

Rechnung:

Peter bezahlt: €

Einfache Rechengeschichten

① Wie kannst du halbieren?
Male und rechne!



	=		+	
--	---	--	---	--

	=		+	
--	---	--	---	--

	=		+	
--	---	--	---	--

② Löse die Rechengeschichten!

Wir wissen: Alina hat 4 Murmeln.
Lilo hat doppelt so viele!



Wie viele Murmeln hat Lilo?

--	--	--	--	--



Lilo hat Murmeln.




Wir wissen: Peter hat 12 Pralinen.
Er teilt mit Tom.



Wie viele Pralinen bekommt jeder?

--	--	--	--	--



Jeder bekommt Pralinen.

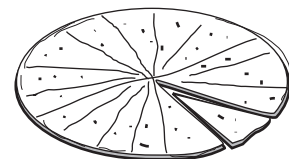


Wir wissen: Martin und Tim teilen sich eine Pizza.
Die Pizza hat 16 Stücke.



Wie viel Stücke bekommt jeder?

--	--	--	--	--



Jeder bekommt Pizzastücke.



③ Erfinde selbst eine Rechengeschichte! Male und rechne! (Schreib sie in dein Heft)

Einfache Rechengeschichten

Wir wissen: 20 Kinder sind im Schwimmbad.
9 Kinder gehen zum Duschen.





--	--	--	--	--	--	--	--	--	--



Wir wissen:  20 Kinder fahren mit dem Schulbus.
Zuerst steigen 3 Kinder aus und dann 8 Kinder.





--	--	--	--	--	--	--	--	--	--



Wir wissen: 20 Kinder sind auf dem Pausenhof.
Es klingelt. 7 Kinder gehen gleich rein.





--	--	--	--	--	--	--	--	--	--



Schnecken-Rechengeschichten

Wir wissen:



Im Terrarium einer Klasse befinden sich 8 Schnecken. Die Kinder konnten beobachten, wie eine Schnecke Eier gelegt hat. Nach einer Zeit schlüpfen 12 Jungschnecken aus.






--	--	--	--	--	--	--	--



Wir wissen:

Im Terrarium einer Klasse befinden sich 19 Schnecken. Eines Tages vergisst Tim die Abdeckung des Terrariums richtig zu verschließen. Über Nacht kriechen 8 Schnecken aus dem Terrarium.





--	--	--	--	--	--	--	--



Schneckenrennen

Wir wissen: Maria, Luisa und Tim machen mit ihren Schnecken ein Schneckenrennen. Um 10 Uhr kriechen die Schnecken von der Startlinie los! Marias Schnecke erreicht um 12 Uhr als Erste das Ziel. Tims Schnecke trifft dort als Zweite 2 Stunden später ein. Luisas Schnecke hat auf dem Weg eine Pause eingelegt und kommt 3 Stunden nach Tims Schnecke endlich im Ziel an.



1. Wie lange braucht Marias Schnecke für die Strecke?



--	--	--	--	--	--	--	--	--	--	--





2. Um wie viel Uhr trifft Tims Schnecke im Ziel ein?



--	--	--	--	--	--	--	--	--	--	--





3. Um wie viel Uhr trifft Luisas Schnecke im Ziel ein?



--	--	--	--	--	--	--	--	--	--	--