

# Download

Elke Königsdorfer

## Kopfrechenttraining Klasse 9+10

Flächen und Körper

Downloadauszug  
aus dem Originaltitel:

 **netzwerk  
lernen** Auer

 **Auer**

Sekundarstufe

Elke Königsdorfer

**KOPFRECHNEN**<sup>9/10</sup>

Übungsaufgaben  
Lösungen  
Tipps & Tricks

 zur Vollversion

# Kopfrechentraining

## Klasse 9+10

Flächen und Körper

VORSCHAU


Dieser Download ist ein Auszug aus dem Originaltitel  
Kopfrechentraining Klasse 9+10 - Übungsaufgaben - Lösungen - Tipps und Tricks  
Über diesen Link gelangen Sie zur entsprechenden Produktseite im Web.

<http://www.auer-verlag.de/go/dl6731>



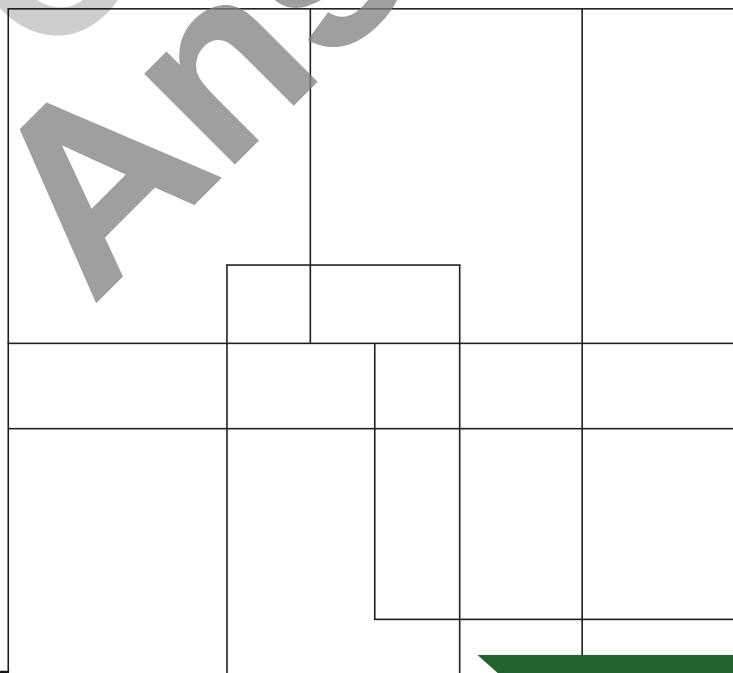
# Flächen und Körper 1


Wie viele Dreiecke siehst du hier insgesamt?



# Flächen und Körper 2

Wie viele Rechtecke siehst du hier insgesamt?





## Flächen und Körper 1

Man sieht insgesamt 10 Dreiecke.



## Flächen und Körper 2


Man sieht insgesamt 68 Rechtecke.

Beachte: Auch alle Quadrate sind Rechtecke!

## Flächen und Körper **3**

Welche Fläche entsteht, wenn du folgende Punkte verbindest?


- a)  $2 - 6 - 17 - 8 - 2$   
 b)  $4 - 14 - 10 - 4$   
 c)  $22 - 18 - 20 - 24 - 22$



## Flächen und Körper **4**

Welche Fläche entsteht, wenn du folgende Punkte verbindest?

- a)  $2 - 5 - 14 - 13 - 2$   
 b)  $2 - 13 - 22 - 11 - 2$   
 c)  $23 - 25 - 20 - 23$


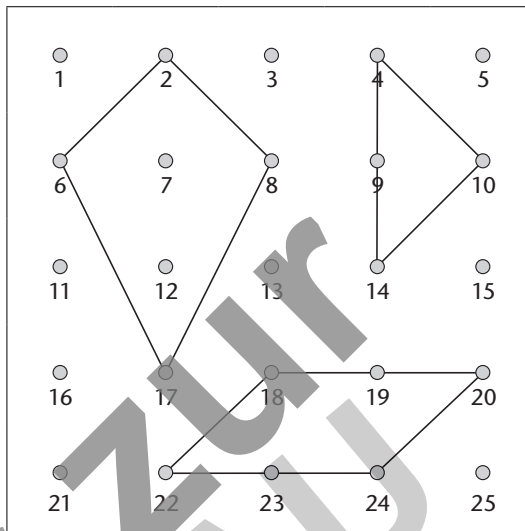




## Flächen und Körper 3

Es entsteht

- a) ein Drachenviereck.
- b) ein gleichschenkelig-rechtwinkliges Dreieck.
- c) ein Parallelogramm.



## Flächen und Körper 4

Es entsteht

- a) ein gleichschenkliges Trapez.
- b) eine Raute.
- c) ein rechtwinkliges Dreieck.

