

Name:

Datum:



Der Kontinent Europa



Europa bildet zusammen mit Asien den Doppelkontinent Eurasien. Eurasien ist die größte zusammenhängende Landmasse der Erde.

Von drei Seiten ist Europa durch Meere begrenzt: Im Norden durch das Europäische Nordmeer, im Westen durch den Atlantischen Ozean, im Süden durch das Mittelmeer und das Schwarze Meer. Weiterhin sind die Nordsee und Ostsee zwei „kleinere“ Nebenmeere.

Europa ist ein sehr vielfältiger Kontinent. Es gibt Tiefländer, Mittelgebirge und sogar Hochgebirge. Der höchste

Berg Europas ist der Montblanc. Er liegt in Frankreich und ist 4807 m hoch.

Die längsten Flüsse Europas sind Wolga (3530 km), Donau (2850 km) und Dnjepr (2280 km). Wolga und Dnjepr entspringen in Russland. Die Donau entspringt im Süden Deutschlands bei Donaueschingen.

Es gibt drei Länder, die sowohl in Europa als auch in Asien liegen. Dies sind Russland, die Türkei und Kasachstan. Gemessen an ihrer Gesamtfläche haben diese Länder aber nur einen kleinen Anteil an Europa.

1. Schreibe zuerst die Fragen (a–d) ab. Beantworte sie dann in einem vollständigen Satz.

- Was ist Eurasien?
- Wie heißt der Ozean, der an Europa grenzt?
- Wie heißt der höchste Berg Europas?
- Nenne die beiden Meere im Süden Europas.

2. Unterstreiche alle Namenwörter (Nomen) blau.

Schreibe sie in dein Heft und trenne jedes Namenwort in möglichst viele Silben.

Beispiel: *Eu – ro – pa*


3. Unterstreiche alle Eigenschaftswörter (Adjektive) gelb.

Schreibe sie in dein Heft und steigere sie, soweit dies möglich ist.

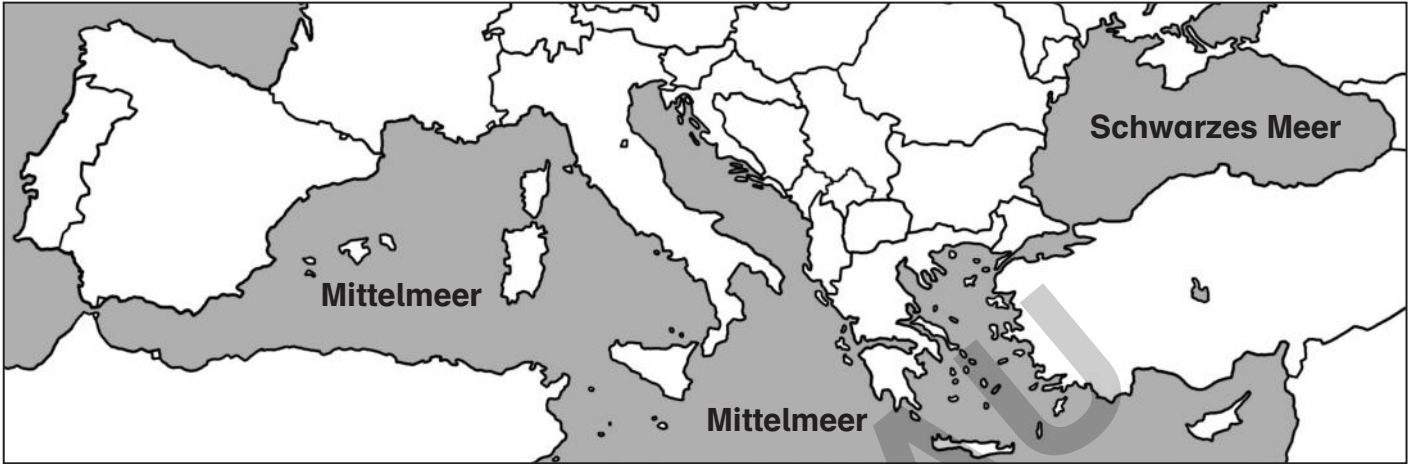
Beispiel: *kurz – kürzer – am kürzesten*

4. Unterstreiche alle Tätigkeitswörter (Verben) rot. Suche dir dann fünf Tätigkeitswörter aus und beuge sie in allen Personalformen (ich, du, er/sie/es, wir, ihr, sie).

Beispiel: *ich gehe, du gehst, er/sie/es geht, wir gehen, ihr geht, sie gehen*

Name:	Datum:	
Europäische Länder am Mittelmeer		

Wenn man sich Landkarten von Europa ansieht, fällt einem sofort auf, dass der Kontinent an drei Seiten von Meeren umgeben ist. So liegen im Süden von Europa zum Beispiel das Mittelmeer und das Schwarze Meer.



Nimm einen Atlas zu Hilfe.

1. Finde alle europäischen Länder heraus, die an das Mittelmeer grenzen. Es sind dreizehn.

Zwei Länder seien hier schon genannt, da sie nur einen ganz kleinen Küstenanteil von wenigen Kilometern besitzen. Es sind **Monaco** und **Bosnien-Herzegowina**.


2. Finde alle europäischen Länder heraus, die am Schwarzen Meer liegen. Es sind fünf.

Zusatzaufgabe:

Das Mittelmeer liegt zwischen Europa, Afrika und Asien. Finde heraus, welche afrikanischen Länder und welche asiatischen Länder am Mittelmeer liegen.

Afrika (fünf Länder): _____

Asien (vier Länder): _____

Name:	Datum:	
Europäische Länder am Atlantik, an der Nordsee und Ostsee		



Nimm einen Atlas zu Hilfe.

1. Finde die drei europäischen Länder heraus, die Inseln im Atlantik sind.



Zum Atlantik gehören die Nordsee und die Ostsee. Sie sind sozusagen „Nebenmeere“ des Atlantiks. Du wirst staunen, wie viele Länder einen Zugang zur Nordsee beziehungsweise Ostsee haben.

2. Schreibe alle europäischen Länder auf, die an die Nordsee grenzen. Es sind sieben.

3. Schreibe alle europäischen Länder auf, die an die Ostsee grenzen. Es sind neun.

Zusatzaufgabe:

Es gibt 15 europäische Staaten, die überhaupt keinen Zugang zu einem Meer haben. Kannst du sie alle herausfinden?

Name:

Datum:

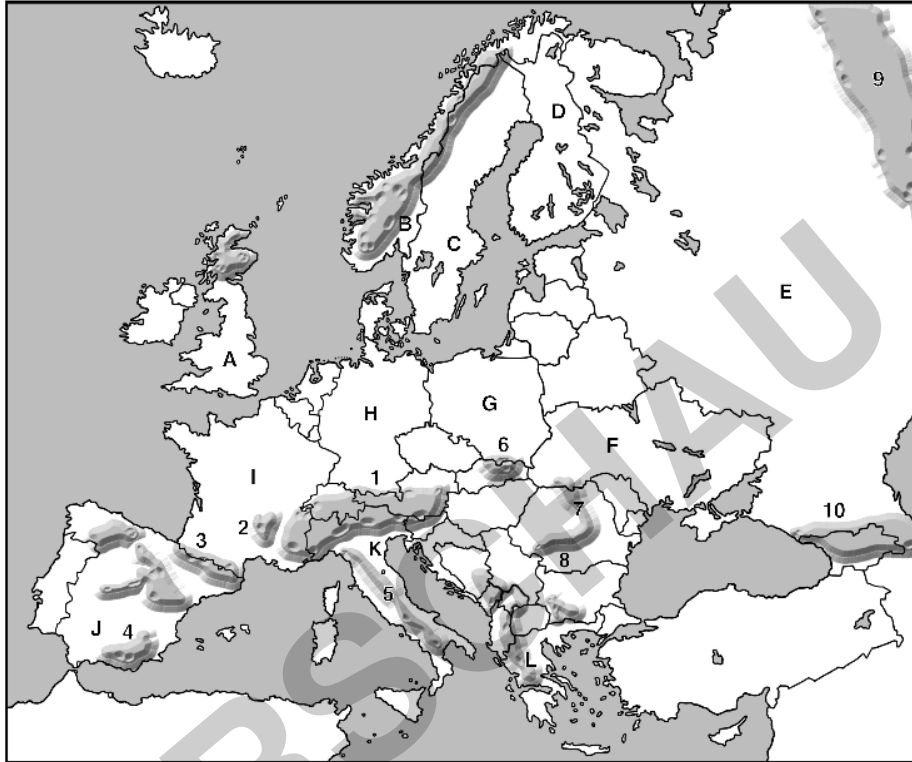


Erdkundetest – Europa



Nimm für Aufgabe 1 einen Atlas zu Hilfe.

1. a. Finde die Namen der gekennzeichneten Länder (A–L) heraus.
- b. Finde die Namen der nummerierten Gebirge (1–10) heraus.



	Land	Nr.	Gebirge
A		1	
B		2	
C		3	
D		4	
E		5	
F		6	
G		7	
H		8	
I		9	
J		10	
K			
L			

11



netzwerk
lernen



Jens Eggert: Europa entdecken
© Persen Verlag – AAP Lehrerfachverlage GmbH, Buxtehude

zur Vollversion

Name:	Datum:	
Erdkundetest – Europa		

2. Es gibt in Europa sechs sogenannte „Zwergstaaten“. Sie sind von der Fläche her sehr klein und haben nur wenige Einwohner. Nenne drei der sechs Zwergstaaten.

3

3. Nenne vier Meere, die an Europa grenzen:

4

 Nimm für Aufgabe 4 einen Atlas zu Hilfe.

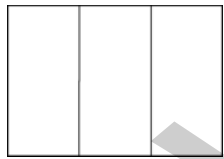

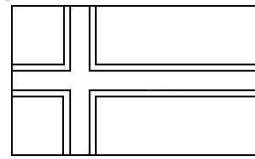
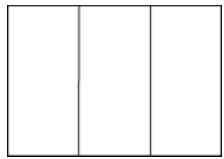
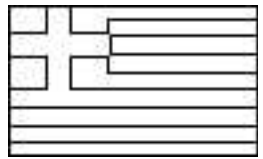
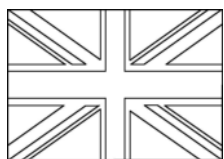

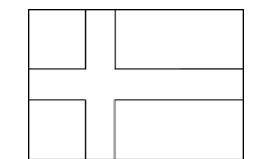


4. Finde je zwei Flüsse, die in die folgenden Meere münden:

Ostsee: _____	Nordsee: _____
Mittelmeer: _____	Schwarzes Meer: _____
Atlantik: _____	

5

5. Ordne die folgenden Ländernamen den Flaggen zu.

Deutschland • Großbritannien • Italien • Frankreich • Russland • Dänemark
Portugal • Griechenland • Polen • Norwegen

5

Gesamtpunktzahl: **28** Note: _____

Erreichte Punktzahl: Durchschnitt: _____



zur Vollversion

Name:

Datum:

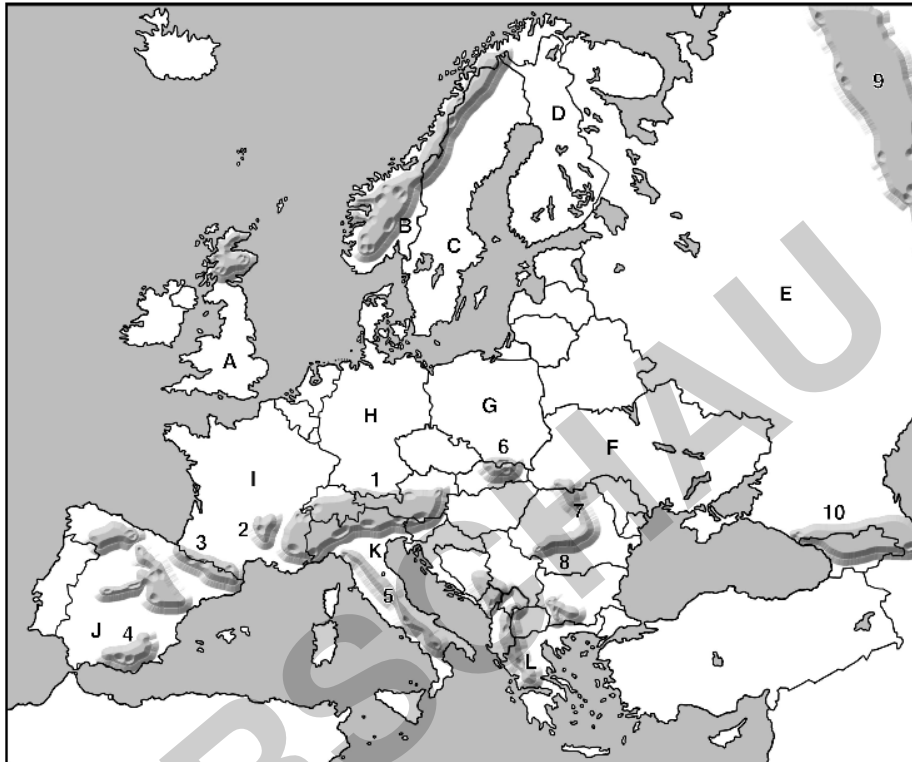


Erdkundetest – Europa



Nimm für Aufgabe 1 einen Atlas zu Hilfe.

1. a. Finde die Namen der gekennzeichneten Länder (A–L) heraus.
- b. Finde die Namen der nummerierten Gebirge (1–10) heraus.



	Land	Nr.	Gebirge
A	Großbritannien	1	Alpen
B	Norwegen	2	Zetralmassiv
C	Schweden	3	Pyrenäen
D	Finnland	4	Sierra Nevada (Betische Kordillere)
E	Russland	5	Apenninen
F	Ukraine	6	Tatra
G	Polen	7	Ostkarpaten
H	Deutschland	8	Südkarpaten
I	Frankreich	9	Ural
J	Spanien	10	Kaukasus
K	Italien		
L	Griechenland		

11