




DOWNLOAD

Diana Fürstner

Plus- und Minus- aufgaben im Zahlenraum bis 3

Übungsmaterial für Schüler mit geistiger
Behinderung



Downloadauszug
aus dem Originaltitel:

Das Werk als Ganzes sowie in seinen Teilen unterliegt dem deutschen Urheberrecht. Der Erwerber des Werkes ist berechtigt, das Werk als Ganzes oder in seinen Teilen für den eigenen Gebrauch und den **Einsatz im eigenen Unterricht** zu nutzen. Die Nutzung ist nur für den genannten Zweck gestattet, **nicht jedoch für** einen schulweiten Einsatz und Gebrauch, für die Weiterleitung an Dritte (einschließlich aber nicht beschränkt auf Kollegen), für die Veröffentlichung im Internet oder in (Schul-)Intranets oder einen weiteren kommerziellen Gebrauch.

Eine über den genannten Zweck hinausgehende Nutzung bedarf in jedem Fall der vorherigen schriftlichen Zustimmung des Verlages.

Verstöße gegen diese Lizenzbedingungen werden strafrechtlich verfolgt.

Download
VORSCHAU
zur Ansicht

Name: _____

Datum: _____

Plusaufgaben


ZR bis 3



Male die Stifte links blau und rechts rot an.




Schreibe die Aufgaben und das Ergebnis auf.




___ + ___ = ___

___ + ___ = ___



___ + ___ = ___

___ + ___ = ___



___ + ___ = ___

___ + ___ = ___

Name: _____ Datum: _____

Plusaufgaben

ZR bis 3



Male die Kreise blau und rot an.



Schreibe das Ergebnis auf.



$$2 + 1 = 3$$



$$1 + 2 = \underline{\quad}$$



$$1 + 1 = \underline{\quad}$$



$$3 + 0 = \underline{\quad}$$



$$0 + 2 = \underline{\quad}$$



$$0 + 3 = \underline{\quad}$$



netzwerk
lernen

Plus- und Minusaufgaben im Zahlenraum bis 3
© Persen Verlag

zur Vollversion

Name: _____ Datum: _____

Plusaufgaben

ZR bis 3



Male die Kreise blau und rot an.



Schreibe das Ergebnis auf.



$$1 + 2 = \underline{\quad}$$



$$1 + 1 = \underline{\quad}$$



$$3 + 0 = \underline{\quad}$$



$$0 + 2 = \underline{\quad}$$



$$1 + 0 = \underline{\quad}$$



$$2 + 1 = \underline{\quad}$$



$$0 + 3 = \underline{\quad}$$



$$2 + 0 = \underline{\quad}$$



$$0 + 1 = \underline{\quad}$$



$$1 + 2 = \underline{\quad}$$



$$2 + 1 = \underline{\quad}$$

Name: _____ Datum: _____

Plusaufgaben

ZR bis 3



Male Kreise in blau und rot über die Aufgaben oder nehme Rechenmaterial zu Hilfe.



Schreibe das Ergebnis auf.



$$2 + 1 = \underline{\quad}$$

$$1 + 2 = \underline{\quad}$$

$$1 + 1 = \underline{\quad}$$

$$2 + 0 = \underline{\quad}$$

$$0 + 1 = \underline{\quad}$$

$$0 + 3 = \underline{\quad}$$

$$2 + 1 = \underline{\quad}$$

$$1 + 0 = \underline{\quad}$$

$$0 + 2 = \underline{\quad}$$

$$3 + 0 = \underline{\quad}$$

$$1 + 2 = \underline{\quad}$$

Name: _____


Datum: _____

Minusaufgaben


ZR bis 3




Schreibe die Aufgaben und das Ergebnis auf.



$$\underline{\quad} - \underline{\quad} = \underline{\quad}$$



$$\underline{\quad} - \underline{\quad} = \underline{\quad}$$




$$\underline{\quad} - \underline{\quad} = \underline{\quad}$$



$$\underline{\quad} - \underline{\quad} = \underline{\quad}$$



$$\underline{\quad} - \underline{\quad} = \underline{\quad}$$



$$\underline{\quad} - \underline{\quad} = \underline{\quad}$$



netzwerk
lernen

Plus- und Minusaufgaben im Zahlenraum bis 3
© Persen Verlag

zur Vollversion

Name: _____

Datum: _____

Minusaufgaben

ZR bis 3



Male die Kreise grau an und streiche ab.



Schreibe das Ergebnis auf.



$$3 - 1 = 2$$



$$3 - 2 = \underline{\quad}$$



$$2 - 1 = \underline{\quad}$$



$$3 - 3 = \underline{\quad}$$



$$3 - 0 = \underline{\quad}$$



$$2 - 2 = \underline{\quad}$$

Minusaufgaben

ZR bis 3



Male die Kreise grau an und streiche ab.



Schreibe das Ergebnis auf.



$$3 - 2 = \underline{\quad}$$



$$2 - 1 = \underline{\quad}$$

$$3 - 1 = \underline{\quad}$$




$$3 - 0 = \underline{\quad}$$

$$2 - 2 = \underline{\quad}$$



$$3 - 2 = \underline{\quad}$$

$$1 - 1 = \underline{\quad}$$



$$1 - 0 = \underline{\quad}$$

$$2 - 0 = \underline{\quad}$$



$$3 - 3 = \underline{\quad}$$

$$3 - 1 = \underline{\quad}$$

Name: _____ Datum: _____

Minusaufgaben

ZR bis 3



Male Kreise über die Aufgaben und streiche ab oder nehme Rechenmaterial zu Hilfe.



Schreibe das Ergebnis auf.



$$3 - 1 = \underline{\quad}$$

$$3 - 2 = \underline{\quad}$$

$$2 - 1 = \underline{\quad}$$

$$2 - 0 = \underline{\quad}$$

$$3 - 1 = \underline{\quad}$$

$$1 - 0 = \underline{\quad}$$

$$2 - 2 = \underline{\quad}$$

$$3 - 0 = \underline{\quad}$$

$$1 - 1 = \underline{\quad}$$

$$3 - 3 = \underline{\quad}$$

$$3 - 2 = \underline{\quad}$$

Name: _____

Datum: _____

Plus- und Minusaufgaben

ZR bis 3



Schreibe die Aufgaben und das Ergebnis auf.



$$\underline{\quad} + \underline{\quad} = \underline{\quad}$$



$$\underline{\quad} - \underline{\quad} = \underline{\quad}$$



$$\underline{\quad} - \underline{\quad} = \underline{\quad}$$



$$\underline{\quad} + \underline{\quad} = \underline{\quad}$$



$$\underline{\quad} - \underline{\quad} = \underline{\quad}$$



$$\underline{\quad} + \underline{\quad} = \underline{\quad}$$

Name: _____ Datum: _____

Plus- und Minusaufgaben

ZR bis 3



Male die Aufgaben.



Schreibe das Ergebnis auf.



$$1 + 2 = \underline{\quad}$$



$$3 - 2 = \underline{\quad}$$



$$2 + 1 = \underline{\quad}$$



$$3 - 1 = \underline{\quad}$$



$$3 + 0 = \underline{\quad}$$



$$2 - 1 = \underline{\quad}$$

Name: _____ Datum: _____

Plus- und Minusaufgaben

ZR bis 3



Male die Aufgaben.



Schreibe das Ergebnis auf.



$$2 + 1 = \underline{\quad}$$



$$3 - 2 = \underline{\quad}$$




$$1 + 1 = \underline{\quad}$$



$$2 - 1 = \underline{\quad}$$




$$2 - 0 = \underline{\quad}$$



$$1 + 2 = \underline{\quad}$$



$$3 + 0 = \underline{\quad}$$



$$3 - 3 = \underline{\quad}$$



$$3 - 1 = \underline{\quad}$$



$$0 + 2 = \underline{\quad}$$

Name: _____ Datum: _____

Plus- und Minusaufgaben

ZR bis 3



Male die Aufgaben oder nehme Rechenmaterial zu Hilfe.



Schreibe das Ergebnis auf.



$$1 + 2 = \underline{\quad}$$



$$3 - 1 = \underline{\quad}$$

$$2 - 1 = \underline{\quad}$$

$$2 + 1 = \underline{\quad}$$

$$2 + 0 = \underline{\quad}$$

$$3 - 2 = \underline{\quad}$$

$$2 - 0 = \underline{\quad}$$

$$1 + 1 = \underline{\quad}$$

$$0 + 3 = \underline{\quad}$$

$$2 - 2 = \underline{\quad}$$



Bergedorfer® Unterrichtshilfen

... und das Lehrerleben wird leichter!

Weitere Downloads, E-Books und Print-Titel des umfangreichen Persen-Verlagsprogramms finden Sie unter www.persen.de

Hat Ihnen dieser Download gefallen? Dann geben Sie jetzt auf www.persen.de direkt bei dem Produkt Ihre Bewertung ab und teilen Sie anderen Kunden Ihre Erfahrungen mit.



Download
zur Ansicht

© 2013 Persen Verlag, Hamburg
AAP Lehrerfachverlage GmbH
Alle Rechte vorbehalten.

Das Werk als Ganzes sowie in seinen Teilen unterliegt dem deutschen Urheberrecht. Der Erwerber des Werkes ist berechtigt, das Werk als Ganzes oder in seinen Teilen für den eigenen Gebrauch und den Einsatz im Unterricht zu nutzen. Die Nutzung ist nur für den genannten Zweck gestattet, nicht jedoch für einen weiteren kommerziellen Gebrauch, für die Weiterleitung an Dritte oder für die Veröffentlichung im Internet oder in Intranets. Eine über den genannten Zweck hinausgehende Nutzung bedarf in jedem Fall der vorherigen schriftlichen Zustimmung des Verlages.

Die AAP Lehrerfachverlage GmbH kann für die Inhalte externer Sites, die Sie mittels eines Links oder sonstiger Hinweise erreichen, keine Verantwortung übernehmen. Ferner haftet die AAP Lehrerfachverlage GmbH nicht für direkte oder indirekte Schäden (inkl. entgangener Gewinne), die auf Informationen zurückgeführt werden können, die auf diesen externen Websites stehen.

Illustrationen: Manuela Ostadal
Satz: Satzpunkt Ursula Ewert GmbH

Bestellnr.: 23289DA2

www.persen.de