



# DOWNLOAD

Ulrike Löffler

Isabel Schick

## Sicher rechnen mit einfachen Geldbeträgen

Arbeitsblätter für Schüler mit geistiger  
Behinderung



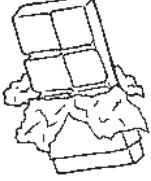















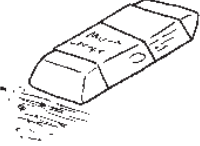
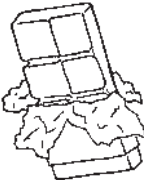
Downloadauszug  
aus dem Originaltitel:

Name:



Thema: Einkaufen – Was müssen die Kinder bezahlen? 1



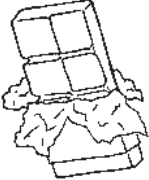















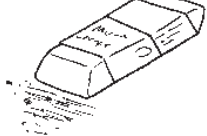
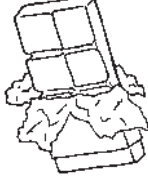
| Kinder | kaufen ein                                                                                    |                                                                                               |                                                                                                | es kostet |
|--------|-----------------------------------------------------------------------------------------------|-----------------------------------------------------------------------------------------------|------------------------------------------------------------------------------------------------|-----------|
| Tom    | <br>1 €      | <br>2 €      | <br>0,50 €   |           |
| Paul   | <br>0,50 €   | <br>0,50 €   | <br>2 €      |           |
| Lisa   | <br>2 €    | <br>0,20 €  | <br>1 €     |           |
| Marie  | <br>0,20 € | <br>0,50 € | <br>2 €    |           |
| Leonie | <br>0,50 € | <br>0,50 € | <br>0,50 € |           |
| Max    | <br>4 €    | <br>0,50 € | <br>1 €    |           |

Name:



Thema: Einkaufen – Was müssen die Kinder bezahlen? 2







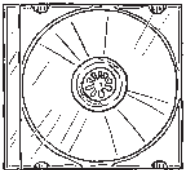









| Kinder | kaufen ein                                                                                    |                                                                                               |                                                                                                | es kostet |
|--------|-----------------------------------------------------------------------------------------------|-----------------------------------------------------------------------------------------------|------------------------------------------------------------------------------------------------|-----------|
| Lara   | <br>1,10 €   | <br>1,80 €   | <br>0,50 €   |           |
| Emine  | <br>0,55 €   | <br>0,50 €   | <br>2,60 €   |           |
| Kai    | <br>1,80 € | <br>0,45 €  | <br>1,70 €  |           |
| Sandra | <br>0,25 € | <br>0,59 € | <br>2,90 € |           |
| Julius | <br>1,50 € | <br>0,59 € | <br>0,50 € |           |
| Leon   | <br>3,80 € | <br>0,78 € | <br>1,19 € |           |

Name:



Thema: Einkaufen – Was bekomme ich zurück? 1

















| Ich kaufe                                                                                  | Ich bezahle mit                                                                     | Ich bekomme zurück |
|--------------------------------------------------------------------------------------------|-------------------------------------------------------------------------------------|--------------------|
| <br>1 €   |    |                    |
| <br>3 €   |    |                    |
| <br>9 €  |   |                    |
| <br>4 € |  |                    |
| <br>8 € |  |                    |
| <br>6 € |  |                    |
| <br>2 € |  |                    |

Name:



Thema: Einkaufen – Was bekomme ich zurück? 2



| Ich kaufe                                                                                      | Ich bezahle mit                                                                     | Ich bekomme zurück |
|------------------------------------------------------------------------------------------------|-------------------------------------------------------------------------------------|--------------------|
| <br>12,80 €   |    |                    |
| <br>52,20 €   |    |                    |
| <br>25,19 €  |   |                    |
| <br>18,89 € |  |                    |
| <br>5,68 €  |  |                    |
| <br>89,20 € |  |                    |
| <br>48,80 € |  |                    |



Name:



Thema: Mit welcher Münze oder welchem Geldschein kann ich bezahlen?







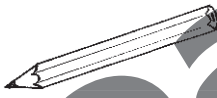
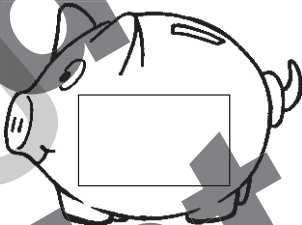








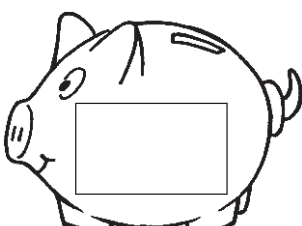



| Ich kaufe                                                                                  | Ich bezahle mit | Ich bekomme zurück |
|--------------------------------------------------------------------------------------------|-----------------|--------------------|
|  2,20 €   |                 |                    |
|  0,55 €   |                 |                    |
|  0,29 €  |                 |                    |
|  0,90 € |                 |                    |
|  2,30 € |                 |                    |
|  5,50 € |                 |                    |
|  1,80 € |                 |                    |
|  3,50 € |                 |                    |

Name:



Thema: Was bleibt übrig? 1




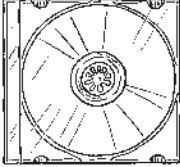
















| Kinder | haben gespart                                                                              | kaufen ein                                                                                     | es bleiben übrig                                                                      |
|--------|--------------------------------------------------------------------------------------------|------------------------------------------------------------------------------------------------|---------------------------------------------------------------------------------------|
| Tom    | <br>5 €   | <br>3 €      |    |
| Paul   | <br>2 €   | <br>0,50 €   |    |
| Lisa   | <br>1 €  | <br>0,20 €   |   |
| Marie  | <br>2 € | <br>1 €     |  |
| Leonie | <br>5 € | <br>0,50 €  |  |
| Max    | <br>3 € | <br>1,50 € |  |

Name:



Thema: Was bleibt übrig? 2



| Kinder | haben gespart                                                                               | kaufen ein                                                                                      | es bleiben übrig                                                                      |
|--------|---------------------------------------------------------------------------------------------|-------------------------------------------------------------------------------------------------|---------------------------------------------------------------------------------------|
| Emil   | <br>15 €   | <br>9,50 €    |    |
| Sarah  | <br>26 €   | <br>18,50 €   |    |
| Berkan | <br>11 €  | <br>4,20 €    |   |
| Susi   | <br>15 € | <br>7,50 €  |  |
| Ellen  | <br>50 € | <br>39,50 € |  |
| Nils   | <br>23 € | <br>14,50 € |  |



Name:



Thema: Zusammenzählen (Addition) einfacher Geldbeträge 1



Zähle das Geld zusammen!

Marc hat



1) Wie viel Geld hat er, wenn er  geschenkt bekommt?

\_\_\_\_\_ + \_\_\_\_\_ = \_\_\_\_\_

2) Wie viel Geld hat er, wenn er   geschenkt bekommt?

\_\_\_\_\_ + \_\_\_\_\_ = \_\_\_\_\_

3) Er bekommt  geschenkt. Wie viel Geld hat er?

\_\_\_\_\_ + \_\_\_\_\_ = \_\_\_\_\_

4) Er bekommt   geschenkt. Wie viel Geld hat er?

\_\_\_\_\_ + \_\_\_\_\_ = \_\_\_\_\_

Name:

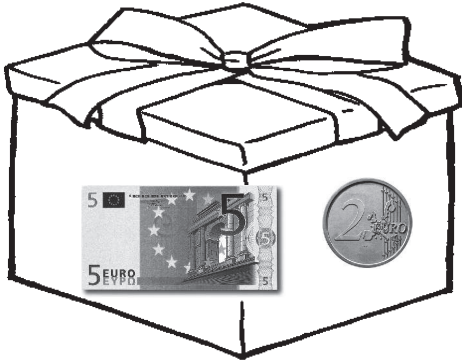


Thema: Zusammenzählen (Addition) einfacher Geldbeträge 2

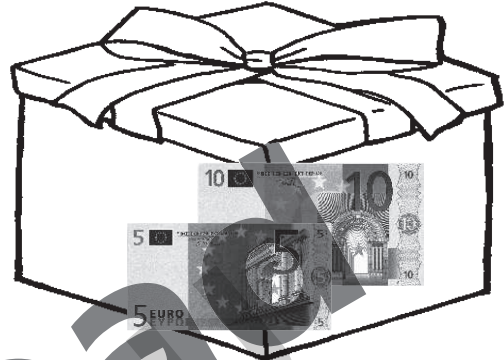


Es gab Geld zum Geburtstag. Wie viel hat jeder bekommen?

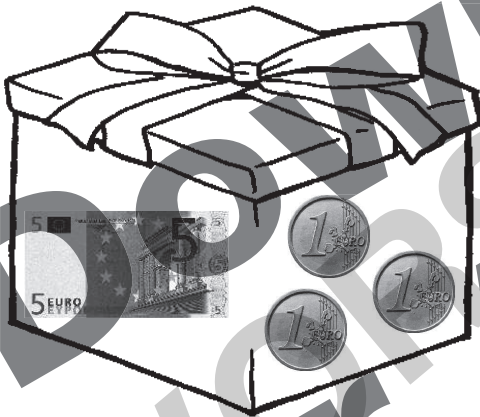
Theo



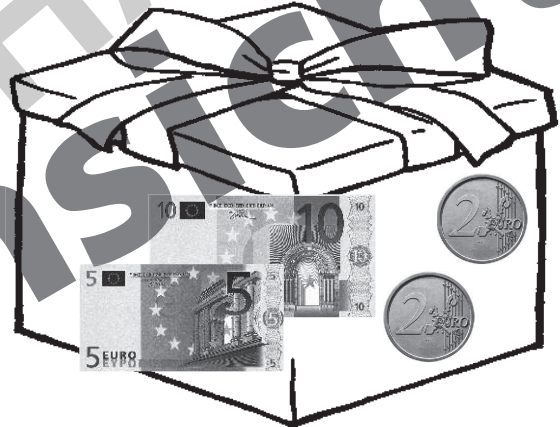
Lena



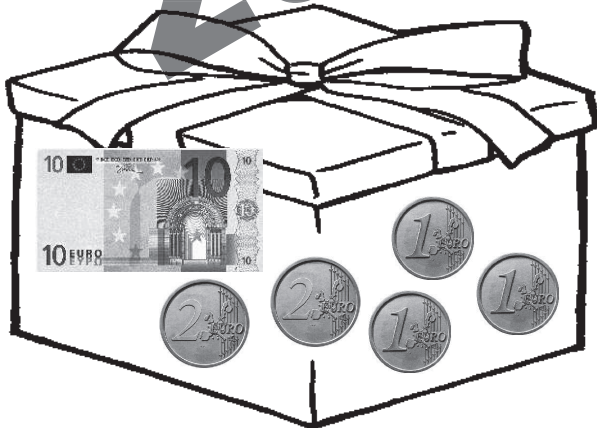
Michaela



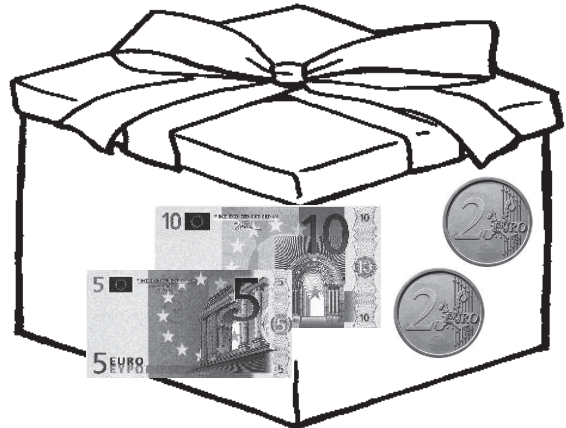
Stefan



Arthur



Iris



Name:



Thema: Zusammenzählen (Addition) einfacher Geldbeträge 3



Wie viel Geld hat jeder in seiner Geldbörse?

Theo



Lena



Michaela



Stefan



Arthur



Iris



Name:



Thema: Zusammenzählen (Addition) dezimaler Geldbeträge 1



Zähle das Geld zusammen!

Anne hat 2,53 € gespart.

1) Wie viel Geld hat Anne, wenn sie noch 1,21 € spart?



\_\_\_\_\_ + \_\_\_\_\_ = \_\_\_\_\_

2) Wie viel Geld hat Anne, wenn sie noch 0,45 € spart?



\_\_\_\_\_ + \_\_\_\_\_ = \_\_\_\_\_

3) Wie viel Geld hat Anne, wenn sie noch 0,57 € spart?



\_\_\_\_\_ + \_\_\_\_\_ = \_\_\_\_\_

4) Anne bekommt 2,14 € geschenkt.  
Wie viel Geld hat sie?



\_\_\_\_\_ + \_\_\_\_\_ = \_\_\_\_\_



Name:



Thema: Zusammenzählen (Addition) dezimaler Geldbeträge 2




Die Spardosen sind voll. Wie viel hat jeder gespart?

Theo



Lena



Michaela



Stefan



Arthur



Iris



Name:



Thema: Zusammenzählen (Addition) dezimaler Geldbeträge 3



Wie viel Geld hat jeder beim Einkaufen zurück bekommen?

Theo



Lena



Michaela



Stefan



Arthur



Iris

