

# Download

Kristina Eselgrimm, Manuela  
Leitzig

## Größen an Stationen: Zeit – Uhr Klassen 1 und 2

VORSCHAU



Downloadauszug  
aus dem Originaltitel:



# Größen an Stationen: Zeit – Uhr

Klassen 1 und 2

VORSCHAU

Dieser Download ist ein Auszug aus dem Originaltitel  
Größen an Stationen

Über diesen Link gelangen Sie zur entsprechenden Produktseite im Web.

<http://www.auer-verlag.de/go/dl6695>

# Materialaufstellung und Hinweise

## Geld

In diesem Kapitel kann differenziert werden, indem man die Centbeträge weglässt oder die Kinder nur mit glatten Beträgen rechnen lässt.

Die Seiten 7 bis 26 bitte in entsprechender Anzahl vervielfältigen und für die Schülerinnen und Schüler bereitlegen. Als Möglichkeit zur Selbstkontrolle können Lösungsseiten erstellt werden.

- Station 1            **Geld kennenlernen**  
Farbstifte bereitlegen.
- Station 2            **Vorder- und Rückseite von Münzen zuordnen**  
Farbstifte bereitlegen.
- Station 3            **Vorder- und Rückseite von Scheinen zuordnen**  
Scheren und Klebstoff bereitlegen.
- Station 5            **Geldwerte zählen und legen**  
Scheren und Klebstoff bereitlegen.
- Station 9            **1 € mit verschiedenen Centmünzen zusammenstellen**  
Farbstifte bereitlegen.
- Station 10          **10 € mit verschiedenen Münzen und Scheinen legen**  
Scheren und Klebstoff bereitlegen.

Evtl. Real- oder Spielgeld zum Veranschaulichen, Legen und Differenzieren mitbringen und bereitlegen.

## Zeit – Uhr

In diesem Kapitel kann differenziert werden, indem man die halben und Viertelstunden weglässt.

Die Seiten 27 bis 41 bitte in entsprechender Anzahl vervielfältigen und für die Schülerinnen und Schüler bereitlegen. Als Möglichkeit zur Selbstkontrolle können Lösungsseiten erstellt werden.

- Station 1            **Eine Uhr basteln**  
Ziffernblätter und Zeiger in entsprechender Anzahl kopieren. Scheren und Klammern bereitlegen.
- Station 2            **Tagesablauf I**  
Scheren und Klebstoff bereitlegen.
- Station 7            **Tageszeiten**  
Farbstifte bereitlegen.
- Station 8            **Uhrzeiten-Memory®**  
Scheren bereitlegen.
- Station 9            **Eine Wasseruhr bauen**  
Plastikbecher, Gläser, Folienstifte, Scheren und Stoppuhren sowie Tücher (zum Aufwischen, falls etwas danebengeht) bereitlegen.
- Station 11          **Zeitdauer bestimmen II**  
Farbstifte bereitlegen.
- Station 12          **Uhrzeiten-Trimino**  
Scheren bereitlegen.

Verschiedene Uhren (Wecker, Armbanduhr, Wanduhr, digitale und analoge Uhren usw.) zum Veranschaulichen bereitlegen.

**Aufgabe**

Bastele eine Uhr:

1. Schneide das Ziffernblatt und die Zeiger aus.
2. Bohre Löcher in die gekennzeichneten Stellen.
3. Nimm dir eine Klammer und befestige die Zeiger an dem Ziffernblatt.





**Aufgabe**

Schneide die Uhren aus und klebe sie zum passenden Bild.


|  |  |  |
|--|--|--|
|  |  |  |
|  |  |  |
|  |  |  |
|  |  |  |
|  |  |  |
|  |  |  |

stina Eselgrimm/Manuela Leitzig: Größen an Stationen (Klassen 1 und 2)  
Auer Verlag – AAP Lehrfachverlage GmbH, Donauwörth

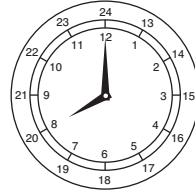


Aufgabe

Lies die Uhrzeit ab und beschrifte die Bilder.



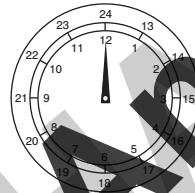
\_\_\_\_\_



\_\_\_\_\_




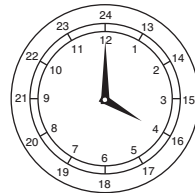
\_\_\_\_\_



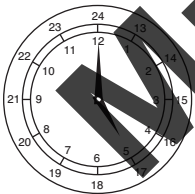
\_\_\_\_\_



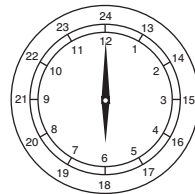
\_\_\_\_\_



\_\_\_\_\_




\_\_\_\_\_



\_\_\_\_\_



\_\_\_\_\_




\_\_\_\_\_




**Aufgabe**

Lies jeweils beide Uhrzeiten ab und schreibe sie auf.




---

---




---

---




---

---




---

---




---

---




---

---




---

---



---

---



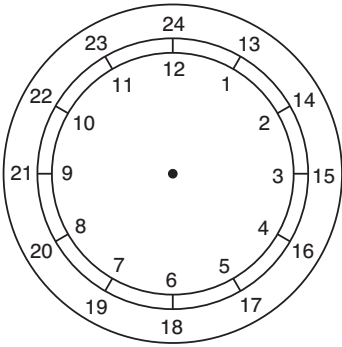
---

---

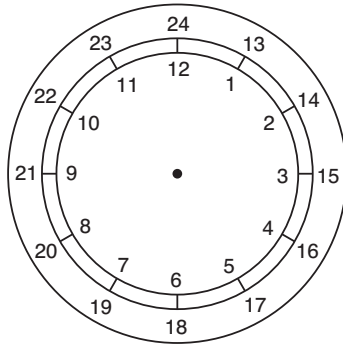


**Aufgabe**


Zeichne die Uhrzeit ein.



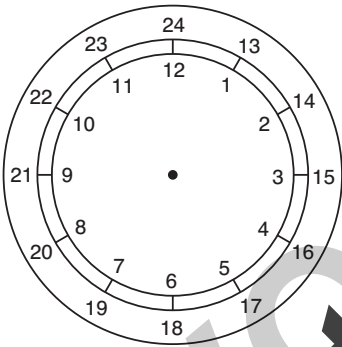
5 Uhr



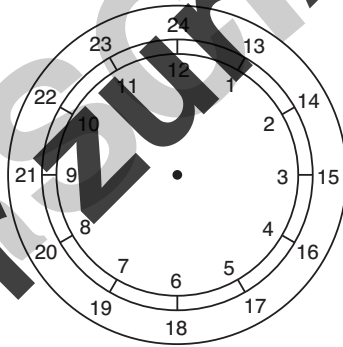
20 Uhr



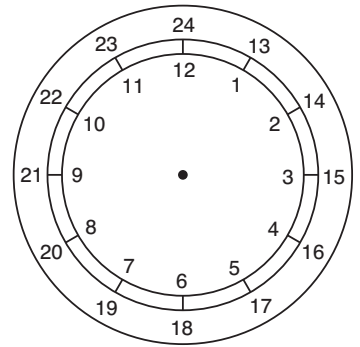
14 Uhr



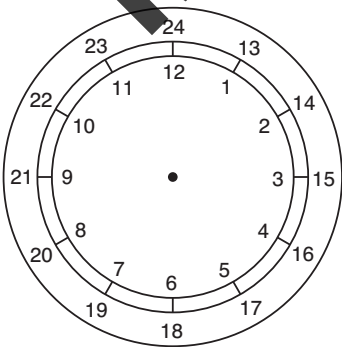
10 Uhr



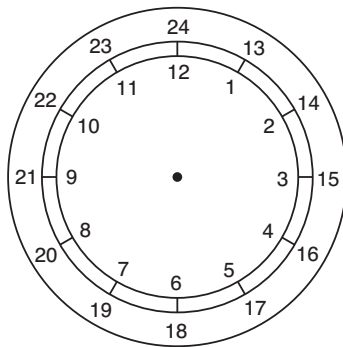
2 Uhr



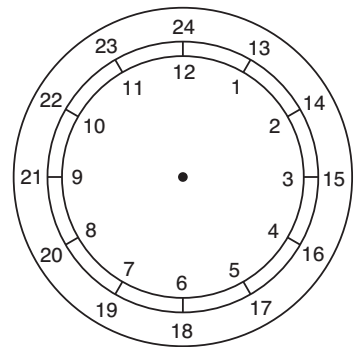
22 Uhr



12 Uhr



17 Uhr




8 Uhr






**Aufgabe**


1. Lies die Uhrzeit an der Uhr ab. Kreuze an, zu welcher Tageszeit die Uhrzeit gehört.  
Achtung: Oft passt die Uhrzeit zu zwei Tageszeiten.




- |        |                          |            |                          |
|--------|--------------------------|------------|--------------------------|
| Morgen | <input type="checkbox"/> | Vormittag  | <input type="checkbox"/> |
| Mittag | <input type="checkbox"/> | Nachmittag | <input type="checkbox"/> |
| Abend  | <input type="checkbox"/> | Nacht      | <input type="checkbox"/> |




- |        |                          |            |                          |
|--------|--------------------------|------------|--------------------------|
| Morgen | <input type="checkbox"/> | Vormittag  | <input type="checkbox"/> |
| Mittag | <input type="checkbox"/> | Nachmittag | <input type="checkbox"/> |
| Abend  | <input type="checkbox"/> | Nacht      | <input type="checkbox"/> |




- |        |                          |            |                          |
|--------|--------------------------|------------|--------------------------|
| Morgen | <input type="checkbox"/> | Vormittag  | <input type="checkbox"/> |
| Mittag | <input type="checkbox"/> | Nachmittag | <input type="checkbox"/> |
| Abend  | <input type="checkbox"/> | Nacht      | <input type="checkbox"/> |




- |        |                          |            |                          |
|--------|--------------------------|------------|--------------------------|
| Morgen | <input type="checkbox"/> | Vormittag  | <input type="checkbox"/> |
| Mittag | <input type="checkbox"/> | Nachmittag | <input type="checkbox"/> |
| Abend  | <input type="checkbox"/> | Nacht      | <input type="checkbox"/> |




- |        |                          |            |                          |
|--------|--------------------------|------------|--------------------------|
| Morgen | <input type="checkbox"/> | Vormittag  | <input type="checkbox"/> |
| Mittag | <input type="checkbox"/> | Nachmittag | <input type="checkbox"/> |
| Abend  | <input type="checkbox"/> | Nacht      | <input type="checkbox"/> |




- |        |                          |            |                          |
|--------|--------------------------|------------|--------------------------|
| Morgen | <input type="checkbox"/> | Vormittag  | <input type="checkbox"/> |
| Mittag | <input type="checkbox"/> | Nachmittag | <input type="checkbox"/> |
| Abend  | <input type="checkbox"/> | Nacht      | <input type="checkbox"/> |




- |        |                          |            |                          |
|--------|--------------------------|------------|--------------------------|
| Morgen | <input type="checkbox"/> | Vormittag  | <input type="checkbox"/> |
| Mittag | <input type="checkbox"/> | Nachmittag | <input type="checkbox"/> |
| Abend  | <input type="checkbox"/> | Nacht      | <input type="checkbox"/> |




- |        |                          |            |                          |
|--------|--------------------------|------------|--------------------------|
| Morgen | <input type="checkbox"/> | Vormittag  | <input type="checkbox"/> |
| Mittag | <input type="checkbox"/> | Nachmittag | <input type="checkbox"/> |
| Abend  | <input type="checkbox"/> | Nacht      | <input type="checkbox"/> |




- |        |                          |            |                          |
|--------|--------------------------|------------|--------------------------|
| Morgen | <input type="checkbox"/> | Vormittag  | <input type="checkbox"/> |
| Mittag | <input type="checkbox"/> | Nachmittag | <input type="checkbox"/> |
| Abend  | <input type="checkbox"/> | Nacht      | <input type="checkbox"/> |



- |        |                          |            |                          |
|--------|--------------------------|------------|--------------------------|
| Morgen | <input type="checkbox"/> | Vormittag  | <input type="checkbox"/> |
| Mittag | <input type="checkbox"/> | Nachmittag | <input type="checkbox"/> |
| Abend  | <input type="checkbox"/> | Nacht      | <input type="checkbox"/> |



- |        |                          |            |                          |
|--------|--------------------------|------------|--------------------------|
| Morgen | <input type="checkbox"/> | Vormittag  | <input type="checkbox"/> |
| Mittag | <input type="checkbox"/> | Nachmittag | <input type="checkbox"/> |
| Abend  | <input type="checkbox"/> | Nacht      | <input type="checkbox"/> |



- |        |                          |            |                          |
|--------|--------------------------|------------|--------------------------|
| Morgen | <input type="checkbox"/> | Vormittag  | <input type="checkbox"/> |
| Mittag | <input type="checkbox"/> | Nachmittag | <input type="checkbox"/> |
| Abend  | <input type="checkbox"/> | Nacht      | <input type="checkbox"/> |



**Aufgabe**

Was macht man zu den verschiedenen Tageszeiten? Male ein passendes Bild zur abgebildeten Uhrzeit.

|  |  |
|--|--|
|  |  |
|  |  |
|  |  |
|  |  |
|  |  |
|  |  |

Muster zur Ansicht



**Aufgabe**

Schneidet die Kärtchen aus und spielt Memory®.




|  |  |  |
|--|--|--|
| Es ist halb neun am Morgen.                        | Es ist fünfzehn Minuten vor neun Uhr am Abend. |  |
| Es ist zehn Minuten nach vier Uhr am Nachmittag.   | Es ist zwei Uhr am Nachmittag.                 |  |
| Es ist fünf Minuten vor vier Uhr am Morgen.        | Es ist fünf Minuten nach zwölf am Mittag.      |  |
| Es ist fünfzehn Minuten nach elf Uhr am Vormittag. |  |  |
| Es ist zwanzig Minuten nach sieben Uhr am Abend.   |  |  |
| Es ist halb zwei in der Nacht.                     |  |  |





**Aufgabe**

Schreibe auf, wie lange die Tätigkeiten dauern.




  
  
  
  
  
  
  
  

Muster zur Ansicht




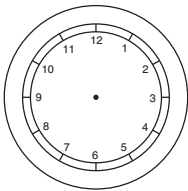
**Aufgaben**

1. Was machst du so alles an einem Tag? Male in die einzelnen Kästchen jeweils ein Bild von deinen verschiedenen Tätigkeiten. Schreibe den Namen der Tätigkeit auf die Linie.

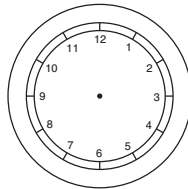
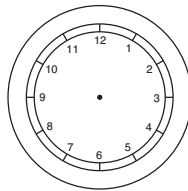


2. Trage die Uhrzeiten in die Uhren ein: in die obere Uhr, wann du damit anfängst, in die untere Uhr, wann du mit deiner Tätigkeit fertig ist.
3. Bestimme dann anhand der Start- und Endzeit die Dauer deiner einzelnen Tätigkeiten. Schreibe diese auf die Linie unter dem Kasten.

---

---





---

Two identical circular time diagrams, each with numbers 13 through 24 arranged in a circle. The top diagram has a dot at the center. The bottom diagram has a dot at the center.

---

Two identical circular time diagrams, each with numbers 13 through 24 arranged in a circle. The top diagram has a dot at the center. The bottom diagram has a dot at the center.

---

Two identical circular time diagrams, each with numbers 13 through 24 arranged in a circle. The top diagram has a dot at the center. The bottom diagram has a dot at the center.

---

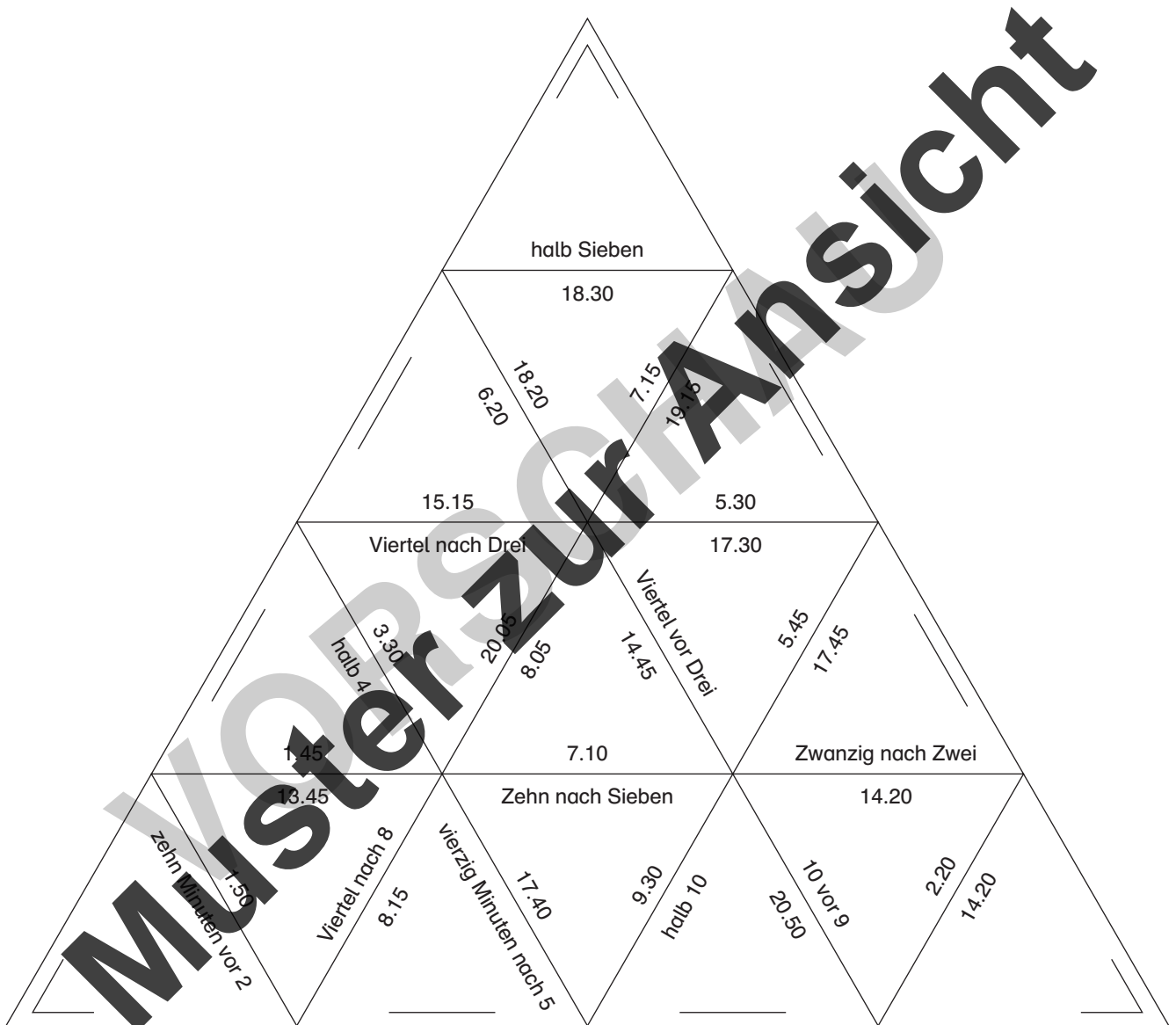
Two identical circular time diagrams, each with numbers 13 through 24 arranged in a circle. The top diagram has a dot at the center. The bottom diagram has a dot at the center.

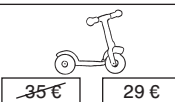


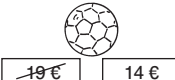




Muster zur Ansicht




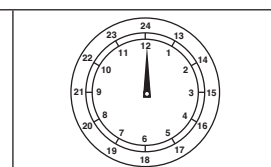

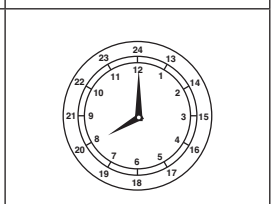

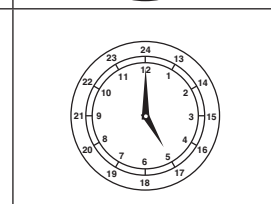

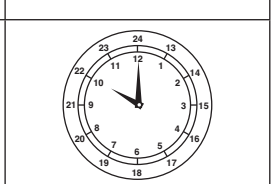





**Aufgabe**

Suche dir eine Partnerin oder einen Partner. Schneidet die Dreiecke aus und spielt gemeinsam Trimino. Legt dabei immer gleiche Uhrzeiten aneinander.




| Artikel  | alter Preis | reduzierter Preis | Ersparnis |
|--|-------------|-------------------|-----------|
| <br>35 €    29 €  | 35 €        | 29 €              | 6 €       |
| <br>49 €    39 €  | 49 €        | 39 €              | 10 €      |
| <br>34 €    30 €  | 34 €        | 30 €              | 4 €       |
| <br>19 €    14 €  | 19 €        | 14 €              | 5 €       |
| <br>75 €    65 €  | 75 €        | 65 €              | 10 €      |
| <br>23 €    18 €  | 23 €        | 18 €              | 5 €       |
| <br>12 €    8 €   | 12 €        | 8 €               | 4 €       |
| <br>36 €    30 € | 36 €        | 30 €              | 6 €       |


|   |   |  |   |
|---|---|--|---|
|  |  |  |  |
|  |  |  |  |
|  |  |  |  |




7 Uhr




8 Uhr




10 Uhr





12 Uhr




14 Uhr




16 Uhr



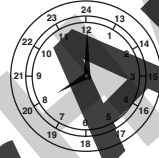
17 Uhr



18 Uhr



19 Uhr



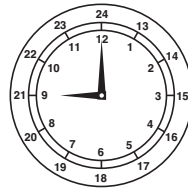
20 Uhr




7 Uhr




2 Uhr




9 Uhr



5 Uhr




12 Uhr




4 Uhr



11 Uhr



3 Uhr



8 Uhr

17 Uhr


24 Uhr

16 Uhr


23 Uhr

15 Uhr

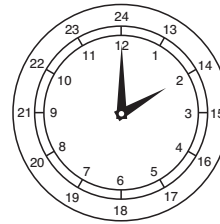
20 Uhr




5 Uhr




20 Uhr




14 Uhr




10 Uhr




2 Uhr




22 Uhr



12 Uhr



17 Uhr




8 Uhr




- |                                 |  |  |  |
|---------------------------------|--|--|--|
| Morgen <input type="checkbox"/> | Vormittag <input type="checkbox"/>             | Morgen <input checked="" type="checkbox"/> | Vormittag <input type="checkbox"/>             |
| Mittag <input type="checkbox"/> | Nachmittag <input checked="" type="checkbox"/> | Mittag <input type="checkbox"/>            | Nachmittag <input checked="" type="checkbox"/> |
| Abend <input type="checkbox"/>  | Nacht <input checked="" type="checkbox"/>      | Abend <input checked="" type="checkbox"/>  | Nacht <input checked="" type="checkbox"/>      |




- |  |   |   |   |
|--|---|---|---|
| Morgen <input type="checkbox"/>            | Vormittag <input type="checkbox"/>        | Morgen <input type="checkbox"/>           | Vormittag <input checked="" type="checkbox"/> |
| Mittag <input checked="" type="checkbox"/> | Nachmittag <input type="checkbox"/>       | Mittag <input type="checkbox"/>           | Nachmittag <input type="checkbox"/>           |
| Abend <input type="checkbox"/>             | Nacht <input checked="" type="checkbox"/> | Abend <input checked="" type="checkbox"/> | Nacht <input type="checkbox"/>                |




- |  |   |  |                                     |
|--|---|--|-------------------------------------|
| Morgen <input checked="" type="checkbox"/> | Vormittag <input checked="" type="checkbox"/> | Morgen <input checked="" type="checkbox"/> | Vormittag <input type="checkbox"/>  |
| Mittag <input type="checkbox"/>            | Nachmittag <input type="checkbox"/>           | Mittag <input type="checkbox"/>            | Nachmittag <input type="checkbox"/> |
| Abend <input checked="" type="checkbox"/>  | Nacht <input type="checkbox"/>                | Abend <input checked="" type="checkbox"/>  | Nacht <input type="checkbox"/>      |




- |  |  |   |   |
|--|--|---|---|
| Morgen <input checked="" type="checkbox"/> | Vormittag <input type="checkbox"/>             | Morgen <input type="checkbox"/>           | Vormittag <input checked="" type="checkbox"/> |
| Mittag <input type="checkbox"/>            | Nachmittag <input checked="" type="checkbox"/> | Mittag <input type="checkbox"/>           | Nachmittag <input type="checkbox"/>           |
| Abend <input type="checkbox"/>             | Nacht <input checked="" type="checkbox"/>      | Abend <input checked="" type="checkbox"/> | Nacht <input checked="" type="checkbox"/>     |




- |  |  |  |   |
|--|--|--|---|
| Morgen <input checked="" type="checkbox"/> | Vormittag <input type="checkbox"/>             | Morgen <input checked="" type="checkbox"/> | Vormittag <input type="checkbox"/>        |
| Mittag <input type="checkbox"/>            | Nachmittag <input checked="" type="checkbox"/> | Mittag <input type="checkbox"/>            | Nachmittag <input type="checkbox"/>       |
| Abend <input checked="" type="checkbox"/>  | Nacht <input checked="" type="checkbox"/>      | Abend <input checked="" type="checkbox"/>  | Nacht <input checked="" type="checkbox"/> |



- |  |                                     |  |                                     |
|--|-------------------------------------|--|-------------------------------------|
| Morgen <input checked="" type="checkbox"/> | Vormittag <input type="checkbox"/>  | Morgen <input checked="" type="checkbox"/> | Vormittag <input type="checkbox"/>  |
| Mittag <input type="checkbox"/>            | Nachmittag <input type="checkbox"/> | Mittag <input type="checkbox"/>            | Nachmittag <input type="checkbox"/> |
| Abend <input checked="" type="checkbox"/>  | Nacht <input type="checkbox"/>      | Abend <input checked="" type="checkbox"/>  | Nacht <input type="checkbox"/>      |



- |  |   |                                 |  |
|--|---|---------------------------------|--|
| Morgen <input type="checkbox"/>            | Vormittag <input type="checkbox"/>        | Morgen <input type="checkbox"/> | Vormittag <input type="checkbox"/>             |
| Mittag <input checked="" type="checkbox"/> | Nachmittag <input type="checkbox"/>       | Mittag <input type="checkbox"/> | Nachmittag <input checked="" type="checkbox"/> |
| Abend <input type="checkbox"/>             | Nacht <input checked="" type="checkbox"/> | Abend <input type="checkbox"/>  | Nacht <input checked="" type="checkbox"/>      |



- |                                 |  |                                 |  |
|---------------------------------|--|---------------------------------|--|
| Morgen <input type="checkbox"/> | Vormittag <input type="checkbox"/>             | Morgen <input type="checkbox"/> | Vormittag <input type="checkbox"/>             |
| Mittag <input type="checkbox"/> | Nachmittag <input checked="" type="checkbox"/> | Mittag <input type="checkbox"/> | Nachmittag <input checked="" type="checkbox"/> |
| Abend <input type="checkbox"/>  | Nacht <input checked="" type="checkbox"/>      | Abend <input type="checkbox"/>  | Nacht <input checked="" type="checkbox"/>      |

30 Minuten

4 Stunden

3 Stunden

30 Minuten

30 Minuten

30 Minuten

30 Minuten

11 Stunden und 30 Minuten

