
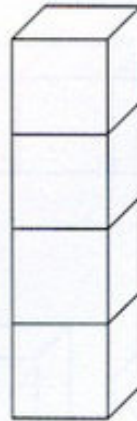



NAME: _____

2. Türme werden gebaut



Das Mäuschen sagt:
„Ich bin nicht dumm
und springe auf den Türmen rum.“

Die Maus im 20er-Haus
Best.-Nr. 10 281



netzwerk
lernen

Schreibe auf,
das Mäuschen g...

zur Vollversion

NAME: _____

10. Die Mäuse-Zahlen-Nachbarn



3	4	5
---	---	---

7		
---	--	--

11		
----	--	--

15		
----	--	--

18		
----	--	--

5		
---	--	--

	4	
--	---	--

	7	
--	---	--

	13	
--	----	--

	16	
--	----	--

	8	
--	---	--

	18	
--	----	--

		10
--	--	----

		19
--	--	----

		4
--	--	---

		14
--	--	----

		17
--	--	----

		6
--	--	---

		8
--	--	---

4		
---	--	--

	12	
--	----	--

	15	
--	----	--

		20
--	--	----

7		
---	--	--

Das Mäuschen sagt:
„Kinder ratet fein,
welche Zahlen können es sein?“

Die Maus im 20er-Haus
Best.-Nr. 10 281



netzwerk
lernen

Schreibe die richtige
in die Zahl

zur Vollversion

NAME: _____

13. Zahlen haben sich versteckt



4		6		8		
---	--	---	--	---	--	--

versteckt haben sich

5	7	9	10
---	---	---	----

2		4			7
---	--	---	--	--	---

rot

--	--	--

12			15
----	--	--	----

grün

--	--

13		15		17			20
----	--	----	--	----	--	--	----

blau

--	--	--	--

6				10
---	--	--	--	----

gelb

--	--	--

	2		4		6		8		10
--	---	--	---	--	---	--	---	--	----

braun

--	--	--	--	--

1		3		5		7		9	
---	--	---	--	---	--	---	--	---	--

lila

--	--	--	--	--

Das Mäuschen sagt:
„Du darfst jetzt malen,
über alle versteckten Zahlen.“

Die Maus im 20er-Haus
Best.-Nr. 10 281



netzwerk
lernen

Schreibe die versteckten Zahlen...

zur Vollversion