



DOWNLOAD

Jens Eggert

Europa: Ländersteckbriefe gestalten

Basiswissen Erdkunde einfach und klar

VORSCHAU



Downloadauszug
aus dem Originaltitel:

Aufgabe: Fülle den Ländersteckbrief vollständig aus.

Tipp: Nimm die Länderinfokarten, einen Atlas, ein Lexikon oder das Internet zu Hilfe.



Dies finde ich außerdem wichtig, über das Land zu wissen:

Das Land, das hier beschrieben wird, heißt

Hauptstadt:

Landessprache:

Fläche: _____ Quadratkilometer

Einwohnerzahl:

Internationales Autokennzeichen:



Landeswährung:

Deutschland grenzt an zwei Meere:

Durch Deutschland fließen folgende wichtige Flüsse:

Im Süden des Landes grenzt Deutschland an ein großes

Gebirge, die

Deutschland hat mit neun anderen europäischen Staaten

eine gemeinsame Grenze. Dies sind:

Name:

Ländersteckbrief Deutschland

Datum:



Aufgabe: Fülle den Ländersteckbrief vollständig aus.

Tipp: Nimm die Länderinfokarten, einen Atlas, ein Lexikon oder das Internet zu Hilfe.

--	--	--



Dies finde ich außerdem wichtig, über das Land zu wissen:

Das Land, das hier beschrieben wird, heißt

Hauptstadt: _____

Landessprache: _____

Fläche: _____ Quadratkilometer

Einwohnerzahl: _____

Internationales Autokennzeichen: ○

Landeswährung: _____

Frankreich grenzt an zwei Meere und einen Ozean:

Durch Frankreich fließen folgende wichtige Flüsse:

Frankreich hat Anteil an zwei großen Hochgebirgen:

Frankreich grenzt an acht andere europäische Staaten:

Name: _____

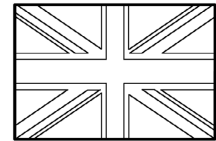
Ländersteckbrief Frankreich

Datum: _____



Aufgabe: Fülle den Ländersteckbrief vollständig aus.

Tipp: Nimm die Länderinfokarten, einen Atlas, ein Lexikon oder das Internet zu Hilfe.



Dies finde ich außerdem wichtig, über das Land zu wissen:

Das Land, das hier beschrieben wird, heißt

Hauptstadt: _____

Landessprache: _____

Fläche: _____ Quadratkilometer

Einwohnerzahl: _____

Internationales Autokennzeichen: ○

Landeswährung: _____

Großbritannien ist eine Insel im Meer. Sie ist umgeben vom _____ und der _____.

Der größte und wichtigste Fluss ist die _____.

Im Norden des Landes erheben sich die _____.

das höchste Gebirge des Landes. Ein Teil der Nachbarinsel Irland gehört noch zu Großbritannien (Nordirland).

Großbritannien hat so nur mit einem anderen europäischen Staat eine gemeinsame Grenze: _____

Name: _____
Ländersteckbrief Großbritannien

Datum: _____



Aufgabe: Fülle den Ländersteckbrief vollständig aus.

Tipp: Nimm die Länderinfokarten, einen Atlas, ein Lexikon oder das Internet zu Hilfe.

--	--	--



Dies finde ich außerdem wichtig, über das Land zu wissen:

Das Land, das hier beschrieben wird, heißt

Hauptstadt: _____

Landessprache: _____

Fläche: _____ Quadratkilometer

Einwohnerzahl: _____

Internationales Autokennzeichen: ○

Landeswährung: _____

Italien ist eine Halbinsel im _____.

Die beiden großen Inseln _____ und _____

gehören zu Italien. Im Norden Italiens fließt der _____,

der bedeutendste Fluss des Landes. Im Norden des Landes

grenzt Italien an ein großes Gebirge, die _____.

Ein weiteres Gebirge, die _____

zieht sich von Norden nach Süden durch das ganze Land.

Italien grenzt an folgende Länder: _____

Name: _____
Ländersteckbrief Italien

Datum: _____



Aufgabe: Fülle den Ländersteckbrief vollständig aus.

Tipp: Nimm die Länderinfokarten, einen Atlas, ein Lexikon oder das Internet zu Hilfe.



Dies finde ich außerdem wichtig, über das Land zu wissen:

Das Land, das hier beschrieben wird, heißt

Hauptstadt:

Landessprache:

Fläche: _____ Quadratkilometer

Einwohnerzahl:

Internationales Autokennzeichen: ○

Landeswährung:

Spanien grenzt an ein Meer und einen Ozean: _____

Durch Spanien fließen die folgenden wichtigen Flüsse:

Zwischen Spanien und Frankreich erhebt sich ein Gebirge, die _____

Spanien hat mit drei anderen europäischen Staaten eine gemeinsame Grenze. Diese Länder sind: _____

Name: _____

Ländersteckbrief Spanien

Datum: _____



Aufgabe: Fülle den Ländersteckbrief vollständig aus.

Tipp: Nimm die Länderinfokarten, einen Atlas, ein Lexikon oder das Internet zu Hilfe.



Dies finde ich außerdem wichtig, über das Land zu wissen:

Das Land, das hier beschrieben wird, heißt

Hauptstadt: _____

Landessprache: _____

Fläche: _____ Quadratkilometer

Einwohnerzahl: _____

Internationales Autokennzeichen: ○

Landeswährung: _____

Polen grenzt an ein Meer: _____

Durch Polen fließen zwei große, wichtige Flüsse: _____

Im Süden des Landes grenzt Polen an ein großes Gebirge: _____

Polen hat mit sieben anderen europäischen Staaten eine gemeinsame Grenze. Dies sind: _____

Name: _____
Ländersteckbrief Polen

Datum: _____



Aufgabe: Fülle den Ländersteckbrief vollständig aus.

Tipp: Nimm die Länderinfokarten, einen Atlas, ein Lexikon oder das Internet zu Hilfe.



Dies finde ich außerdem wichtig, über das Land zu wissen:

Das Land, das hier beschrieben wird, heißt

Hauptstadt:

Landessprache:

Fläche: _____ Quadratkilometer

Einwohnerzahl:

Internationales Autokennzeichen:



Landeswährung:

Die Ukraine grenzt an ein Meer:

Die wichtigsten Flüsse des Landes sind:

Die Ukraine hat mit sieben anderen europäischen Staaten eine gemeinsame Grenze. Dies sind:

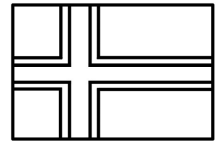
Name: _____
Ländersteckbrief Ukraine

Datum: _____



Aufgabe: Fülle den Ländersteckbrief vollständig aus.

Tipp: Nimm die Länderinfokarten, einen Atlas, ein Lexikon oder das Internet zu Hilfe.



Dies finde ich außerdem wichtig, über das Land zu wissen:

Das Land, das hier beschrieben wird, heißt

Hauptstadt:

Landessprache:

Fläche: _____ Quadratkilometer

Einwohnerzahl:

Internationales Autokennzeichen:



Landeswährung:

Norwegen grenzt an zwei Meere und einen Ozean:

Norwegen hat mit drei anderen europäischen Staaten eine gemeinsame Grenze. Dies sind:

Name: _____
Ländersteckbrief Norwegen

Datum: _____



Aufgabe: Fülle den Ländersteckbrief vollständig aus.

Tipp: Nimm die Länderinfokarten, einen Atlas, ein Lexikon oder das Internet zu Hilfe.



Dies finde ich außerdem wichtig, über das Land zu wissen:

Das Land, das hier beschrieben wird, heißt

Hauptstadt:

Landessprache:

Fläche: _____ Quadratkilometer

Einwohnerzahl:

Internationales Autokennzeichen: ○

Landeswährung:

Der europäische Teil von Russland grenzt an drei Meere:

Die wichtigsten Flüsse des Landes im europäischen Teil sind

Russland hat mit acht europäischen Staaten eine gemeinsame Grenze. Dies sind:

Name:

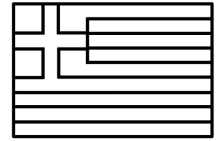
Ländersteckbrief Russland

Datum:



Aufgabe: Fülle den Ländersteckbrief vollständig aus.

Tipp: Nimm die Länderinfokarten, einen Atlas, ein Lexikon oder das Internet zu Hilfe.



Dies finde ich außerdem wichtig, über das Land zu wissen:

Das Land, das hier beschrieben wird, heißt

Hauptstadt:

Landessprache:

Fläche: _____ Quadratkilometer

Einwohnerzahl:

Internationales Autokennzeichen:



Landeswährung:

Griechenland grenzt an ein Meer:

Griechenland hat mit vier anderen europäischen Staaten eine gemeinsame Grenze. Dies sind:

Name: _____

Ländersteckbrief Griechenland

Datum: _____



Aufgabe: Fülle den Ländersteckbrief vollständig aus.

Tipp: Nimm die Länderinfokarten, einen Atlas, ein Lexikon oder das Internet zu Hilfe.



Dies finde ich außerdem wichtig, über das Land zu wissen:

Das Land, das hier beschrieben wird, heißt

Deutschland

Hauptstadt: Berlin

Landessprache: Deutsch

Fläche: 357 026 Quadratkilometer

Einwohnerzahl: 82,2 Millionen

Internationales Autokennzeichen: D

Landeswährung: Euro

Deutschland grenzt an zwei Meere: Nordsee, Ostsee

Durch Deutschland fließen folgende wichtige Flüsse:

Rhein, Donau, Elbe, Oder

Im Süden des Landes grenzt Deutschland an ein großes

Gebirge, die Alpen

Deutschland hat mit neun anderen europäischen Staaten

eine gemeinsame Grenze. Dies sind: Dänemark, Polen,


Tschechische Republik, Österreich, Schweiz, Frankreich,

Luxemburg, Belgien, Niederlande



Aufgabe: Fülle den Ländersteckbrief vollständig aus.

Tipp: Nimm die Länderinfokarten, einen Atlas, ein Lexikon oder das Internet zu Hilfe.



Dies finde ich außerdem wichtig, über das Land zu wissen:

Das Land, das hier beschrieben wird, heißt

Frankreich

Hauptstadt: Paris

Landessprache: Französisch

Fläche: 551 500 Quadratkilometer

Einwohnerzahl: 64 Millionen

Internationales Autokennzeichen: (F)

Landeswährung: Euro

Frankreich grenzt an zwei Meere und einen Ozean:

Mittelmeer, Atlantischer Ozean, Nordsee

Durch Frankreich fließen folgende wichtige Flüsse:

Rhone, Seine, Garonne, Loire

Frankreich hat Anteil an zwei großen Hochgebirgen:

Alpen, Pyrenäen

Frankreich grenzt an acht andere europäische Staaten:

Belgien, Luxemburg, Deutschland, Schweiz, Italien, Monaco,

Spanien, Andorra



Aufgabe: Fülle den Ländersteckbrief vollständig aus.

Tipp: Nimm die Länderinfokarten, einen Atlas, ein Lexikon oder das Internet zu Hilfe.



Dies finde ich außerdem wichtig, über das Land zu wissen:

Das Land, das hier beschrieben wird, heißt

Großbritannien

Hauptstadt: London

Landessprache: Englisch

Fläche: 243 610 Quadratkilometer

Einwohnerzahl: 61,2 Millionen

Internationales Autokennzeichen: GB

Landeswährung: Britisches Pfund

Großbritannien ist eine Insel im Meer. Sie ist umgeben vom Atlantischen Ozean und der Nordsee.

Der größte und wichtigste Fluss ist die Themse.

Im Norden des Landes erheben sich die Schottischen Highlands

das höchste Gebirge des Landes. Ein Teil der Nachbarinsel Irland gehört noch zu Großbritannien (Nordirland).

Großbritannien hat so nur mit einem anderen europäischen Staat eine gemeinsame Grenze: Irland



Aufgabe: Fülle den Ländersteckbrief vollständig aus.

Tipp: Nimm die Länderinfokarten, einen Atlas, ein Lexikon oder das Internet zu Hilfe.



Dies finde ich außerdem wichtig, über das Land zu wissen:

Das Land, das hier beschrieben wird, heißt

Italien

Hauptstadt: Rom

Landessprache: Italienisch (in Südtirol auch Deutsch)

Fläche: 301 341 Quadratkilometer

Einwohnerzahl: 58 Millionen

Internationales Autokennzeichen: I

Landeswährung: Euro

Italien ist eine Halbinsel im Mittelmeer

Die beiden großen Inseln Sardinien und Sizilien

gehören zu Italien. Im Norden Italiens fließt der Po,

der bedeutendste Fluss des Landes. Im Norden des Landes

grenzt Italien an ein großes Gebirge, die Alpen.

Ein weiteres Gebirge, die Apenninen

ziehen sich von Norden nach Süden durch das ganze Land.

Italien grenzt an folgende Länder: Schweiz, Österreich,

Slowenien, San Marino, Frankreich, Vatikanstadt



Aufgabe: Fülle den Ländersteckbrief vollständig aus.

Tipp: Nimm die Länderinfokarten, einen Atlas, ein Lexikon oder das Internet zu Hilfe.



Dies finde ich außerdem wichtig, über das Land zu wissen:

Das Land, das hier beschrieben wird, heißt

Spanien

Hauptstadt: Madrid

Landessprache: Spanisch

Fläche: 505 370 Quadratkilometer

Einwohnerzahl: 40,5 Millionen

Internationales Autokennzeichen: E

Landeswährung: Euro

Spanien grenzt an ein Meer und einen Ozean: Atlantischer Ozean, Mittelmeer

Durch Spanien fließen die folgenden wichtigen Flüsse:
Douro, Tajo, Ebro, Guadalquivir

Zwischen Spanien und Frankreich erhebt sich ein Gebirge,
die Pyrenäen

Spanien hat mit drei anderen europäischen Staaten eine
gemeinsame Grenze. Diese Länder sind: Frankreich,
Portugal, Andorra



Aufgabe: Fülle den Ländersteckbrief vollständig aus.

Tipp: Nimm die Länderinfokarten, einen Atlas, ein Lexikon oder das Internet zu Hilfe.



Dies finde ich außerdem wichtig, über das Land zu wissen:



Das Land, das hier beschrieben wird, heißt

Polen

Hauptstadt: Warschau

Landessprache: Polnisch

Fläche: 312 685 Quadratkilometer

Einwohnerzahl: 38,4 Millionen

Internationales Autokennzeichen: PL

Landeswährung: Zloty

Polen grenzt an ein Meer: Ostsee

Durch Polen fließen zwei große, wichtige Flüsse:

Oder, Weichsel

Im Süden des Landes grenzt Polen an ein großes Gebirge:

Hohe Tatra

Polen hat mit sieben anderen europäischen Staaten eine gemeinsame Grenze. Dies sind: Deutschland, Russland,

Litauen, Weißrussland, Ukraine, Slowenien, Tschechische

Republik



Aufgabe: Fülle den Ländersteckbrief vollständig aus.

Tipp: Nimm die Länderinfokarten, einen Atlas, ein Lexikon oder das Internet zu Hilfe.



Dies finde ich außerdem wichtig, über das Land zu wissen:

Das Land, das hier beschrieben wird, heißt

Ukraine

Hauptstadt: Kiew

Landessprache: Russisch, Ukrainisch

Fläche: 603 700 Quadratkilometer

Einwohnerzahl: 45,4 Millionen

Internationales Autokennzeichen: UA

Landeswährung: Hrywnja

Die Ukraine grenzt an ein Meer: Schwarzes Meer

Die wichtigsten Flüsse des Landes sind:

Dniepr, Dnister, Donau

Die Ukraine hat mit sieben anderen europäischen Staaten eine gemeinsame Grenze. Dies sind: Rusland, Moldawien, Rumänien, Ungarn, Slowakei, Polen, Weißrussland



Aufgabe: Fülle den Ländersteckbrief vollständig aus.

Tipp: Nimm die Länderinfokarten, einen Atlas, ein Lexikon oder das Internet zu Hilfe.



Dies finde ich außerdem wichtig, über das Land zu wissen:

Das Land, das hier beschrieben wird, heißt

Norwegen

Hauptstadt: Oslo

Landessprache: Norwegisch

Fläche: 323 802 Quadratkilometer

Einwohnerzahl: 4,6 Millionen

Internationales Autokennzeichen: (N)

Landeswährung: Norwegische Krone

Norwegen grenzt an zwei Meere und einen Ozean:

Nordsee, Ostsee, Atlantischer Ozean

Norwegen hat mit drei anderen europäischen Staaten eine gemeinsame Grenze. Dies sind: Schweden, Finnland,

Russland



Aufgabe: Fülle den Ländersteckbrief vollständig aus.

Tipp: Nimm die Länderinfokarten, einen Atlas, ein Lexikon oder das Internet zu Hilfe.



Dies finde ich außerdem wichtig, über das Land zu wissen:

Das Land, das hier beschrieben wird, heißt

Russland

Hauptstadt: Moskau

Landessprache: Russisch

Fläche: 3975392 Quadratkilometer in Europa

Einwohnerzahl: 139,4 Millionen

Internationales Autokennzeichen: (RUS)

Landeswährung: Russischer Rubel

Der europäische Teil von Russland grenzt an drei Meere:

Schwarzes Meer, Ostsee, Nordpolarmeer

Die wichtigsten Flüsse des Landes im europäischen Teil sind

Dnjepr, Wolga

Russland hat mit acht europäischen Staaten eine gemein-

same Grenze. Dies sind: Norwegen, Finnland, Estland,

Lettland, Weißrussland, Ukraine, Litauen, Polen



Aufgabe: Fülle den Ländersteckbrief vollständig aus.

Tipp: Nimm die Länderinfokarten, einen Atlas, ein Lexikon oder das Internet zu Hilfe.



Dies finde ich außerdem wichtig, über das Land zu wissen:

Das Land, das hier beschrieben wird, heißt

Griechenland

Hauptstadt: Athen

Landessprache: Griechisch

Fläche: 131 625 Quadratkilometer

Einwohnerzahl: 10,7 Millionen

Internationales Autokennzeichen: GR

Landeswährung: Euro

Griechenland grenzt an ein Meer: Mittelmeer

Griechenland hat mit vier anderen europäischen Staaten eine gemeinsame Grenze. Dies sind: Türkei, Bulgarien, Makedonien, Albanien





Bergedorfer[®] Unterrichtshilfen

... und das Lehrerleben wird leichter!

Weitere Downloads, E-Books und Print-Titel des umfangreichen Persen-Verlagsprogramms finden Sie unter www.persen.de

Hat Ihnen dieser Download gefallen? Dann geben Sie jetzt auf www.persen.de direkt bei dem Produkt Ihre Bewertung ab und teilen Sie anderen Kunden Ihre Erfahrungen mit.



© 2012 Persen Verlag
AAP Lehrerfachverlage GmbH
Alle Rechte vorbehalten.

Das Werk als Ganzes sowie in seinen Teilen unterliegt dem deutschen Urheberrecht. Der Erwerber des Werkes ist berechtigt, das Werk als Ganzes oder in seinen Teilen für den eigenen Gebrauch und den Einsatz im Unterricht zu nutzen. Die Nutzung ist nur für den genannten Zweck gestattet, nicht jedoch für einen weiteren kommerziellen Gebrauch, für die Weiterleitung an Dritte oder für die Veröffentlichung im Internet oder in Intranets. Eine über den genannten Zweck hinausgehende Nutzung bedarf in jedem Fall der vorherigen schriftlichen Zustimmung des Verlages.

Die AAP Lehrerfachverlage GmbH kann für die Inhalte externer Sites, die Sie mittels eines Links oder sonstiger Hinweise erreichen, keine Verantwortung übernehmen. Ferner haftet die AAP Lehrerfachverlage GmbH nicht für direkte oder indirekte Schäden (inkl. entgangener Gewinne), die auf Informationen zurückgeführt werden können, die auf diesen externen Websites stehen.

Illustrationen: Oliver Wetterauer
Satz: MouseDesign Medien AG, Zeven

Bestellnr.: 23086DA4

www.persen.de