



DOWNLOAD


Diana Fürstner

Ziffern und Mengen im ZR 0–6

Mathe für Schüler mit geistiger
Behinderung

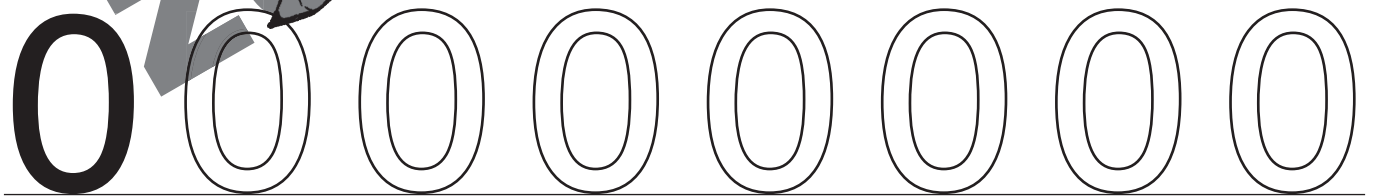

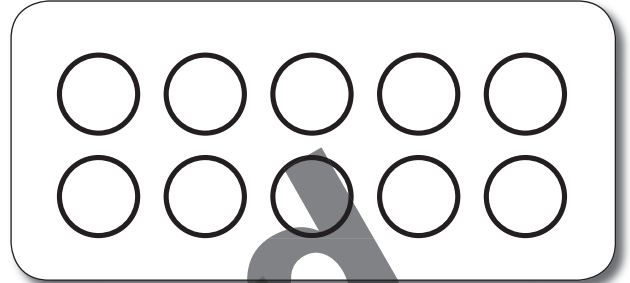
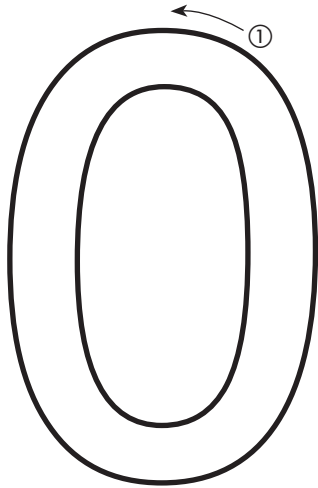
VORSCHAU

Downloadauszug
aus dem Originaltitel:



Name: _____

Datum: _____



netzwerk
lernen

Lesen, Rechnen, Ziffern und Mengen im ZR 0-6
© Persen Verlag GmbH, Buxtehude

zur Vollversion

Name: _____ Datum: _____



Schreibe die Anzahl in die Kästchen.

0 1 2 3 4 5 6 ZR 0-6



netzwerk
lernen

Arbeitsblätter zu Zahlen und Mengen im ZR 0-6
© Persen Verlag GmbH, Buxtehude

zur Vollversion

Name: _____ Datum: _____



Schreibe die Anzahl in die Kästchen.

0 1 2 3 4 5 6 ZR 0-6

● ● ● ● ● ● ○ ○ ○ ○	
○ ○ ○ ○ ○ ○ ○ ○ ○ ○	
● ● ● ● ● ○ ○ ○ ○ ○	
● ● ● ○ ○ ○ ○ ○ ○ ○	
● ● ● ● ○ ○ ○ ○ ○ ○	
● ○ ○ ○ ○ ○ ○ ○ ○ ○	
● ● ○ ○ ○ ○ ○ ○ ○ ○	
○ ○ ○ ○ ○ ○ ○ ○ ○ ○	
● ● ● ● ● ● ○ ○ ○ ○	




netzwerk
lernen

© Persen Verlag GmbH, Buxtehude

zur Vollversion

Name: _____ Datum: _____



Schreibe die Anzahl auf. 0 1 2 3 4 5 6

ZR 0-6

 _____	 _____
 _____	 _____
 _____	 _____
 _____	 _____



netzwerk
lernen







Lesen, Rechnen, Ziffern und Mengen im ZR 0-6
© Persen Verlag GmbH, Buxtehude

zur Vollversion

Name: _____ Datum: _____



Schreibe die Anzahl in die Kästchen. 0 1 2 3 4 5 6 ZR 0-6



























Name: _____

Datum: _____



Male die Anzahl aus.

ZR 0-6

   	6
 	0
 	4
 	2
 	5
 	3
 	1
 	5
 	2
 	0
 	6

Name: _____

Datum: _____



Male die Anzahl aus.

ZR 0-6

 6	 0
 4	 2
 3	 0
 5	 1



netzwerk
lernen

Üben die Ziffern und Mengen im ZR 0-6
© Persen Verlag GmbH, Buxtehude

zur Vollversion

Name: _____







Datum: _____



Schreibe die Anzahl in die Kästchen.

0 1 2 3 4 5 6

ZR 0-6



netzwerk
lernen

... und Mengen im ZR 0-6
© Persen Verlag GmbH, Buxtehude

zur Vollversion

Name: _____ Datum: _____



Schreibe die Anzahl in die Kästchen. 0 1 2 3 4 5 6 ZR 0-6

● ● ● ● ● ● ○ ○ ○ ○	
● ● ● ○ ○ ○ ○ ○ ○ ○	
● ● ● ● ○ ○ ○ ○ ○ ○	
● ● ○ ○ ○ ○ ○ ○ ○ ○	
● ○ ○ ○ ○ ○ ○ ○ ○ ○	
○ ○ ○ ○ ○ ○ ○ ○ ○ ○	
● ● ● ● ○ ○ ○ ○ ○ ○	
● ● ● ● ● ● ○ ○ ○ ○	
● ● ● ● ● ○ ○ ○ ○ ○	



netzwerk
lernen

Lesen, Rechnen, Schreiben
© Persen Verlag GmbH, Buxtehude

zur Vollversion

Name: _____ Datum: _____



Schreibe die Anzahl auf. 0 1 2 3 4 5 6

ZR 0-6

 _____	 _____
 _____	 _____
 _____	 _____
 _____	 _____



Name: _____ Datum: _____



Wie viele Perlen sind auf der Schnur? 0 1 2 3 4 5 6 ZR 0-6



netzwerk
lernen

Lesen, Rechnen, Schreiben und Mengen im ZR 0-6
© Persen Verlag GmbH, Buxtehude


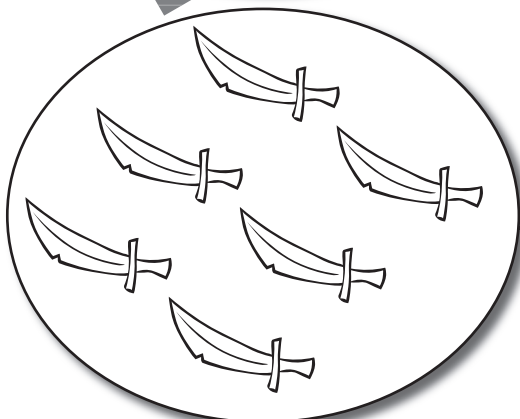




zur Vollversion

Name: _____ Datum: _____



Schreibe die Anzahl in die Kästchen. 0 1 2 3 4 5 6

ZR 0-6



netzwerk
lernen

© Persen Verlag GmbH, Buxtehude

zur Vollversion


Name: _____

Datum: _____



Male die Anzahl aus.

ZR 0-6

 ○ ○ ○ ○ ○ ○ ○ ○ ○ ○ ○ ○	6
○ ○ ○ ○ ○ ○ ○ ○ ○ ○ ○ ○	3
○ ○ ○ ○ ○ ○ ○ ○ ○ ○ ○ ○	2
○ ○ ○ ○ ○ ○ ○ ○ ○ ○ ○ ○	4
○ ○ ○ ○ ○ ○ ○ ○ ○ ○ ○ ○	1
○ ○ ○ ○ ○ ○ ○ ○ ○ ○ ○ ○	5
○ ○ ○ ○ ○ ○ ○ ○ ○ ○ ○ ○	4
○ ○ ○ ○ ○ ○ ○ ○ ○ ○ ○ ○	6
○ ○ ○ ○ ○ ○ ○ ○ ○ ○ ○ ○	2
○ ○ ○ ○ ○ ○ ○ ○ ○ ○ ○ ○	5
○ ○ ○ ○ ○ ○ ○ ○ ○ ○ ○ ○	3



netzwerk
lernen

Üben die Ziffern und Mengen im ZR 0-6
© Persen Verlag GmbH, Buxtehude

zur Vollversion

Name: _____

Datum: _____



Male die Anzahl aus.

ZR 0-6

 5	 3
 6	 1
 2	 4
 0	 6



netzwerk
lernen

Arbeitsblätter zu den Ziffern und Mengen im ZR 0-6
© Persen Verlag GmbH, Buxtehude

zur Vollversion

Name: _____ Datum: _____



Male Perlen auf die Schnur.

ZR 0-6

	6
	4
	2
	5
	1
	3
	6
	3
	4
	0
	5