



DOWNLOAD

Jens Eggert


Gebirge und Flüsse Europas

Basiswissen Erdkunde einfach und klar

VORSCHAU



Downloadauszug
aus dem Originaltitel:

Name:	Datum:	
Gebirge in Europa		

Es gibt zahlreiche Mittelgebirge und Hochgebirge in Europa. Während die Mittelgebirge eine Höhe zwischen 250 bis 1500 m aufweisen, reichen die Höhen der Hochgebirge deutlich darüber hinaus. Auf der Karte unten sind die wichtigsten Gebirge Europas verzeichnet.



Nimm einen Atlas zu Hilfe.

Aufgabe: Finde die Namen der nummerierten Gebirge (1–12) heraus.

Aufgepasst! Je nach Atlas kann es vorkommen, dass anstatt einem „Überbegriff“ die Namen bestimmter Gebirgsregionen genannt werden. Beispiel: Anstatt „Skandinavisches Gebirge“ werden „Jotunheim“ und „Hardanger Vidda“ angegeben.



	Name des Gebirges		Name des Gebirges
1		7	
2		8	
3		9	
4a 4b		10	
5		11	
6		12	

Name:

Datum:



Die höchsten Berge Europas



Nimm einen Atlas zu Hilfe.

1. Finde die Namen der nummerierten Gebirge heraus (1–12).
2. Finde zu jedem Gebirge den Namen und die Höhe des höchsten Berges heraus.



	Name des Gebirges	höchster Berg	Höhe in Meter
1			
2			
3			
4a			
4b			
5			
6			
7			
8			
9			
10			
11			
12			

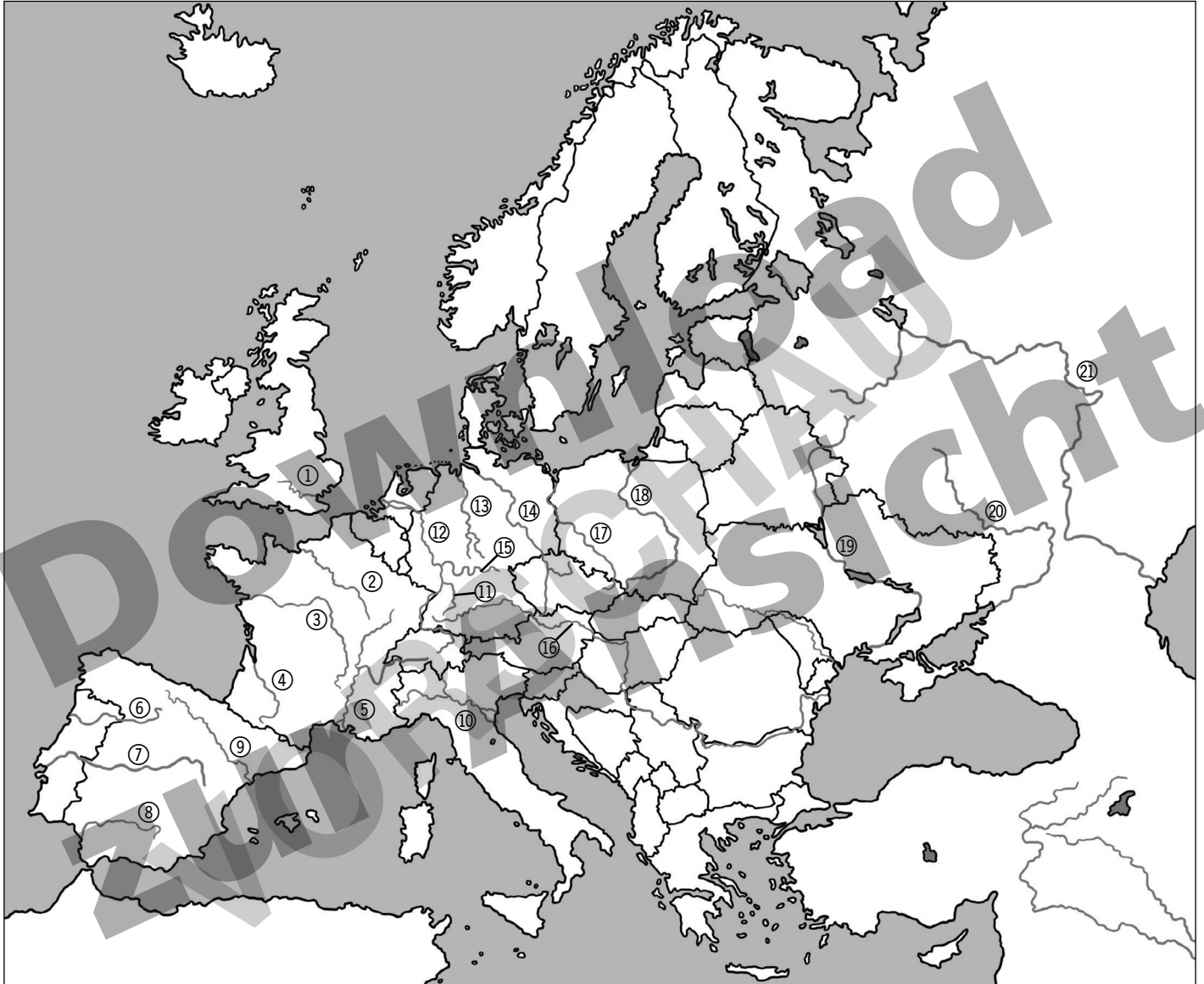
Name:

Datum:



Die größten Flüsse in Europa

In Europa gibt es viele Flüsse. Sie entspringen größtenteils in Gebirgen, zum Beispiel in den Alpen, den Pyrenäen oder anderen Mittelgebirgen. Die Flüsse Europas sind nicht so lang wie die anderer Kontinente, zum Beispiel Afrikas. Trotzdem sind sie sehr wichtig sowohl für die Wasserversorgung als auch als Transportwege für Schiffe.



Nimm einen Atlas zu Hilfe.

1. Trage die Namen der Flüsse (1–21) richtig in die Tabelle ein (Arbeitsblatt 12b).
2. Finde zusätzlich heraus, in welches Meer (oder größeren Fluss) die Flüsse münden und in welchem Land sie hauptsächlich fließen.

Name:

Datum:



Die größten Flüsse in Europa


	Flussname	mündet in den/das	fließt hauptsächlich durch
1			
2			
3			
4			
5			
6			
7			
8			
9			
10			
11			
12			
13			
14			
15			
16			
17			
18			
19			
20			
21			



**netzwerk
lernen**

Jens Eggert: Gebirge und Flüsse Europas
© Persen Verlag, Buxtehude

zur Vollversion

Name:	Datum:	
Grenzüberschreitende Flüsse in Europa		

Es gibt viele Flüsse in Europa, die nicht nur durch ein Land fließen. Die Donau entspringt zum Beispiel in Deutschland. Zehn europäische Länder haben einen Anteil an der Donau, bevor sie schließlich in das Schwarze Meer mündet.



Nimm einen Atlas zu Hilfe.

Aufgabe: Finde heraus, durch welche Länder die angegebenen Flüsse (A–H) fließen.

	Name des Flusses	fließt durch oder grenzt an folgende Länder
A		
B		
C		
D		
E		
F		
G		
H		

Zusatzaufgabe:

Markiere das Land, in dem der Fluss entspringt, ROT und das in dem die Mündung liegt, BLAU.

Gebirge in Europa

Es gibt zahlreiche Mittelgebirge und Hochgebirge in Europa. Während die Mittelgebirge eine Höhe zwischen 250 bis 1500 m aufweisen, reichen die Höhen der Hochgebirge deutlich darüber hinaus. Auf der Karte unten sind die wichtigsten Gebirge Europas verzeichnet.



Nimm einen Atlas zu Hilfe.

Aufgabe: Finde die Namen der nummerierten Gebirge (1–12) heraus.

Aufgepasst! Je nach Atlas kann es vorkommen, dass anstatt einem „Überbegriff“ die Namen bestimmter Gebirgsregionen genannt werden. Beispiel: Anstatt „Skandinavisches Gebirge“ werden „Jotunheim“ und „Hardanger Vidda“ angegeben.



	Name des Gebirges		Name des Gebirges
1	Schottische Highlands	7	Zentralmassiv
2	Skandinavisches Gebirge	8	Alpen
3	Kantabrisches Gebirge	9	Apenninen
4a 4b	Kastilisches Gebirge Iberisches Gebirge	10	Hohe Tatra (Westkarpaten)
5	Beltische Kordillere (kl. Sierra Nevada)	11	Süd- und Ostkarpaten
6	Pyrenäen	12	Uralgebirge

Die höchsten Berge Europas



Nimm einen Atlas zu Hilfe.

1. Finde die Namen der nummerierten Gebirge heraus (1–12).
2. Finde zu jedem Gebirge den Namen und die Höhe des höchsten Berges heraus.



	Name des Gebirges	höchster Berg	Höhe in Meter
1	Schottische Highlands	Ben Nevis	1343 m
2	Skandinavisches Gebirge	Galdhøpiggen	2469 m
3	Kantabrisches Gebirge	Torre de Cerredo	2648 m
4a	Kastilisches Gebirge	Pico Almanzor	2592 m
4b	Iberisches Gebirge	San Miguel (Sierra del Moncayo)	2314 m
5	Beltische Kordillere (kl. Sierra Nevada)	Mulhacén	3482 m
6	Pyrenäen	Pico de Aneto	3404 m
7	Zentralmassiv	Mont Dore	1886 m
8	Alpen	Mont Blanc	4807 m
9	Apenninen	Grand Sasso	2914 m
10	Hohe Tatra (Westkarpaten)	Gerlachovsky stit	2655 m
11	Süd- und Ostkarpaten	Moldoveanu	2544 m
12	Uralgebirge	Narodnaja	

Die größten Flüsse in Europa

	Flussname	mündet in den/das	fließt hauptsächlich durch
1	Themse	Nordsee	Großbritannien
2	Seine	Englischen Kanal	Frankreich
3	Loire	Atlantischen Ozean	Frankreich
4	Garonne	Atlantischen Ozean	Frankreich
5	Rhone	Mittelmeer	Frankreich
6	Douro	Atlantischen Ozean	Spanien, Portugal
7	Tajo (Tejo)	Atlantischen Ozean	Spanien, Portugal
8	Guadalquivir	Atlantischen Ozean	Spanien
9	Ebro	Mittelmeer	Spanien
10	Po	Adria (Mittelmeer)	Italien
11	Neckar	Rhein	Deutschland
12	Rhein	Nordsee	Deutschland
13	Weser	Nordsee	Deutschland
14	Elbe	Nordsee	Deutschland
15	Main	Rhein	Deutschland
16	Donau	Schwarze Meer	10 Länder haben Anteil, durch 6 fließt sie hindurch
17	Oder	Ostsee	Polen
18	Weichsel	Ostsee	Polen
19	Dnjepr	Schwarze Meer	Russland
20	Don	Schwarze Meer	Russland
21	Wolga	Kaspische Meer	Russland

Grenzüberschreitende Flüsse in Europa

Es gibt viele Flüsse in Europa, die nicht nur durch ein Land fließen. Die Donau entspringt zum Beispiel in Deutschland. Zehn europäische Länder haben einen Anteil an der Donau, bevor sie schließlich in das Schwarze Meer mündet.



Nimm einen Atlas zu Hilfe.

Aufgabe: Finde heraus, durch welche Länder die angegebenen Flüsse (A–H) fließen.

	Name des Flusses	fließt durch oder grenzt an folgende Länder
A	Douro	Spanien, Portugal
B	Tajo (Tejo)	Spanien, Portugal
C	Rhone	Schweiz, Frankreich
D	Rhein	Österreich, Schweiz, Deutschland, Liechtenstein, Niederlande, Frankreich
E	Donau	Deutschland, Österreich, Slowakei, Ungarn, Kroatien, Serbien, Rumänien, Bulgarien, Moldawien, Ukraine
F	Elbe	Deutschland, Tschechische Republik
G	Oder	Tschechische Republik, Deutschland, Polen
H	Dnjepr	Russland, Weißrussland, Ukraine

Zusatzaufgabe:

Markiere das Land, in dem der Fluss entspringt, ROT und das, in dem die Mündung liegt, BLAU.



Bergedorfer[®] Unterrichtshilfen

... und das Lehrerleben wird leichter!

Weitere Downloads, E-Books und Print-Titel des umfangreichen Persen-Verlagsprogramms finden Sie unter www.persen.de

Hat Ihnen dieser Download gefallen? Dann geben Sie jetzt auf www.persen.de direkt bei dem Produkt Ihre Bewertung ab und teilen Sie anderen Kunden Ihre Erfahrungen mit.



© 2012 Persen Verlag
AAP Lehrerfachverlage GmbH
Alle Rechte vorbehalten.

Das Werk als Ganzes sowie in seinen Teilen unterliegt dem deutschen Urheberrecht. Der Erwerber des Werkes ist berechtigt, das Werk als Ganzes oder in seinen Teilen für den eigenen Gebrauch und den Einsatz im Unterricht zu nutzen. Die Nutzung ist nur für den genannten Zweck gestattet, nicht jedoch für einen weiteren kommerziellen Gebrauch, für die Weiterleitung an Dritte oder für die Veröffentlichung im Internet oder in Intranets. Eine über den genannten Zweck hinausgehende Nutzung bedarf in jedem Fall der vorherigen schriftlichen Zustimmung des Verlages.

Die AAP Lehrerfachverlage GmbH kann für die Inhalte externer Sites, die Sie mittels eines Links oder sonstiger Hinweise erreichen, keine Verantwortung übernehmen. Ferner haftet die AAP Lehrerfachverlage GmbH nicht für direkte oder indirekte Schäden (inkl. entgangener Gewinne), die auf Informationen zurückgeführt werden können, die auf diesen externen Websites stehen.

Illustrationen: Oliver Wetterauer
Satz: MouseDesign Medien AG, Zeven

Bestellnr.: 23086DA2

www.persen.de