



DOWNLOAD


Barbara Jaglarz, Georg Bemmerlein

Fußball: Sportunterricht im Klassenzimmer

Originelle Arbeitsblätter bei Platzsperre,
Vertretung & Co.



Downloadauszug
aus dem Originaltitel:



Fußball ist eine der beliebtesten und am weitesten verbreiteten Sportarten weltweit. Es ist eine Ballsportart, bei der zwei Mannschaften auf einem großen rechteckigen Spielfeld gegeneinander spielen. Gewonnen hat die Mannschaft, die mehr Tore als der Gegner erzielt. Jede Mannschaft hat auf ihrer Seite ein Tor. Es liegt jeweils am Ende des Spielfeldes in der Mitte der Schmalseite. Ein Tor ist erzielt, wenn der Gegner den Ball mit dem gesamten Umfang über die Begrenzungslinie des Spielfeldes (Torlinie) ins Tor bringt.

Die Spielzeit dauert bei Erwachsenen üblicherweise 2 x 45 Minuten, unterbrochen von einer viertelstündigen Pause. Je nach Alter der Spieler oder Art bzw. Sonderregeln des Spiels, können Pausen- und Spielzeit auch länger oder kürzer sein.

Sieger ist die Mannschaft, die am Ende der Spielzeit mehr Tore erzielt hat. Ein Spiel kann auch unentschieden enden. Bei bestimmten Spielen wird die Spielzeit verlängert oder zuletzt ein sogenanntes „Elfmeterschießen“ zur Ermittlung eines Siegers durchgeführt.

Eine Mannschaft besteht bei Erwachsenen in der Regel aus 10 Feldspielern und einem Torwart. Die Feldspieler dürfen den Ball nicht mit Händen oder Armen spielen. Sie tragen einheitliche Kleidung und sind durch Nummern unterschieden. Je nach Aufgabe im Spiel unterscheidet man Verteidiger, Mittelfeldspieler und Stürmer.

Nur der Torwart darf innerhalb eines begrenzten Teiles des Spielfeldes, dem sogenannten „eigenen Strafraum“, Arme und Hände einsetzen. Seine spezielle Aufgabe ist es, den Ball daran zu hindern, die Torlinie zu überqueren. Dafür ist er mit speziellen Torwarthandschuhen ausgerüstet. Der Torwart trägt Kleidung, die ihn von den Feldspielern seiner Mannschaft unterscheidet.

Über Einhaltung der Regeln wacht ein Schiedsrichter zusammen mit zwei Schiedsrichterassistenten.

Beantworte die Fragen:

1 Welche Ballsportart ist Fußball?

2 Wann ist ein Tor erzielt?

3 Wie lange dauert üblicherweise die Spielzeit?

4 Wer ist Sieger?

5 Welche Kleidung tragen die Feldspieler?


6 Welche Spieler unterscheidet man auf dem Spielfeld?

7 Welche Kleidung trägt der Torwart?

8 Wer wacht über die Einhaltung der Regeln?



Fußball – beliebtestes Ballspiel der Welt: Lückentext



Setze in die Textlücken folgende Wörter ein:



Tor, Händen, Mannschaften, Schiedsrichter, Nummern, Spielfeld, Teiles, Gegner, Ende, Pause, Spielzeit, Torwart, Sieger, Elfmeterschießen, Feldspielern, Armen, Verteidiger, Stürmer, Strafraum, Torlinie, Sportarten, Torwarthandschuhen, Kleidung, Ball, Schiedsrichterassistenten

Fußball ist eine der beliebtesten und am weitesten verbreiteten _____ weltweit. Es ist eine Ballsportart, bei der zwei _____ auf einem großen rechteckigen _____ gegeneinander spielen. Gewonnen hat die Mannschaft, die mehr Tore als der _____ erzielt. Jede Mannschaft hat auf ihrer Seite ein _____. Es liegt jeweils am _____ des Spielfeldes in der Mitte der Schmalseite. Ein Tor ist erzielt, wenn der Gegner den _____ mit dem gesamten Umfang über die Begrenzungslinie des Spielfeldes (Torlinie) ins Tor bringt.


Die _____ dauert bei Erwachsenen üblicherweise 2 x 45 Minuten, unterbrochen von einer viertelstündigen _____. Je nach Alter der Spieler oder Art bzw. Sonderregeln des Spiels, können Pausen- und Spielzeit auch länger oder kürzer sein.

_____ ist die Mannschaft, die am Ende der Spielzeit mehr Tore erzielt hat. Ein Spiel kann auch unentschieden enden. Bei bestimmten Spielen wird die Spielzeit verlängert oder zuletzt ein sogenanntes „_____“ zur Ermittlung eines Siegers durchgeführt.

Eine Mannschaft besteht bei Erwachsenen in der Regel aus 10 _____ und einem _____. Die Feldspieler dürfen den Ball nicht mit _____ oder _____ spielen. Sie tragen einheitliche Kleidung und sind durch _____ unterschieden. Je nach Aufgabe im Spiel unterscheidet man _____, Mittelfeldspieler und _____.

Nur der Torwart darf innerhalb eines begrenzten _____ des Spielfeldes, dem sogenannten „eigenen _____“, Arme und Hände einsetzen. Seine spezielle Aufgabe ist es, den Ball daran zu hindern, die _____ zu überqueren. Dafür ist er mit speziellen _____ ausgerüstet. Der Torwart trägt _____, die ihn von den Feldspielern seiner Mannschaft unterscheidet.

Über Einhaltung der Regeln wacht ein _____ zusammen mit zwei _____.

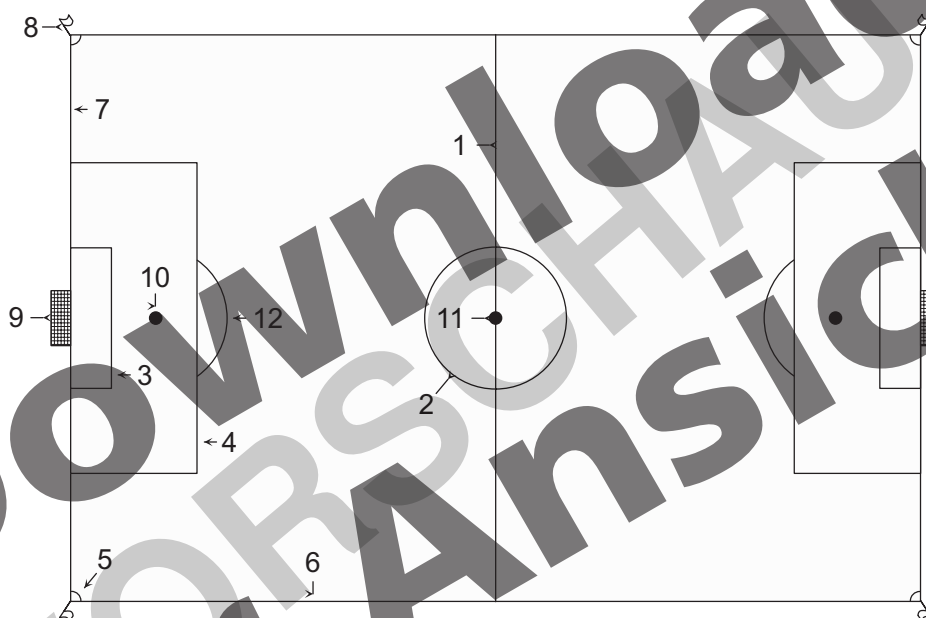


Gespielt wird auf einem rechteckigen freien Feld. Im Profifußball dient Rasen, bei Amateuren zunehmend auch Kunstrasen als Bodenbelag.

Die Länge der Torlinien (kurze Seiten) soll zwischen 45 und 90 Meter, die der Seitenlinien (lange Seiten) zwischen 90 und 120 Meter betragen. Bei Länderspielen sind mittlerweile international 68 auf 105 Meter als Maße vorgeschrieben. Das Spielfeld ist durch gekalkte weiße Linien eingegrenzt, die höchstens zwölf cm breit sein dürfen. Dieselben Linien kennzeichnen auch Mittellinie, Mittelkreis, Strafräume mit Strafkreis, Torräume (Nahräume vor dem Tor) sowie die vier Eckkreise. Die Ecken des Spielfeldes sind mit Eckfahnen markiert.

In der Mitte des Spielfeldes liegt der Anstoßpunkt, elf Meter vor den Toren je ein Elfmeterpunkt.

In der Mitte der Schmalseiten (Torlinien) steht auf jeder Seite ein Tor. Es besteht aus zwei seitlichen Pfosten, die oben durch eine Querlatte verbunden sind. Das Tor hat die Innenmaße von 7,32 Metern zwischen den Pfosten und 2,44 Metern zwischen Boden und Querlatte. Damit ein ins Tor geschossener Ball nicht wegfliegt und ein Beweis für einen Treffer vorliegt, ist das Tor auf der Rückseite mit einem Netz versehen.



Trage die Namen der Linien und Kreise den Nummern entsprechend ein.




Mittelkreis, Strafraum, Torlinie, Seitenlinie, Elfmeterpunkt, Torraum, Eckkreis, Mittellinie, Eckfahne, Anstoßpunkt, Tor, Strafkreis



- | | | | |
|---|-------|----|-------|
| 1 | _____ | 7 | _____ |
| 2 | _____ | 8 | _____ |
| 3 | _____ | 9 | _____ |
| 4 | _____ | 10 | _____ |
| 5 | _____ | 11 | _____ |
| 6 | _____ | 12 | _____ |

Fußball – Spieleraufstellung auf dem Spielfeld – Taktik

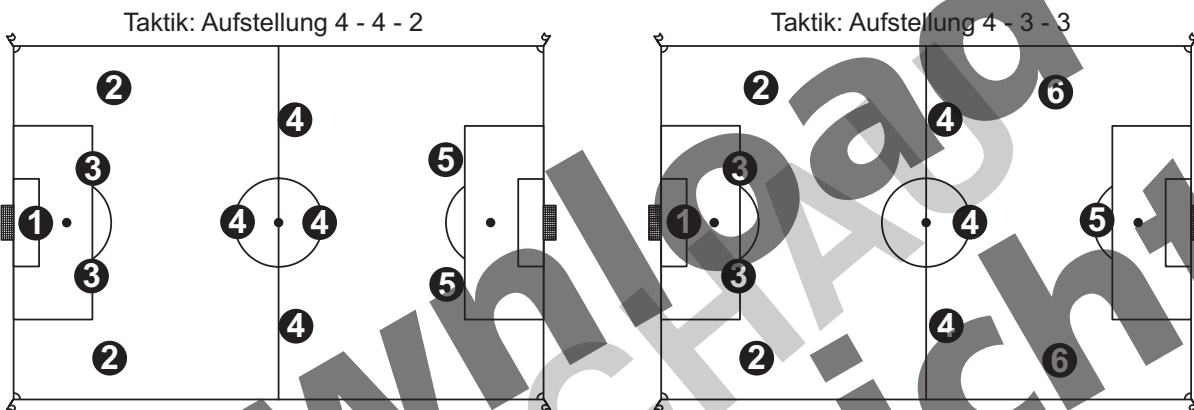


Die Spieler haben verschiedene Positionen:

Die Verteidigung besteht oft aus einer Viererreihe: Bestehend aus rechtem und linkem Außenverteidiger und Innenverteidigern. Die Verteidigung wird oft auch vom Torwart organisiert, sie darf ihm nicht die Sicht verstellen oder ihn gar behindern.

Die Mittelfeldspieler haben vielseitige Aufgaben, sowohl in der Abwehr als auch im Spielaufbau und im Angriff. Je nach Taktik sind die einzelnen Spieler eher auf Verteidigungsaufgaben spezialisiert oder für die Organisation des Spieles nach vorn zuständig.

Die Stürmer werden positioniert als rechter, bzw. linker Außenstürmer oder als Mittelstürmer. Sie haben die Aufgabe, Tore zu schießen; entweder durch eigene Kraft und Geschicklichkeit, oder indem sie im Zusammenspiel mit Mannschaftskameraden den Gegner ausspielen, um möglichst ungehindert zum Torschuss zu kommen.

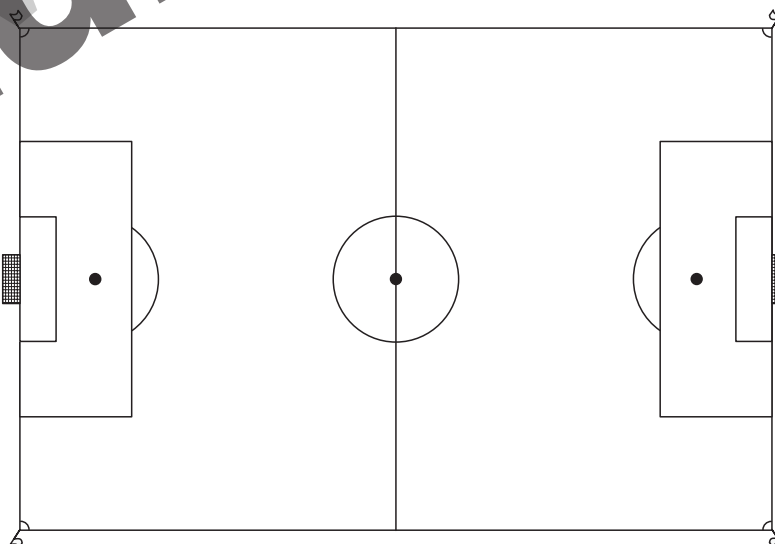







Trage der Nummer entsprechend ein:

Stürmer, Außenverteidiger, Torwart, Innenverteidiger, Mittelfeldspieler, Außenstürmer

1	_____	4	_____
2	_____	5	_____
3	_____	6	_____

Zeige uns deine eigene taktische Aufstellung:





Schneide die Textfelder aus und klebe sie unter das passende Bild.



Als „**Foul**“ bezeichnet man ein unerlaubtes Verhalten.


Ein „**Eckstoß**“ wird ausgeführt, wenn der Ball die Torlinie überquert und nicht ins Tor geht.

Die „**Rote Karte**“ zeigt den Platzverweis eines Spielers an.

Beim „**Einwurf**“ wirft ein Spieler den Ball wieder ins Spielfeld zurück.

Ein „**Freistoß**“ bestraft das regelwidrige Verhalten eines Spielers.

Mit dem „**Abpfiff**“ unterbricht oder beendet der Schiedsrichter das Spiel.



Jede Mannschaft hat ihr eigenes einheitliches Trikot, das sie von der Mannschaft des Gegners unterscheidet. Das Trikot entspricht meist den Farben und Mustern des Vereinswappens, das vorn auf dem Trikot aufgenäht ist. Auf dem Rücken trägt der Spieler eine Nummer. Oft sind die Nummern an bestimmte Spielerpositionen geknüpft, so hat der Torwart meist die Nummer 1. Bedeutendere Mannschaften zeigen über der Nummer auch den Namen des Spielers. Die Spieler tragen dazu kurze Hosen und Stutzen (Strümpfe ohne Fußteil) ebenfalls in den Vereinsfarben. Dazu kommen Schienbeinschützer und Fußballschuhe mit spezieller Sohle. Aus Sicherheitsgründen dürfen Spieler weder Schmuck noch Uhren und auch keine Brillen tragen. Der Torwart trägt Kleidung, die ihn farblich deutlich von seinen Mannschaftskameraden unterscheidet. Als zusätzliche Ausrüstung besitzt er Torwarthandschuhe.

Auch Schiedsrichter und Schiedsrichterassistenten tragen andersfarbige Trikots und Hosen, meist in dezenten Farben, typische Schiedsrichterfarben sind schwarz oder grau. Sie haben keine Stutzen. Der Schiedsrichter trägt in einer Brusttasche ein Notizbuch und rote und gelbe Karten mit sich, dazu kommt eine Trillerpfeife. Schiedsrichterassistenten tragen in der Hand eine Fahne, um damit Zeichen zu geben.

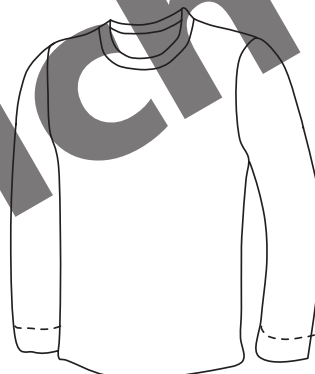


Lies den Text sorgfältig und gestalte entsprechend die Kleidung der Fußballakteure:

Feldspieler


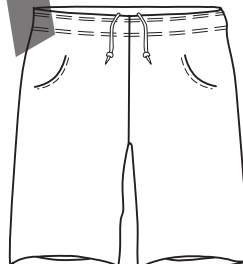

Schiedsrichter


Torwart

Vorderseite



Rückseite





Löse das Kreuzwörterrätsel und finde das Lösungswort.

1  [] [] [] [] [] [] [] [] [] [] [] [] bestraft das regelwidrige Verhalten Spielers.

2 [] [] [] [] [] [] [] [] [] [] [] die kleinste markierte Fläche auf dem Spielfeld

3 [] [] [] [] [] [] [] [] [] [] [] [] wird oft zur Ermittlung eines Siegers durchgeführt

4 [] [] [] [] [] [] [] [] [] [] [] teilt das Spielfeld in zwei Teile

5  [] [] [] [] [] [] [] [] [] [] [] die Rückseite des Tors

6 [] [] [] [] [] [] [] [] [] [] [] steht oft in einer Viererreihe

7 [] [] [] [] [] [] [] [] [] [] [] Schutzausrüstung der Spieler

8 [] [] [] [] [] [] [] [] [] [] [] Er hat die Aufgabe Tore zu schießen.

9 [] [] [] [] [] [] [] [] [] [] [] Sie dauert 2 x 45 Minuten.

10 [] [] [] [] [] [] [] [] [] [] [] Die Spielergruppe auf dem Spielfeld

11 [] [] [] [] [] [] [] [] [] [] [] zum Markieren der Spielfeldecken

12 [] [] [] [] [] [] [] [] [] [] [] erfolgreicher Treffer

13  [] [] [] [] [] [] [] [] [] [] [] jeder Spieler hat sie auf dem Rücken des Trikots

14 [] [] [] [] [] [] [] [] [] [] [] Nur er darf beim Spielen Arme und Hände einsetzen.

15 [] [] [] [] [] [] [] [] [] [] [] Er rollt auf dem Spielfeld

16 [] [] [] [] [] [] [] [] [] [] [] die weißen auf dem Spielfeld

17 [] [] [] [] [] [] [] [] [] [] [] sie müssen besonders bequem sein.

18 [] [] [] [] [] [] [] [] [] [] [] darauf wird Fußball gespielt

19 [] [] [] [] [] [] [] [] [] [] [] daran unterscheidet man die Mannschaften

20 [] [] [] [] [] [] [] [] [] [] [] die 10 auf dem Spielfeld

21  [] [] [] [] [] [] [] [] [] [] [] damit unterbricht der Schiedsrichter das Spiel

22 [] [] [] [] [] [] [] [] [] [] [] die Mannschaft, die die meisten Tore geschossen hat

23 [] [] [] [] [] [] [] [] [] [] [] unerlaubtes Verhalten auf dem Spielfeld

24 [] [] [] [] [] [] [] [] [] [] [] in der Mitte des Spielfeldes

25 [] [] [] [] [] [] [] [] [] [] [] die andere Mannschaft im Spiel


Das Lösungswort:

1 2 3 4 5 6 7 8 9 10 11 12 13 14 15 16 17 18 19 20 21 22 23 24 25

[] []



Fußball – Welche Aussage ist richtig?




Kreuze an, ob die Sätze richtig oder falsch sind. Die angekreuzten Buchstaben ergeben das Lösungswort.


- | | | richtig | falsch |
|----|--|----------------------------|----------------------------|
| 1 | Fußball ist eine der beliebtesten Sportarten weltweit. | <input type="checkbox"/> D | <input type="checkbox"/> W |
| 2 | Die Feldspieler dürfen mit Händen und Füßen spielen. | <input type="checkbox"/> O | <input type="checkbox"/> I |
| 3 | Die Ecken des Spielfeldes sind mit Eckfahnen markiert. | <input type="checkbox"/> E | <input type="checkbox"/> A |
| 4 | Jeder Spieler trägt ein Trikot mit einer Nummer. | <input type="checkbox"/> W | <input type="checkbox"/> M |
| 5 | Ein Eckstoß wird ausgeführt, wenn der Ball ins Tor geht. | <input type="checkbox"/> S | <input type="checkbox"/> E |
| 6 | Über Einhaltung der Regeln wacht der Amtrichter mit zwei Linienrichtern. | <input type="checkbox"/> K | <input type="checkbox"/> L |
| 7 | In der Mitte des Spielfeldes liegt der Anstoßpunkt. | <input type="checkbox"/> T | <input type="checkbox"/> N |
| 8 | Die Spieler dürfen beim Spielen Schmuck tragen. | <input type="checkbox"/> B | <input type="checkbox"/> M |
| 9 | Die Stürmer haben die Aufgabe Tore zu schießen. | <input type="checkbox"/> E | <input type="checkbox"/> A |
| 10 | Das Elfmeterschießen wird zur Ermittlung eines Siegers durchgeführt. | <input type="checkbox"/> J | <input type="checkbox"/> B |
| 11 | Der Torwart trägt dieselbe Kleidung wie die Feldspieler. | <input type="checkbox"/> T | <input type="checkbox"/> S |
| 12 | Als „Foul“ bezeichnet man jedes erlaubte Verhalten. | <input type="checkbox"/> W | <input type="checkbox"/> T |
| 13 | Das Spielfeld ist durch gelbe Linien eingegrenzt. | <input type="checkbox"/> U | <input type="checkbox"/> E |
| 14 | Die Spielzeit dauert üblicherweise 2 x 45 Minuten. | <input type="checkbox"/> R | <input type="checkbox"/> M |
| 15 | Jedes Tor ist auf der Rückseite mit einer Folie versehen. | <input type="checkbox"/> C | <input type="checkbox"/> S |
| 16 | Gespielt wird auf einem rechteckigen freien Feld. | <input type="checkbox"/> C | <input type="checkbox"/> H |
| 17 | Die rote Karte zeigt den Platzverweis eines Spielers an. | <input type="checkbox"/> H | <input type="checkbox"/> O |
| 18 | In der Mitte des Spielfeldes liegt der Strafraum. | <input type="checkbox"/> I | <input type="checkbox"/> A |
| 19 | Das Tor ist 7,32 m breit und 2,44 m hoch. | <input type="checkbox"/> F | <input type="checkbox"/> B |
| 20 | Mit dem Abpfiff unterbricht der Schiedsrichter die Pause. | <input type="checkbox"/> R | <input type="checkbox"/> T |

Das Lösungswort:

1	2	3	4	5	6	7	8	9	10	11	12	13	14	15	16	17	18	19	20	



Im Suchrätsel sind die Namen von zehn deutschen und zehn internationalen Fußballspielern versteckt. Finde Sie! Die Namen können waagrecht oder senkrecht stehen. Vorname und Nachname sind zusammengeschrieben.




deutsche Spieler



Franz Beckenbauer, Günther Netzer, Oliver Kahn, Sepp Maier, Lothar Matthäus, Miroslav Klose, Lukas Podolski, Bastian Schweinsteiger, Michael Ballack, Philipp Lahm.


internationale Spieler

Pele, Diego Maradona, Johan Cruyff, Kevin Keegan, Zinedine Zidane, Ronaldinho, Cristiano Ronaldo, Kaka, Lionel Messi, Franck Ribery




Male das Fußball-Mandala bunt aus.






Entwirf den bunten Ball, mit dem die großen Fußballstars bei der nächsten Fußball-Weltmeisterschaft Farbe bekennen müssen.





Gestalte die Fanbettwäsche deines Lieblingsfußballvereins. Viel Spaß dabei!





Seite 7

F R E I S T O ß
 E C K K R E I S
 E L F M E T E R S C H I E ß E N
 M I T T E L L I N I E
 N E T Z
 V E R T E I D I G E R
 S C H I E N B E I N S C H Ü T Z E R
 S T Ü R M E R
 S P I E L Z E I T
 M A N N S C H A F T
 E C K F A H N E
 T O R
 N U M M E R
 T O R W A R T
 F U ß B A L L
 L I N I E N
 F U ß B A L L S C H U H E
 S P I E L F E L D
 T R I K O T
 F E L D S P I E L E R
 A B P F I F F
 S I E G E R
 F O U L
 A N S T O ß P U N K T
 G E G N E R
 S C H I E D S R I C H T E R B E L E I D I G U N G



Seite 8

Lösungswort: **DIE WELTMEISTERSCHAFT**

Seite 9

Q	K	B	E	C	P	M	S	W	Q	O	I	E	D	F	P	S	F	D	J	P	O	K	N	
Y	B	O	B	U	B	L	O	T	H	A	R	M	A	T	T	H	Ä	U	S	Y	H	C	Q	
K	N	F	O	E	A	A	L	N	C	K	Z	S	F	S	R	E	M	D	P	D	A	N		
S	F	R	A	N	Z	B	E	C	K	E	N	B	A	U	E	R	G	J	X	E	I	C	Q	
B	W	I	S	S	A	C	B	E	K	Z	A	X	A	I	Z	N	N	O	X	R	E	X	C	
G	G	W	B	A	S	T	I	A	N	S	C	H	W	E	I	N	S	T	E	I	G	E	R	
Y	Ü	V	E	H	D	K	H	E	U	P	G	C	M	Z	S	R	G	Q	O	K	O	E	H	
R	N	Q	M	I	C	H	A	E	L	B	A	L	L	A	C	K	I	B	I	X	M	O	I	
Y	T	C	C	C	E	H	W	B	C	S	D	W	J	W	N	A	F	Z	P	D	A	L	K	
B	H	S	D	Y	C	R	I	S	T	I	A	N	O	R	O	N	A	L	D	O	R	I	K	
A	E	C	S	X	K	X	B	I	X	E	Q	R	O	T	T	D	O	O	J	F	A	V	R	
O	R	I	E	A	W	P	M	I	R	O	S	L	A	V	K	L	O	S	E	E	D	E	O	
L	N	S	P	E	V	Y	E	L	Y	M	O	L	R	I	W	K	U	R	X	P	O	R	N	
U	E	A	P	K	Z	I	N	E	D	I	N	E	Z	I	D	A	N	E	F	F	N	K	A	
E	T	U	M	K	G	S	O	P	E	O	N	D	D	F	L	A	B	I	P	A	A	L		
M	Z	V	A	Q	M	L	U	K	A	S	P	O	D	O	L	S	K	I	I	R	V	H	D	
Y	E	F	I	W	J	O	H	A	N	C	R	U	Y	F	F	Q	D	O	Y	K	V	N	I	
N	R	Y	E	E	M	I	P	W	N	Y	D	P	H	I	L	I	P	P	L	A	H	M	N	
R	X	F	R	A	N	C	K	R	I	B	E	R	Y	N	F	P	E	F	I	K	N	T	H	
C	F	A	V	F	D	A	Y	R	A	P	E	J	O	E	O	H	L	Q	S	A	R	E	O	
I	F	B	Q	C	H	U	Z	H	D	L	I	O	N	E	L	M	E	S	S	I	M	E	X	
R	K	E	V	I	N	K	E	E	G	A	N	T	X	K	J	E	I	L	E	B	J	B	Y	
M	I	X	F	X	T	I	G	K	N	T	Y	H	M	H	S	Z	D	R	E	F	L	S	L	



Weitere Downloads, E-Books und Print-Titel des umfangreichen Persen-Verlagsprogramms finden Sie unter www.persen.de

Hat Ihnen dieser Download gefallen? Dann geben Sie jetzt auf www.persen.de direkt bei dem Produkt Ihre Bewertung ab und teilen Sie anderen Kunden Ihre Erfahrungen mit.



Download zur Ansicht

Impressum

© 2012 Persen Verlag, Buxtehude
AAP Lehrerfachverlage GmbH
Alle Rechte vorbehalten.

Das Werk als Ganzes sowie in seinen Teilen unterliegt dem deutschen Urheberrecht. Der Erwerber des Werkes ist berechtigt, das Werk als Ganzes oder in seinen Teilen für den eigenen Gebrauch und den Einsatz im Unterricht zu nutzen. Die Nutzung ist nur für den genannten Zweck gestattet, nicht jedoch für einen weiteren kommerziellen Gebrauch, für die Weiterleitung an Dritte oder für die Veröffentlichung im Internet oder in Intranets. Eine über den genannten Zweck hinausgehende Nutzung bedarf in jedem Fall der vorherigen schriftlichen Zustimmung des Verlages.

Die AAP Lehrerfachverlage GmbH kann für die Inhalte externer Sites, die Sie mittels eines Links oder sonstiger Hinweise erreichen, keine Verantwortung übernehmen. Ferner haftet die AAP Lehrerfachverlage GmbH nicht für direkte oder indirekte Schäden (inkl. entgangener Gewinne), die auf Informationen zurückgeführt werden können, die auf diesen externen Websites stehen.

Illustrationen: Barbara Jaglarz und Georg Bemmerlein und deren Lizenzgeber: Seite 1 – 3, 6 – 12
Nataly Meenen, Hamburg: Seite 5

Satz: dtp-design Wahner und Loch-Wahner GbR, Ebsdorfergrund

BestellNr.: 23131DA4