



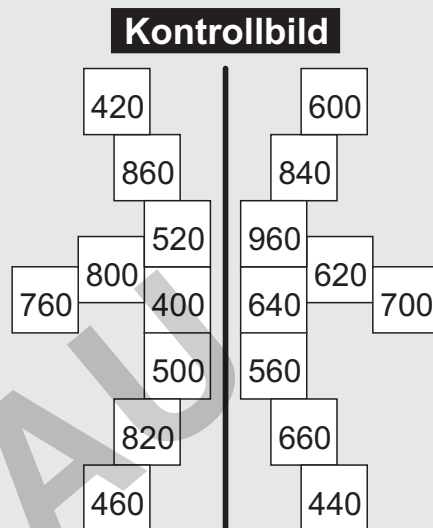
Mein Name / Datum

Zahl $\cdot 2 + 80 = ?$



Nimm jede Zahl jeweils mit 2 mal, zähle dann 80 hinzu und schreibe das Ergebnis in das freie Feld!
Male im Kontrollbild alle Felder mit den Lösungszahlen farbig aus!

- | | |
|---|---|
| A 160 \Rightarrow <input type="text"/> | G 180 \Rightarrow <input type="text"/> |
| B 290 \Rightarrow <input type="text"/> | H 390 \Rightarrow <input type="text"/> |
| C 170 \Rightarrow <input type="text"/> | I 260 \Rightarrow <input type="text"/> |
| D 380 \Rightarrow <input type="text"/> | J 370 \Rightarrow <input type="text"/> |
| E 190 \Rightarrow <input type="text"/> | K 280 \Rightarrow <input type="text"/> |
| F 270 \Rightarrow <input type="text"/> | L 360 \Rightarrow <input type="text"/> |



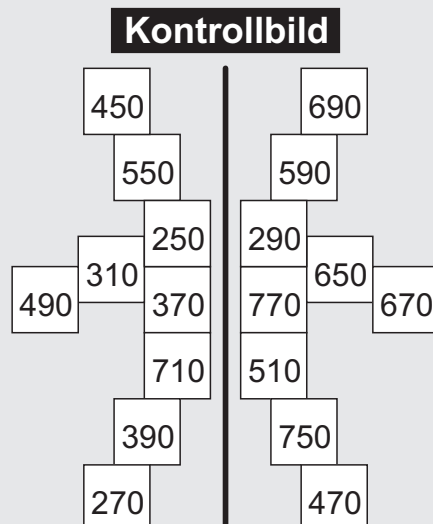
Mein Name / Datum

Zahl $\cdot 2 - 70 = ?$



Nimm jede Zahl jeweils mit 2 mal, ziehe dann 70 ab und schreibe das Ergebnis in das freie Feld!
Male im Kontrollbild alle Felder mit den Lösungszahlen farbig aus!

- | | |
|---|---|
| A 160 \Rightarrow <input type="text"/> | G 180 \Rightarrow <input type="text"/> |
| B 290 \Rightarrow <input type="text"/> | H 390 \Rightarrow <input type="text"/> |
| C 170 \Rightarrow <input type="text"/> | I 260 \Rightarrow <input type="text"/> |
| D 380 \Rightarrow <input type="text"/> | J 370 \Rightarrow <input type="text"/> |
| E 190 \Rightarrow <input type="text"/> | K 280 \Rightarrow <input type="text"/> |
| F 270 \Rightarrow <input type="text"/> | L 360 \Rightarrow <input type="text"/> |





Mein Name / Datum

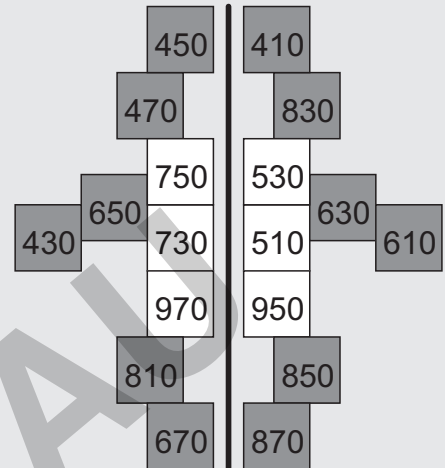
Zahl $\cdot 2 + 90 = ?$ (Lösung)



Nimm jede Zahl jeweils mit 2 mal, zähle dann 90 hinzu und schreibe das Ergebnis in das freie Feld!
Male im Kontrollbild alle Felder mit den Lösungszahlen farbig aus!

- | | |
|--------------------------------|--------------------------------|
| A 270 \Rightarrow 630 | G 360 \Rightarrow 810 |
| B 190 \Rightarrow 470 | H 280 \Rightarrow 650 |
| C 380 \Rightarrow 850 | I 370 \Rightarrow 830 |
| D 170 \Rightarrow 430 | J 260 \Rightarrow 610 |
| E 290 \Rightarrow 670 | K 390 \Rightarrow 870 |
| F 160 \Rightarrow 410 | L 180 \Rightarrow 450 |

Kontrollbild



Mein Name / Datum

Zahl $\cdot 2 - 80 = ?$ (Lösung)



Nimm jede Zahl jeweils mit 2 mal, ziehe dann 80 ab und schreibe das Ergebnis in das freie Feld!
Male im Kontrollbild alle Felder mit den Lösungszahlen farbig aus!

- | | |
|--------------------------------|--------------------------------|
| A 270 \Rightarrow 460 | G 360 \Rightarrow 640 |
| B 190 \Rightarrow 300 | H 280 \Rightarrow 480 |
| C 380 \Rightarrow 680 | I 370 \Rightarrow 660 |
| D 170 \Rightarrow 260 | J 260 \Rightarrow 440 |
| E 290 \Rightarrow 500 | K 390 \Rightarrow 700 |
| F 160 \Rightarrow 240 | L 180 \Rightarrow 280 |

Kontrollbild

