









Inhaltsverzeichnis

Vorwort	5	
Einführung		
Zum mathematischen Konzept	6	
Methodisch-didaktische Überlegungen	6	
Durchführungshinweise	8	
Beispiel zur Durchführung einer Unterrichtsstunde	9	
Lernziele der Unterrichtseinheit „Größen aktiv entdecken: Geld“	11	
Übergeordnetes Lernziel	11	
Teillernziele	11	
Allgemeine Lernziele	12	
Material	13	
Arbeitsblätter		
Rechnen mit Euro		
	Ein Einkauf I	14
	Ein Einkauf II	15
	Ein Einkauf III	16
	Ein Einkauf IV (Rechnen bis 20)	17
	Ein Einkauf V (Rechnen bis 20)	18
	Ein Einkauf VI (Rechnen bis 100)	19
	Ein Einkauf VII (Rechnen bis 100)	20
	Ein Einkauf VIII	21
	Geldbeträge schreiben und vergleichen I (Rechnen bis 20)	22
	Geldbeträge schreiben und vergleichen II (Rechnen bis 20)	23
	Geldbeträge schreiben und vergleichen III (Rechnen bis 100)	24
	Geldbeträge schreiben und vergleichen IV (Rechnen bis 100)	25
	Geldbeträge schreiben und vergleichen V (Rechnen bis 1000)	26
	Geldbeträge schreiben und vergleichen VI (Rechnen bis 1000)	27
	Geldbeträge schreiben und vergleichen VII	28
	Geldbeträge schreiben und vergleichen VIII	29
	Geldbeträge schätzen und ausrechnen I (Rechnen bis 20)	30
	Geldbeträge schätzen und ausrechnen II (Rechnen bis 100)	31
	Geldbeträge schätzen und ausrechnen III (Rechnen bis 100)	32
	Geldbeträge schätzen und ausrechnen IV (Rechnen bis 1000)	33
	Geldbeträge schätzen und ausrechnen V	34
Rechnen mit Euro ODER Cent		
	Geld wechseln I–III	35
	Was kostet ...? I–III	38
	Münzen und Scheine I	41
	Münzen und Scheine II	42
	Münzen und Scheine III	43
	Münzen und Scheine IV	44
	Münzen und Scheine V (Rechnen bis 1000)	45
	Münzen und Scheine VI	46
	Rechnen bis 20 I–VIII	47
	Rechnen bis 100 I–VIII	55

Inhaltsverzeichnis

	Rechnen mit Euro UND Cent	
	Das merk ich mir!	63
	Umrechnen I–IV	65
	Immer 10 Euro	69
	Auf dem Stadtfest I	70
	Auf dem Stadtfest II	71
	Auf dem Stadtfest III	72
	Auf dem Stadtfest IV (Rechnen bis 20)	73
	Auf dem Stadtfest V (Rechnen bis 100)	74
	Auf dem Stadtfest VI	75
	Geldbeträge schreiben und vergleichen I–VI	76
	Preise I–IV	82
	Am Schulkiosk I/II	86
	Rechnen bis 1000 I–VIII	88
	Möbel kaufen I/II	96
	Lösungen	98

VORSCHAU

1. Zähle das Geld in den Portemonnaies zusammen.
Notiere den Betrag.

2. Mit welchem Geld kannst du *mehr* kaufen?
Kreuze an.

a)

€

€

b)

€

€

c)

€

€



Arbeite mit einem Partner.

1. Erzählt euch gegenseitig:

- Was kann man auf dem Stadtfest machen?
- Was kostet das jeweils?

2. Findet Rechenaufgaben zu dem Bild.

Unsere Rechenaufgaben:

Unsere Rechenaufgaben:																																							
<p style="text-align: center; font-size: 48px; opacity: 0.3; transform: rotate(-45deg);">VORSCHAU</p>																																							