

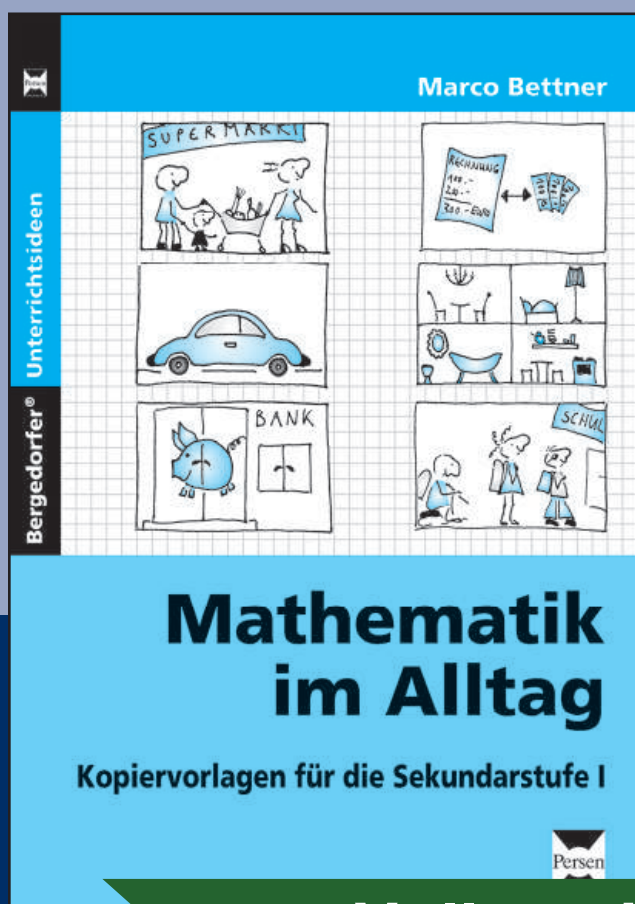


DOWNLOAD

Marco Bettner

Abonnements

Mathematische Alltagskompetenz vermitteln



Downloadauszug
aus dem Originaltitel:



Abonnement (1)

1 Ordne dem Begriff „Abonnement“ die richtige Eigenschaft zu.

„Jemanden an einem speziellen Platz abholen“

„längerfristiger Abnahmevertrag“

„Verkaufseinigung zwischen Kunde und Verkäufer“

Abonnement: _____

2 In einer Zeitschrift findet sich das unten angegebene Angebot. Beantworte die Fragen.

- a) Wie viel Euro spart man im Jahr beim Abonnement im Vergleich zum Einzelkauf?
- b) Wie viel Prozent spart man so?

Zugreifen, lesen, staunen!



Monatlicher Einzelpreis: 5,20 €
Jährlicher Abonnement-Preis: 57,60 €

3 Ein anderer Verlag wirbt etwas anders. Beantworte die Fragen.

- a) Wie viel zahlt man im halben Jahr?
- b) Wie viel Euro spart man dabei?
- c) Wie viel Prozent spart man so?

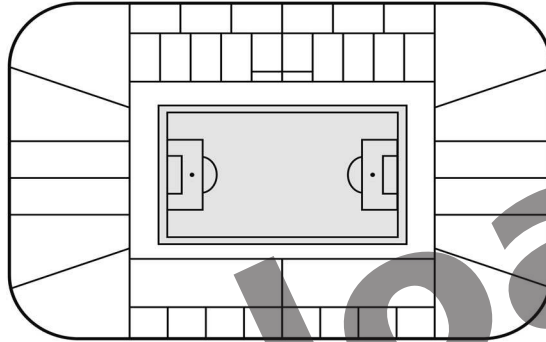
Entscheiden Sie sich jetzt!

6 Monate lesen, nur 5 Monate pro Heft 2,20 € bezahlen!



Abonnement (2)

- 1** Wie viel Euro spart man bei den einzelnen Plätzen im Stadion pro Saison, wenn man eine Dauerkarte statt Einzelkarten kauft? Wie viel Prozent Ersparnis sind das? Denke daran: Jedes Team der 1. Fußballbundesliga hat 17 Heimspiele!




Kategorie	DK-Preise	EK-Preise
Zentraltribüne	530,00	37,50
Haupttribüne	470,00	33,50
Vortribüne Mitte	280,00	21,00
Seitentribüne	355,00	25,50
Vortribüne Seite	250,00	18,00
Ostgerade	190,00	13,00
Ostgerade erm.	115,00	8,00
Nord	145,00	10,50
Nord erm.	100,00	7,00
Nord Vereinsmitglied	100,00	-
Süd	145,00	10,50
Süd erm.	100,00	7,00
Süd Vereinsmitglied	100,00	-

- 2** Der Manager vom Eishockeyclub Bad Schnauheim möchte Dauerkarten anbieten. Der normale Eintrittspreis beträgt 8,20 € pro Spiel. Der Manager denkt an eine Vergünstigung für Dauerkartenbesitzer von 5 %. Beantworte die Fragen.



- a) Wie viel Euro kostet dann eine Dauerkarte für eine Saison mit 36 Heimspielen?
b) Wie viel Euro spart man, wenn man sich für den Kauf einer Dauerkarte entscheidet?

- 3** Der Einzelpreis für einen Sitzplatz kostet beim 1. FC Grumbach 4,20 €. Für eine Dauerkarte (20 Heimspiele) muss man dagegen 71,40 € bezahlen. Wie viel Prozent spart man durch den Kauf einer Dauerkarte?





Lösungen

Abonnement (1)

- 1 Abonnement: längerfristiger Abnahmevertrag
- 2 a) 4,80 €
b) 8,33 %
- 3 a) 11 €
b) 2,20 €
c) 16,67 %

Abonnement (2)

- 1 Abo-Ersparnis = DK-Preis – 17 · EK-Preis

Zentraltribüne	107,50 €	16,86 %
Haupttribüne	99,50 €	17,47 %
Vortribüne Mitte	77,00 €	21,57 %
Seitentribüne	78,50 €	18,11 %
Vortribüne Seite	56,00 €	18,30 %
Ostgerade	31,00 €	14,03 %
Ostgerade erm.	21,00 €	15,44 %
Nord	33,50 €	18,77 %
Nord erm.	19,00 €	15,97 %
Nord Vereinsmitglied	–	–
Süd	33,50 €	18,78 %
Süd erm.	19,00 €	15,97 %
Süd Vereinsmitglied	–	–

- 2 a) 280,44 €
b) 14,76 €
- 3 15 %

