

Mathe mit dem kleinen Professor

Rund ums Hunderterfeld



1	2	3	4	5	6	7	8	9	10
11	12	13	14	15	16	17	18	19	20
21	22	23	24	25	26	27	28	29	30
31	32	33	34	35	36	37	38	39	40
41	42	43	44	45	46	47	48	49	50
51	52	53	54	55	56	57	58	59	60
61	62	63	64	65	66	67	68	69	70
71	72	73	74	75	76	77	78	79	80
81	82	83	84	85	86	87	88	89	90
91	92	93	94	95	96	97	98	99	100

Dieses Heft gehört: _____

Mathe mit dem kleinen Professor



Das Arbeitsheftchen besteht aus 48 Seiten mit zahlreichen (gängigen) Übungen rund um das Hunderterfeld auf unterschiedlichen Schwierigkeitsstufen. Die Aufgaben können beliebig zusammengestellt werden und so an den jeweiligen Unterrichtsstoff oder an den Lernstand der Kinder angepasst werden.

Das Heftchen kann als vertiefendes/differenzierendes Unterrichtsmaterial, zum selbstständigen Üben oder in der Freiarbeit eingesetzt werden. Es bietet eine optimale Ergänzung zu jedem Mathematik-Buch.



Mathe mit dem kleinen Professor

Rund ums Hunderterfeld



1	2	3	4	5	6	7	8	9	10
11	12	13	14	15	16	17	18	19	20
21	22	23	24	25	26	27	28	29	30
31	32	33	34	35	36	37	38	39	40
41	42	43	44	45	46	47	48	49	50
51	52	53	54	55	56	57	58	59	60
61	62	63	64	65	66	67	68	69	70
71	72	73	74	75	76	77	78	79	80
81	82	83	84	85	86	87	88	89	90
91	92	93	94	95	96	97	98	99	100

Dieses Heft gehört: _____

Mathe mit dem kleinen Professor

Rund ums Hunderterfeld




1	2	3	4	5	6	7	8	9	10
11	12	13	14	15	16	17	18	19	20
21	22	23	24	25	26	27	28	29	30
31	32	33	34	35	36	37	38	39	40
41	42	43	44	45	46	47	48	49	50
51	52	53	54	55	56	57	58	59	60
61	62	63	64	65	66	67	68	69	70
71	72	73	74	75	76	77	78	79	80
81	82	83	84	85	86	87	88	89	90
91	92	93	94	95	96	97	98	99	100



Dieses Heft gehört: _____

Welche Zahlen sind hier verdeckt?
Schreibe die Zahlen auf:


Wortschau



1	2	3	4	5	6	7	8	9	10
11	12	13	14	15	16	17	18	19	20
21	22	23	24	25	26	27	28	29	30
31	32	33	34	35	36	37	38	39	40
41	42	43	44	45	46	47	48	49	50
51	52	53	54	55	56	57	58	59	60
61	62	63	64	65	66	67	68	69	70
71	72	73	74	75	76	77	78	79	80
81	82	83	84	85	86	87	88	89	90
91	92	93	94	95	96	97	98	99	100

Welche Zahlen sind hier verdeckt?
Schreibe die Zahlen auf:



Wortschau



1	2	3	4	5	6	7	8	9	10
11	12	13	14	15	16	17	18	19	20
21	22	23	24	25	26	27	28	29	30
31	32	33	34	35	36	37	38	39	40
41	42	43	44	45	46	47	48	49	50
51	52	53	54	55	56	57	58	59	60
61	62	63	64	65	66	67	68	69	70
71	72	73	74	75	76	77	78	79	80
81	82	83	84	85	86	87	88	89	90
91	92	93	94	95	96	97	98	99	100





Wie heißen diese Zahlen?
Notiere sie:



Vorschau



Wie heißen diese Zahlen?
Notiere sie:



Vorschau



Ergänze Vorgänger und Nachfolger.

	48	
--	----	--

	20	
--	----	--

	72	
--	----	--

	36	
--	----	--

	88	
--	----	--

	62	
--	----	--

Vorschau



Ergänze Vorgänger und Nachfolger.

	48	
--	----	--

	29	
--	----	--

	72	
--	----	--

	36	
--	----	--

	88	
--	----	--

	62	
--	----	--

Vorschau



Folge den Pfeilen.

Bei welcher Zahl landest du?

Start 41: → ↑ ↑ → → ↑
Ziel: ____

Start 100: ↑ ↑ ↑ ← ← ← ↓
Ziel: ____

Start 5: ↓ ↓ ↓ ← ↓ ↓ ↑
Ziel: ____

Start 81: → ↑ ↑ → → ↓
Ziel: ____

Start 90: ↓ ↓ ← → ↑
Ziel: ____

1	2	3	4	5	6	7	8	9	10
11	12	13	14	15	16	17	18	19	20
21	22	23	24	25	26	27	28	29	30
31	32	33	34	35	36	37	38	39	40
41	42	43	44	45	46	47	48	49	50
51	52	53	54	55	56	57	58	59	60
61	62	63	64	65	66	67	68	69	70
71	72	73	74	75	76	77	78	79	80
81	82	83	84	85	86	87	88	89	90
91	92	93	94	95	96	97	98	99	100



Folge den Pfeilen.

Bei welcher Zahl landest du?

Start 41: → ↑ ↑ → → ↑
Ziel: ____

Start 100: ↑ ↑ ↑ ← ← ← ↓
Ziel: ____

Start 5: ↓ ↓ ↓ ← ↓ ↓ ↑
Ziel: ____

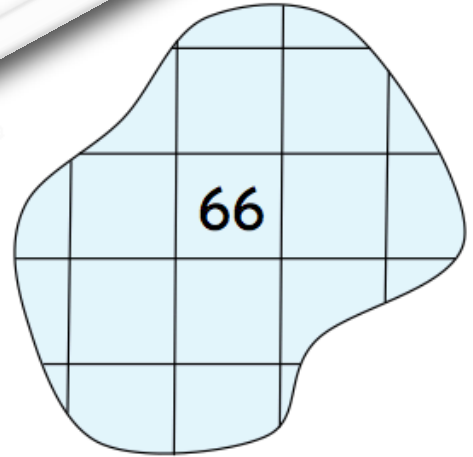


Start 81: → ↑ ↑ → → ↓
Ziel: ____

Start 90: ↓ ↓ ← → ↑
Ziel: ____

1	2	3	4	5	6	7	8	9	10
11	12	13	14	15	16	17	18	19	20
21	22	23	24	25	26	27	28	29	30
31	32	33	34	35	36	37	38	39	40
41	42	43	44	45	46	47	48	49	50
51	52	53	54	55	56	57	58	59	60
61	62	63	64	65	66	67	68	69	70
71	72	73	74	75	76	77	78	79	80
81	82	83	84	85	86	87	88	89	90



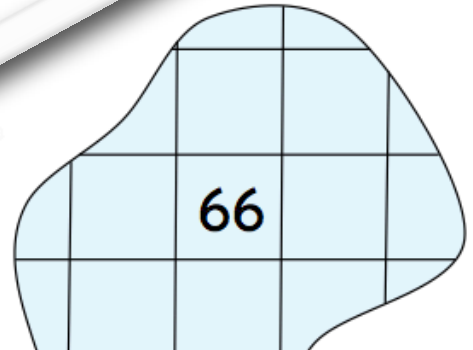

Welche Zahlen fehlen?



Vorschau



Welche Zahlen fehlen?



Vorschau



Kannst du die Wörter lesen?



1	W		A		X		Q	10
11				Z		G		20
21		B	H					30
31					C		V	
41	I			U				50
51	F			O	Y		N	
61						J		70
71			D		L			80
81							E	90
91	K			M		S	R	100

23, 4, 45, 97

73, 55, 99

92, 42, 59, 71

76, 4, 50, 74

4, 45, 73, 55

22, 45, 37, 23

Vorschau

Kannst du die Wörter lesen?



1	W		A		X		Q	10
11				Z		G		20
21		B	H					30
31					C		V	
41	I			U				50
51	F			O	Y		N	
61						J		70
71			D		L			80
81							E	90
91	K			M		S	R	100

23, 4, 45, 97

73, 55, 99

92, 42, 59, 71

76, 4, 50, 74

4, 45, 73, 55

22, 45, 37, 23

Vorschau



netzwerk lernen

zur Vollversion