


# Mathe mit dem kleinen Professor

## Rund ums Hunderterfeld



1	2	3	4	5	6	7	8	9	10
11	12	13	14	15	16	17	18	19	20
21	22	23	24	25	26	27	28	29	30
31	32	33	34	35	36	37	38	39	40
41	42	43	44	45	46	47	48	49	50
51	52	53	54	55	56	57	58	59	60
61	62	63	64	65	66	67	68	69	70
71	72	73	74	75	76	77	78	79	80
81	82	83	84	85	86	87	88	89	90
91	92	93	94	95	96	97	98	99	100

# Mathe mit dem kleinen Professor

Die Kartei besteht aus 48 Aufgaben-Karten mit zahlreichen (gängigen) Übungen rund um das Hunderterfeld auf unterschiedlichen Schwierigkeitsstufen, die entsprechend gekennzeichnet  sind. Zu jeder Karte gibt es (wenn möglich) eine Lösungskarte, sodass ein eigenständiges Kontrollieren denkbar ist.

Mit der Kartei können die Kinder selbstständig Übungen zum Hunderterfeld bearbeiten. Somit ist die Kartei als Freiarbeitsmaterial einsetzbar und bietet eine optimale Ergänzung zum Mathematik-Buch oder kann als vertiefendes/ differenzierendes Material eingesetzt werden.









13



Wie heißen diese Zahlen?  
Notiere sie:



© matobe-Verlag - Kerstin Breuer & Valessa Schuster

27

Welche Rechnungen sind hier  
dargestellt? Notiere und rechne.



© matobe-Verlag - Kerstin Breuer & Valessa Schuster

15

Ausschnitte aus dem Hunderterfeld  
Ergänze die fehlenden Zahlen:

	63	

	88	

	15	



© matobe-Verlag - Kerstin Breuer & Valessa Sch...

# Vorschau

16

Ausschnitte aus dem Hunderterfeld  
Ergänze die fehlenden Zahlen:

65

	76	

	33		

	28



© matobe-Verlag - Kerstin Breuer & Valessa Sch...


# Vorschau


34


Folge den Pfeilen.  
Bei welcher Zahl landest du?

Start 41:   
Ziel: \_\_\_\_\_

Start 100:   
Ziel: \_\_\_\_\_

Start 5:   
Ziel: \_\_\_\_\_

Start 81:   
Ziel: \_\_\_\_\_

Start 10:   
Ziel: \_\_\_\_\_

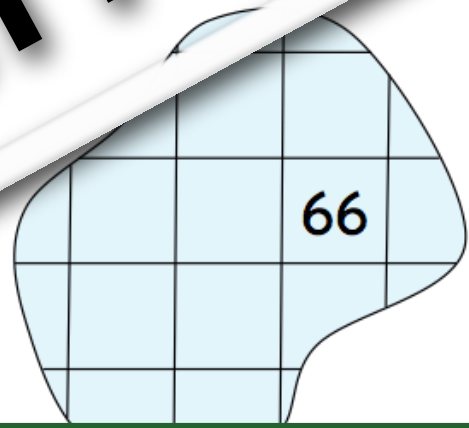
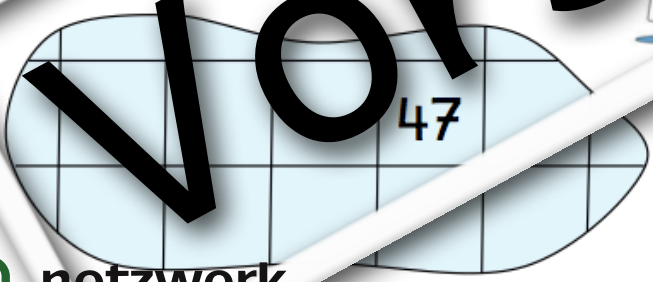


1	2	3	4	5	6	7	8	9	10
11	12	13	14	15	16	17	18	19	20
21	22	23	24	25	26	27	28	29	30
31	32	33	34	35	36	37	38	39	40
41	42	43	44	45	46	47	48	49	50
51	52	53	54	55	56	57	58	59	60
61	62	63	64	65	66	67	68	69	70
71	72	73	74	75	76	77	78	79	80
81	82	83	84	85	86	87	88	89	90
91	92	93	94	95	96	97	98	99	100



© matobe-Verlag - Kerstin Breuer & Valessa ...

38

Welche Zahlen fehlen?



© matobe-Verlag - Kerstin Breuer & Valessa ...



45

Kannst du die Wörter lesen?



23, 4, 45, 97

-----

7, 55, 99

-----

92, 48, 59, 74

-----

1	W		A			Q	10
11			Z			G	20
21	P			P			30
							40
41	I		U				50
51	F		C		Y	N	60
61							70
71		T	D		L		80
81							90
91			M		S	R	100

6, 4, 59, 74

-----

4, 45, 73, 55

-----

22, 45, 37, 23

-----

© matobe-Verlag - Kerstin Breuer & Valessa S...

47

Welche Zehner kommen davor und danach?

NZ	Zahl	NZ
10	15	20

NZ = Nachbarzehner

16

15

8

80

68

22

71

59

38

21



TIPP: Die 100er-Tafel hilft dir weiter.

netzwerk lernen

zur Vollversion

© matobe-Verlag - Kerstin Breuer & Valessa S...