



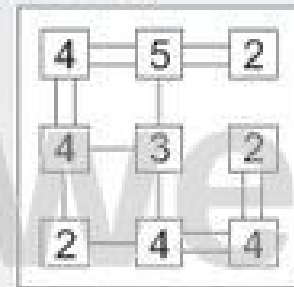
Name: _____

Klasse: _____

Datum: _____

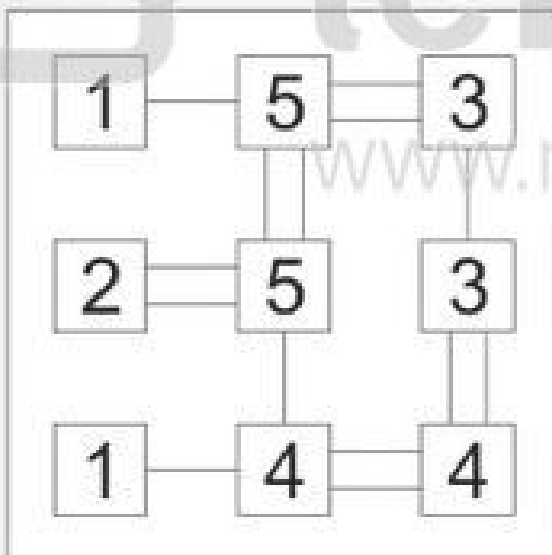
Kinder-Hashi 2 (Lösungsbeispiele)

Bei einem Hashi musst du zwischen die Zahlenfelder einfache oder doppelte Linien zeichnen, so dass auf jedes Feld genau so viele Linien zulaufen, wie die Zahl im Feld angibt. Die Linien verlaufen nicht diagonal und kreuzen sich nicht. Rechts siehst du ein einfaches Hashi-Beispiel. Versuche jetzt, die Hashi-Rätsel auf dieser Seite zu knacken!

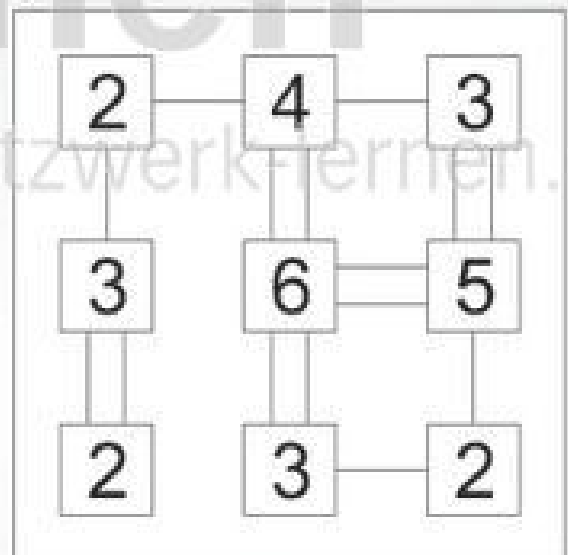


Beispiel

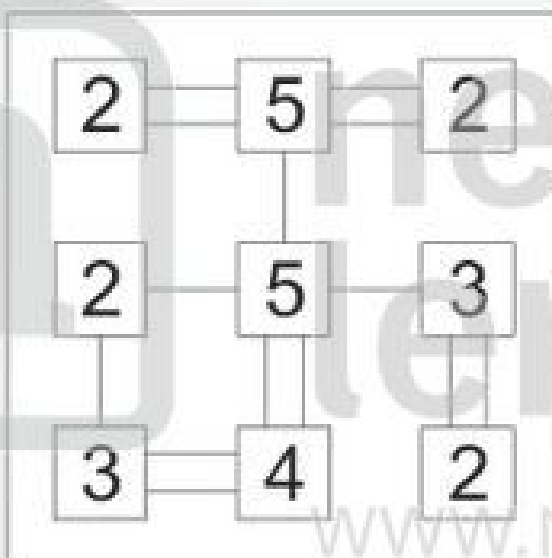
①



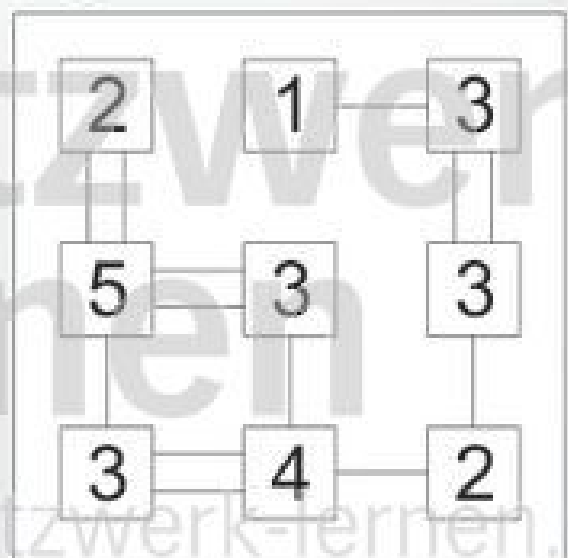
②



③



④



(c) Michael Jung, Braunschweig 2010

netzwerk
lernen

zur Vollversion



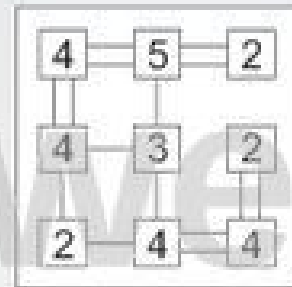
Name: _____

Klasse: _____

Datum: _____

Kinder-Hashi 3

Bei einem Hashi musst du zwischen die Zahlenfelder einfache oder doppelte Linien zeichnen, so dass auf jedes Feld genau so viele Linien zulaufen, wie die Zahl im Feld angibt. Die Linien verlaufen nicht diagonal und kreuzen sich nicht. Rechts siehst du ein einfaches Hashi-Beispiel. Versuche jetzt, die Hashi-Rätsel auf dieser Seite zu knacken!



Beispiel

①

2	3	3
5	4	4
2	2	3

②

3	4	2
4	4	5
2	2	4

③

3	3	2
6	3	2
3	4	4

④

1	2	2
3	6	5
3	4	2

(c) Michael Jung, Braunschweig 2010





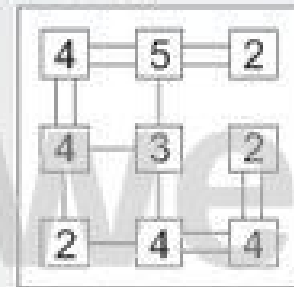
Name: _____

Klasse: _____

Datum: _____

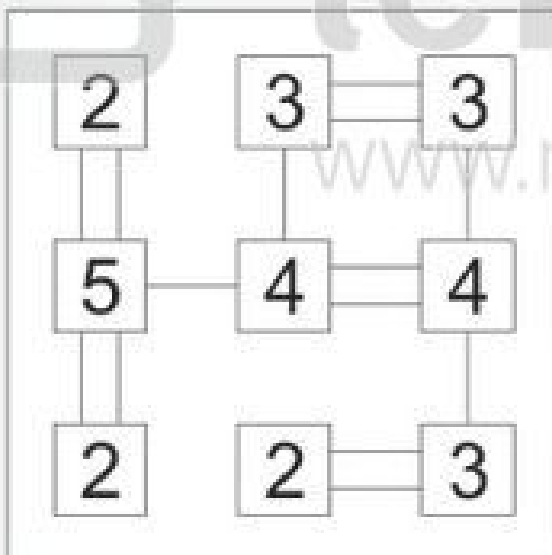
Kinder-Hashi 3 (Lösungsbeispiele)

Bei einem Hashi musst du zwischen die Zahlenfelder einfache oder doppelte Linien zeichnen, so dass auf jedes Feld genau so viele Linien zulaufen, wie die Zahl im Feld angibt. Die Linien verlaufen nicht diagonal und kreuzen sich nicht. Rechts siehst du ein einfaches Hashi-Beispiel. Versuche jetzt, die Hashi-Rätsel auf dieser Seite zu knacken!

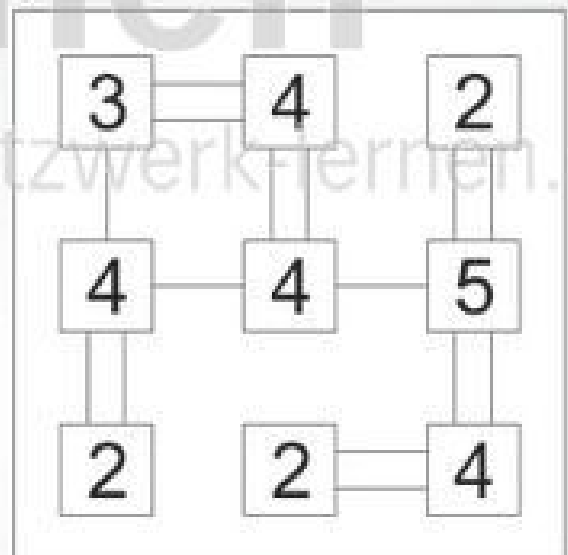


Beispiel

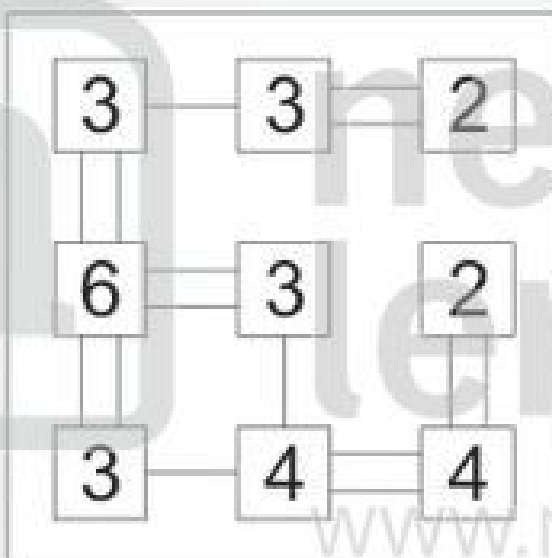
①



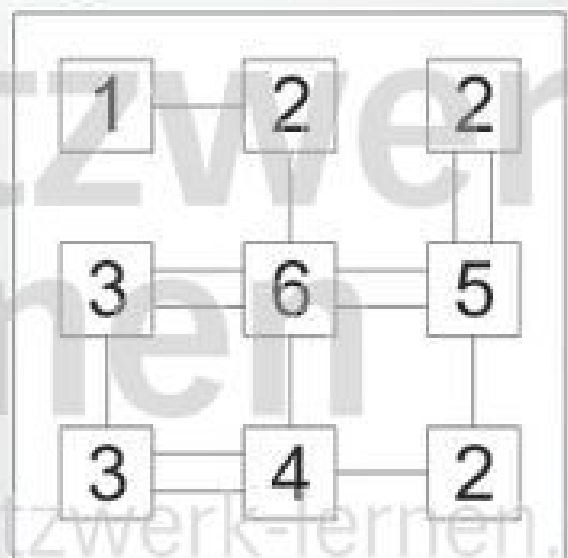
②



③



④



(c) Michael Jung, Braunschweig 2010

netzwerk
lernen

zur Vollversion



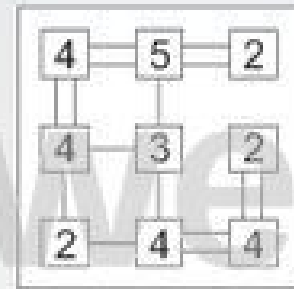
Name: _____

Klasse: _____

Datum: _____

Kinder-Hashi 4

Bei einem Hashi musst du zwischen die Zahlenfelder einfache oder doppelte Linien zeichnen, so dass auf jedes Feld genau so viele Linien zulaufen, wie die Zahl im Feld angibt. Die Linien verlaufen nicht diagonal und kreuzen sich nicht. Rechts siehst du ein einfaches Hashi-Beispiel. Versuche jetzt, die Hashi-Rätsel auf dieser Seite zu knacken!



Beispiel

1

3	5	1
3	5	2
4	4	1

2

3	4	2
5	6	3
2	3	2

3

2	5	2
3	5	2
2	4	3

4

3	1	2
3	3	5
2	4	3

(c) Michael Jung, Braunschweig 2010



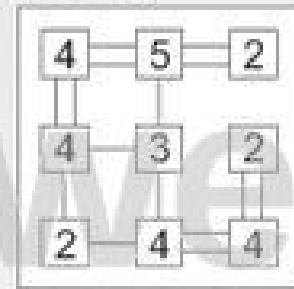
Name: _____

Klasse: _____

Datum: _____

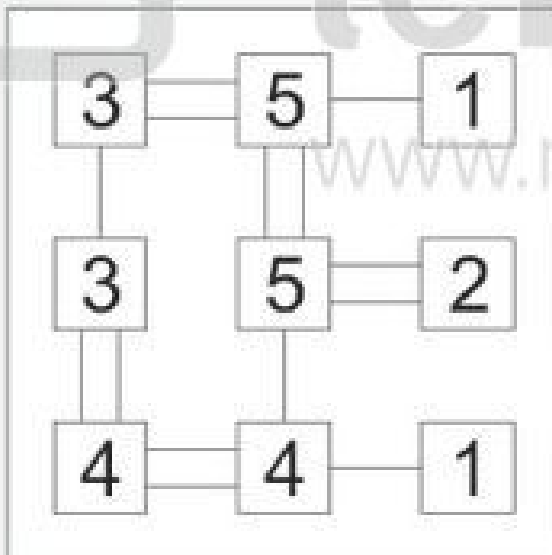
Kinder-Hashi 4 (Lösungsbeispiele)

Bei einem Hashi musst du zwischen die Zahlenfelder einfache oder doppelte Linien zeichnen, so dass auf jedes Feld genau so viele Linien zulaufen, wie die Zahl im Feld angibt. Die Linien verlaufen nicht diagonal und kreuzen sich nicht. Rechts siehst du ein einfaches Hashi-Beispiel. Versuche jetzt, die Hashi-Rätsel auf dieser Seite zu knacken!

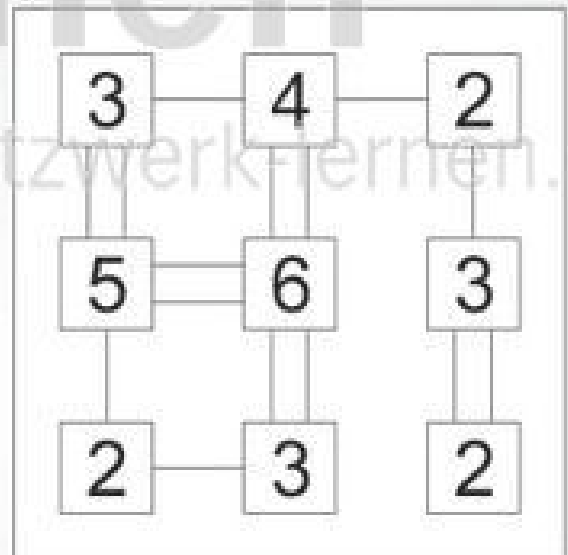


Beispiel

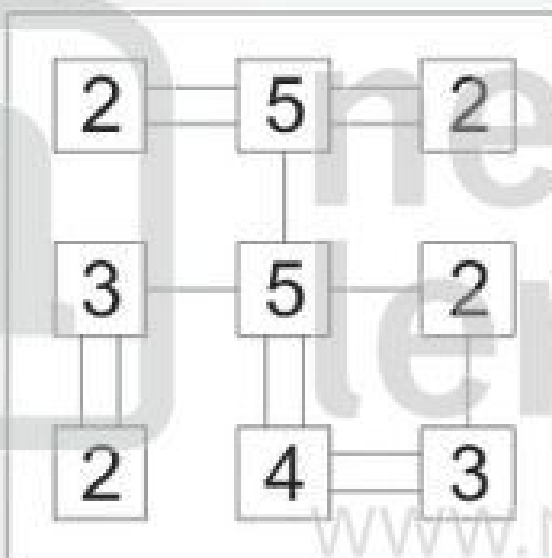
①



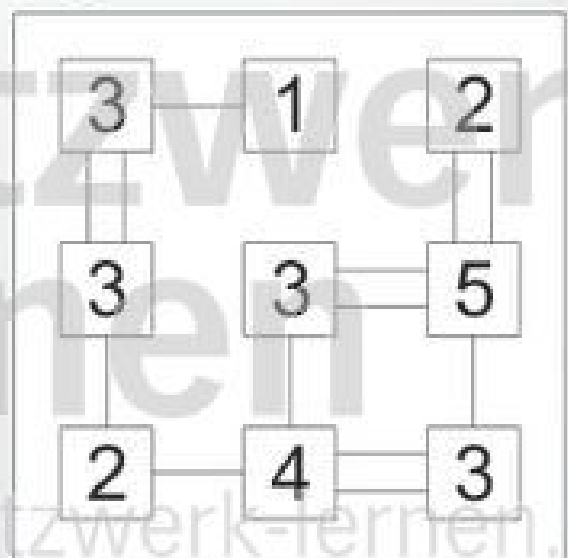
②



③



④



(c) Michael Jung, Braunschweig 2010



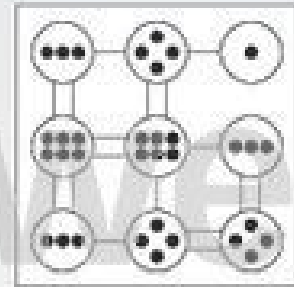
Name: _____

Klasse: _____




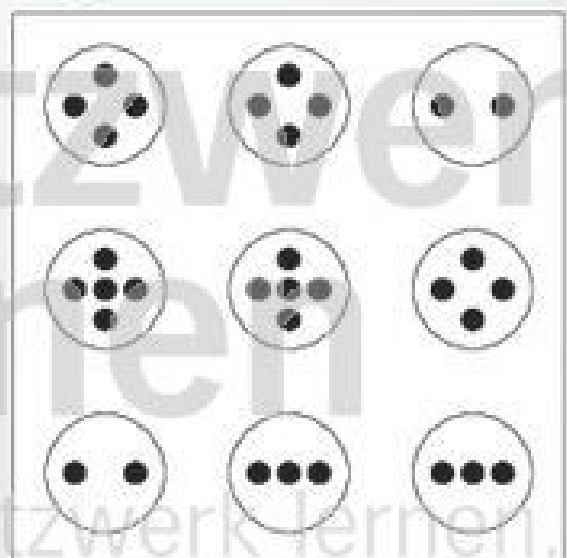
Datum: _____

Kinder-Hashi 5

Bei einem Hashi musst du zwischen die Punktefelder einfache oder doppelte Linien zeichnen, so dass auf jedes Feld genau so viele Linien zulaufen, wie die Punkte im Feld angeben. Die Linien verlaufen nicht diagonal und kreuzen sich nicht. Rechts siehst du ein einfaches Hashi-Beispiel. Versuche jetzt, die Hashi-Rätsel auf dieser Seite zu knacken!



Beispiel

1**2****3****4**

(c) Michael Jung, Braunschweig 2010





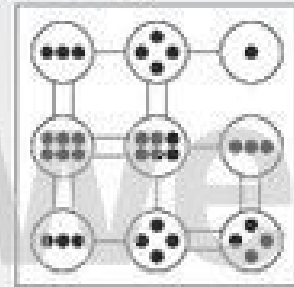
Name: _____

Klasse: _____

Datum: _____

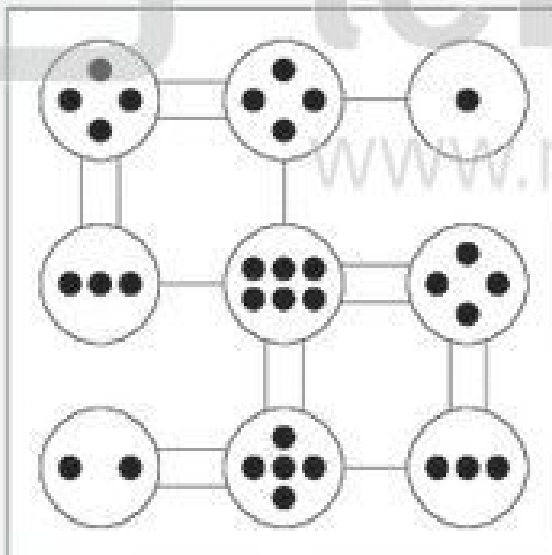
Kinder-Hashi 5 (Lösungsbeispiele)

Bei einem Hashi musst du zwischen die Punktefelder einfache oder doppelte Linien zeichnen, so dass auf jedes Feld genau so viele Linien zulaufen, wie die Punkte im Feld angeben. Die Linien verlaufen nicht diagonal und kreuzen sich nicht. Rechts siehst du ein einfaches Hashi-Beispiel. Versuche jetzt, die Hashi-Rätsel auf dieser Seite zu knacken!

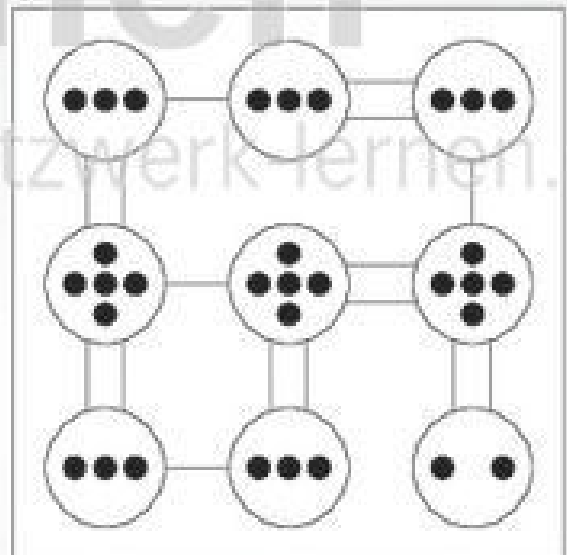


Beispiel

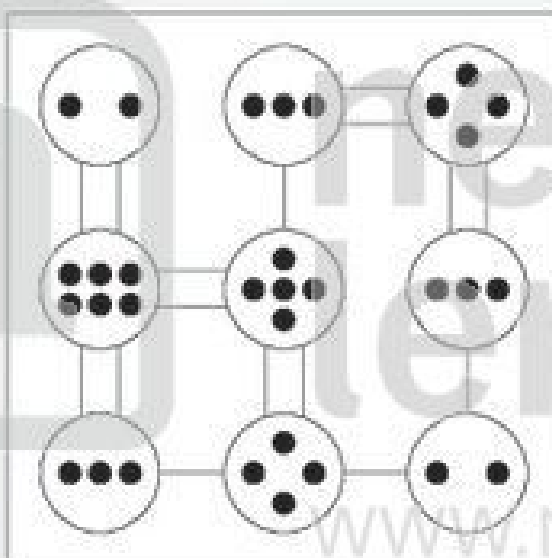
1



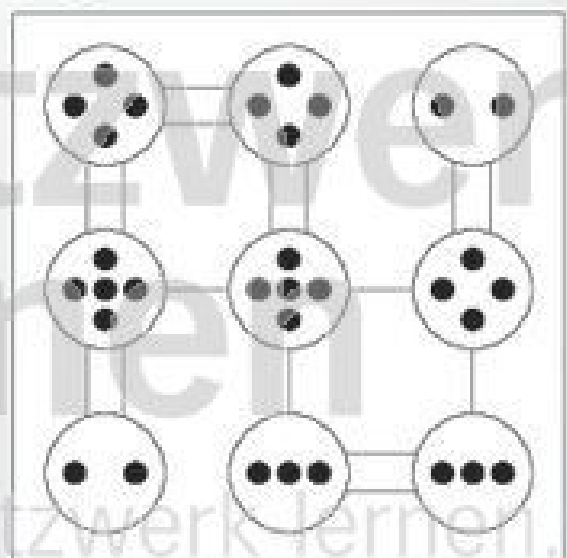
2



3



4



(c) Michael Jung, Braunschweig 2010





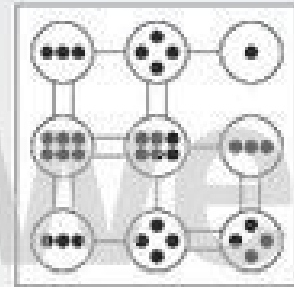
Name: _____

Klasse: _____



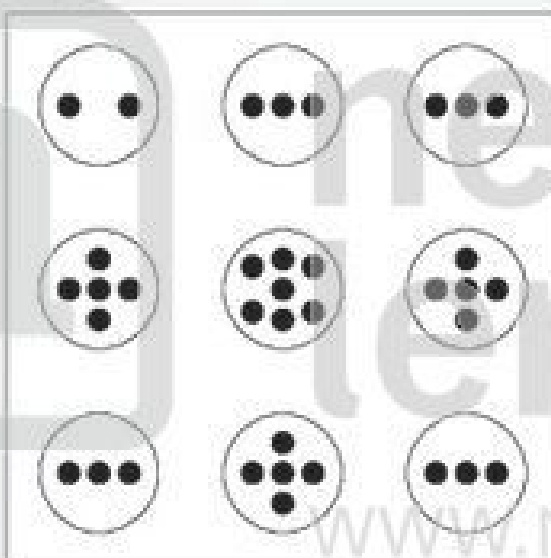
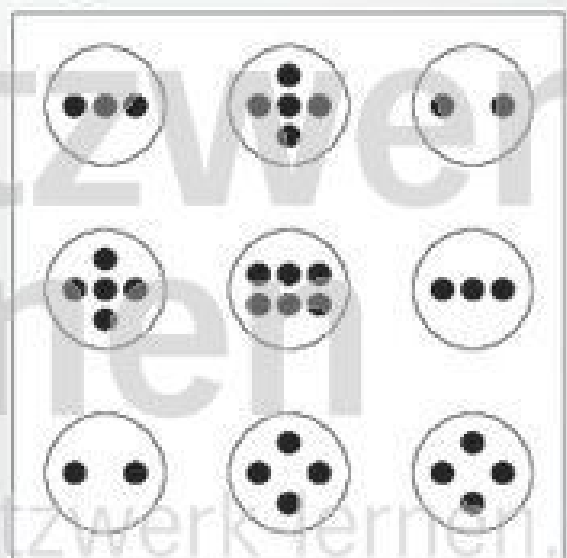
Datum: _____

Kinder-Hashi 6

Bei einem Hashi musst du zwischen die Punktefelder einfache oder doppelte Linien zeichnen, so dass auf jedes Feld genau so viele Linien zulaufen, wie die Punkte im Feld angeben. Die Linien verlaufen nicht diagonal und kreuzen sich nicht. Rechts siehst du ein einfaches Hashi-Beispiel. Versuche jetzt, die Hashi-Rätsel auf dieser Seite zu knacken!



Beispiel

1**2****3****4**

(c) Michael Jung, Braunschweig 2010





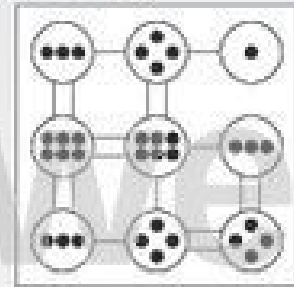
Name: _____

Klasse: _____

Datum: _____

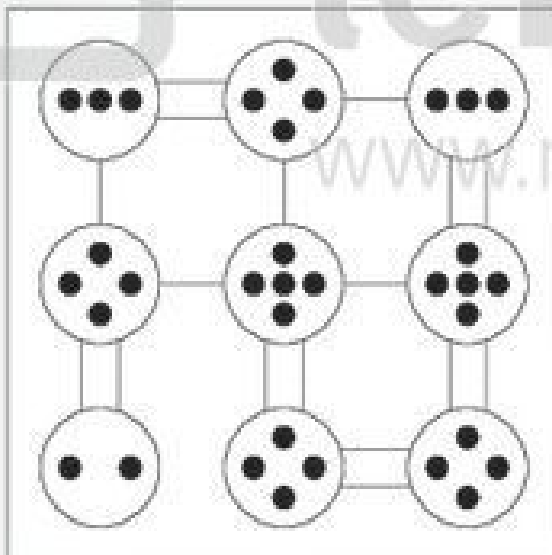
Kinder-Hashi 6 (Lösungsbeispiele)

Bei einem Hashi musst du zwischen die Punktefelder einfache oder doppelte Linien zeichnen, so dass auf jedes Feld genau so viele Linien zulaufen, wie die Punkte im Feld angeben. Die Linien verlaufen nicht diagonal und kreuzen sich nicht. Rechts siehst du ein einfaches Hashi-Beispiel. Versuche jetzt, die Hashi-Rätsel auf dieser Seite zu knacken!

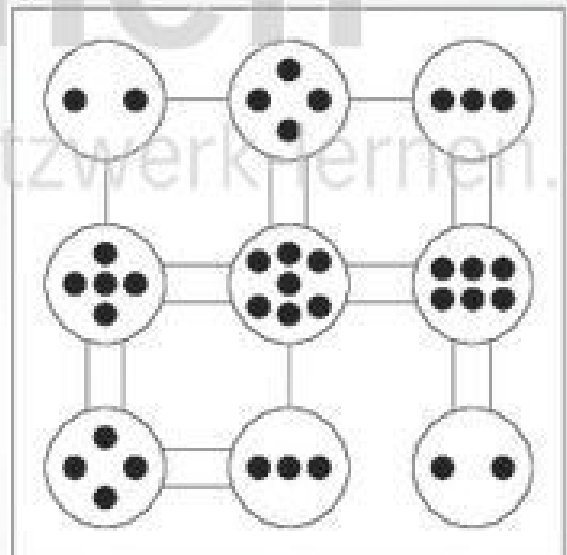


Beispiel

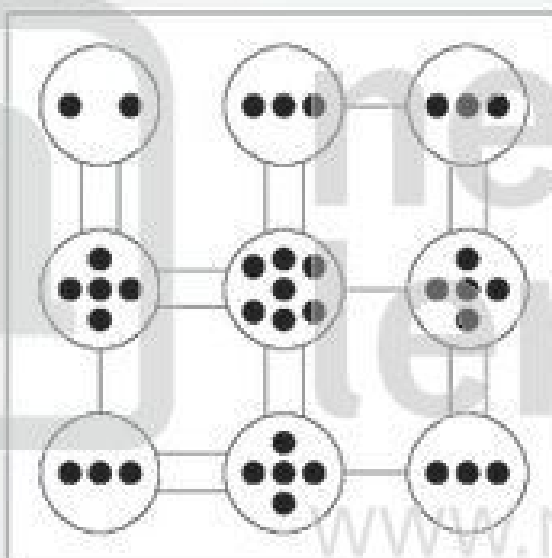
1



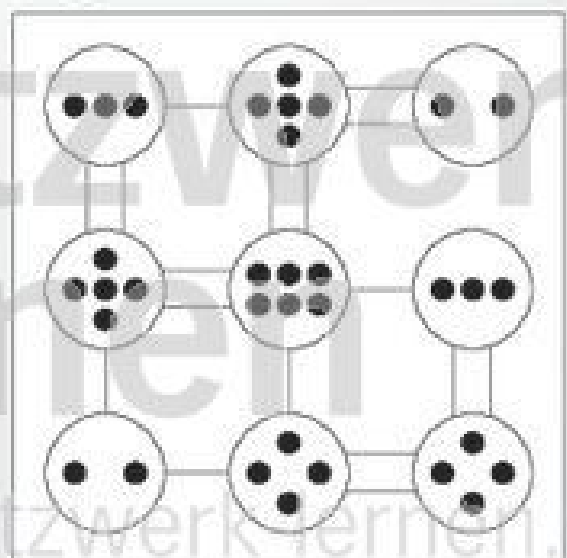
2



3



4



(c) Michael Jung, Braunschweig 2010

